



CM26: Trouver la moitié des centaines entières


Quelle est la moitié de 800 ?

La moitié de 800, c'est ____ .



CM26: Trouver la moitié des centaines entières

Quelle est la moitié de 800 ?

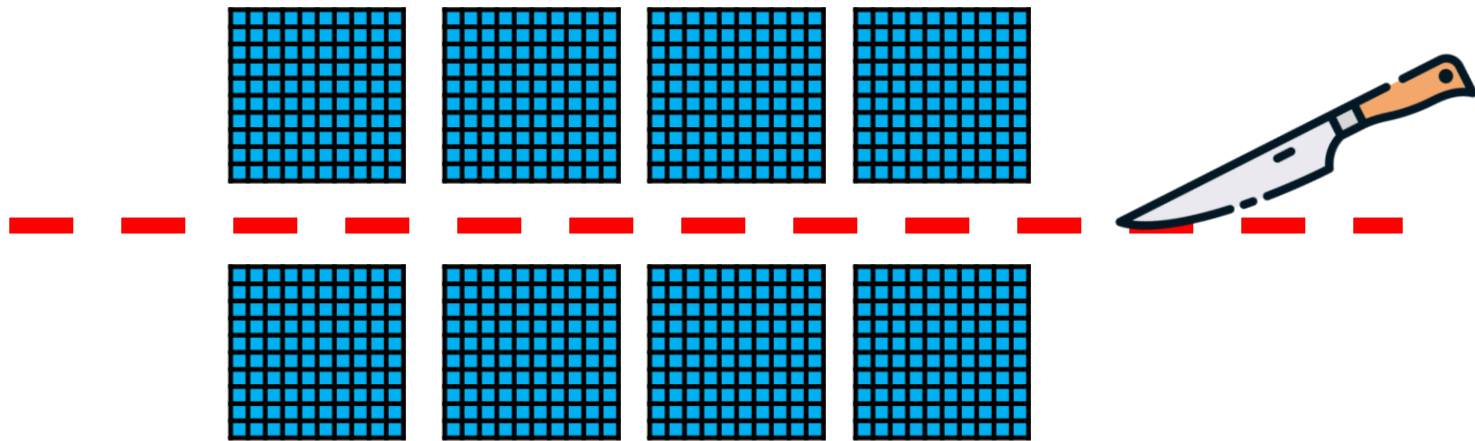


La moitié de 800, c'est ____ .




CM26: Trouver la moitié des centaines entières

Quelle est la moitié de 800 ?

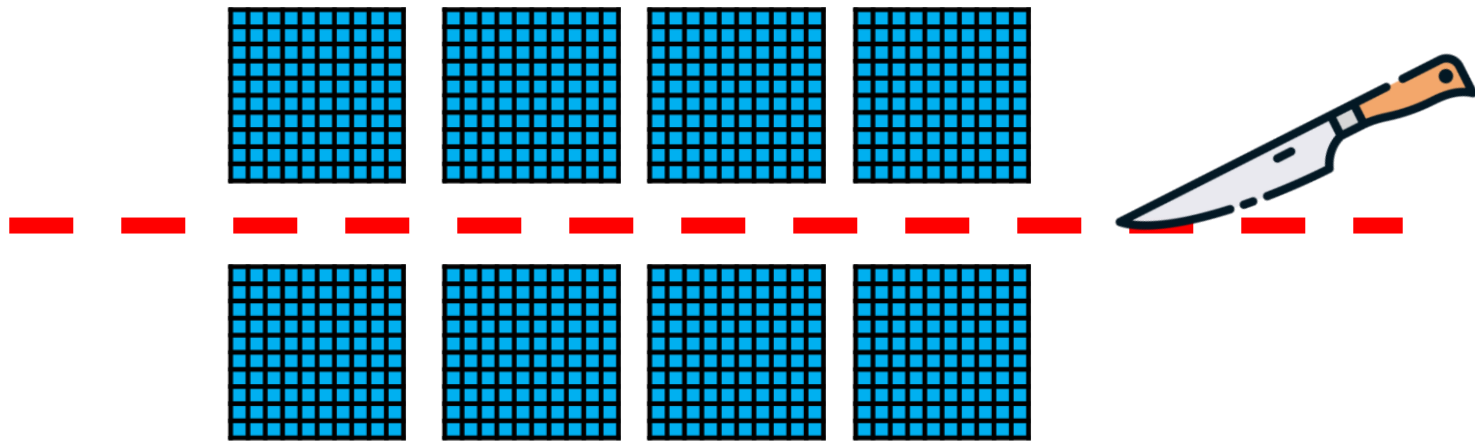


La moitié de 800, c'est ____ .



CM26: Trouver la moitié des centaines entières

Quelle est la moitié de 800 ?



La moitié de 800, c'est 400 .



CM26: Trouver la moitié des centaines entières


Quelle est la moitié de 400 ?

La moitié de 400, c'est ____ .



CM26: Trouver la moitié des centaines entières

Quelle est la moitié de 400 ?

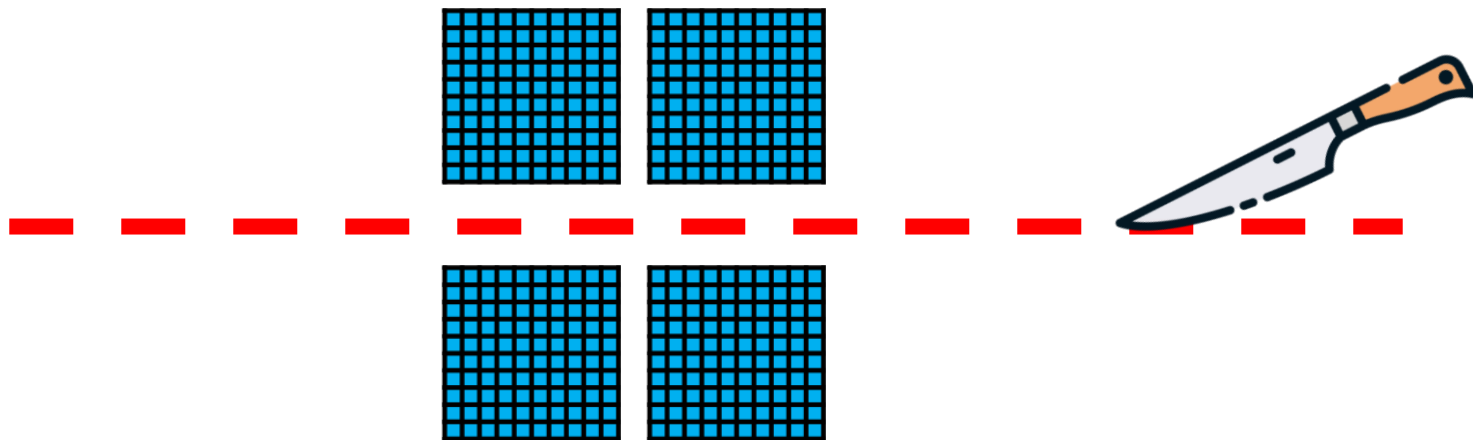


La moitié de 400, c'est ____ .



CM26: Trouver la moitié des centaines entières

Quelle est la moitié de 400 ?

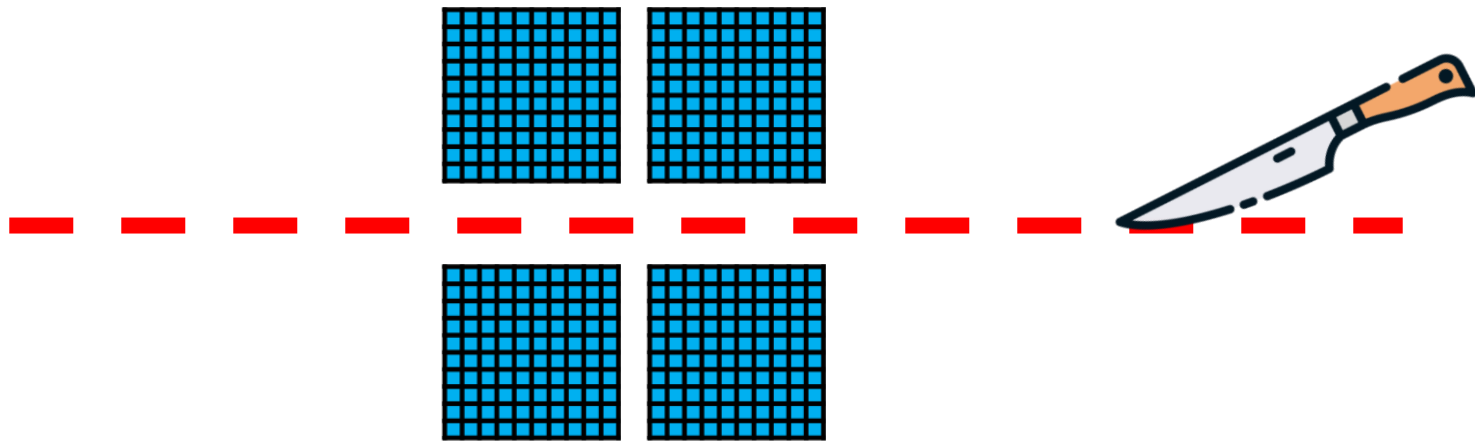


La moitié de 400, c'est ____ .




CM26: Trouver la moitié des centaines entières

Quelle est la moitié de 400 ?



La moitié de 400, c'est 200 .



CM26: Trouver la moitié des centaines entières


Quelle est la moitié de 600 ?

La moitié de 600, c'est ____ .



CM26: Trouver la moitié des centaines entières

Quelle est la moitié de 600 ?

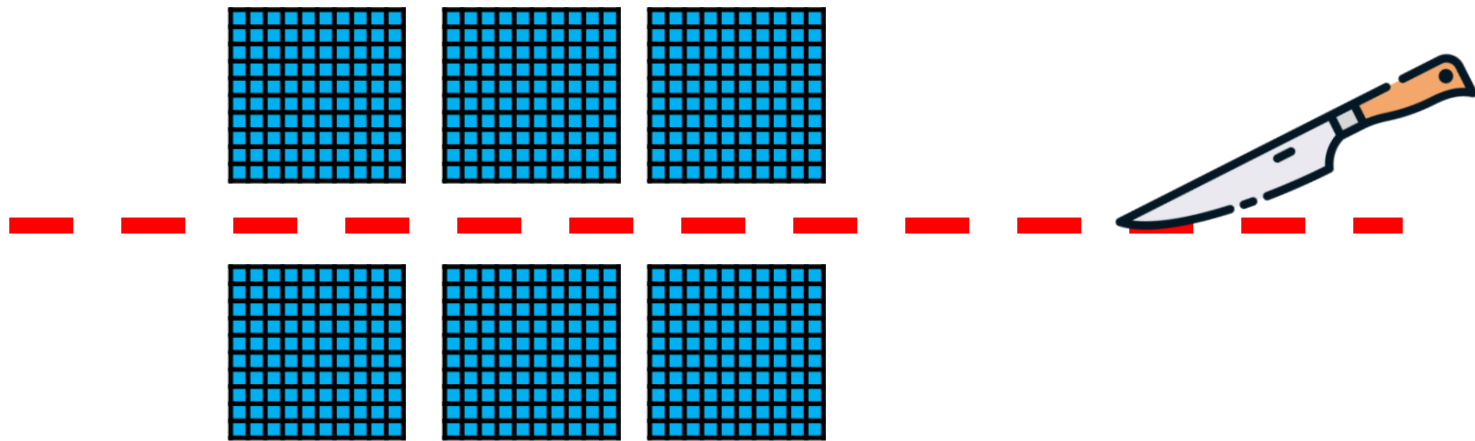


La moitié de 600, c'est ____ .



CM26: Trouver la moitié des centaines entières

Quelle est la moitié de 600 ?

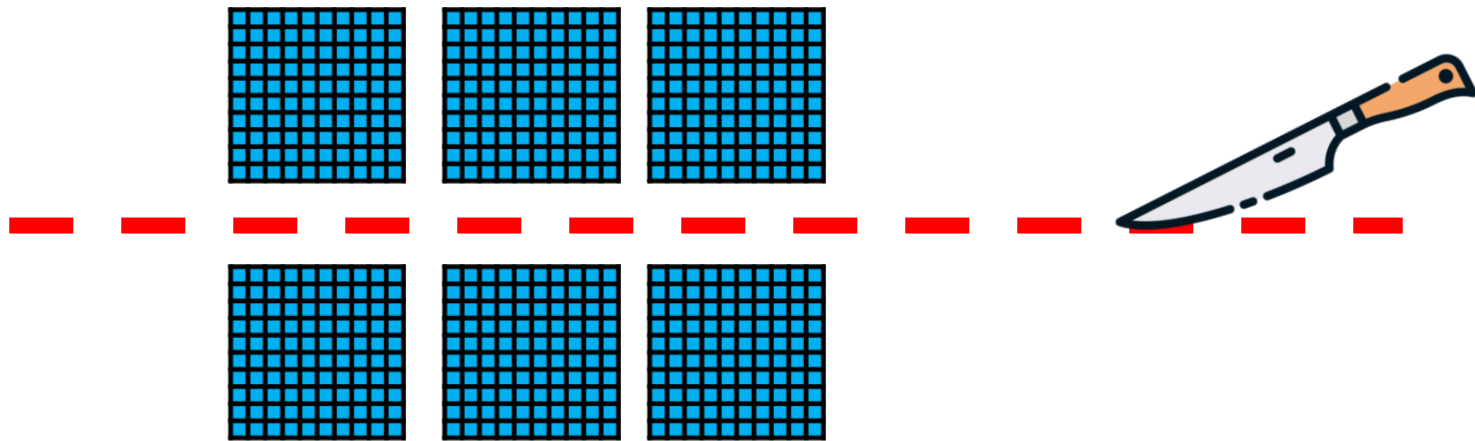


La moitié de 600, c'est ____ .



CM26: Trouver la moitié des centaines entières

Quelle est la moitié de 600 ?



La moitié de 600, c'est 300 .



CM26: Trouver la moitié des centaines entières



Quelle est la moitié de 200 ?

La moitié de 200, c'est ____ .



CM26: Trouver la moitié des centaines entières

Quelle est la moitié de 200 ?

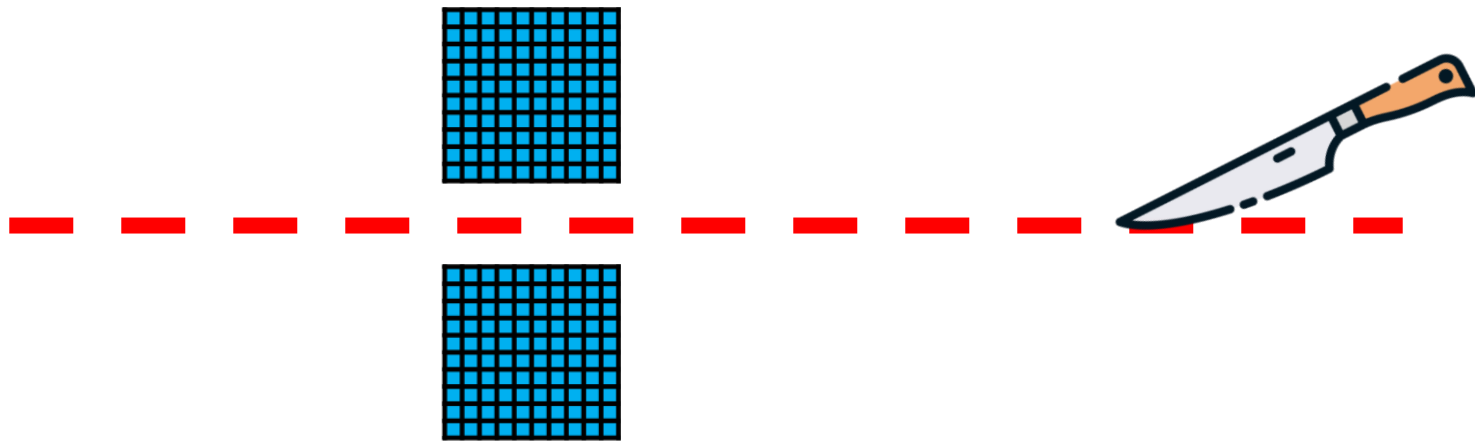


La moitié de 200, c'est ____ .



CM26: Trouver la moitié des centaines entières

Quelle est la moitié de 200 ?

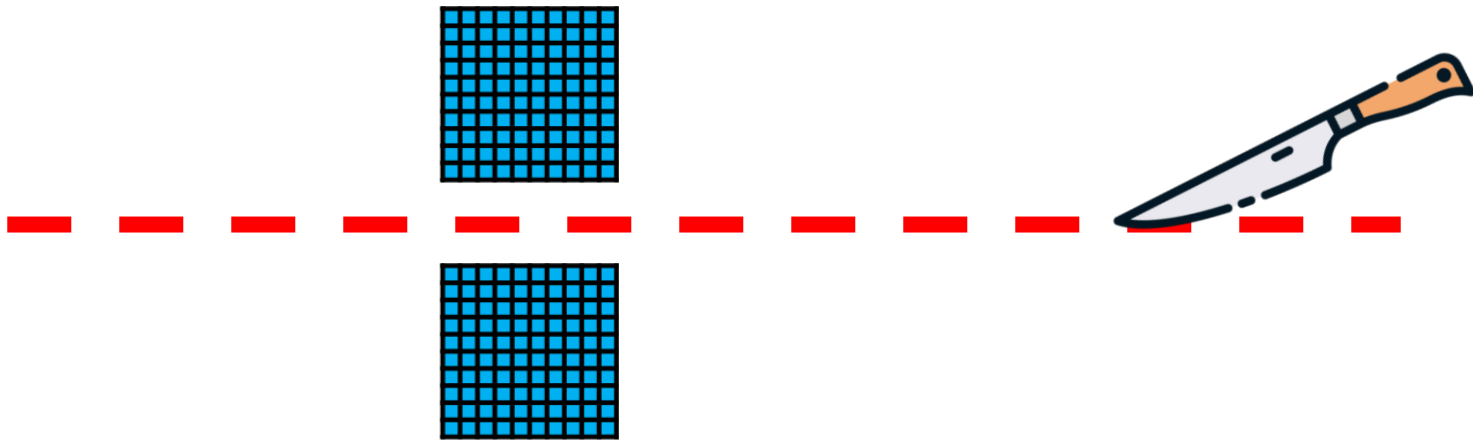


La moitié de 200, c'est ____ .



CM26: Trouver la moitié des centaines entières

Quelle est la moitié de 200 ?



La moitié de 200, c'est 100 .



CM26: Trouver la moitié des centaines entières


Quelle est la moitié de 1 000 ?

La moitié de 1 000, c'est ____ .



CM26: Trouver la moitié des centaines entières

Quelle est la moitié de 1 000 ?

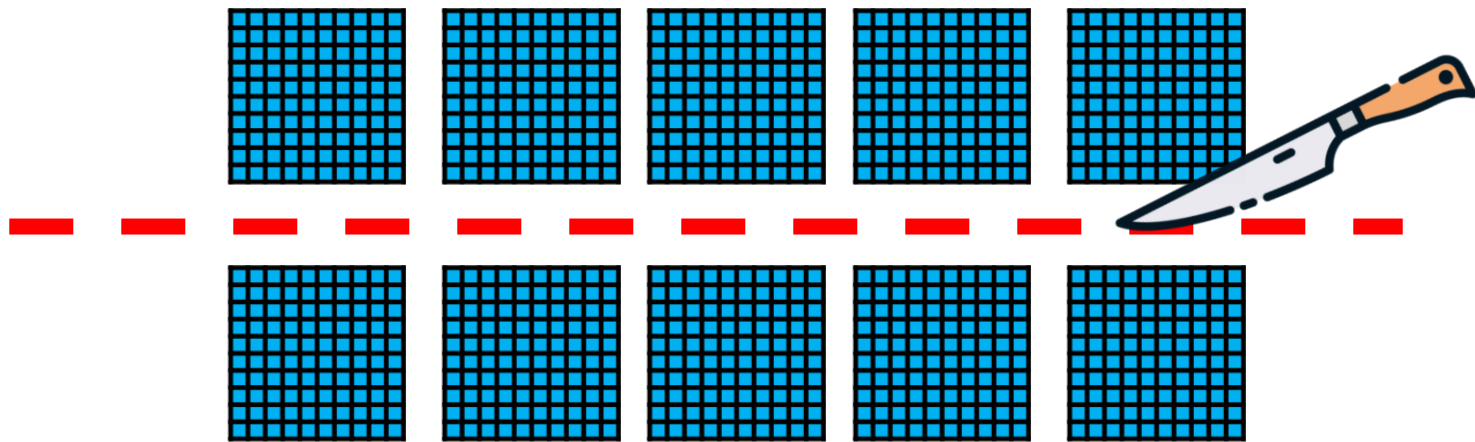


La moitié de 1 000, c'est ____ .



CM26: Trouver la moitié des centaines entières

Quelle est la moitié de 1 000 ?

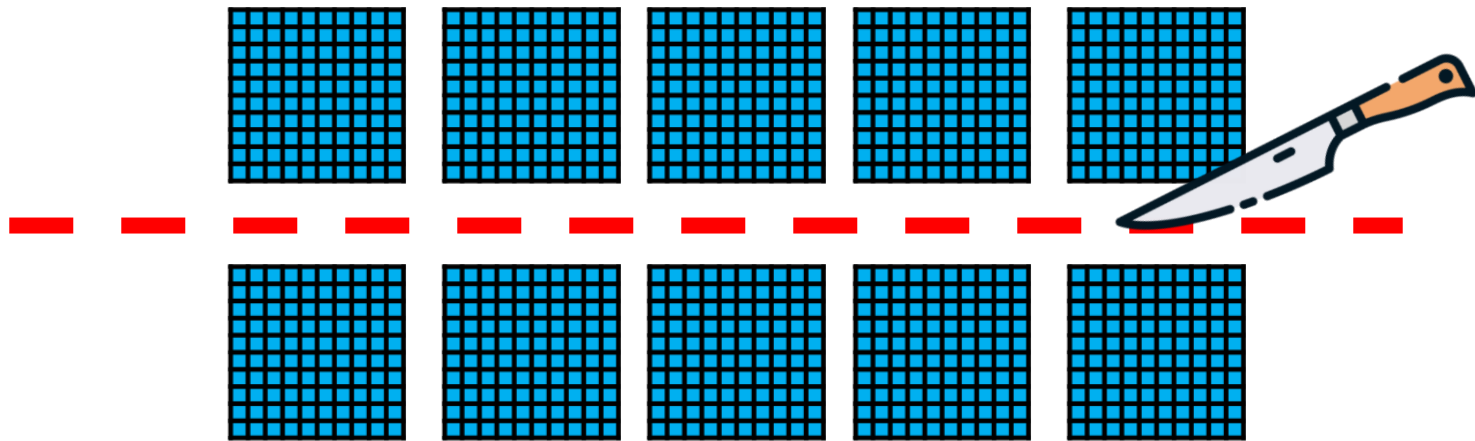


La moitié de 1 000, c'est ____ .



CM26: Trouver la moitié des centaines entières

Quelle est la moitié de 1 000 ?



La moitié de 1 000, c'est 500 .



CM26: Trouver la moitié des centaines entières


Quelle est la moitié de 500 ?

La moitié de 500, c'est ____ .



CM26: Trouver la moitié des centaines entières

Quelle est la moitié de 500 ?

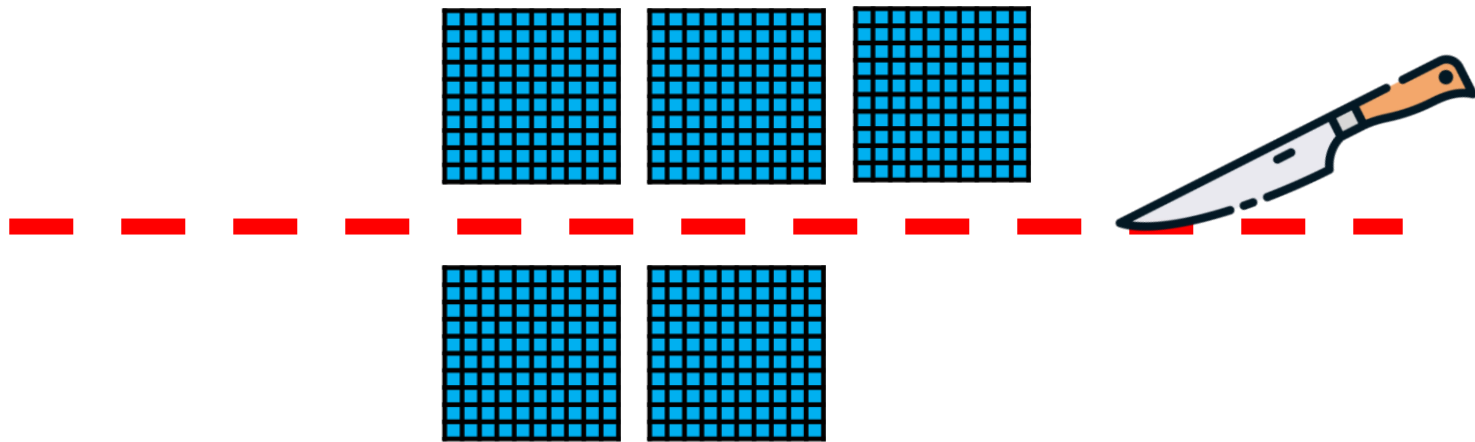


La moitié de 500, c'est ____ .



CM26: Trouver la moitié des centaines entières

Quelle est la moitié de 500 ?

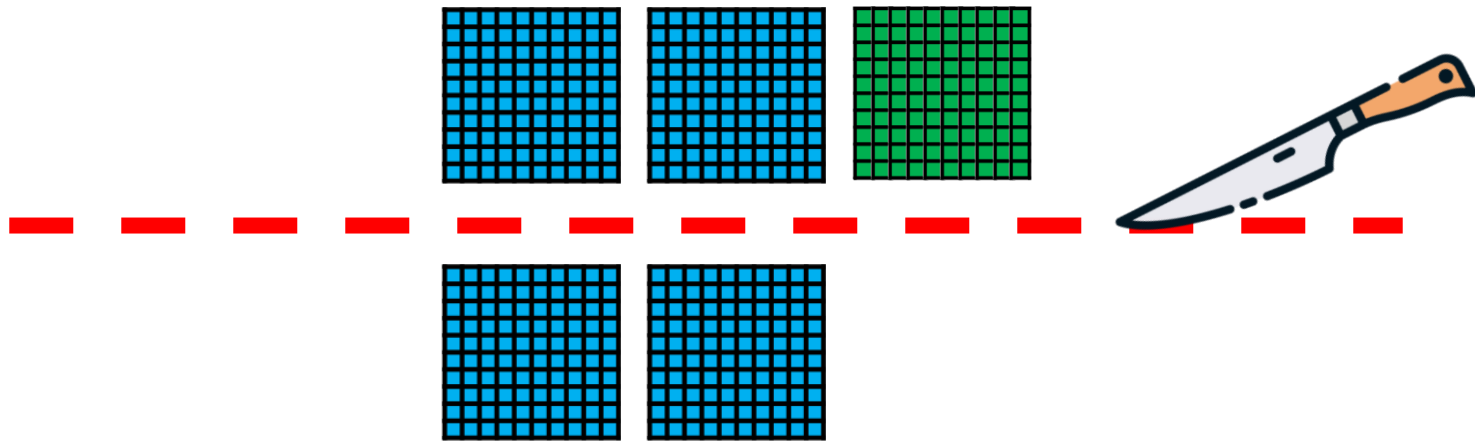


La moitié de 500, c'est ____ .



CM26: Trouver la moitié des centaines entières

Quelle est la moitié de 500 ?

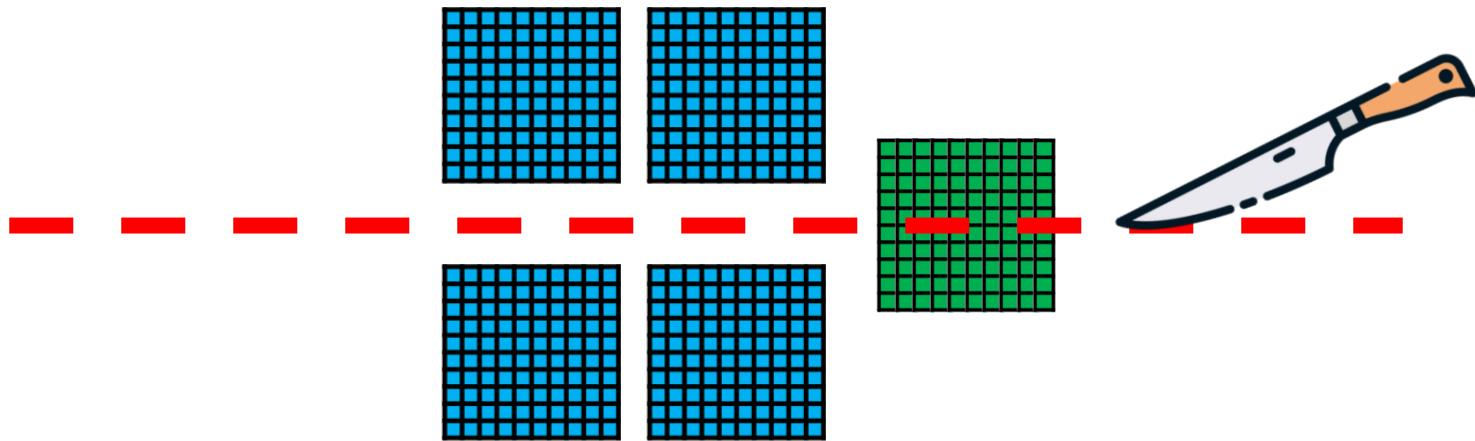


La moitié de 500, c'est ____ .




CM26: Trouver la moitié des centaines entières

Quelle est la moitié de 500 ?

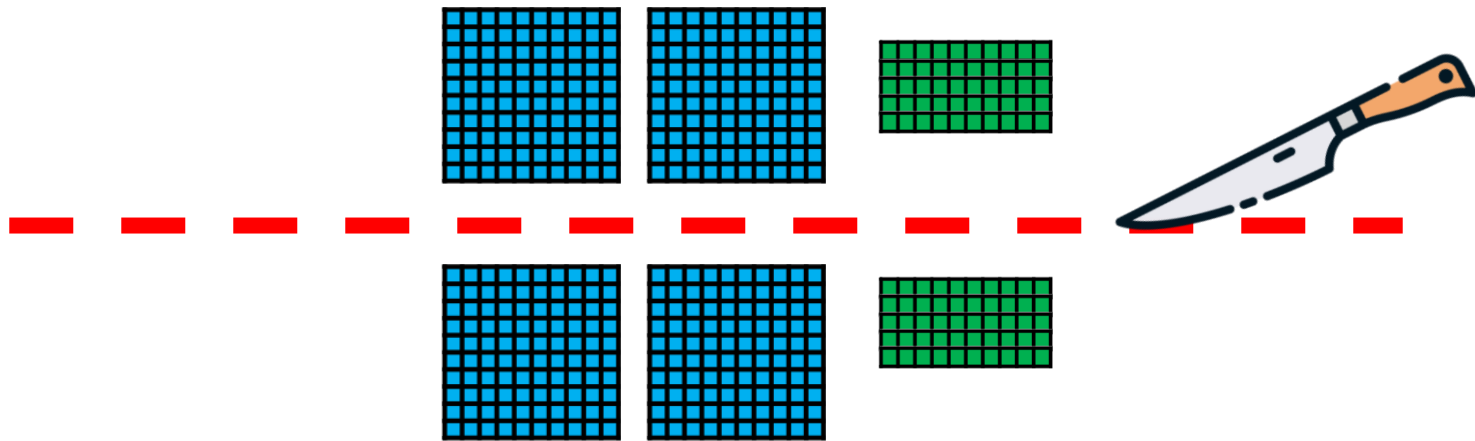


La moitié de 500, c'est ____ .



CM26: Trouver la moitié des centaines entières

Quelle est la moitié de 500 ?

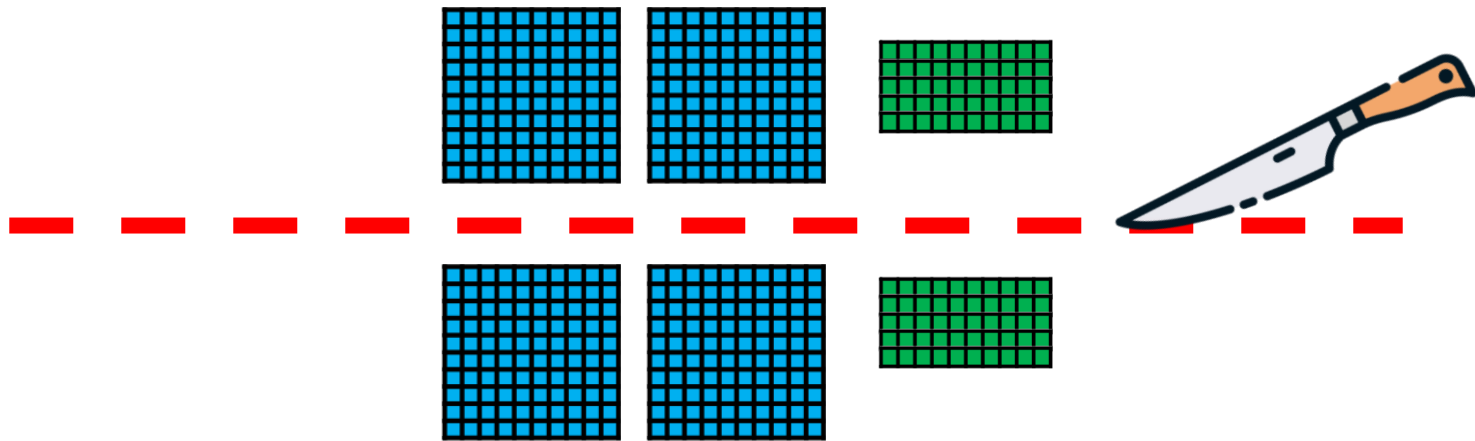


La moitié de 500, c'est ____ .



CM26: Trouver la moitié des centaines entières

Quelle est la moitié de 500 ?



La moitié de 500, c'est 250 .



CM26: Trouver la moitié des centaines entières


Quelle est la moitié de 300 ?

La moitié de 300, c'est ____ .



CM26: Trouver la moitié des centaines entières

Quelle est la moitié de 300 ?

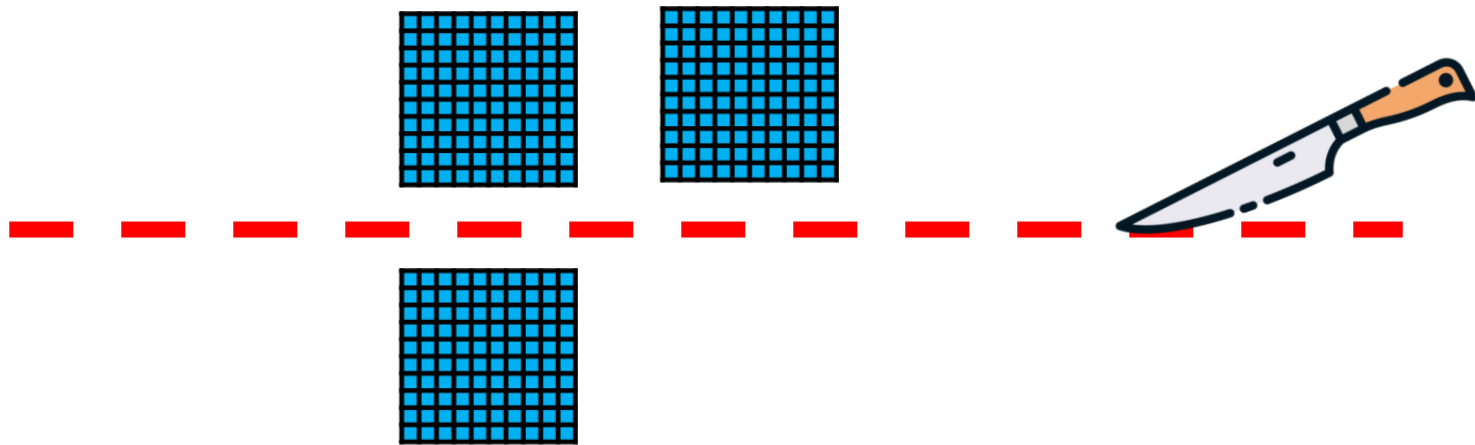


La moitié de 300, c'est ____ .



CM26: Trouver la moitié des centaines entières

Quelle est la moitié de 300 ?

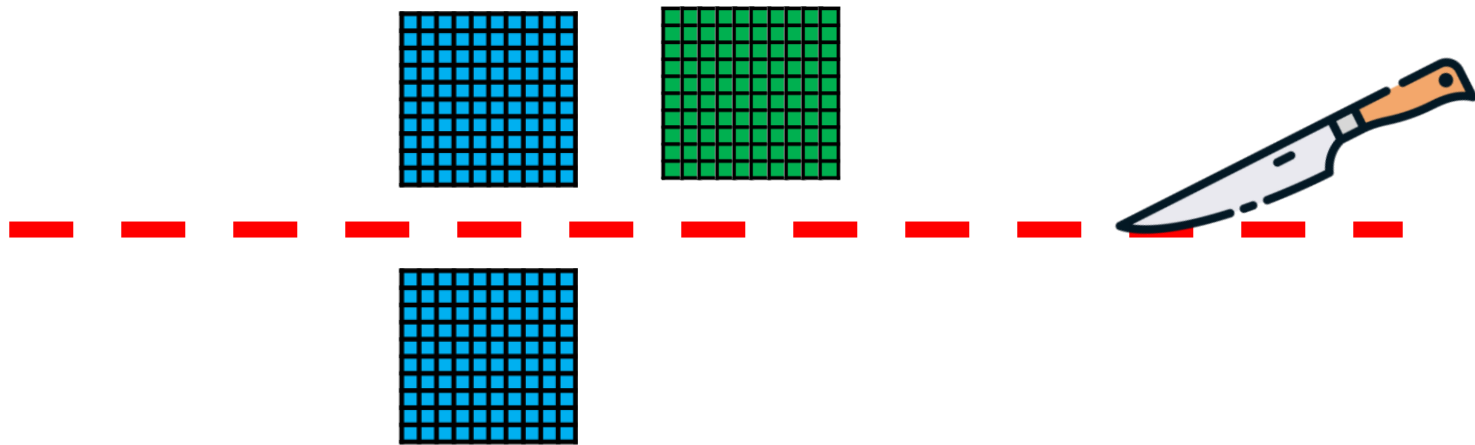


La moitié de 300, c'est ____ .



CM26: Trouver la moitié des centaines entières

Quelle est la moitié de 300 ?

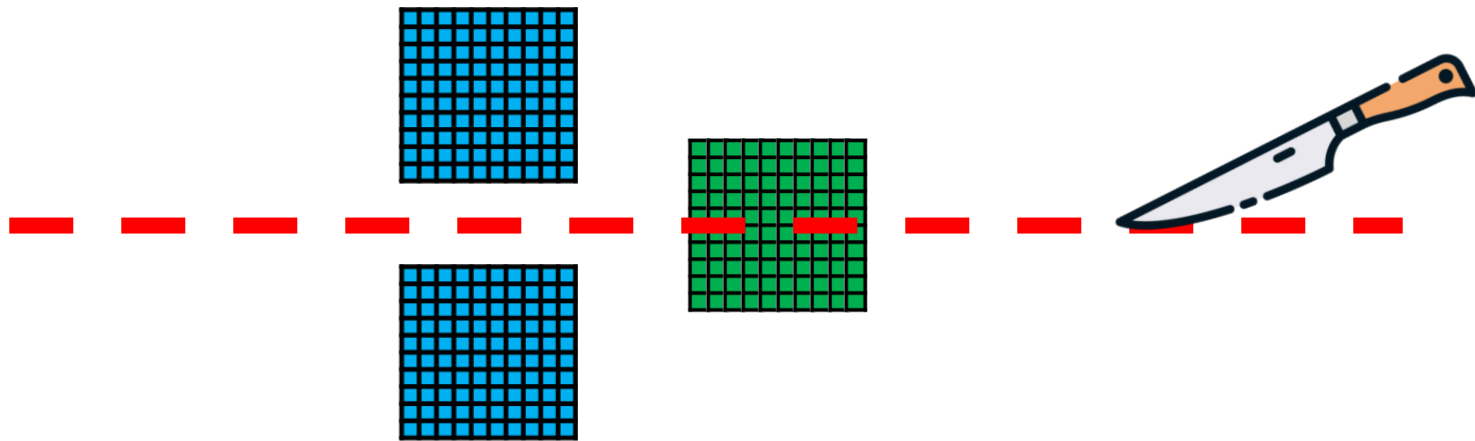


La moitié de 300, c'est ____ .



CM26: Trouver la moitié des centaines entières

Quelle est la moitié de 300 ?

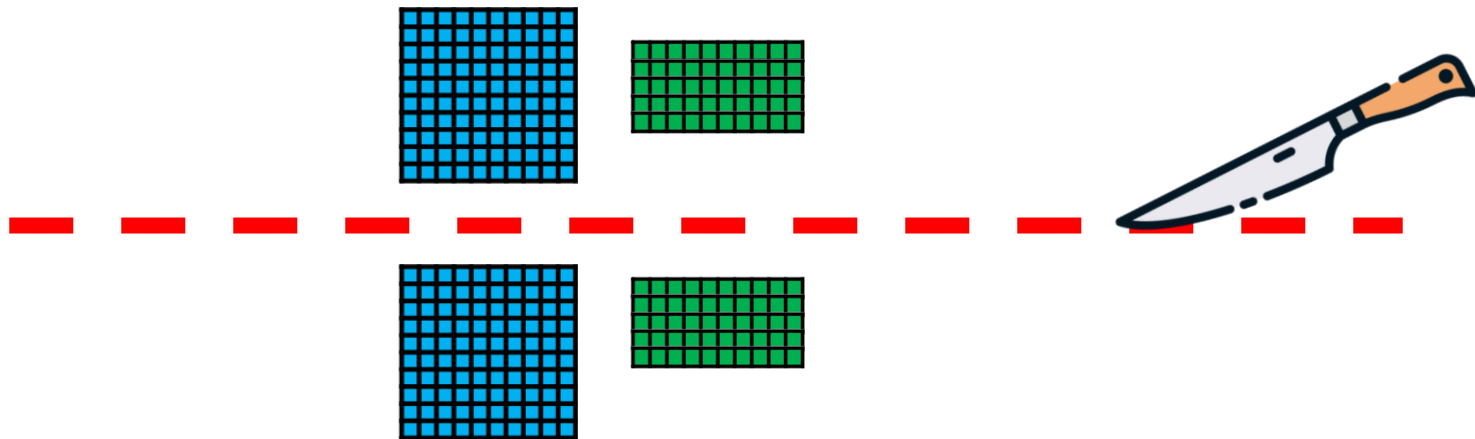


La moitié de 300, c'est ____ .



CM26: Trouver la moitié des centaines entières

Quelle est la moitié de 300 ?

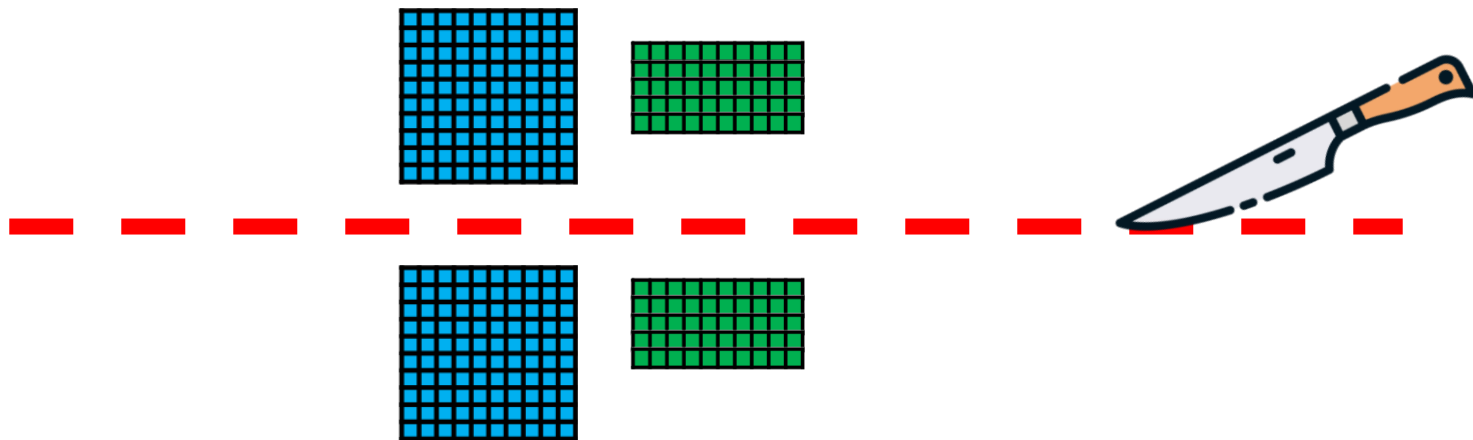


La moitié de 300, c'est ____ .



CM26: Trouver la moitié des centaines entières

Quelle est la moitié de 300 ?




La moitié de 300, c'est 150 .



CM26: Trouver la moitié des centaines entières


Quelle est la moitié de 700 ?

La moitié de 700, c'est ____ .



CM26: Trouver la moitié des centaines entières

Quelle est la moitié de 700 ?

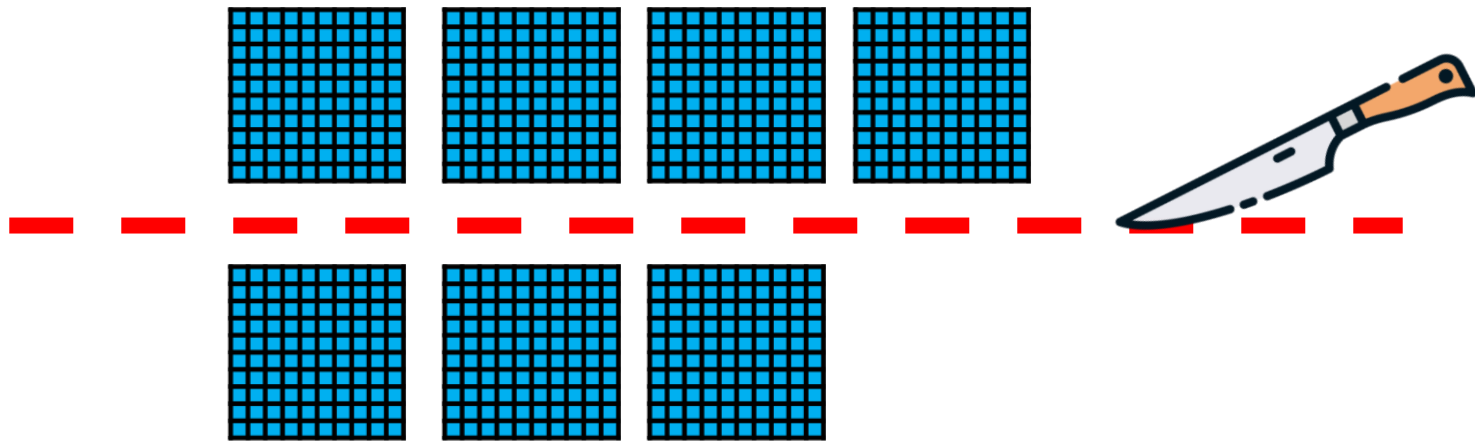


La moitié de 700, c'est ____ .



CM26: Trouver la moitié des centaines entières

Quelle est la moitié de 700 ?

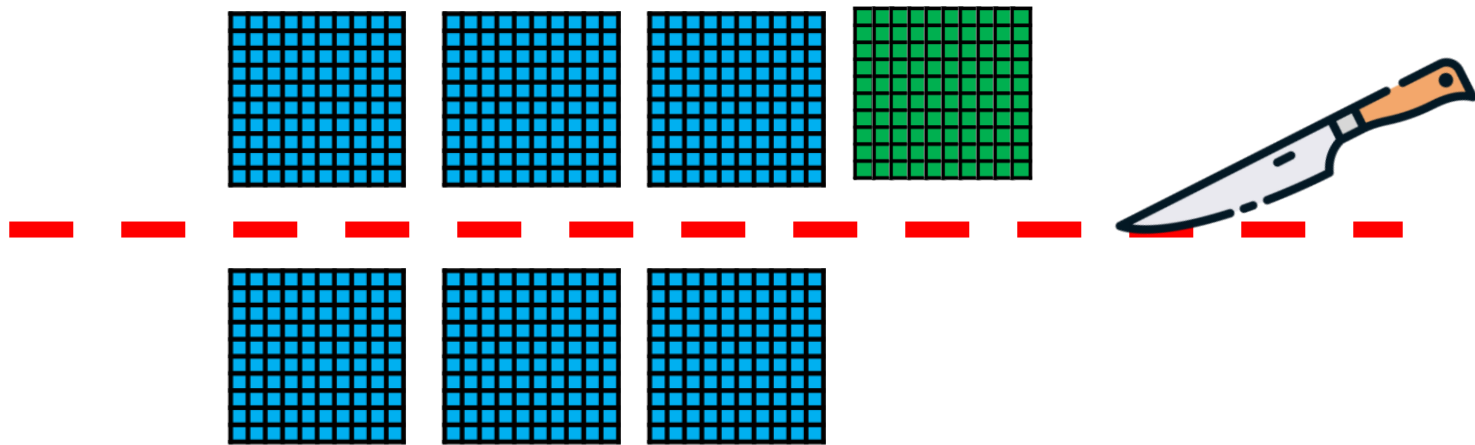


La moitié de 700, c'est ____ .



CM26: Trouver la moitié des centaines entières

Quelle est la moitié de 700 ?

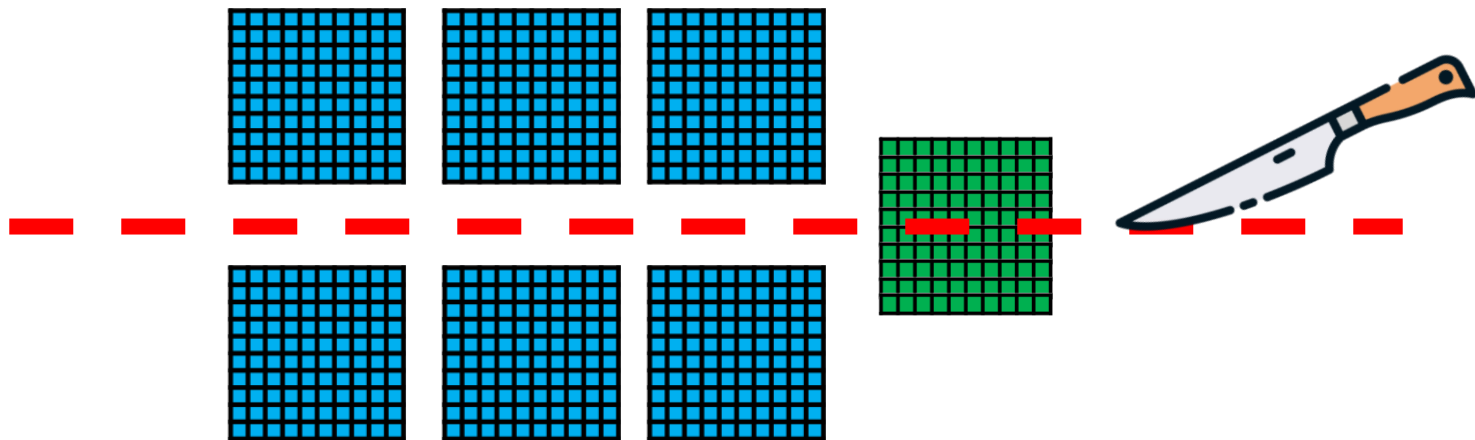


La moitié de 700, c'est ____ .



CM26: Trouver la moitié des centaines entières

Quelle est la moitié de 700 ?

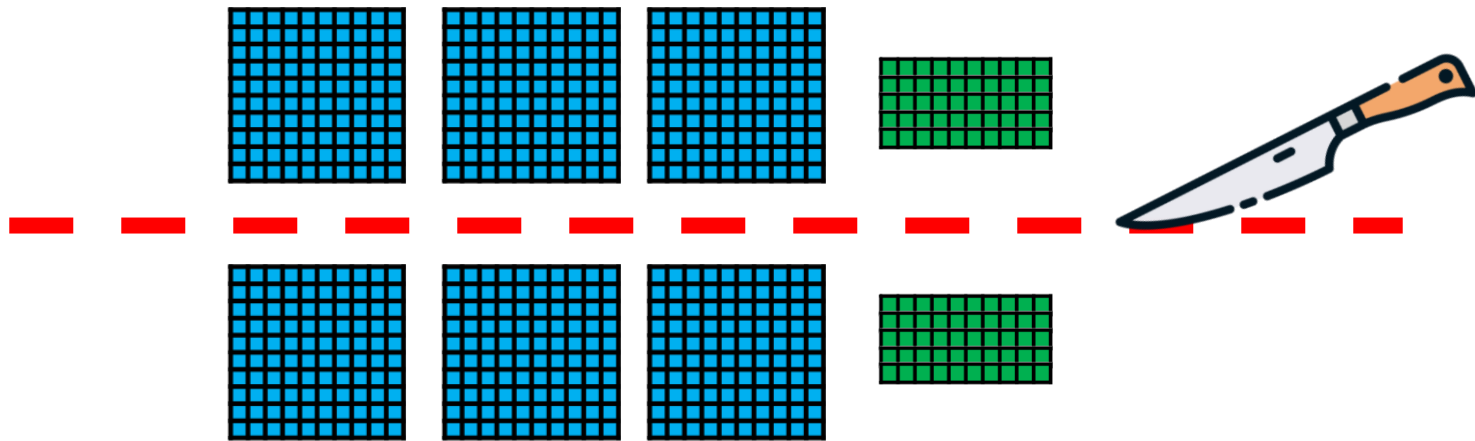


La moitié de 700, c'est ____ .



CM26: Trouver la moitié des centaines entières

Quelle est la moitié de 700 ?

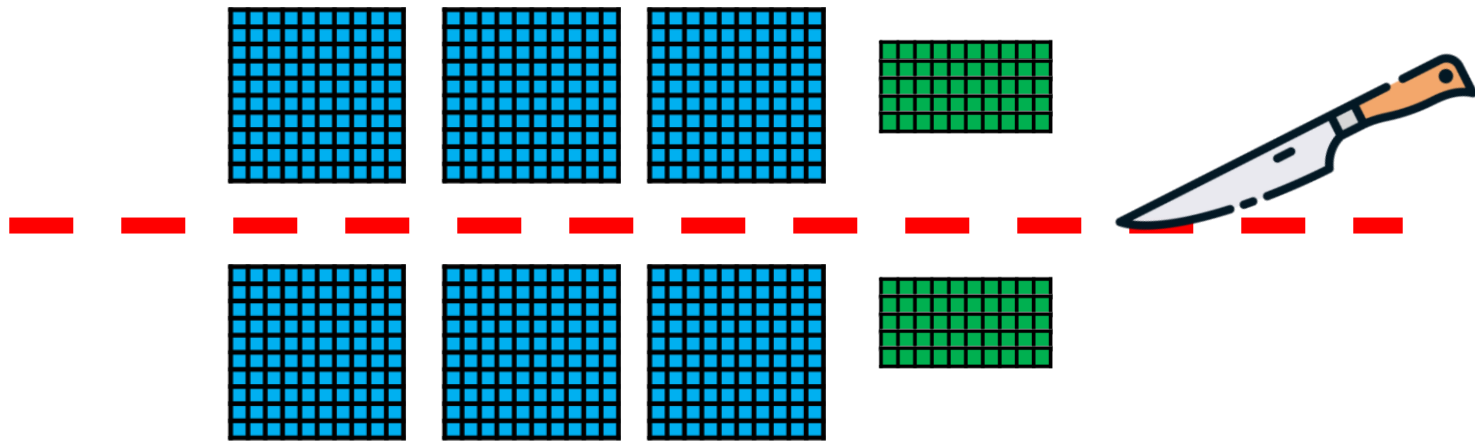


La moitié de 700, c'est ____ .



CM26: Trouver la moitié des centaines entières

Quelle est la moitié de 700 ?



La moitié de 700, c'est 350 .



CM26: Trouver la moitié des centaines entières


Quelle est la moitié de 900 ?

La moitié de 900, c'est ____ .



CM26: Trouver la moitié des centaines entières

Quelle est la moitié de 900 ?

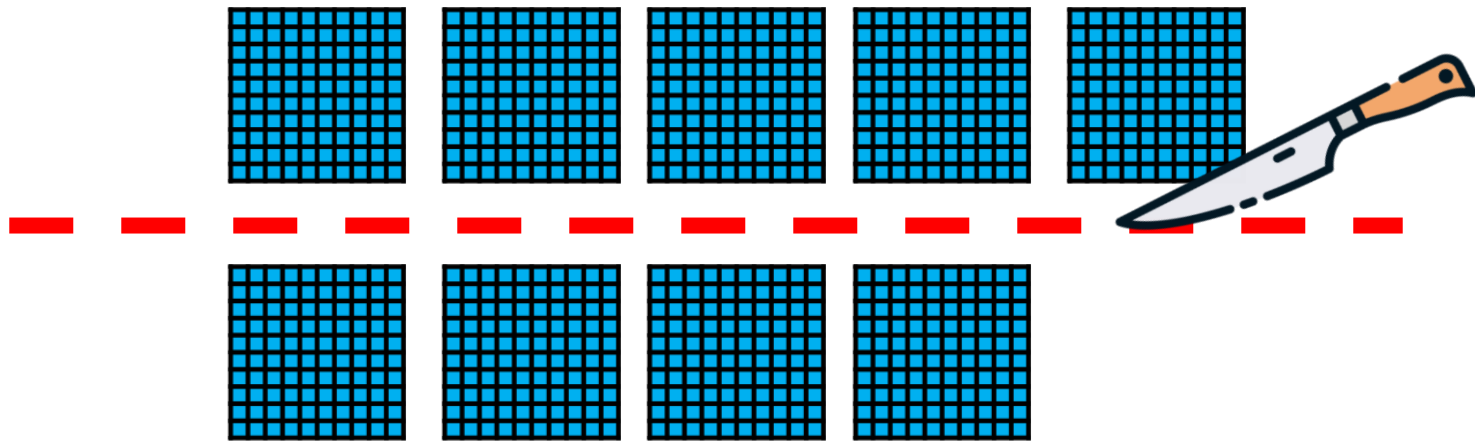


La moitié de 900, c'est ____ .



CM26: Trouver la moitié des centaines entières

Quelle est la moitié de 900 ?

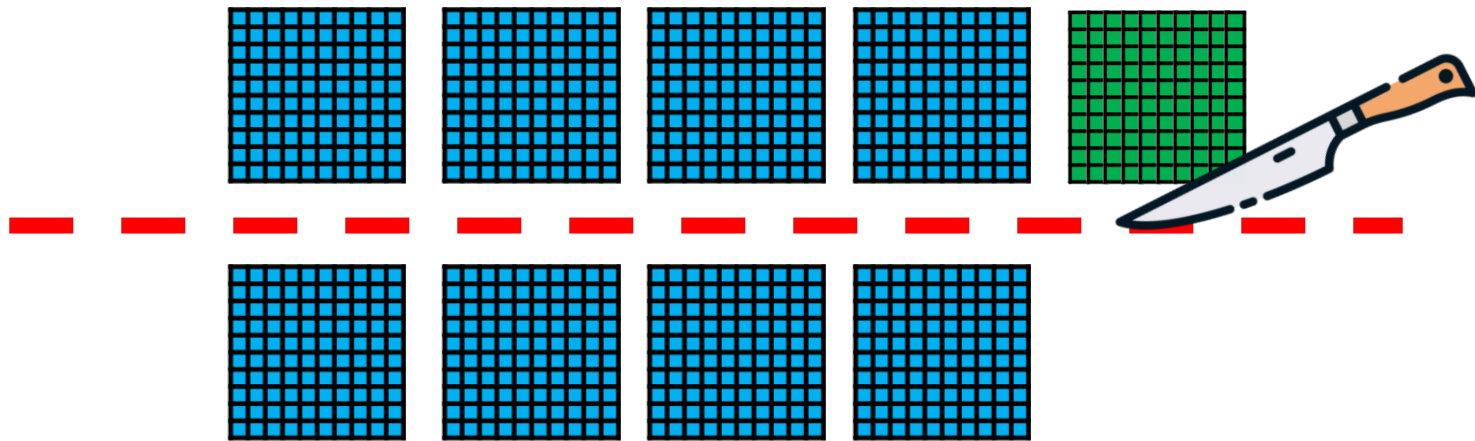


La moitié de 900, c'est ____ .



CM26: Trouver la moitié des centaines entières

Quelle est la moitié de 900 ?

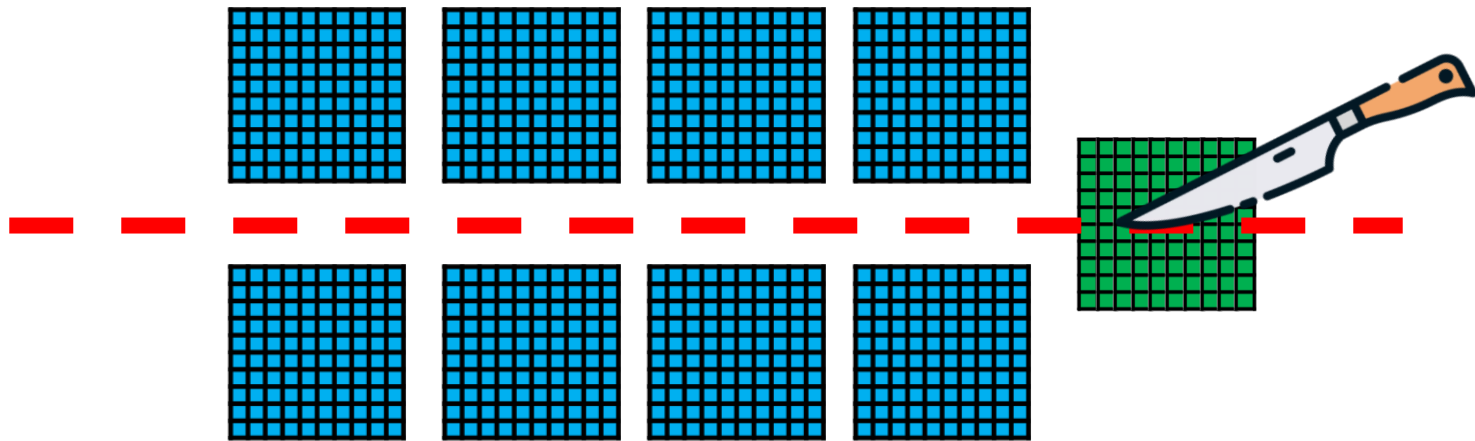


La moitié de 900, c'est ____ .



CM26: Trouver la moitié des centaines entières

Quelle est la moitié de 900 ?

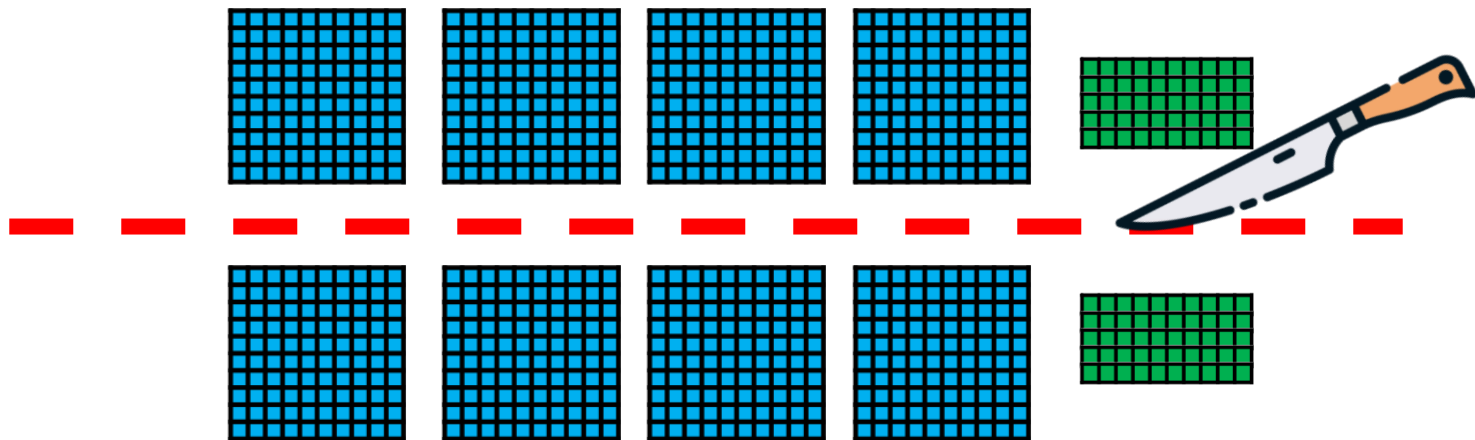


La moitié de 900, c'est ____ .



CM26: Trouver la moitié des centaines entières

Quelle est la moitié de 900 ?

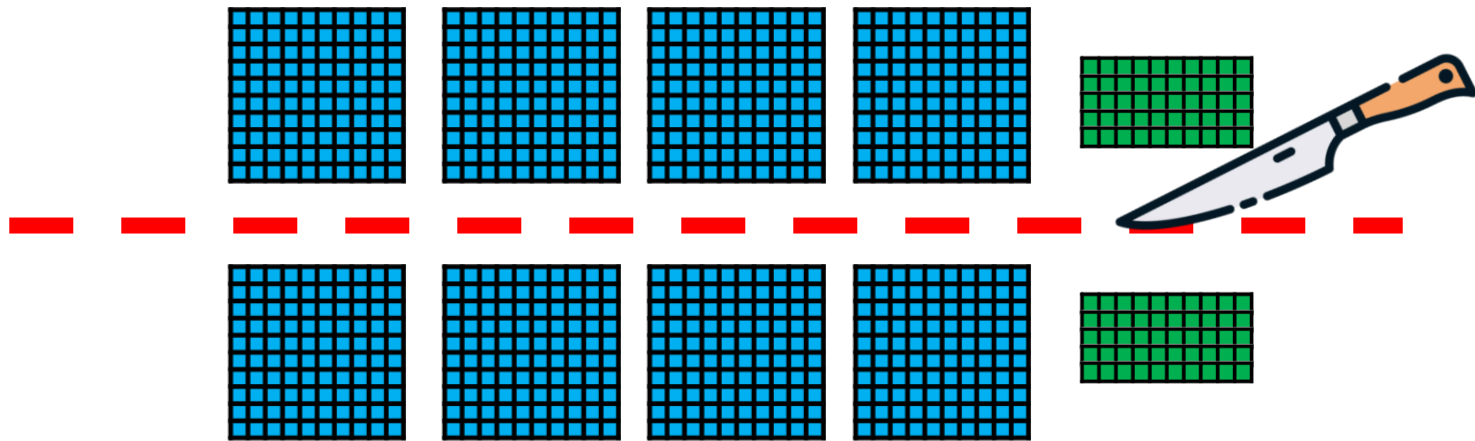


La moitié de 900, c'est ____ .



CM26: Trouver la moitié des centaines entières

Quelle est la moitié de 900 ?



La moitié de 900, c'est 450 .

[illegible]

[illegible]

[illegible]

[illegible]

[illegible]

[illegible]

[illegible]

[illegible]

[illegible]

[illegible]

[illegible]



CM26: Trouver la moitié des centaines entières

La moitié de 200, c'est 100.	100, c'est la moitié de 200.
La moitié de 300, c'est 150.	150, c'est la moitié de 300.
La moitié de 400, c'est 200.	200, c'est la moitié de 400.
La moitié de 500, c'est	



CM26: Trouver la moitié des centaines entières

La moitié de 200, c'est 100.	100, c'est la moitié de 200.
La moitié de 300, c'est 150.	150, c'est la moitié de 300.
La moitié de 400, c'est 200.	200, c'est la moitié de 400.
La moitié de 500, c'est 250.	



CM26: Trouver la moitié des centaines entières

La moitié de 200, c'est 100.	100, c'est la moitié de 200.
La moitié de 300, c'est 150.	150, c'est la moitié de 300.
La moitié de 400, c'est 200.	200, c'est la moitié de 400.
La moitié de 500, c'est 250.	250, c'est la moitié de



CM26: Trouver la moitié des centaines entières

La moitié de 200, c'est 100.	100, c'est la moitié de 200.
La moitié de 300, c'est 150.	150, c'est la moitié de 300.
La moitié de 400, c'est 200.	200, c'est la moitié de 400.
La moitié de 500, c'est 250.	250, c'est la moitié de 500.



CM26: Trouver la moitié des centaines entières

La moitié de 200, c'est 100.	100, c'est la moitié de 200.
La moitié de 300, c'est 150.	150, c'est la moitié de 300.
La moitié de 400, c'est 200.	200, c'est la moitié de 400.
La moitié de 500, c'est 250.	250, c'est la moitié de 500.
La moitié de 600, c'est	



CM26: Trouver la moitié des centaines entières

La moitié de 200, c'est 100.	100, c'est la moitié de 200.
La moitié de 300, c'est 150.	150, c'est la moitié de 300.
La moitié de 400, c'est 200.	200, c'est la moitié de 400.
La moitié de 500, c'est 250.	250, c'est la moitié de 500.
La moitié de 600, c'est 300.	



CM26: Trouver la moitié des centaines entières

La moitié de 200, c'est 100.	100, c'est la moitié de 200.
La moitié de 300, c'est 150.	150, c'est la moitié de 300.
La moitié de 400, c'est 200.	200, c'est la moitié de 400.
La moitié de 500, c'est 250.	250, c'est la moitié de 500.
La moitié de 600, c'est 300.	300, c'est la moitié de



CM26: Trouver la moitié des centaines entières

La moitié de 200, c'est 100.	100, c'est la moitié de 200.
La moitié de 300, c'est 150.	150, c'est la moitié de 300.
La moitié de 400, c'est 200.	200, c'est la moitié de 400.
La moitié de 500, c'est 250.	250, c'est la moitié de 500.
La moitié de 600, c'est 300.	300, c'est la moitié de 600.



CM26: Trouver la moitié des centaines entières

La moitié de 200, c'est 100.	100, c'est la moitié de 200.
La moitié de 300, c'est 150.	150, c'est la moitié de 300.
La moitié de 400, c'est 200.	200, c'est la moitié de 400.
La moitié de 500, c'est 250.	250, c'est la moitié de 500.
La moitié de 600, c'est 300.	300, c'est la moitié de 600.
La moitié de 700, c'est	



CM26: Trouver la moitié des centaines entières

La moitié de 200, c'est 100.	100, c'est la moitié de 200.
La moitié de 300, c'est 150.	150, c'est la moitié de 300.
La moitié de 400, c'est 200.	200, c'est la moitié de 400.
La moitié de 500, c'est 250.	250, c'est la moitié de 500.
La moitié de 600, c'est 300.	300, c'est la moitié de 600.
La moitié de 700, c'est 350.	



CM26: Trouver la moitié des centaines entières

La moitié de 200, c'est 100.	100, c'est la moitié de 200.
La moitié de 300, c'est 150.	150, c'est la moitié de 300.
La moitié de 400, c'est 200.	200, c'est la moitié de 400.
La moitié de 500, c'est 250.	250, c'est la moitié de 500.
La moitié de 600, c'est 300.	300, c'est la moitié de 600.
La moitié de 700, c'est 350.	350, c'est la moitié de



CM26: Trouver la moitié des centaines entières

La moitié de 200, c'est 100.	100, c'est la moitié de 200.
La moitié de 300, c'est 150.	150, c'est la moitié de 300.
La moitié de 400, c'est 200.	200, c'est la moitié de 400.
La moitié de 500, c'est 250.	250, c'est la moitié de 500.
La moitié de 600, c'est 300.	300, c'est la moitié de 600.
La moitié de 700, c'est 350.	350, c'est la moitié de 700.



CM26: Trouver la moitié des centaines entières

La moitié de 200, c'est 100.	100, c'est la moitié de 200.
La moitié de 300, c'est 150.	150, c'est la moitié de 300.
La moitié de 400, c'est 200.	200, c'est la moitié de 400.
La moitié de 500, c'est 250.	250, c'est la moitié de 500.
La moitié de 600, c'est 300.	300, c'est la moitié de 600.
La moitié de 700, c'est 350.	350, c'est la moitié de 700.
La moitié de 800, c'est	




CM26: Trouver la moitié des centaines entières

La moitié de 200, c'est 100.	100, c'est la moitié de 200.
La moitié de 300, c'est 150.	150, c'est la moitié de 300.
La moitié de 400, c'est 200.	200, c'est la moitié de 400.
La moitié de 500, c'est 250.	250, c'est la moitié de 500.
La moitié de 600, c'est 300.	300, c'est la moitié de 600.
La moitié de 700, c'est 350.	350, c'est la moitié de 700.
La moitié de 800, c'est 400.	



CM26: Trouver la moitié des centaines entières

La moitié de 200, c'est 100.	100, c'est la moitié de 200.
La moitié de 300, c'est 150.	150, c'est la moitié de 300.
La moitié de 400, c'est 200.	200, c'est la moitié de 400.
La moitié de 500, c'est 250.	250, c'est la moitié de 500.
La moitié de 600, c'est 300.	300, c'est la moitié de 600.
La moitié de 700, c'est 350.	350, c'est la moitié de 700.
La moitié de 800, c'est 400.	400, c'est la moitié de



CM26: Trouver la moitié des centaines entières

La moitié de 200, c'est 100.	100, c'est la moitié de 200.
La moitié de 300, c'est 150.	150, c'est la moitié de 300.
La moitié de 400, c'est 200.	200, c'est la moitié de 400.
La moitié de 500, c'est 250.	250, c'est la moitié de 500.
La moitié de 600, c'est 300.	300, c'est la moitié de 600.
La moitié de 700, c'est 350.	350, c'est la moitié de 700.
La moitié de 800, c'est 400.	400, c'est la moitié de 800.



CM26: Trouver la moitié des centaines entières

La moitié de 200, c'est 100.	100, c'est la moitié de 200.
La moitié de 300, c'est 150.	150, c'est la moitié de 300.
La moitié de 400, c'est 200.	200, c'est la moitié de 400.
La moitié de 500, c'est 250.	250, c'est la moitié de 500.
La moitié de 600, c'est 300.	300, c'est la moitié de 600.
La moitié de 700, c'est 350.	350, c'est la moitié de 700.
La moitié de 800, c'est 400.	400, c'est la moitié de 800.
La moitié de 900, c'est	



CM26: Trouver la moitié des centaines entières

La moitié de 200, c'est 100.	100, c'est la moitié de 200.
La moitié de 300, c'est 150.	150, c'est la moitié de 300.
La moitié de 400, c'est 200.	200, c'est la moitié de 400.
La moitié de 500, c'est 250.	250, c'est la moitié de 500.
La moitié de 600, c'est 300.	300, c'est la moitié de 600.
La moitié de 700, c'est 350.	350, c'est la moitié de 700.
La moitié de 800, c'est 400.	400, c'est la moitié de 800.
La moitié de 900, c'est 450.	



CM26: Trouver la moitié des centaines entières

La moitié de 200, c'est 100.	100, c'est la moitié de 200.
La moitié de 300, c'est 150.	150, c'est la moitié de 300.
La moitié de 400, c'est 200.	200, c'est la moitié de 400.
La moitié de 500, c'est 250.	250, c'est la moitié de 500.
La moitié de 600, c'est 300.	300, c'est la moitié de 600.
La moitié de 700, c'est 350.	350, c'est la moitié de 700.
La moitié de 800, c'est 400.	400, c'est la moitié de 800.
La moitié de 900, c'est 450.	450, c'est la moitié de



CM26: Trouver la moitié des centaines entières

La moitié de 200, c'est 100.	100, c'est la moitié de 200.
La moitié de 300, c'est 150.	150, c'est la moitié de 300.
La moitié de 400, c'est 200.	200, c'est la moitié de 400.
La moitié de 500, c'est 250.	250, c'est la moitié de 500.
La moitié de 600, c'est 300.	300, c'est la moitié de 600.
La moitié de 700, c'est 350.	350, c'est la moitié de 700.
La moitié de 800, c'est 400.	400, c'est la moitié de 800.
La moitié de 900, c'est 450.	450, c'est la moitié de 900.



CM26: Trouver la moitié des centaines entières

La moitié de 200, c'est 100.	100, c'est la moitié de 200.
La moitié de 300, c'est 150.	150, c'est la moitié de 300.
La moitié de 400, c'est 200.	200, c'est la moitié de 400.
La moitié de 500, c'est 250.	250, c'est la moitié de 500.
La moitié de 600, c'est 300.	300, c'est la moitié de 600.
La moitié de 700, c'est 350.	350, c'est la moitié de 700.
La moitié de 800, c'est 400.	400, c'est la moitié de 800.
La moitié de 900, c'est 450.	450, c'est la moitié de 900.
La moitié de 1 000, c'est	




CM26: Trouver la moitié des centaines entières

La moitié de 200, c'est 100.	100, c'est la moitié de 200.
La moitié de 300, c'est 150.	150, c'est la moitié de 300.
La moitié de 400, c'est 200.	200, c'est la moitié de 400.
La moitié de 500, c'est 250.	250, c'est la moitié de 500.
La moitié de 600, c'est 300.	300, c'est la moitié de 600.
La moitié de 700, c'est 350.	350, c'est la moitié de 700.
La moitié de 800, c'est 400.	400, c'est la moitié de 800.
La moitié de 900, c'est 450.	450, c'est la moitié de 900.
La moitié de 1 000, c'est 500.	



CM26: Trouver la moitié des centaines entières

La moitié de 200, c'est 100.	100, c'est la moitié de 200.
La moitié de 300, c'est 150.	150, c'est la moitié de 300.
La moitié de 400, c'est 200.	200, c'est la moitié de 400.
La moitié de 500, c'est 250.	250, c'est la moitié de 500.
La moitié de 600, c'est 300.	300, c'est la moitié de 600.
La moitié de 700, c'est 350.	350, c'est la moitié de 700.
La moitié de 800, c'est 400.	400, c'est la moitié de 800.
La moitié de 900, c'est 450.	450, c'est la moitié de 900.
La moitié de 1 000, c'est 500.	500, c'est la moitié de



CM26: Trouver la moitié des centaines entières

La moitié de 200, c'est 100.	100, c'est la moitié de 200.
La moitié de 300, c'est 150.	150, c'est la moitié de 300.
La moitié de 400, c'est 200.	200, c'est la moitié de 400.
La moitié de 500, c'est 250.	250, c'est la moitié de 500.
La moitié de 600, c'est 300.	300, c'est la moitié de 600.
La moitié de 700, c'est 350.	350, c'est la moitié de 700.
La moitié de 800, c'est 400.	400, c'est la moitié de 800.
La moitié de 900, c'est 450.	450, c'est la moitié de 900.
La moitié de 1 000, c'est 500.	500, c'est la moitié de 1 000.