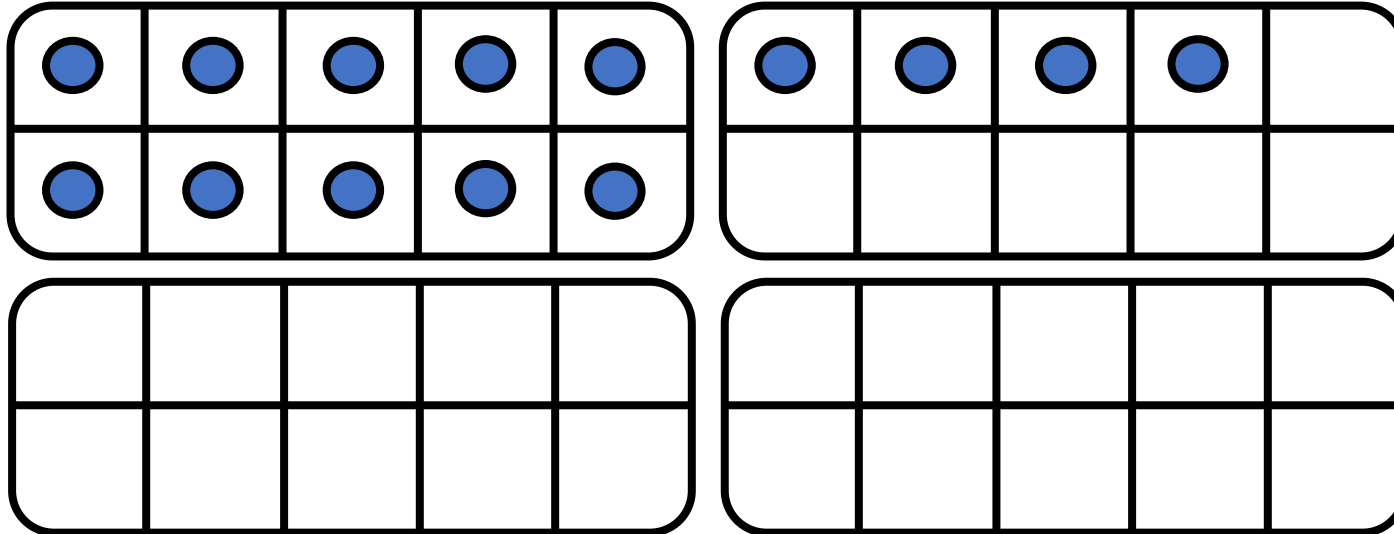





CM27: Connaitre les doubles jusqu'à 20 + 20

Quel est le double de 14 ?



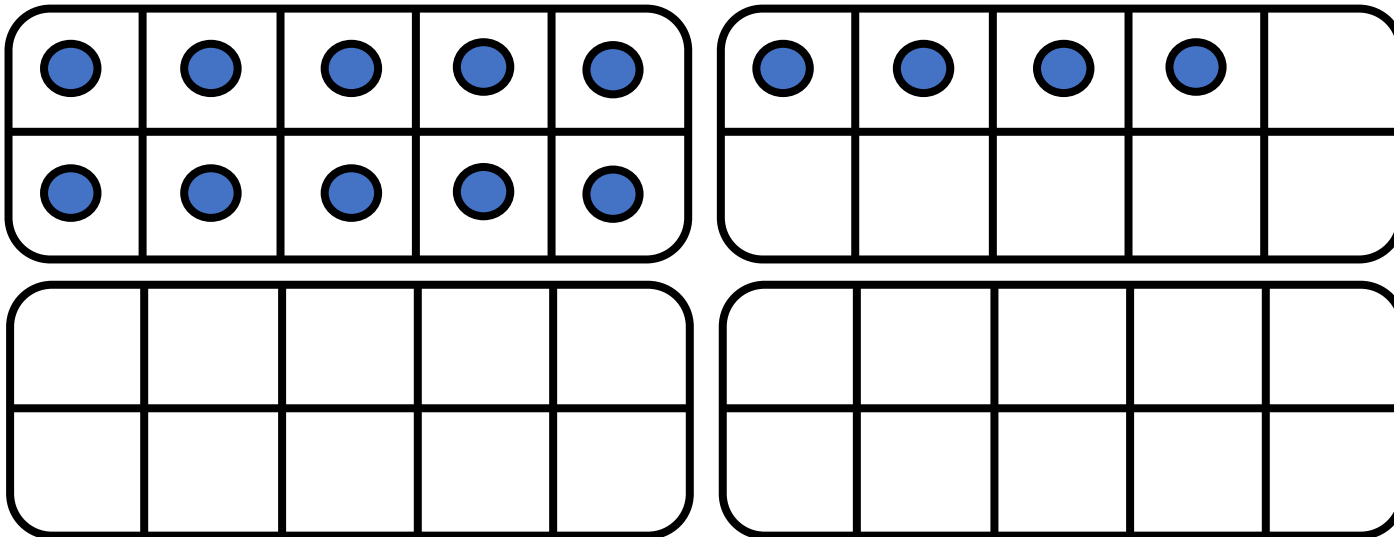
$$14 + 14 = \underline{\hspace{2cm}}$$






CM27: Connaitre les doubles jusqu'à 20 + 20

Quel est le double de 14 ?



$$14 + 14 = \underline{\hspace{2cm}}$$

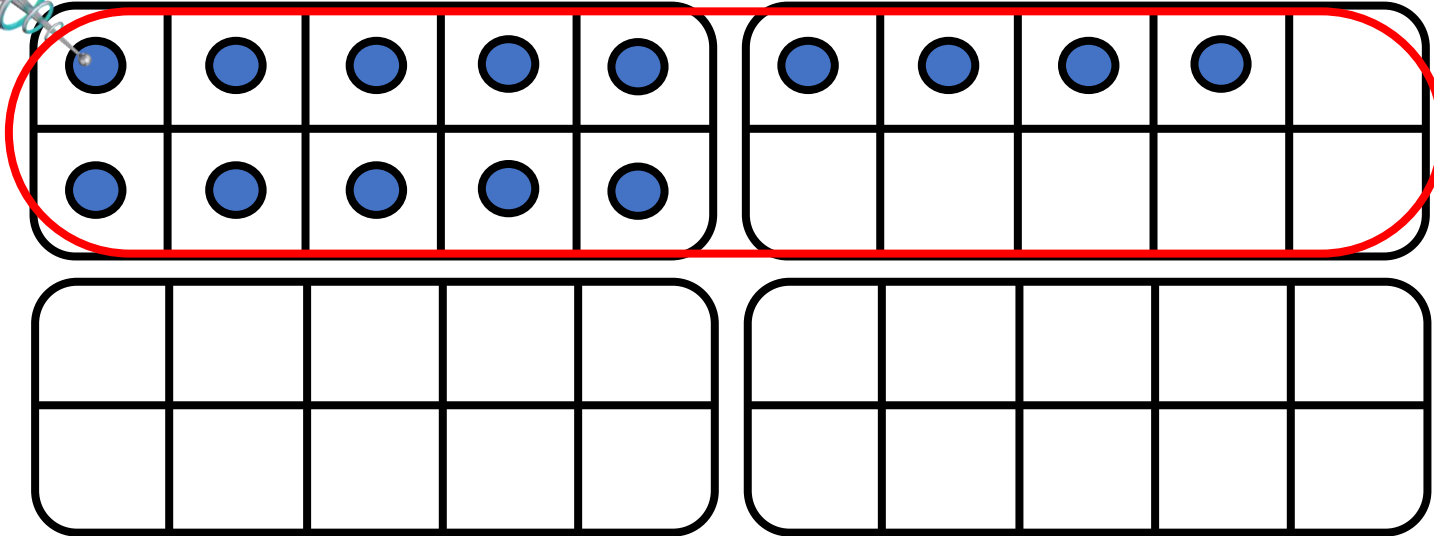
$$10 + 4$$






CM27: Connaitre les doubles jusqu'à 20 + 20

Quel est le double de 14 ?



$$14 + 14 = \underline{\hspace{2cm}}$$

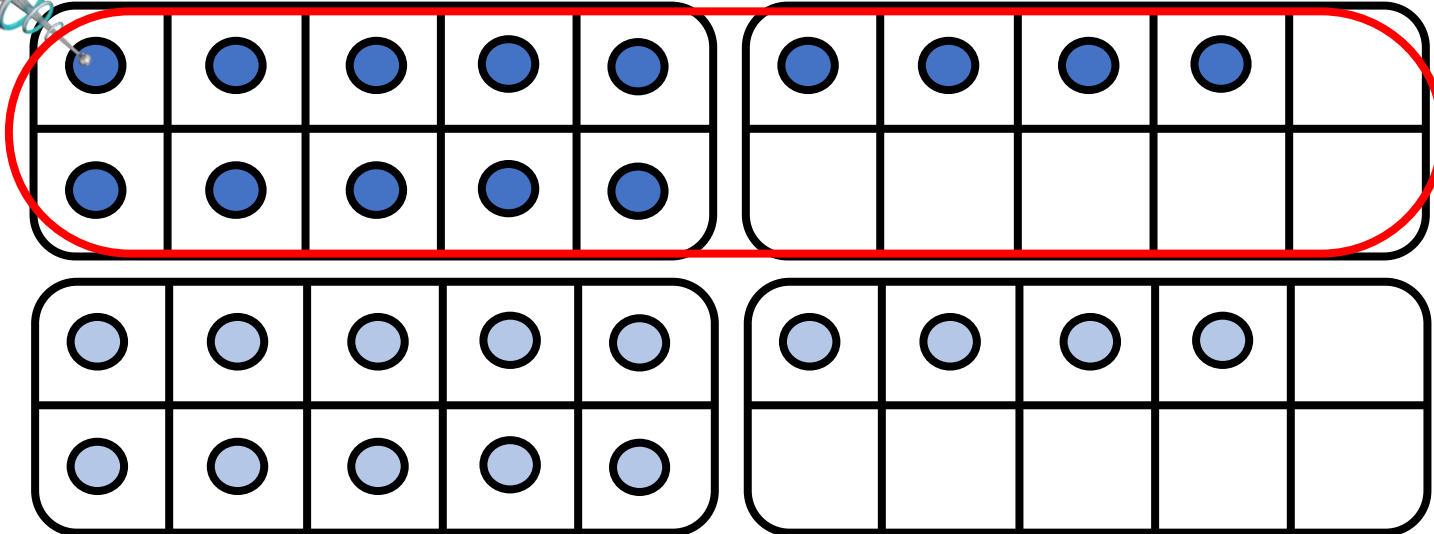
$$10 + 4 +$$






CM27: Connaitre les doubles jusqu'à 20 + 20

Quel est le double de 14 ?



$$14 + 14 = \underline{\hspace{2cm}}$$

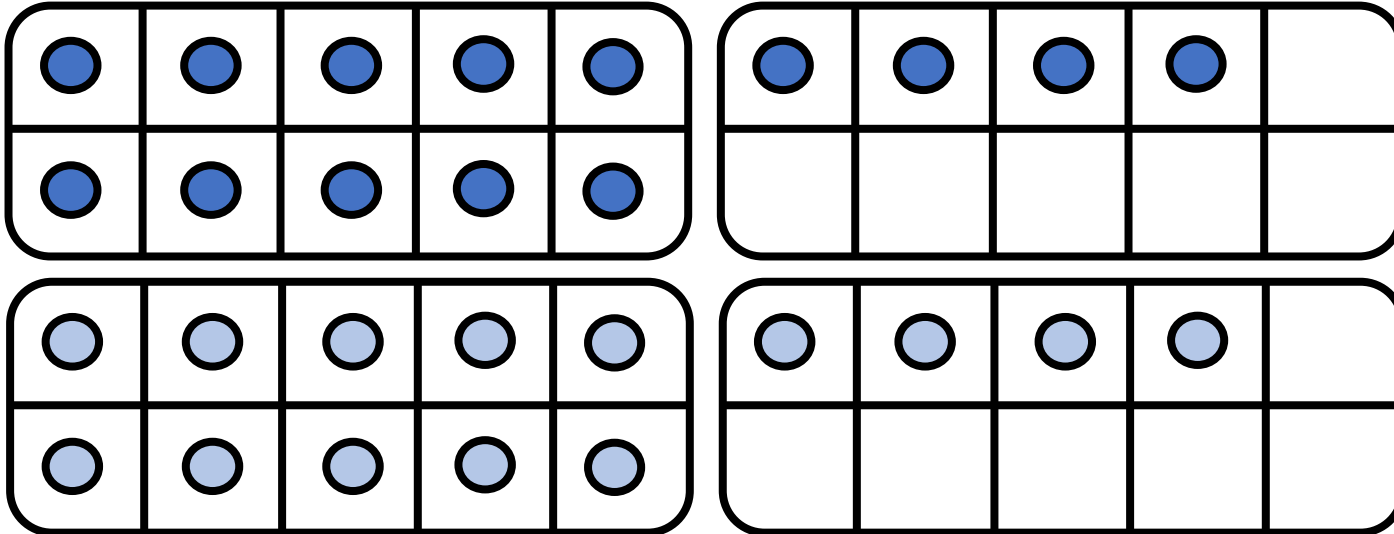
$$10 + 4 + 10 + 4$$





CM27: Connaitre les doubles jusqu'à 20 + 20


Quel est le double de 14 ?



$$14 + 14 = \underline{\hspace{2cm}}$$

$$10 + 4 + 10 + 4$$

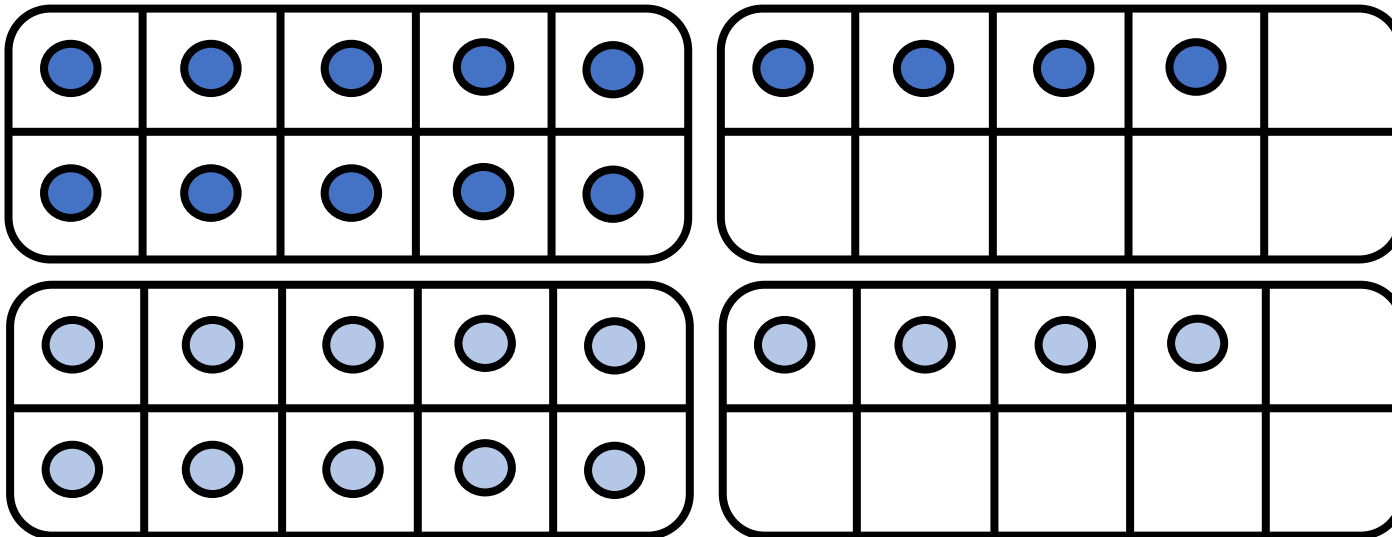
20






CM27: Connaitre les doubles jusqu'à 20 + 20

Quel est le double de 14 ?



$$14 + 14 = \underline{\hspace{2cm}}$$

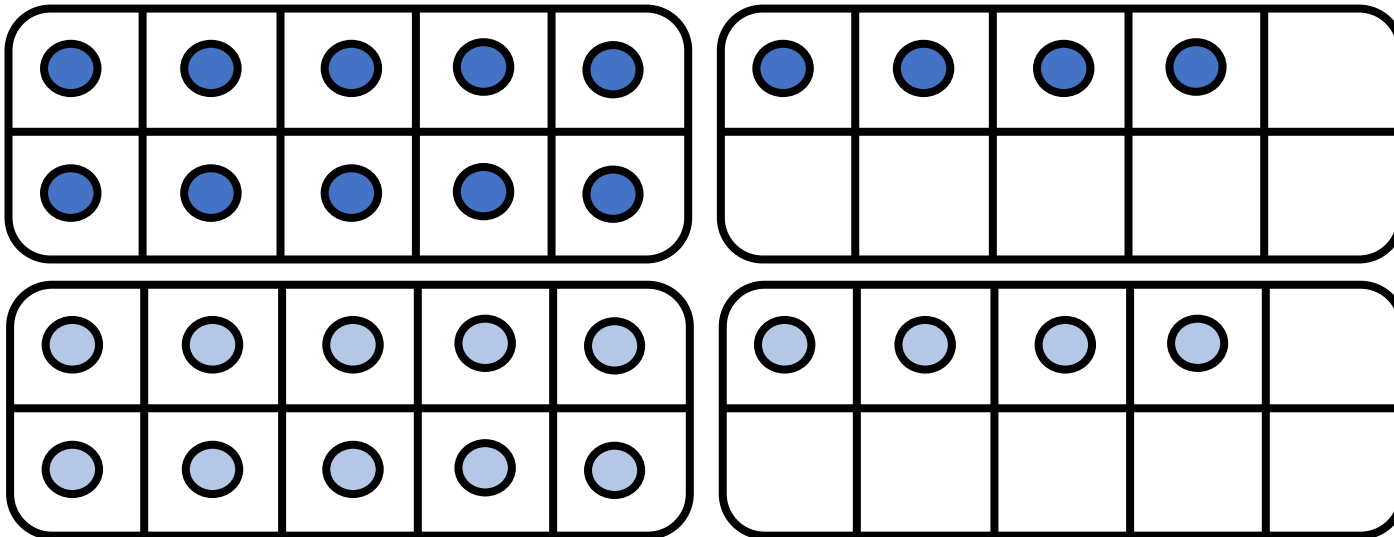
$$10 + 4 + 10 + 4 = 20 + 8$$






CM27: Connaitre les doubles jusqu'à 20 + 20

Quel est le double de 14 ?



$$14 + 14 = \underline{28}$$

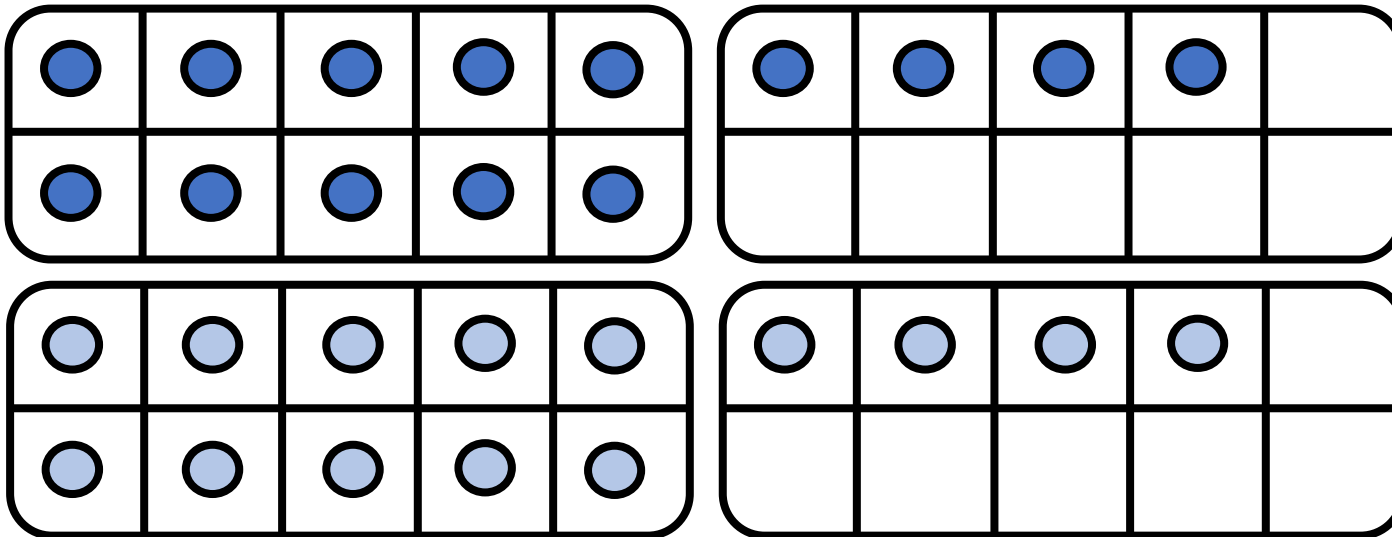
$$\begin{array}{ccccccc} 10 & + & 4 & + & 10 & + & 4 \\ & & / & & / & & / \\ & & 20 & + & 8 & & \end{array}$$





CM27: Connaitre les doubles jusqu'à 20 + 20

Quel est le double de 14 ?



$$14 + 14 = \underline{28}$$

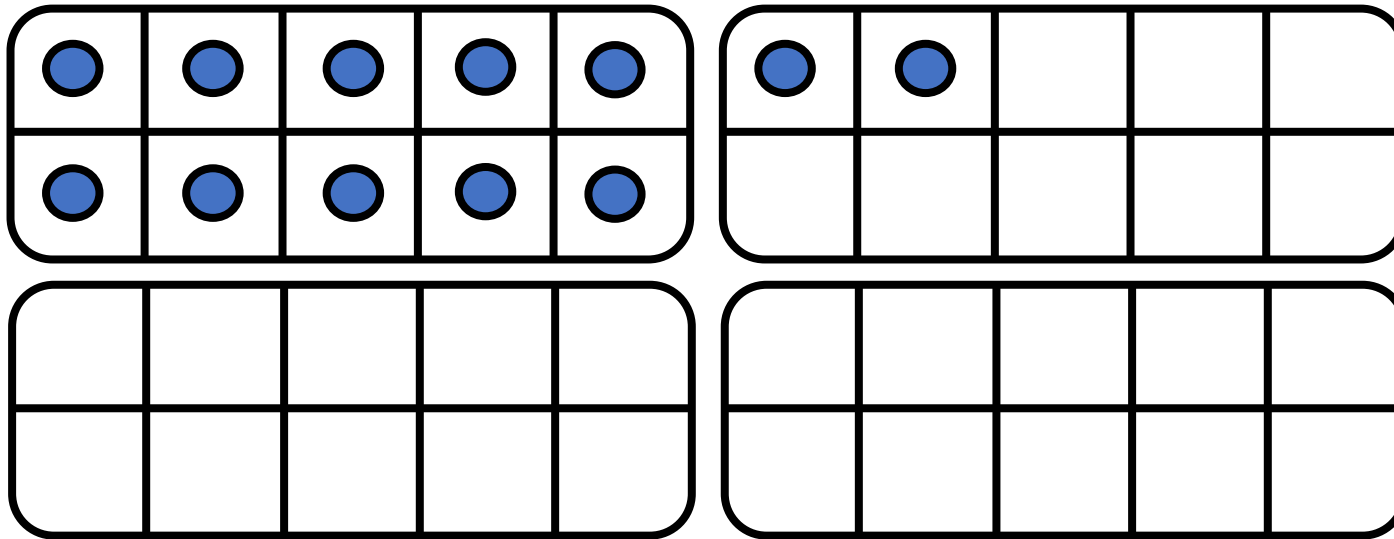
$$10 + 4 + 10 + 4 = 20 + 8$$

28




CM27: Connaitre les doubles jusqu'à 20 + 20

Quel est le double de 12 ?



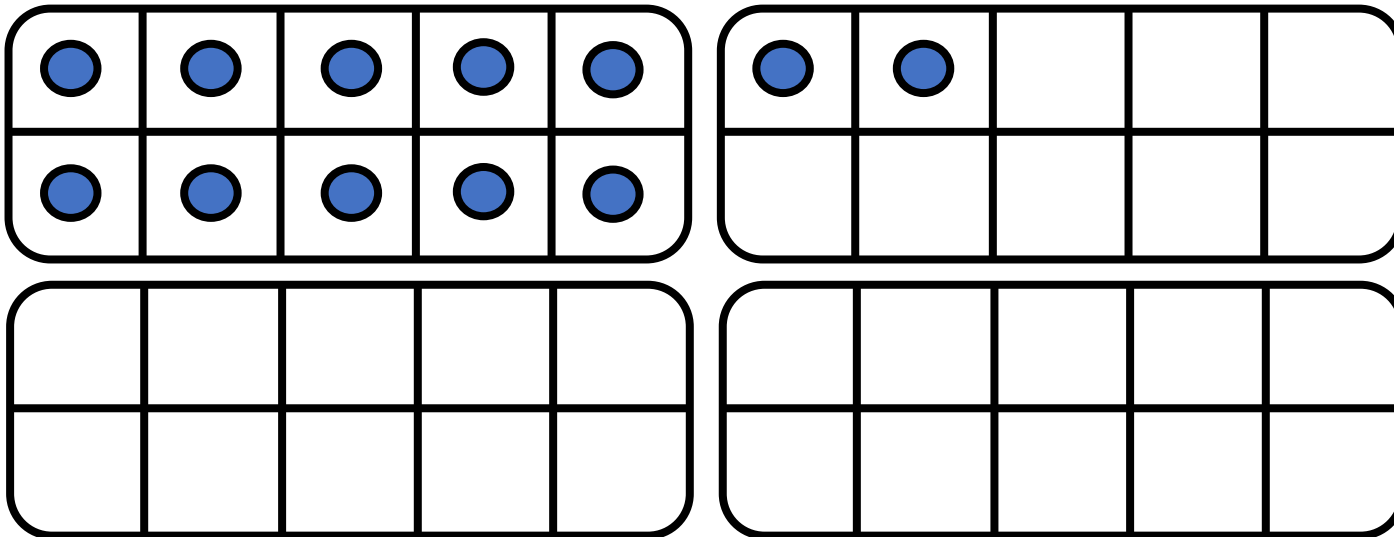
$$12 + 12 = \underline{\hspace{2cm}}$$






CM27: Connaitre les doubles jusqu'à 20 + 20

Quel est le double de 12 ?



$$12 + 12 = \underline{\hspace{2cm}}$$

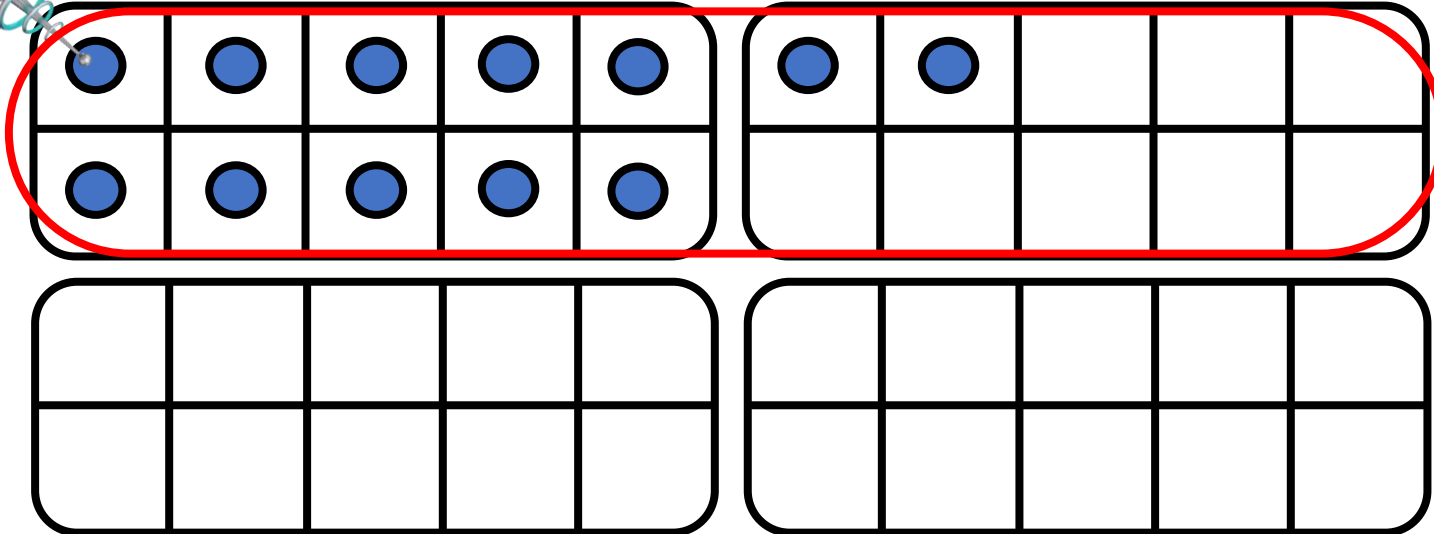
$$10 + 2$$






CM27: Connaitre les doubles jusqu'à 20 + 20

Quel est le double de 12 ?



$$12 + 12 = \underline{\hspace{2cm}}$$

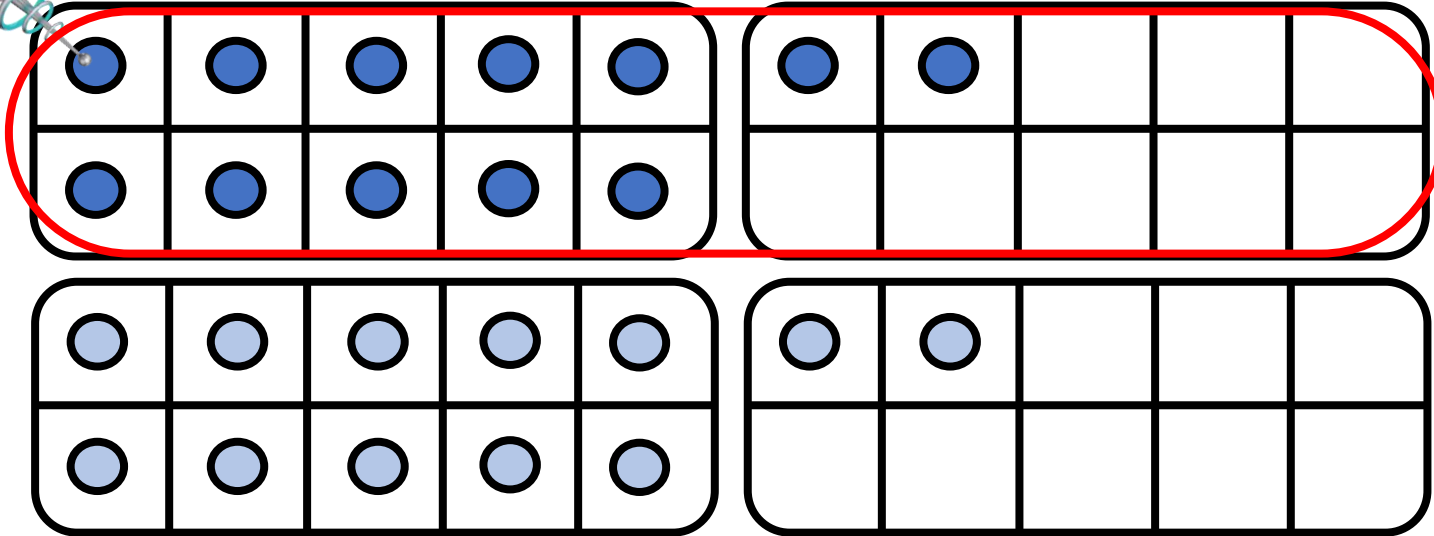
$$10 + 2 +$$






CM27: Connaitre les doubles jusqu'à 20 + 20

Quel est le double de 12 ?



$$12 + 12 = \underline{\hspace{2cm}}$$

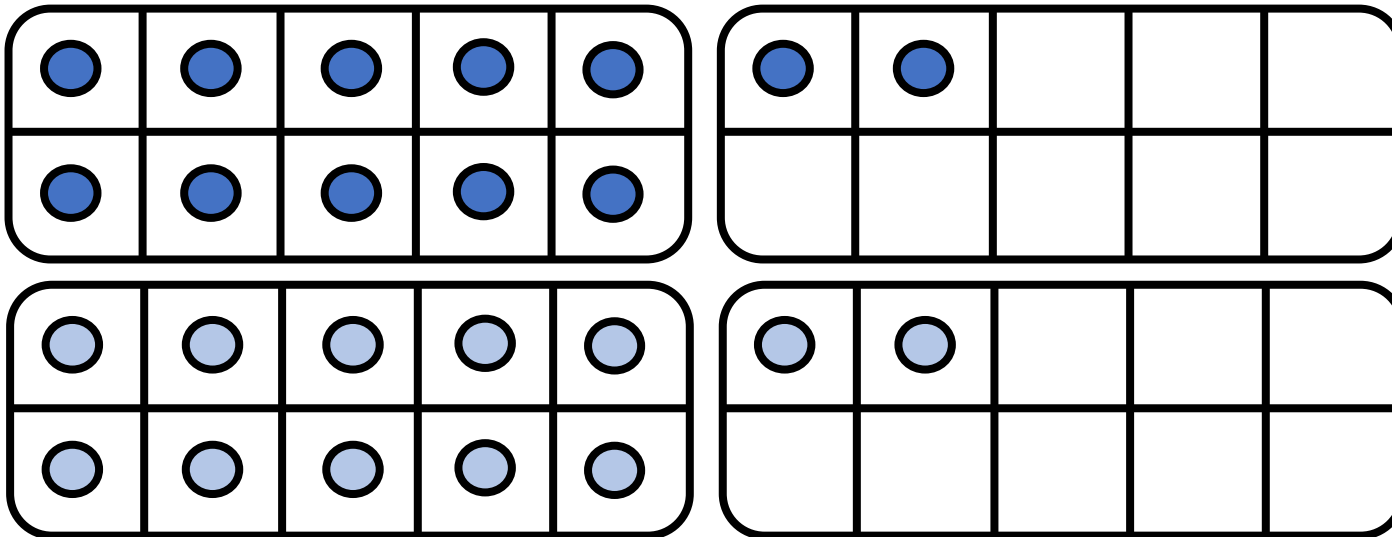
$$10 + 2 + 10 + 2$$





CM27: Connaitre les doubles jusqu'à 20 + 20


Quel est le double de 12 ?



$$12 + 12 = \underline{\hspace{2cm}}$$

$$10 + 2 + 10 + 2$$

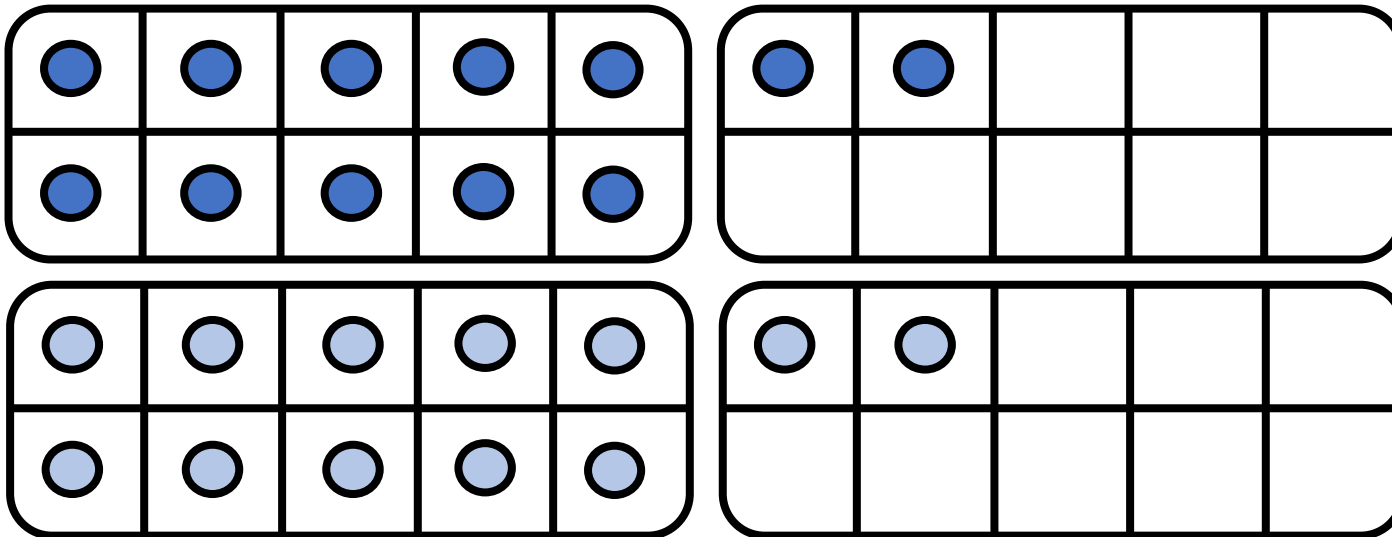
20






CM27: Connaitre les doubles jusqu'à 20 + 20

Quel est le double de 12 ?



$$12 + 12 = \underline{\hspace{2cm}}$$

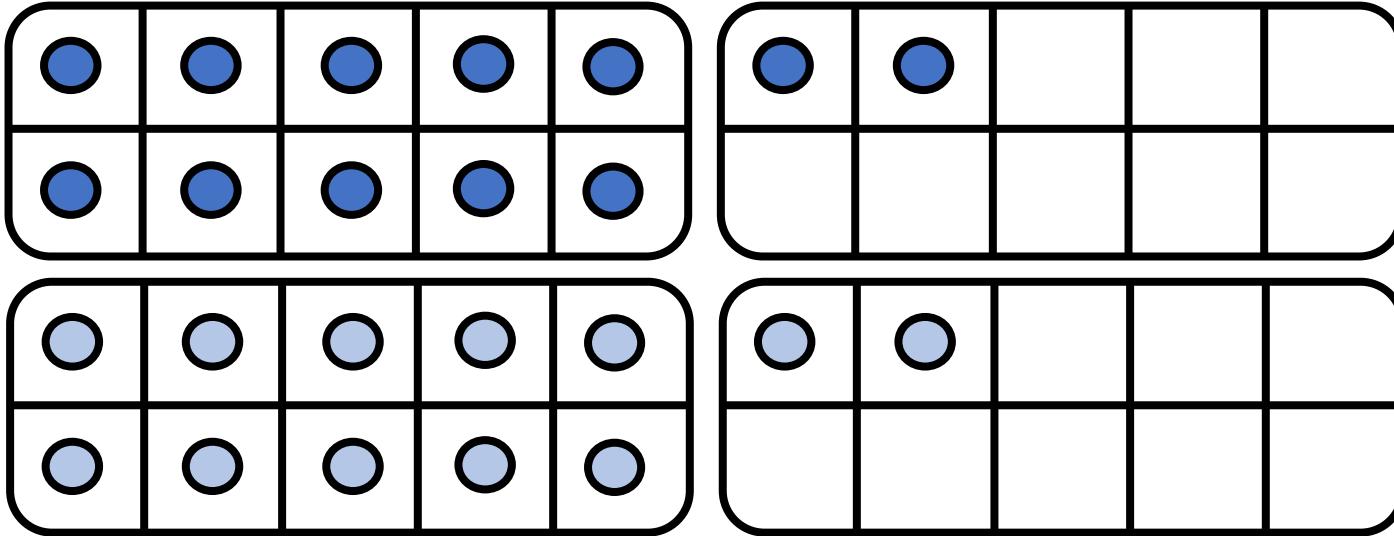
$$\begin{array}{ccccccc} 10 & + & 2 & + & 10 & + & 2 \\ & & / & & / & & / \\ & & & & 20 & + & 4 \end{array}$$






CM27: Connaitre les doubles jusqu'à 20 + 20

Quel est le double de 12 ?



$$12 + 12 = \underline{24}$$

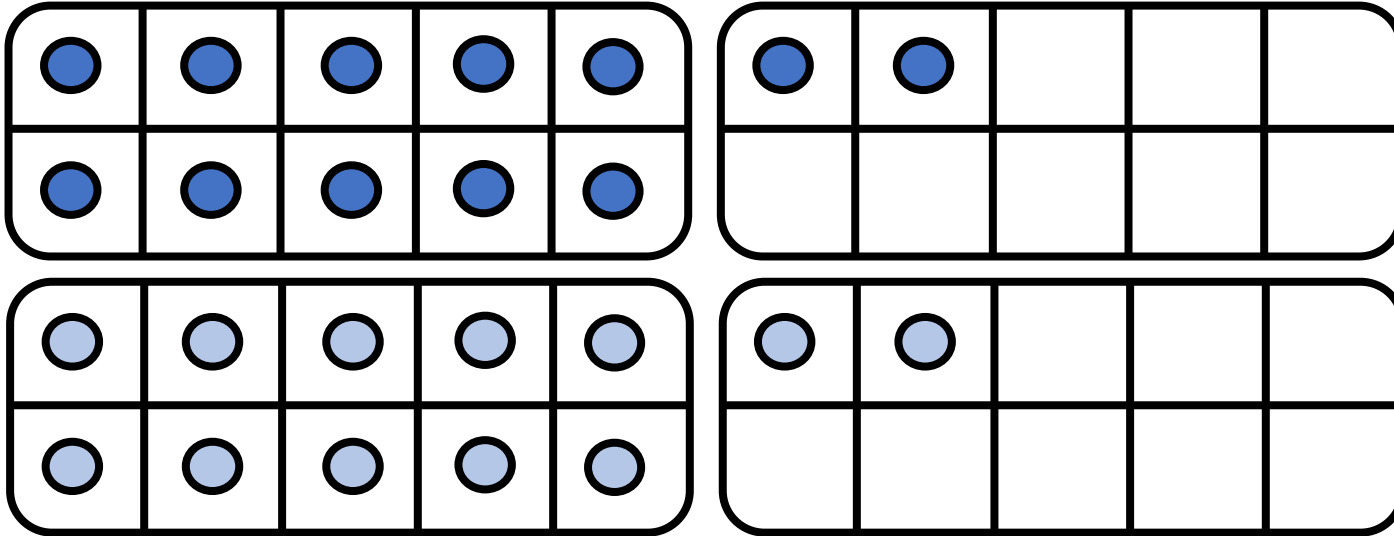
$$\begin{array}{ccccccc} 10 & + & 2 & + & 10 & + & 2 \\ & & / & & / & & / \\ & & 20 & + & 4 & & \end{array}$$





CM27: Connaitre les doubles jusqu'à 20 + 20

Quel est le double de 12 ?



$$12 + 12 = \underline{24}$$

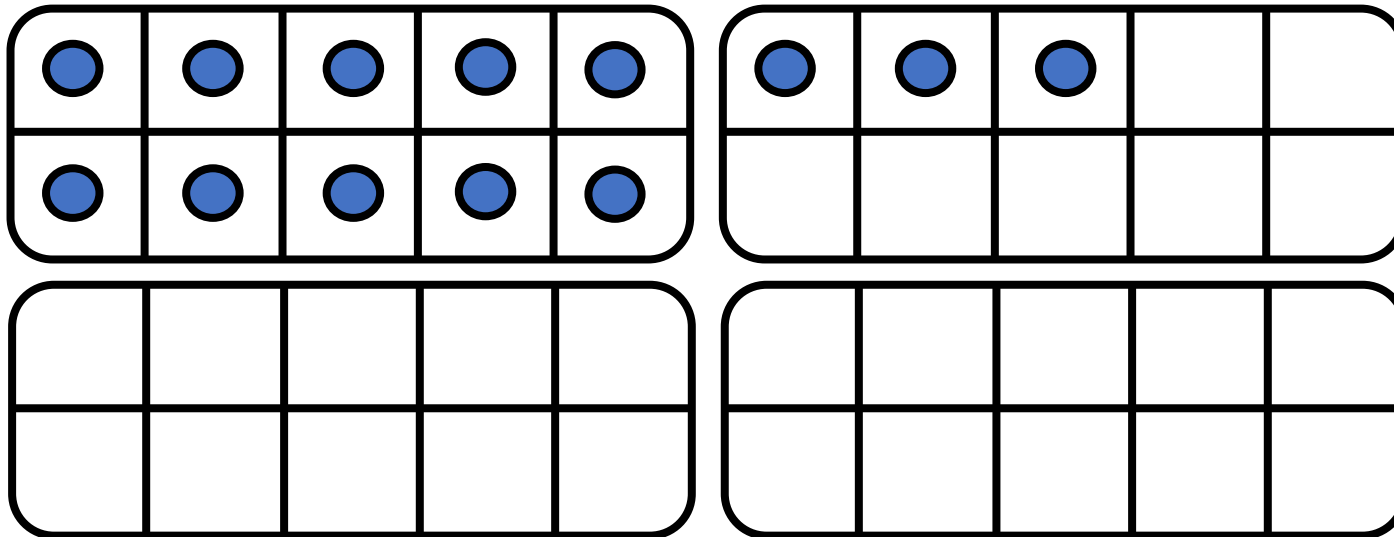
$$\begin{array}{ccccccc} 10 & + & 2 & + & 10 & + & 2 \\ & & / & & / & & / \\ & & 20 & + & 4 & & \end{array}$$

24




CM27: Connaitre les doubles jusqu'à 20 + 20

Quel est le double de 13 ?



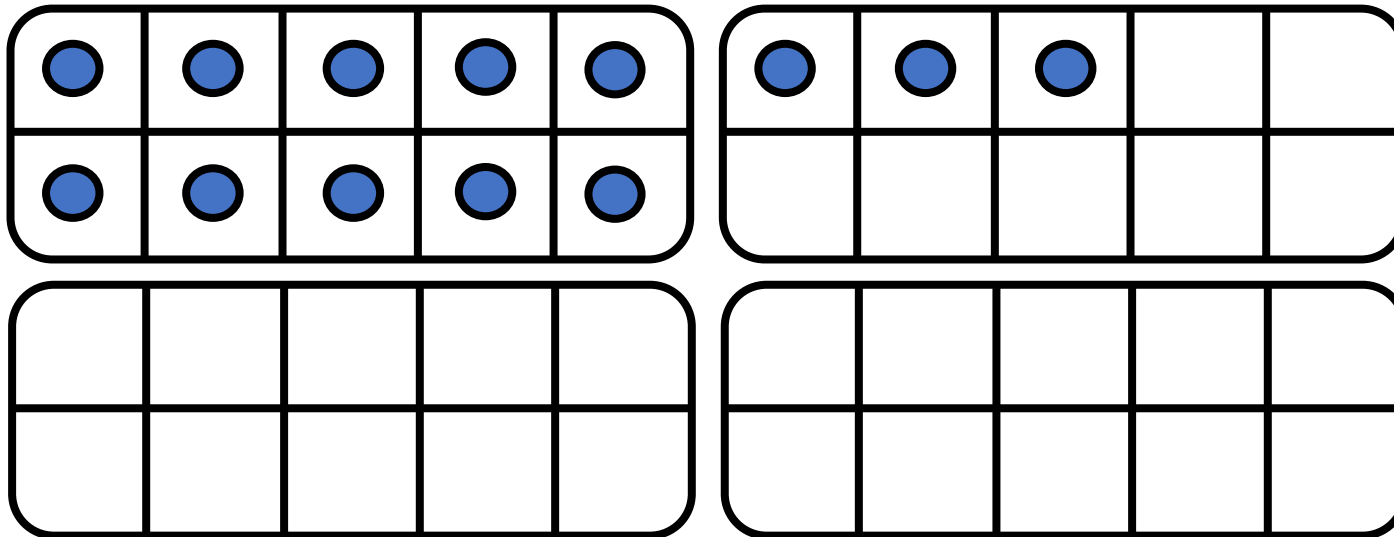
$$13 + 13 = \underline{\hspace{2cm}}$$






CM27: Connaitre les doubles jusqu'à 20 + 20

Quel est le double de 13 ?



$$13 + 13 = \underline{\hspace{2cm}}$$

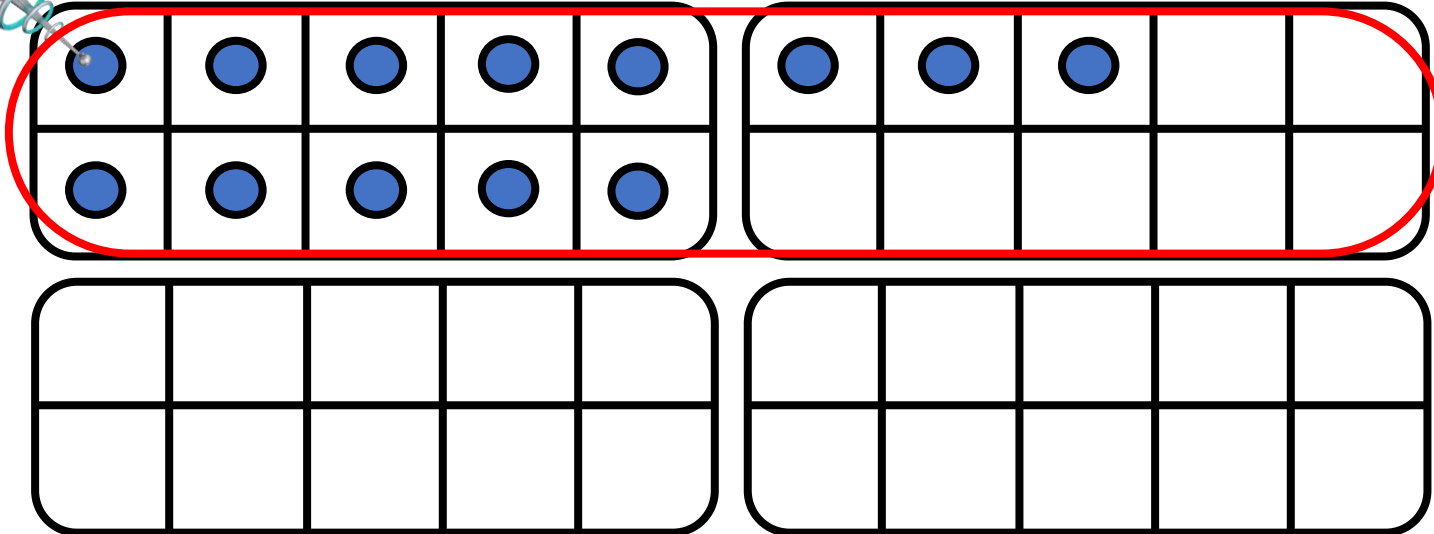
$$10 + 3$$






CM27: Connaitre les doubles jusqu'à 20 + 20

Quel est le double de 13 ?



$$13 + 13 = \underline{\hspace{2cm}}$$

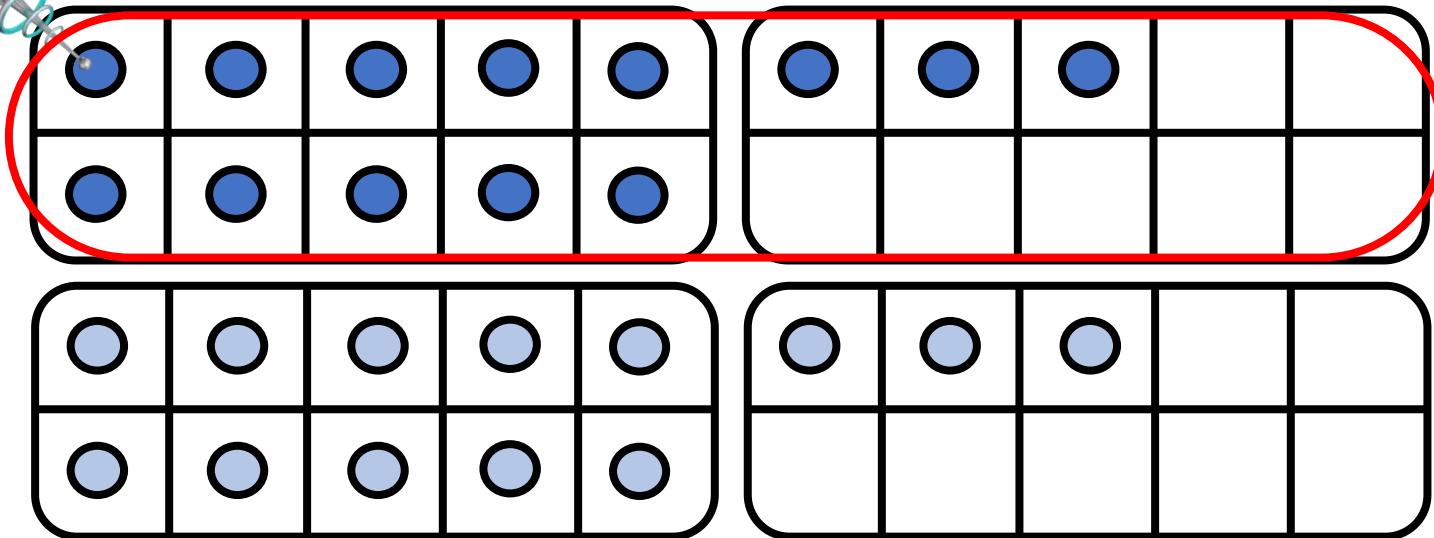
$$10 + 3 +$$






CM27: Connaitre les doubles jusqu'à 20 + 20

Quel est le double de 13 ?



$$13 + 13 = \underline{\hspace{2cm}}$$

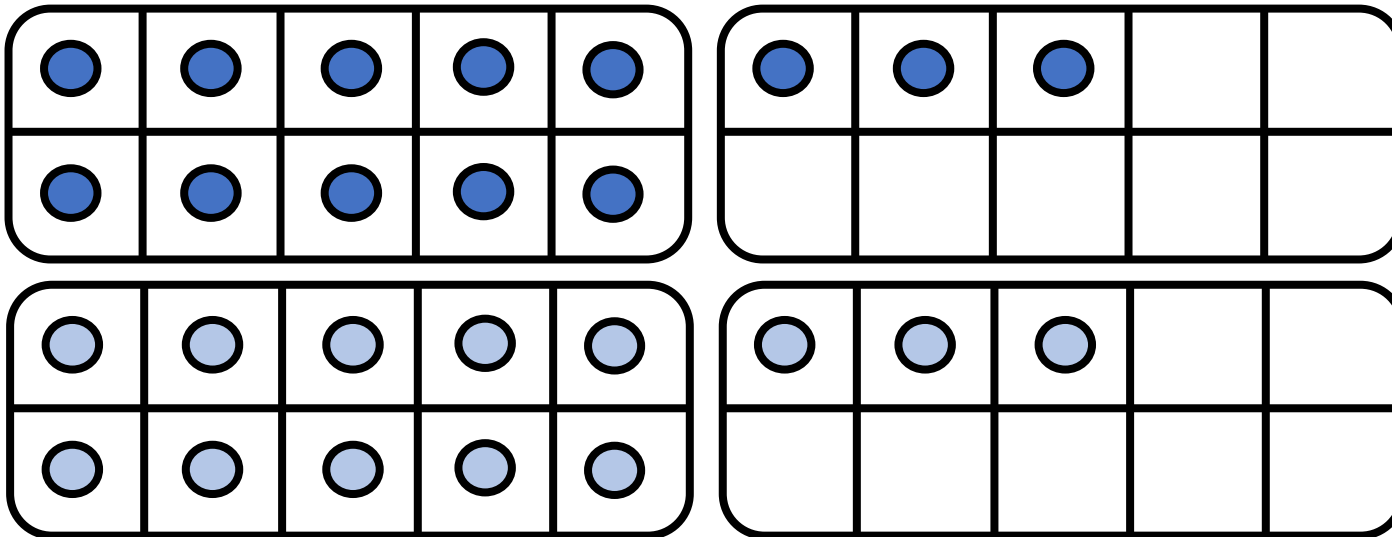
$$10 + 3 + 10 + 3$$





CM27: Connaitre les doubles jusqu'à 20 + 20


Quel est le double de 13 ?



$$13 + 13 = \underline{\hspace{2cm}}$$

$$10 + 3 + 10 + 3$$

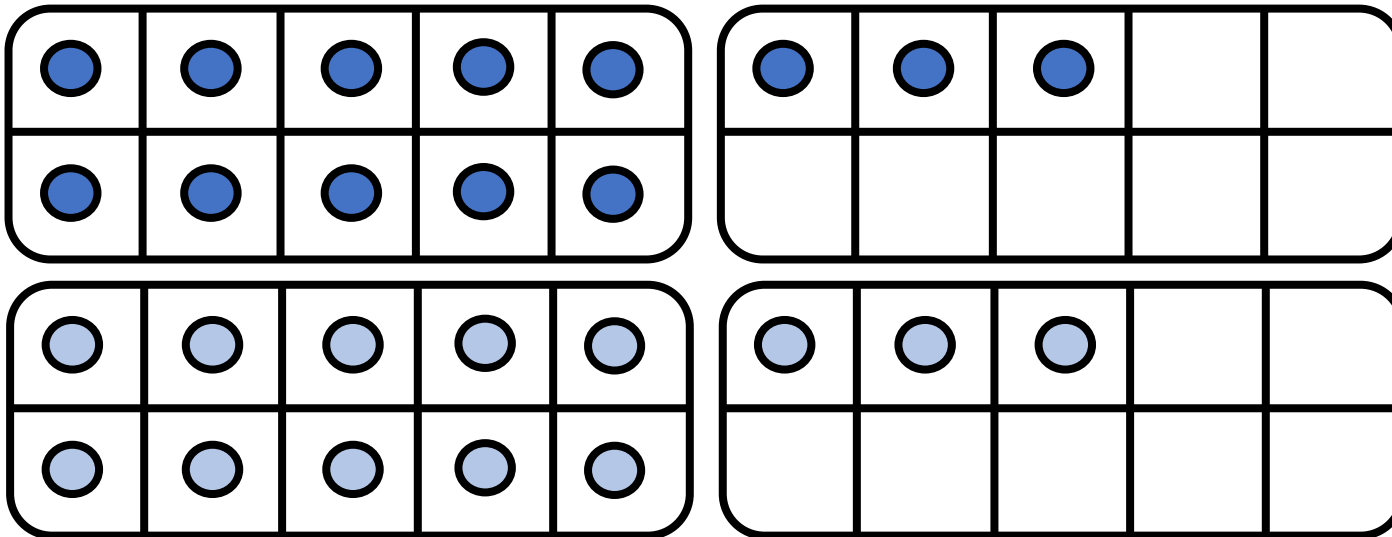
20






CM27: Connaitre les doubles jusqu'à 20 + 20

Quel est le double de 13 ?



$$13 + 13 = \underline{\hspace{2cm}}$$

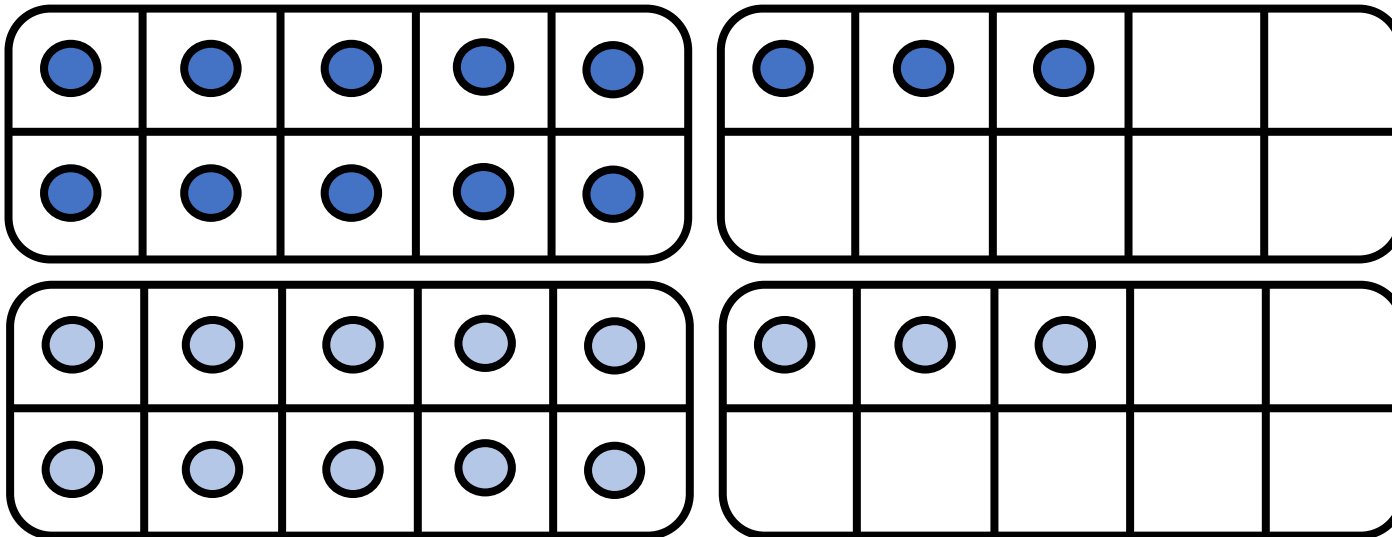
$$\begin{array}{ccccccc} 10 & + & 3 & + & 10 & + & 3 \\ & & / & & / & & / \\ & & 20 & + & 6 & & \end{array}$$






CM27: Connaitre les doubles jusqu'à 20 + 20

Quel est le double de 13 ?



$$13 + 13 = \underline{26}$$

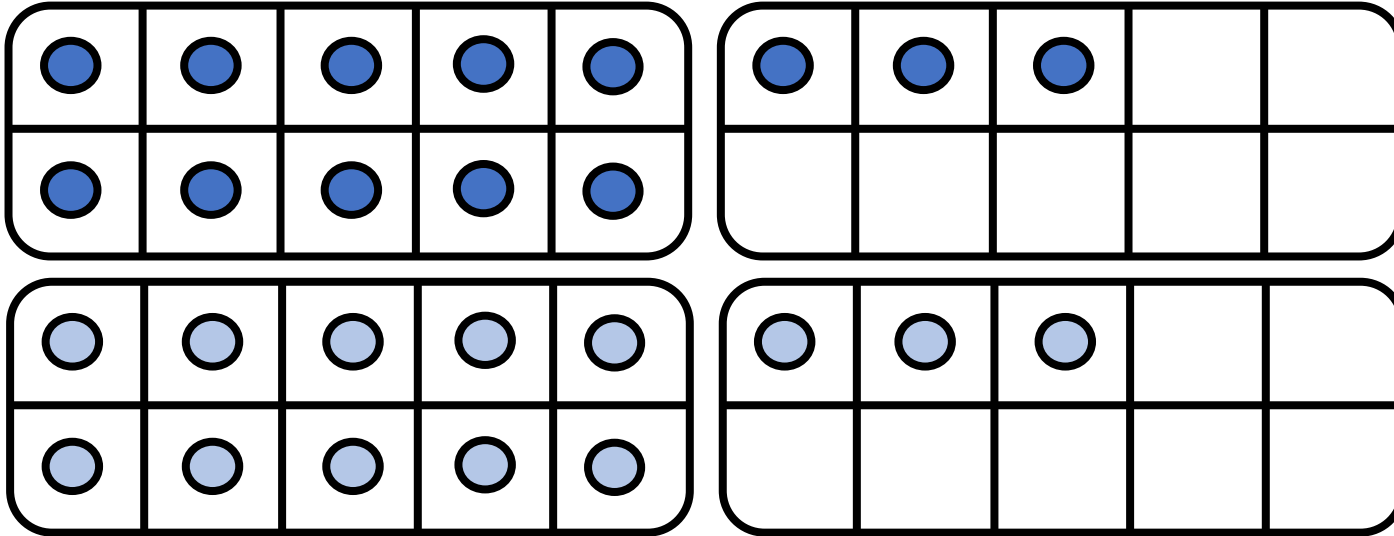
$$\begin{array}{ccccccc} 10 & + & 3 & + & 10 & + & 3 \\ & & / & & / & & / \\ & & 20 & + & 6 & & \end{array}$$





CM27: Connaitre les doubles jusqu'à 20 + 20

Quel est le double de 13 ?



$$13 + 13 = \underline{26}$$

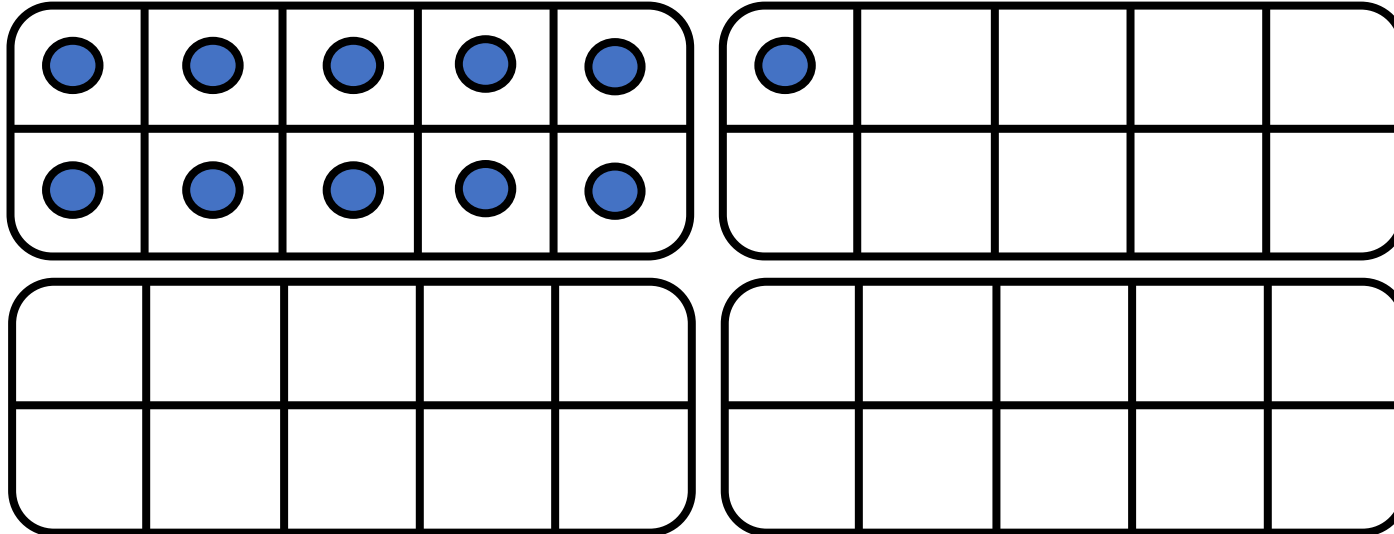
$$\begin{array}{ccccccc} 10 & + & 3 & + & 10 & + & 3 \\ & & / & & / & & / \\ & & & & 20 & + & 6 \end{array}$$

26




CM27: Connaitre les doubles jusqu'à 20 + 20

Quel est le double de 11 ?



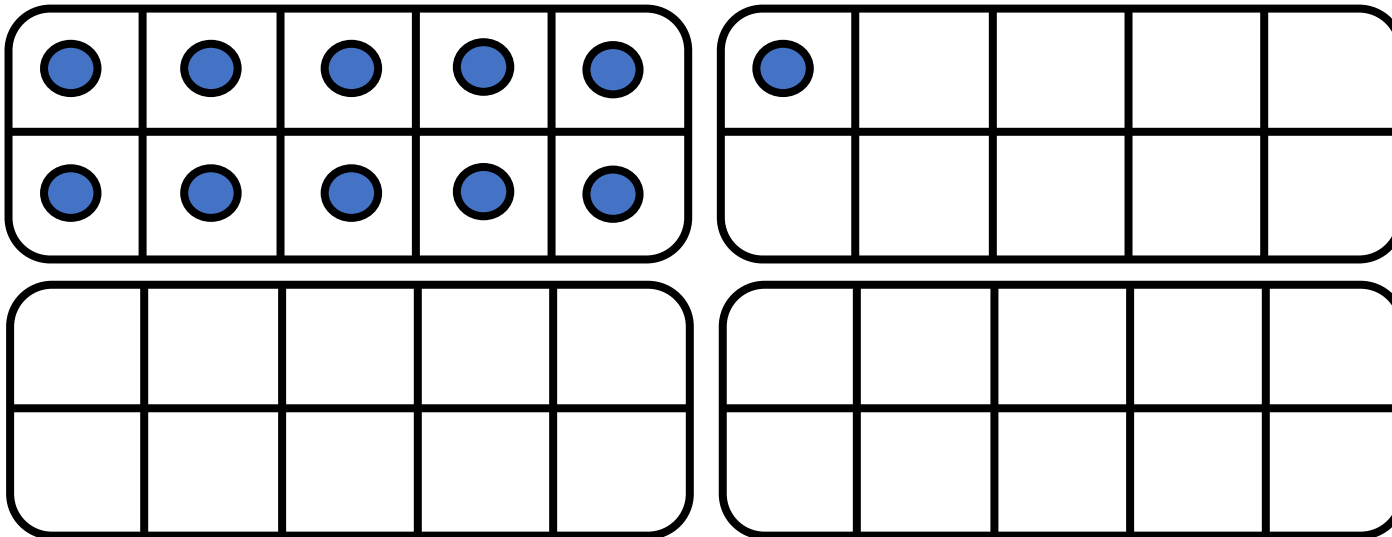
$$11 + 11 = \underline{\hspace{2cm}}$$






CM27: Connaitre les doubles jusqu'à 20 + 20

Quel est le double de 11 ?



$$11 + 11 = \underline{\hspace{2cm}}$$

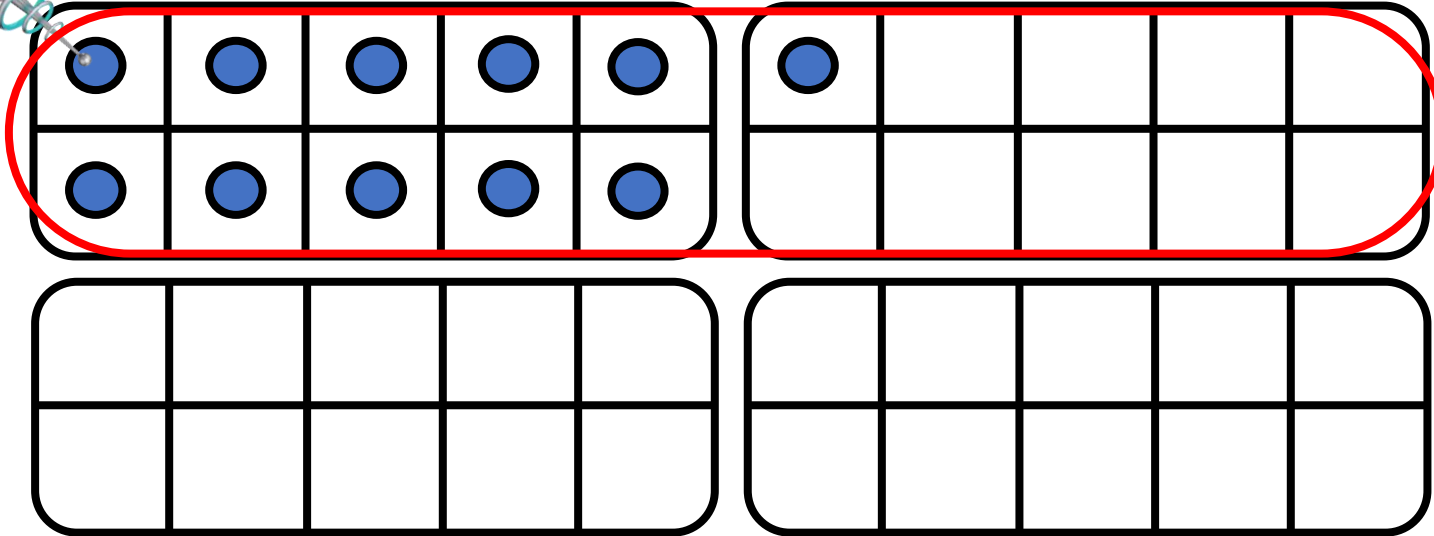
$$10 + 1$$






CM27: Connaitre les doubles jusqu'à 20 + 20

Quel est le double de 11 ?




$$11 + 11 = \underline{\hspace{2cm}}$$

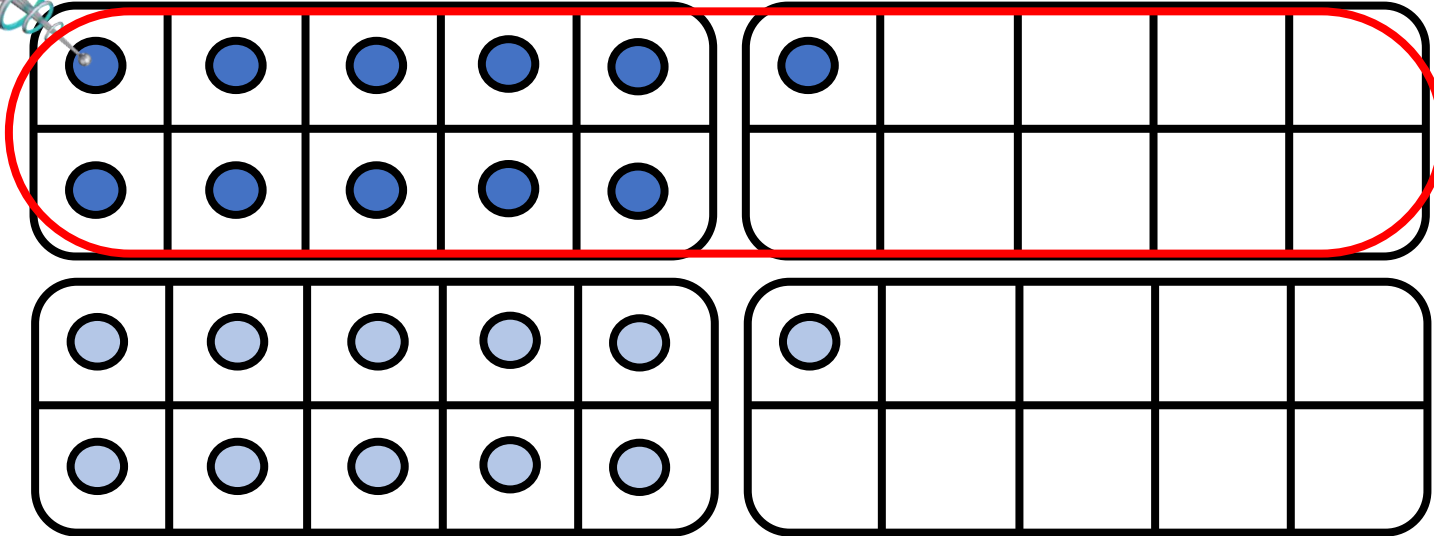
$$10 + 1 +$$



CM27: Connaitre les doubles jusqu'à 20 + 20




Quel est le double de 11 ?



$$11 + 11 = \underline{\hspace{2cm}}$$

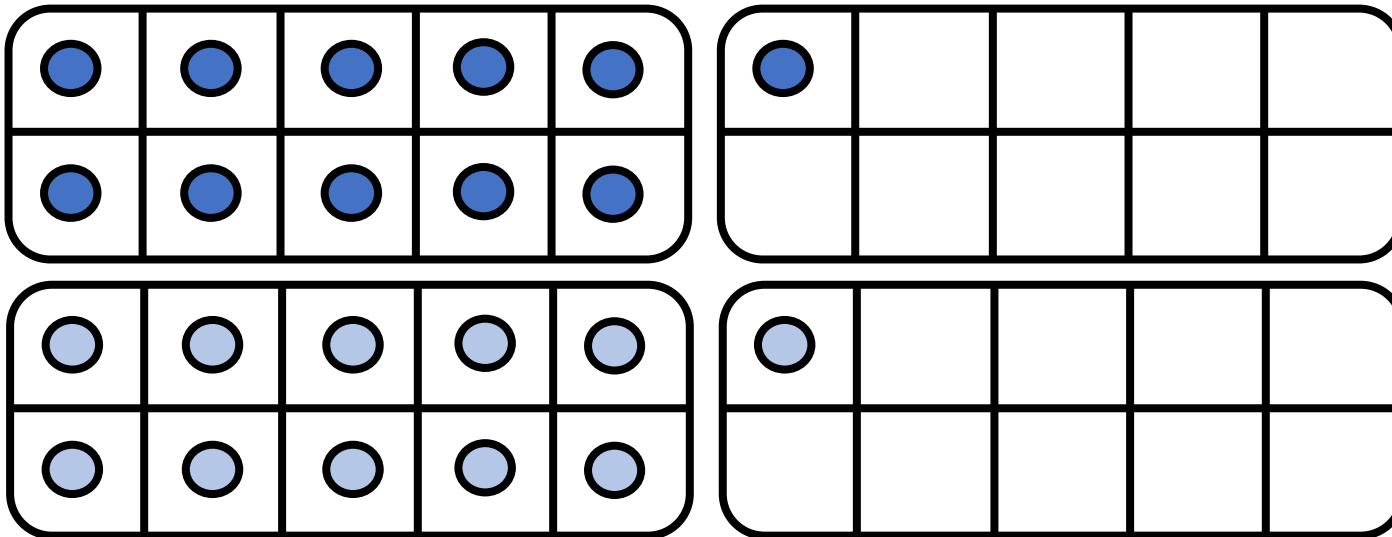
$$10 + 1 + 10 + 1$$





CM27: Connaitre les doubles jusqu'à 20 + 20


Quel est le double de 11 ?



$$11 + 11 = \underline{\hspace{2cm}}$$

$$10 + 1 + 10 + 1$$

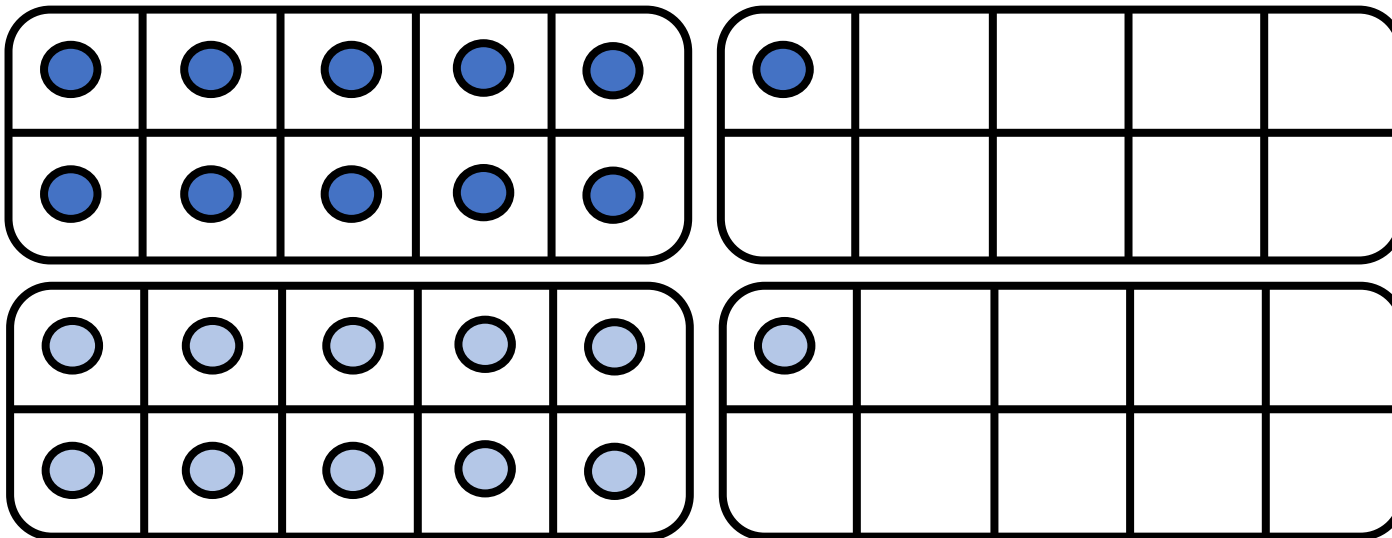
20






CM27: Connaitre les doubles jusqu'à 20 + 20

Quel est le double de 11 ?



$$11 + 11 = \underline{\hspace{2cm}}$$

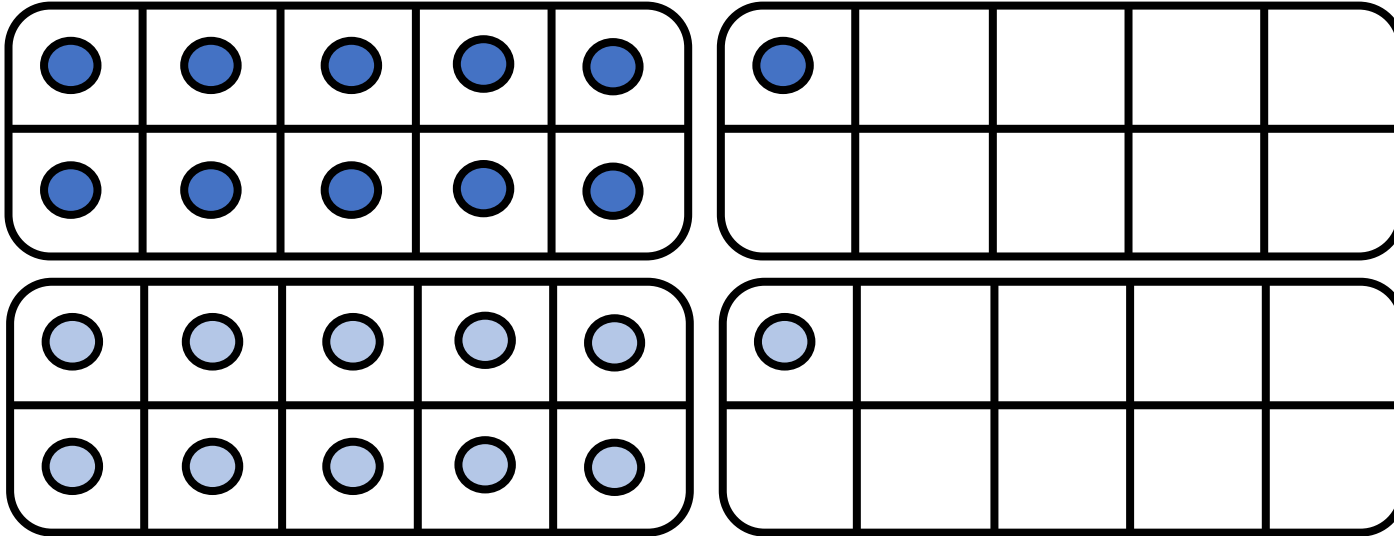
$$\begin{array}{ccccccc} 10 & + & 1 & + & 10 & + & 1 \\ & & / & & / & & / \\ & & 20 & + & 2 & & \end{array}$$






CM27: Connaitre les doubles jusqu'à 20 + 20

Quel est le double de 11 ?



$$11 + 11 = \underline{22}$$

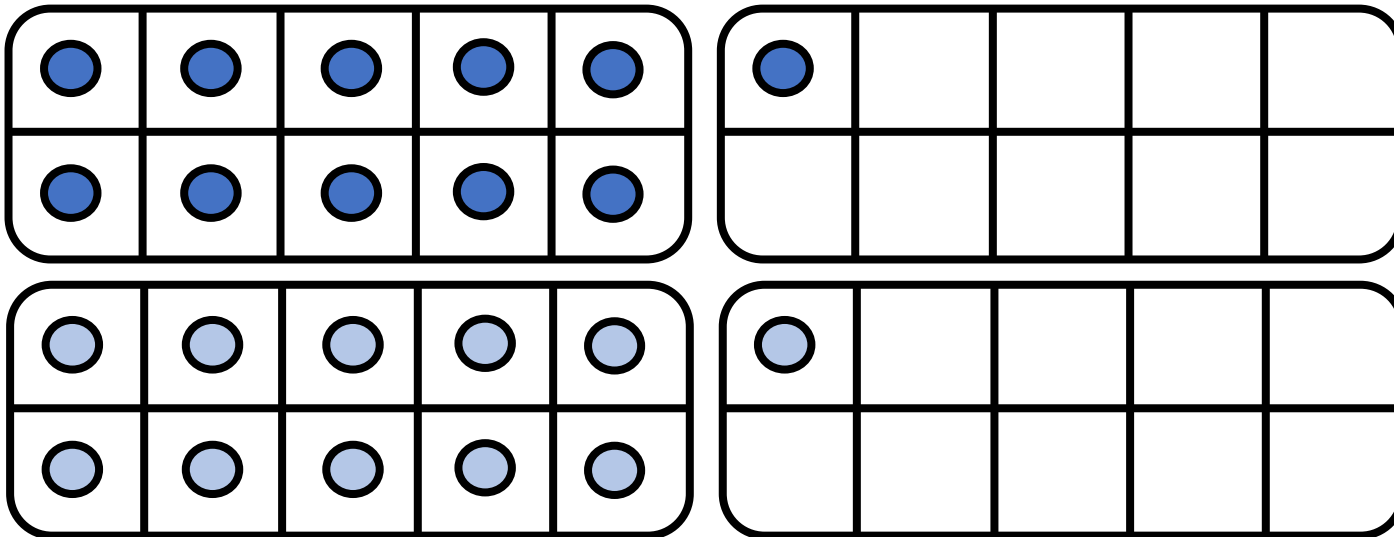
$$\begin{array}{ccccccc} 10 & + & 1 & + & 10 & + & 1 \\ & & / & & / & & / \\ & & 20 & + & 2 & & \end{array}$$





CM27: Connaitre les doubles jusqu'à 20 + 20

Quel est le double de 11 ?



$$11 + 11 = \underline{22}$$

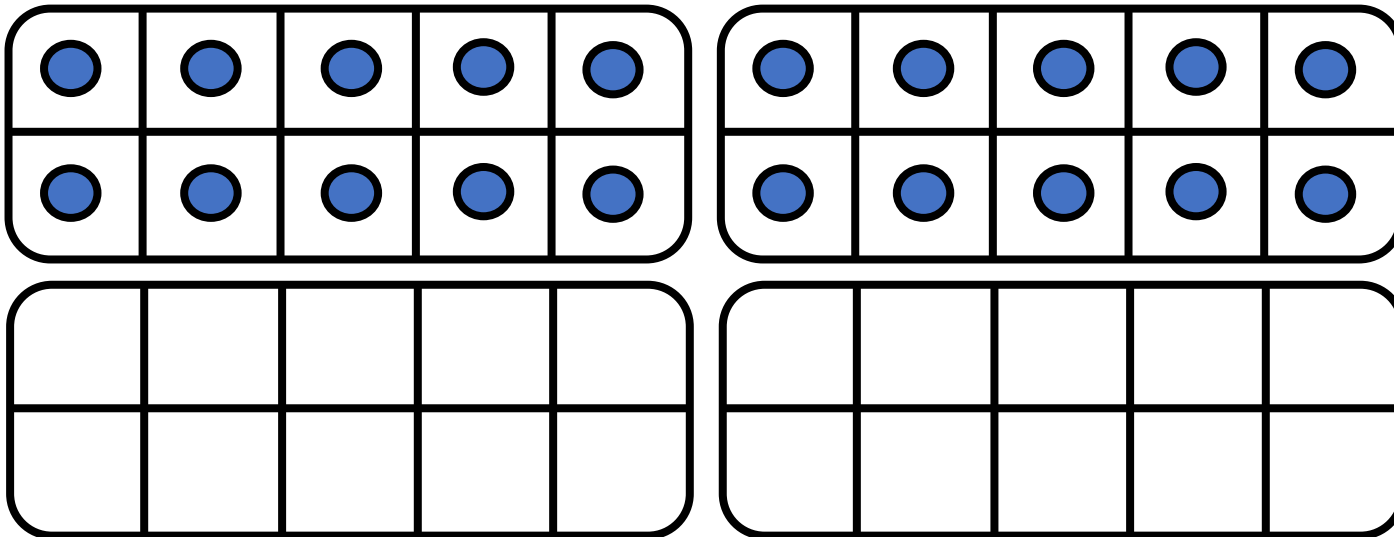
$$\begin{array}{ccccccc} 10 & + & 1 & + & 10 & + & 1 \\ & & / & & / & & / \\ & & & & 20 & + & 2 \end{array}$$

22




CM27: Connaitre les doubles jusqu'à 20 + 20

Quel est le double de 20 ?




$$20 + 20 = \underline{\hspace{2cm}}$$

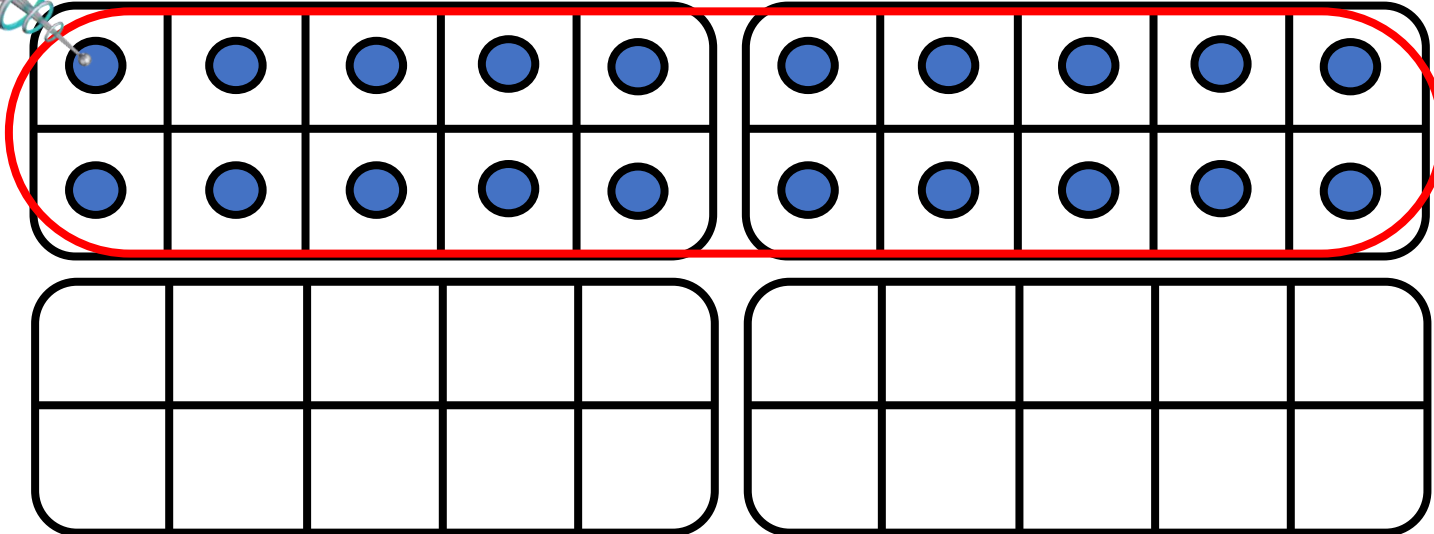
Le double de 20 est



CM27: Connaitre les doubles jusqu'à 20 + 20




Quel est le double de 20 ?



$$20 + 20 = \underline{\hspace{2cm}}$$

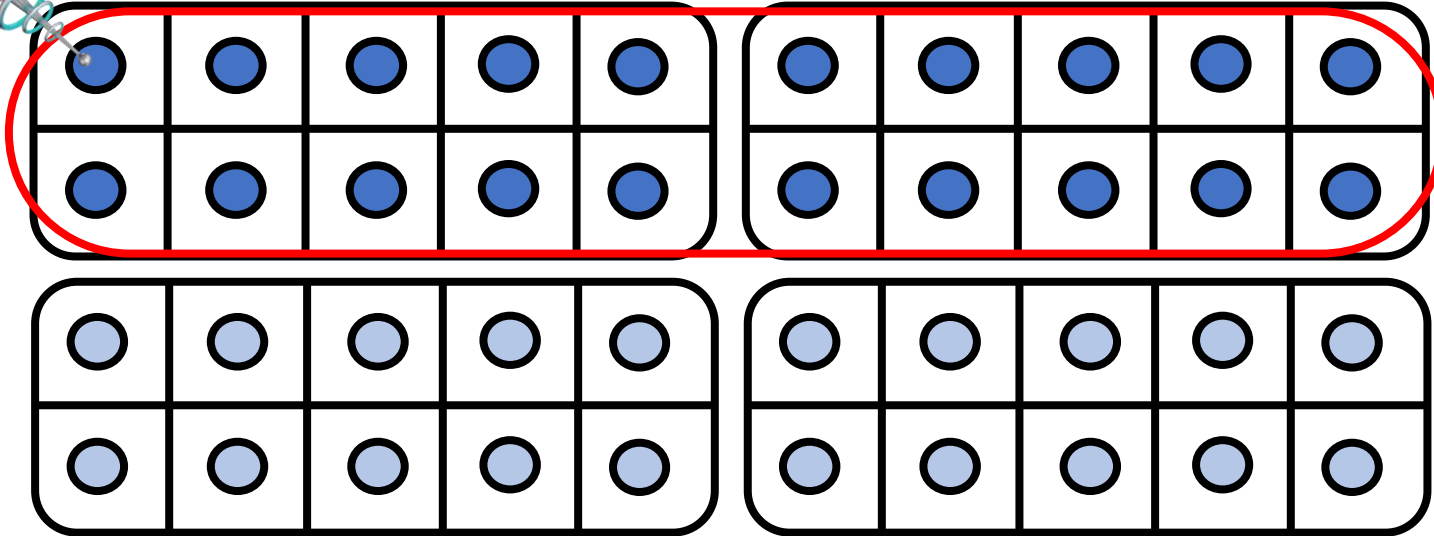
Le double de 20 est



CM27: Connaitre les doubles jusqu'à 20 + 20




Quel est le double de 20 ?



$$20 + 20 = \underline{\hspace{2cm}}$$

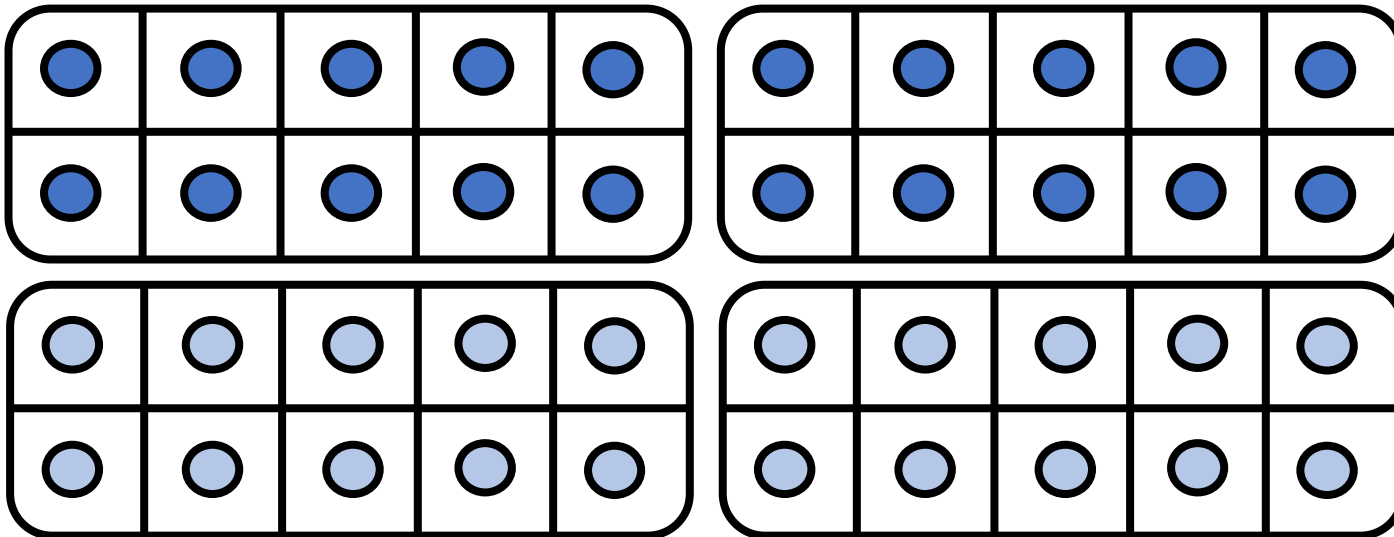
Le double de 20 est





CM27: Connaitre les doubles jusqu'à $20 + 20$

Quel est le double de 20 ?



$$20 + 20 = \underline{\hspace{2cm}}$$

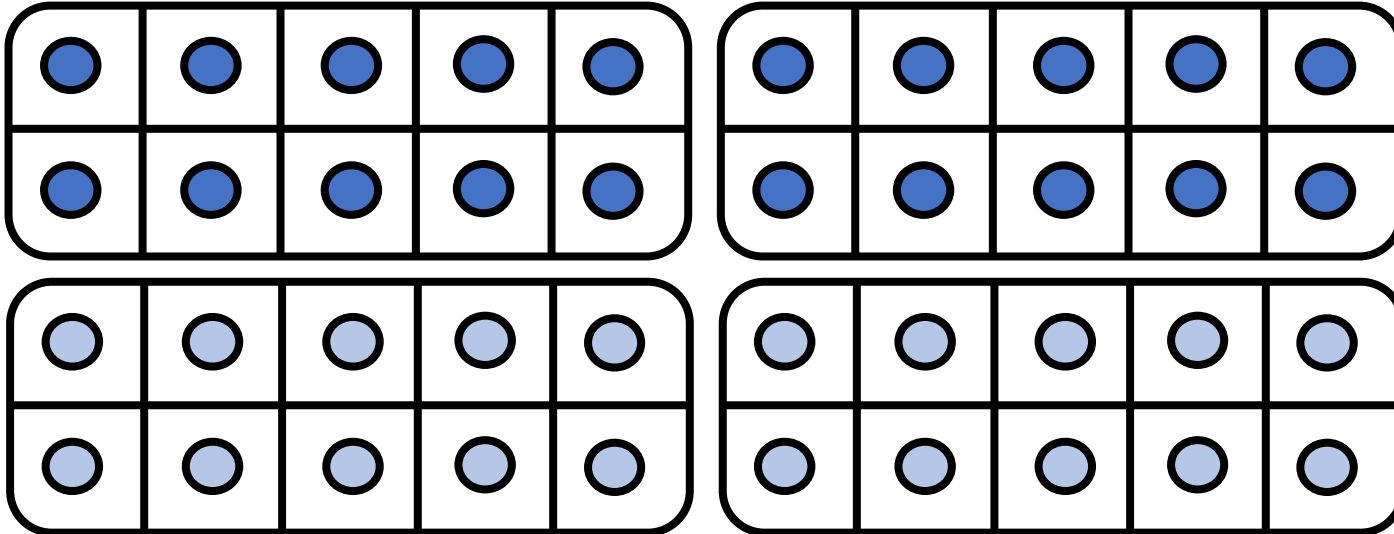
Le double de 20 est

40



CM27: Connaitre les doubles jusqu'à 20 + 20

Quel est le double de 20 ?



$$20 + 20 = \underline{40}$$

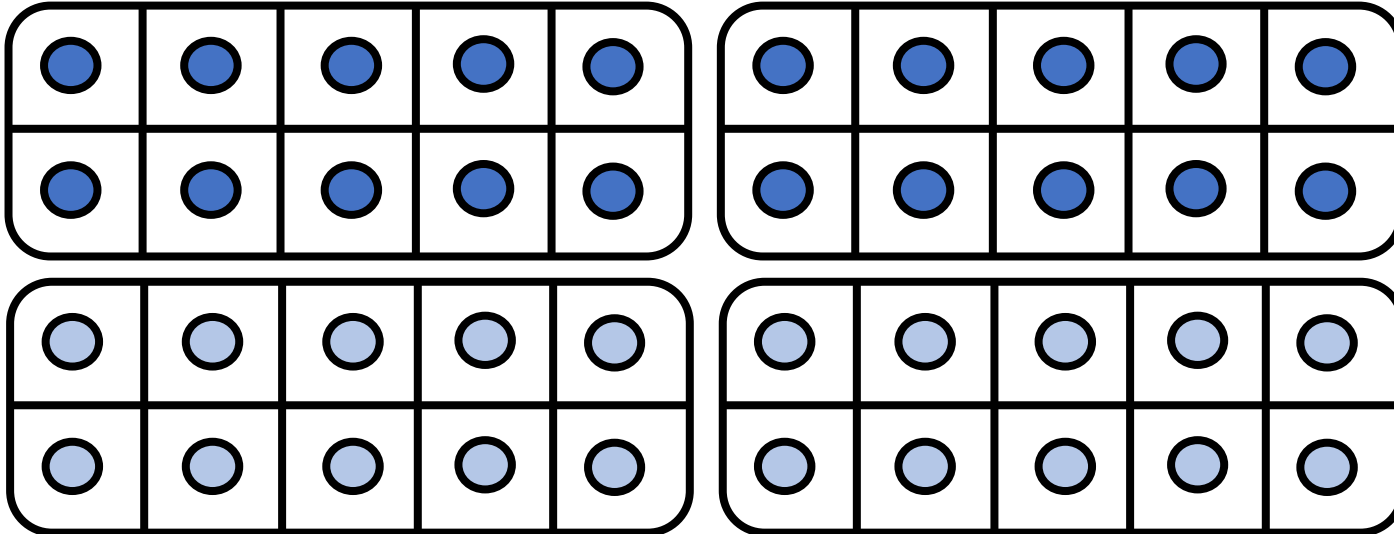
Le double de 20 est _____

40



CM27: Connaitre les doubles jusqu'à 20 + 20

Quel est le double de 20 ?



$$20 + 20 = \underline{40}$$

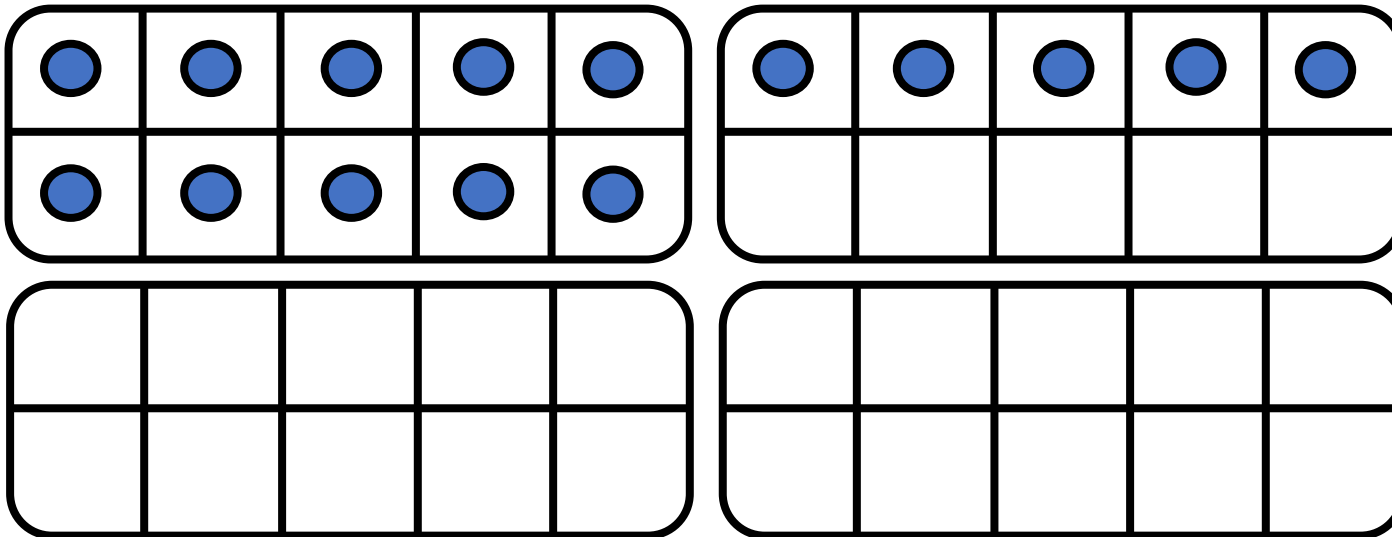
Le double de 20 est 40

40




CM27: Connaitre les doubles jusqu'à 20 + 20

Quel est le double de 15 ?



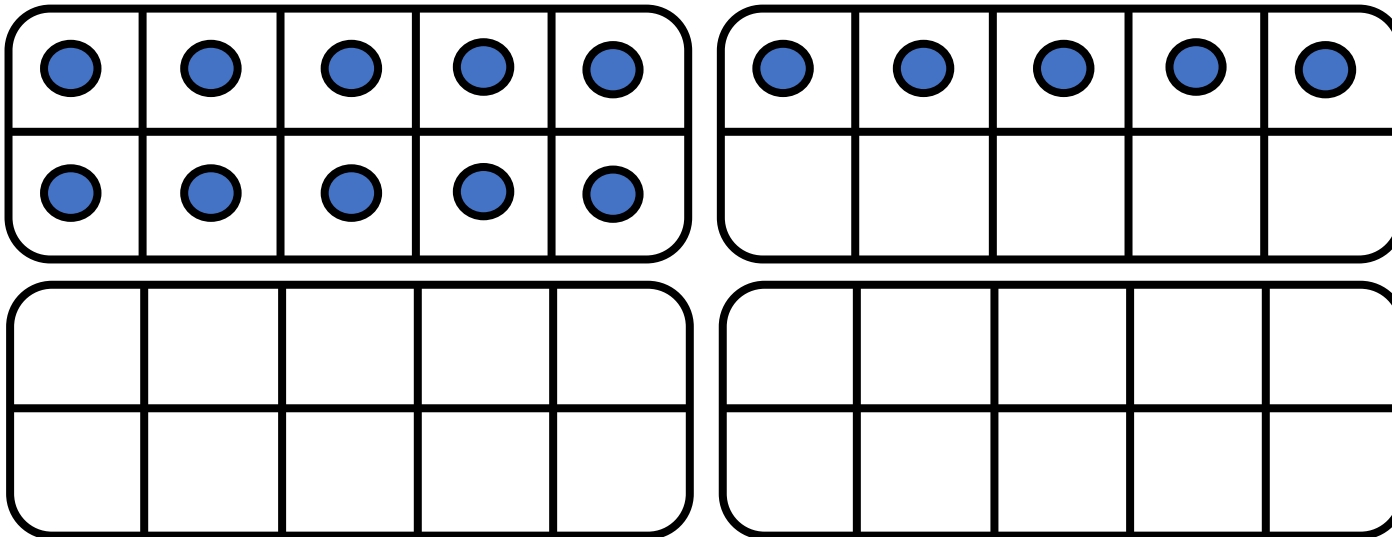
$$15 + 15 = \underline{\hspace{2cm}}$$






CM27: Connaitre les doubles jusqu'à 20 + 20

Quel est le double de 15 ?



$$15 + 15 = \underline{\hspace{2cm}}$$

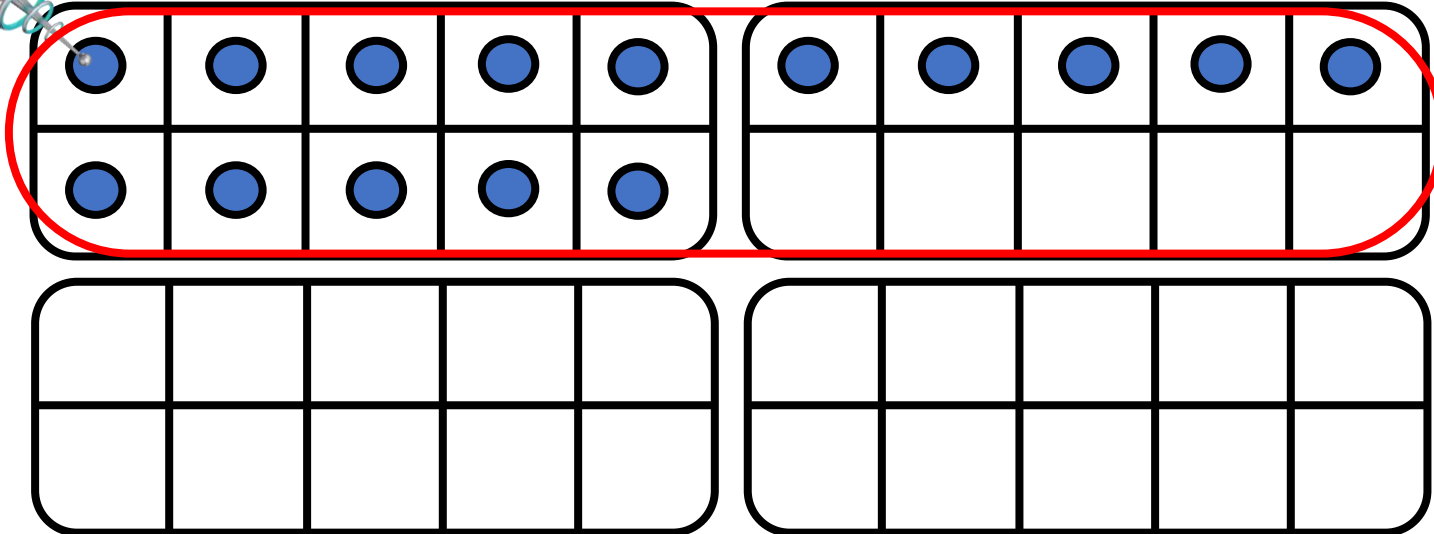
$$10 + 5$$






CM27: Connaitre les doubles jusqu'à 20 + 20

Quel est le double de 15 ?



$$15 + 15 = \underline{\hspace{2cm}}$$

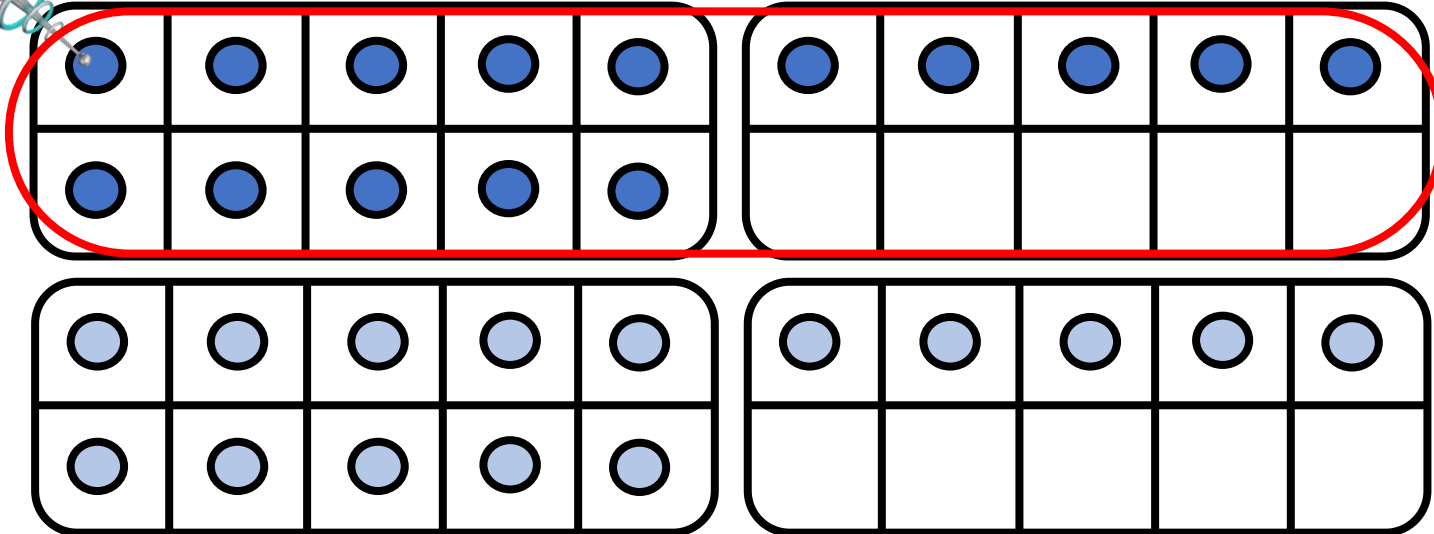
$$10 + 5 +$$






CM27: Connaitre les doubles jusqu'à 20 + 20

Quel est le double de 15 ?



$$15 + 15 = \underline{\hspace{2cm}}$$

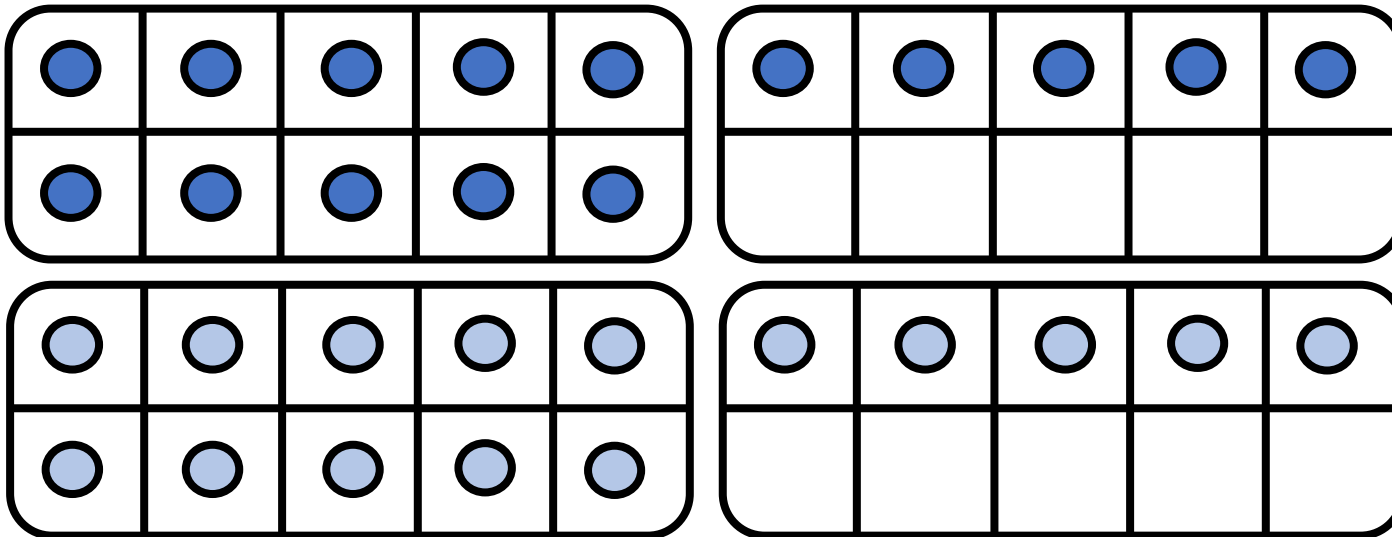
$$10 + 5 + 10 + 5$$





CM27: Connaitre les doubles jusqu'à 20 + 20


Quel est le double de 15 ?



$$15 + 15 = \underline{\hspace{2cm}}$$

$$10 + 5 + 10 + 5$$

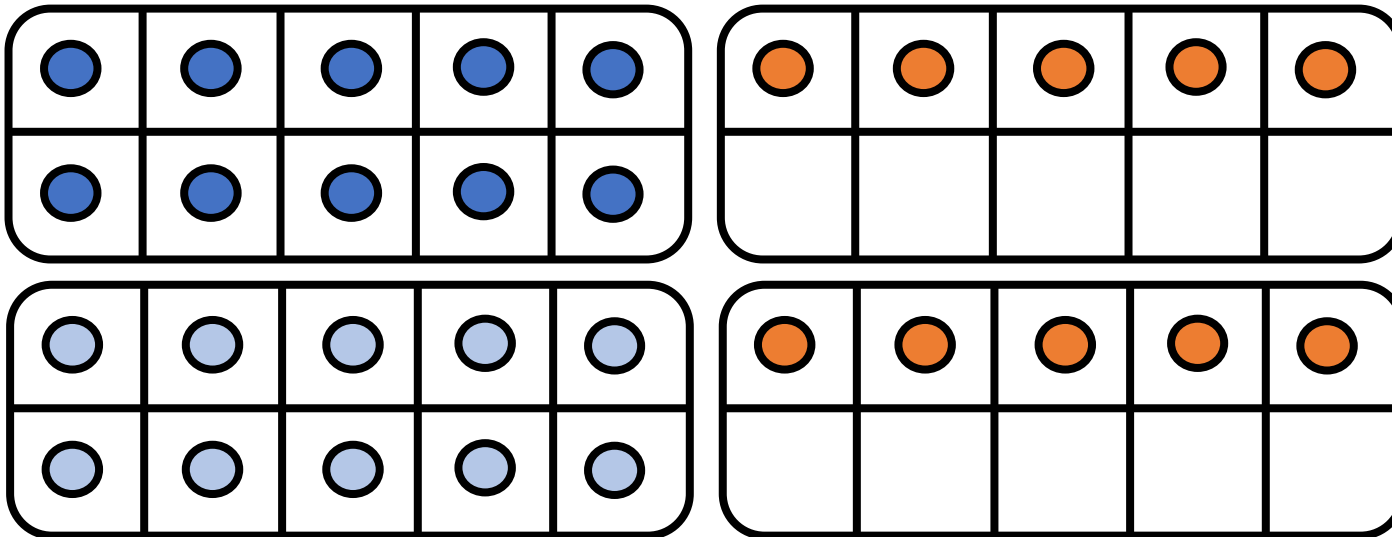
20





CM27: Connaitre les doubles jusqu'à 20 + 20


Quel est le double de 15 ?



$$15 + 15 = \underline{\hspace{2cm}}$$

$$10 + 5 + 10 + 5$$

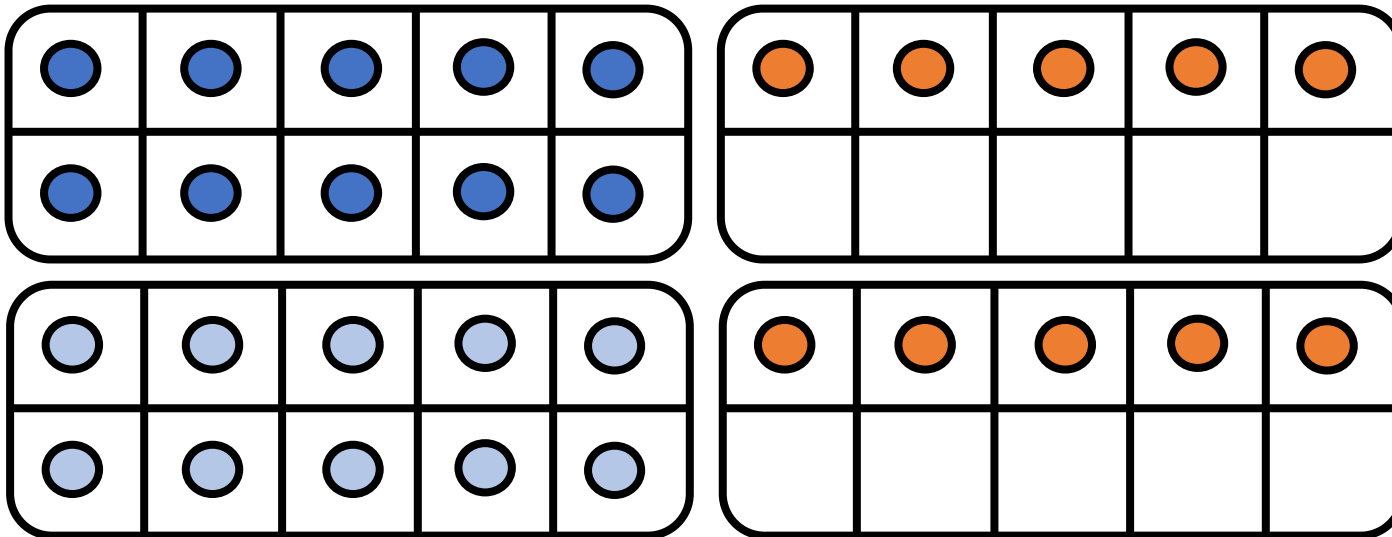
20






CM27: Connaitre les doubles jusqu'à 20 + 20

Quel est le double de 15 ?



$$15 + 15 = \underline{\hspace{2cm}}$$

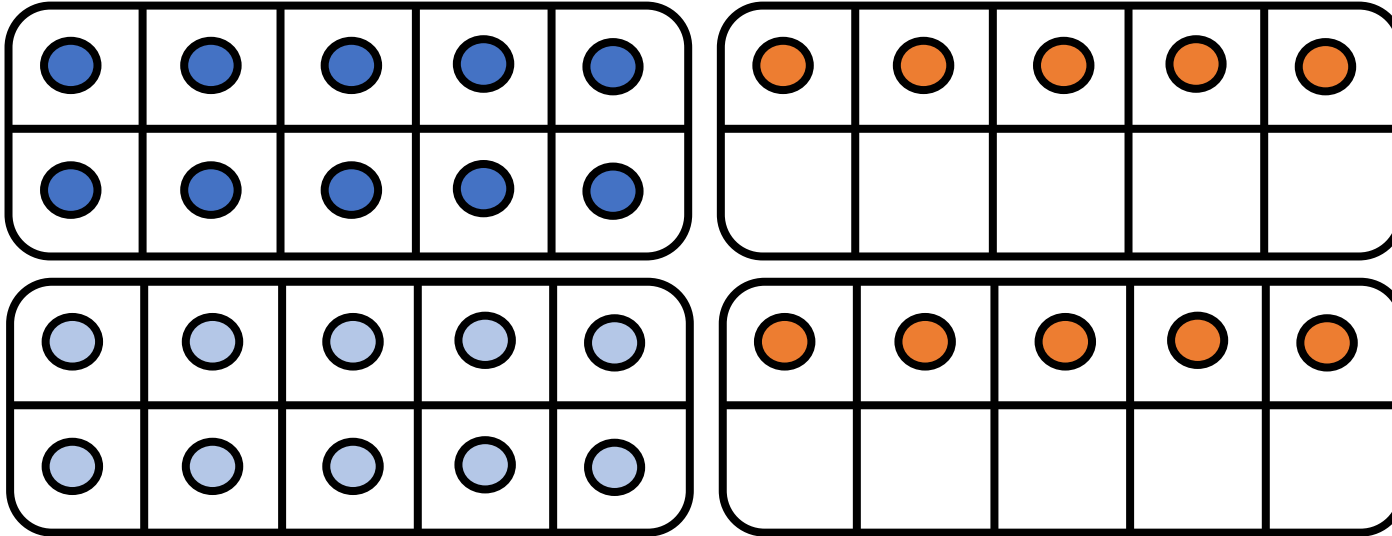
$$\begin{array}{ccccccc} 10 & + & 5 & + & 10 & + & 5 \\ & & / & & / & & / \\ & & 20 & + & 10 & & \end{array}$$






CM27: Connaitre les doubles jusqu'à 20 + 20

Quel est le double de 15 ?



$$15 + 15 = \underline{30}$$

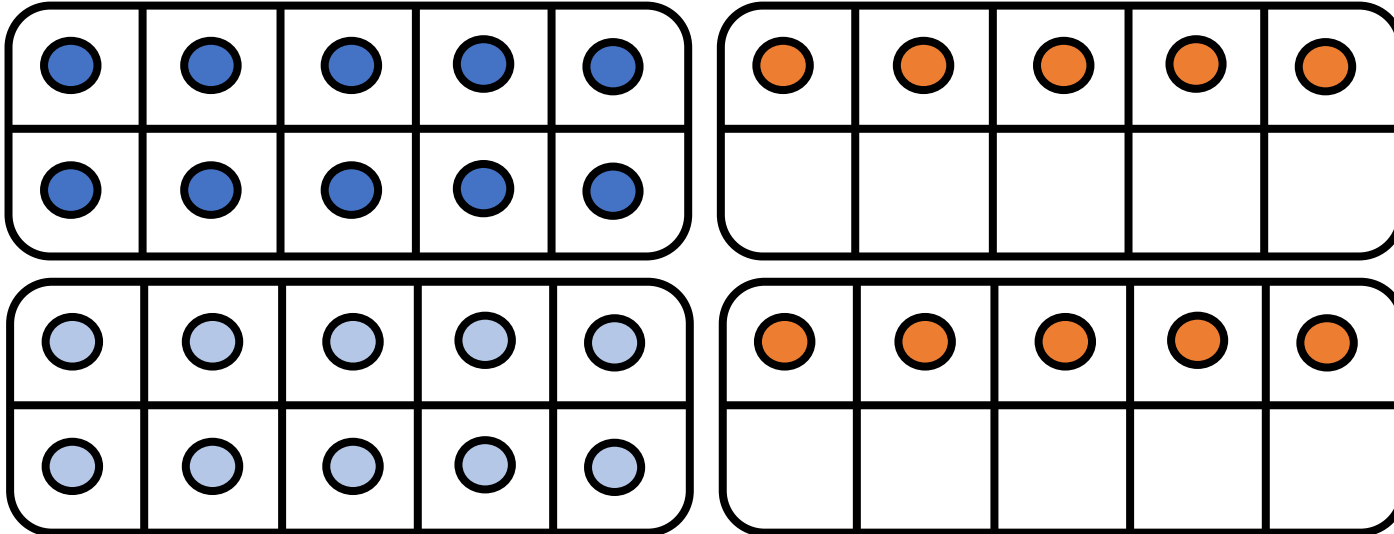
$$\begin{array}{ccccccc} 10 & + & 5 & + & 10 & + & 5 \\ & & / & & / & & / \\ & & 20 & + & 10 & & \end{array}$$





CM27: Connaitre les doubles jusqu'à 20 + 20

Quel est le double de 15 ?



$$15 + 15 = \underline{30}$$

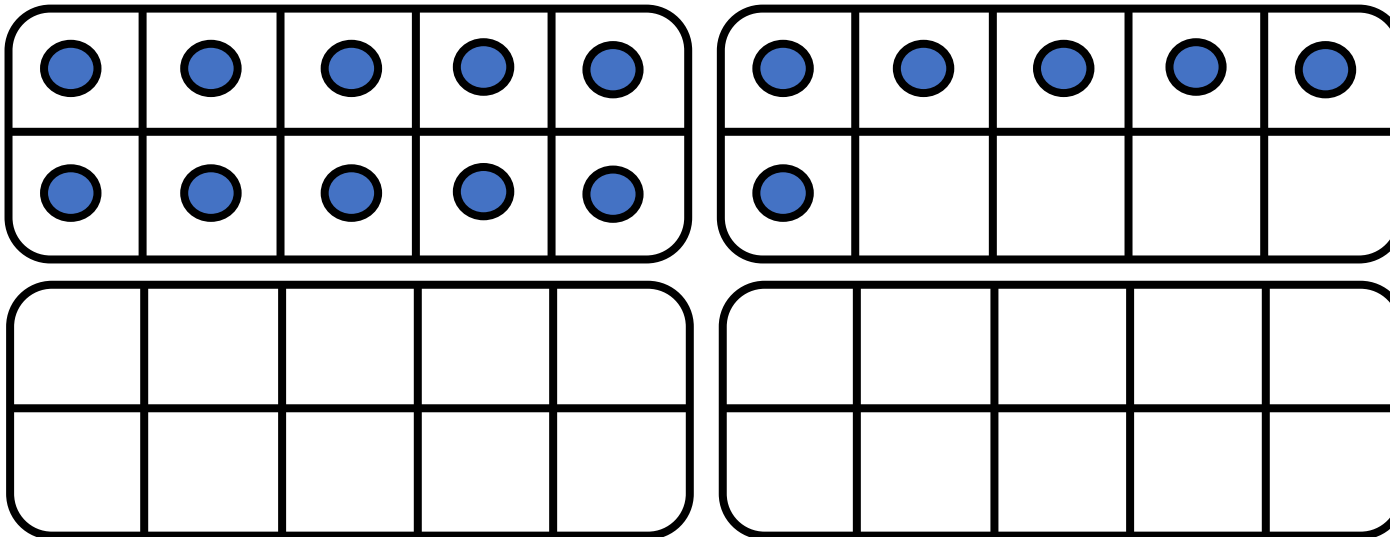
$$\begin{array}{ccccccc} 10 & + & 5 & + & 10 & + & 5 \\ & & / & & / & & / \\ & & 20 & + & 10 & & \end{array}$$

30




CM27: Connaitre les doubles jusqu'à 20 + 20

Quel est le double de 16 ?



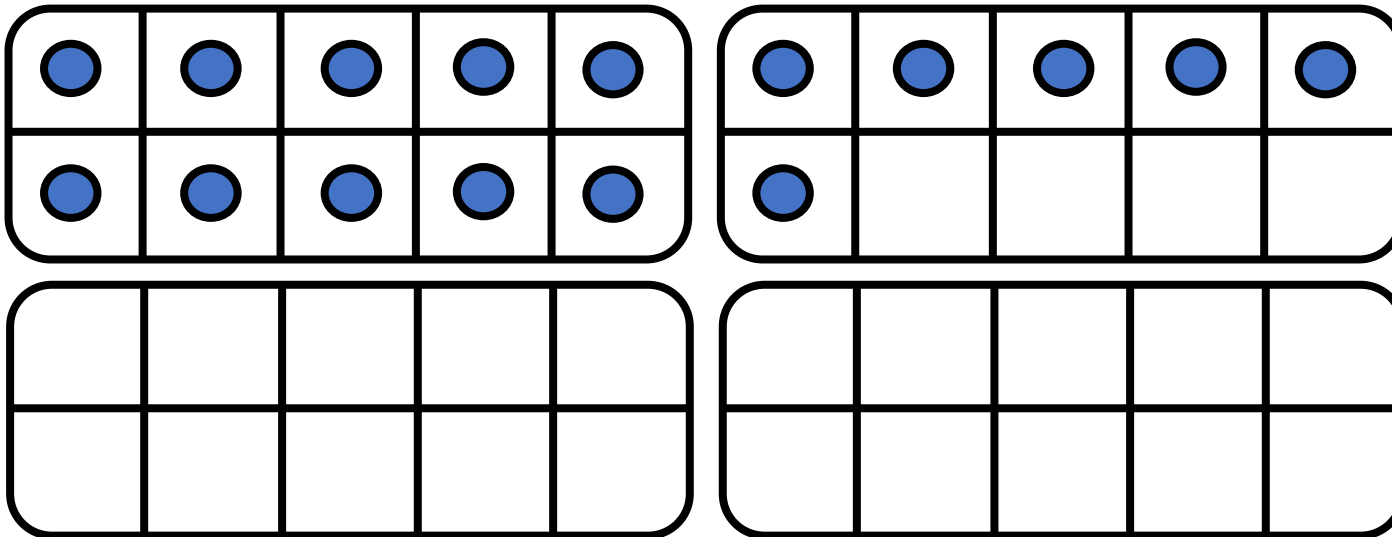
$$16 + 16 = \underline{\hspace{2cm}}$$






CM27: Connaitre les doubles jusqu'à 20 + 20

Quel est le double de 16 ?



$$16 + 16 = \underline{\hspace{2cm}}$$

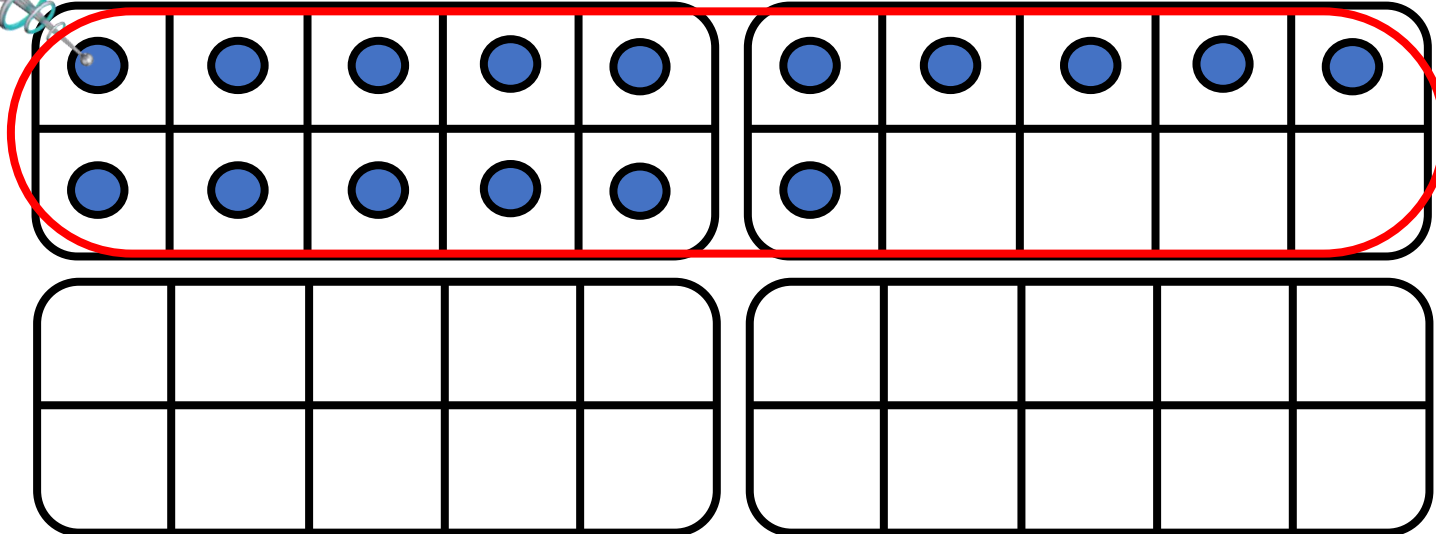
$$10 + 5 + 1$$






CM27: Connaitre les doubles jusqu'à 20 + 20

Quel est le double de 16 ?



$$16 + 16 = \underline{\hspace{2cm}}$$

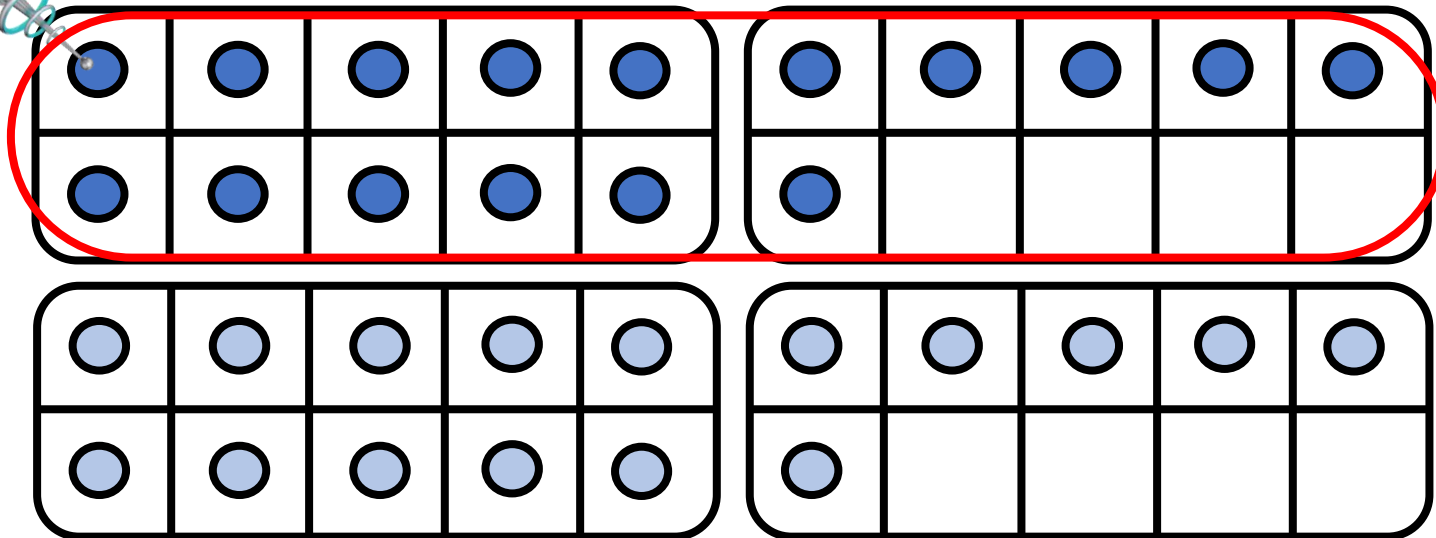
$$10 + 5 + 1 +$$






CM27: Connaitre les doubles jusqu'à 20 + 20

Quel est le double de 16 ?



$$16 + 16 = \underline{\hspace{2cm}}$$

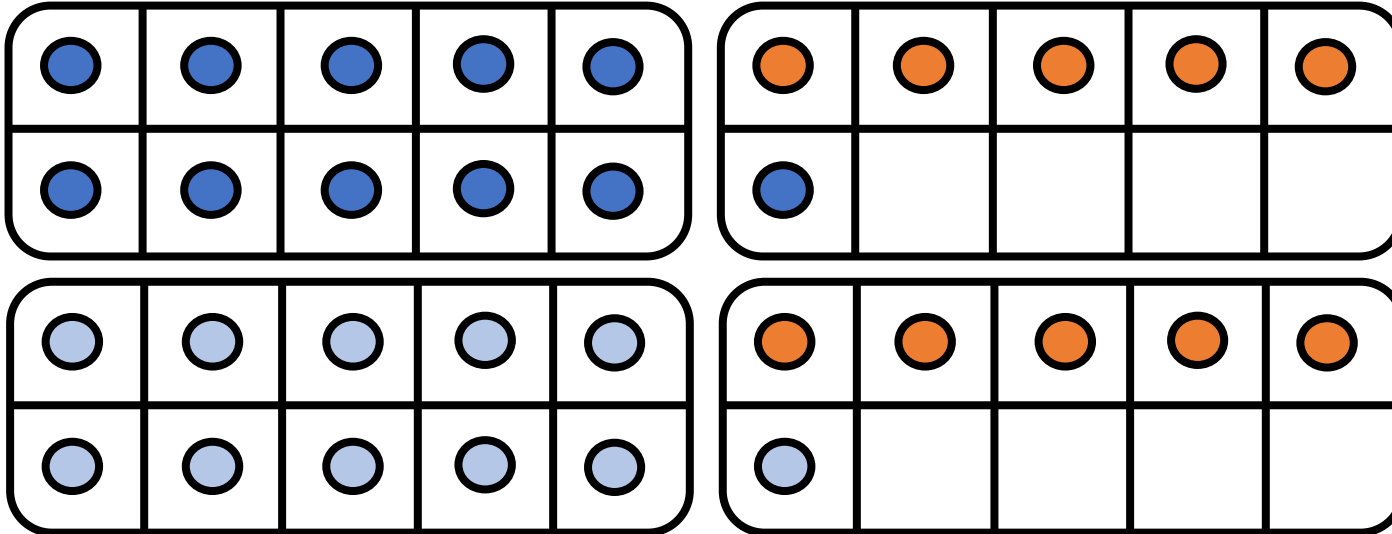
$$10 + 5 + 1 + 10 + 5 + 1$$






CM27: Connaitre les doubles jusqu'à 20 + 20

Quel est le double de 16 ?



$$16 + 16 = \underline{\hspace{2cm}}$$

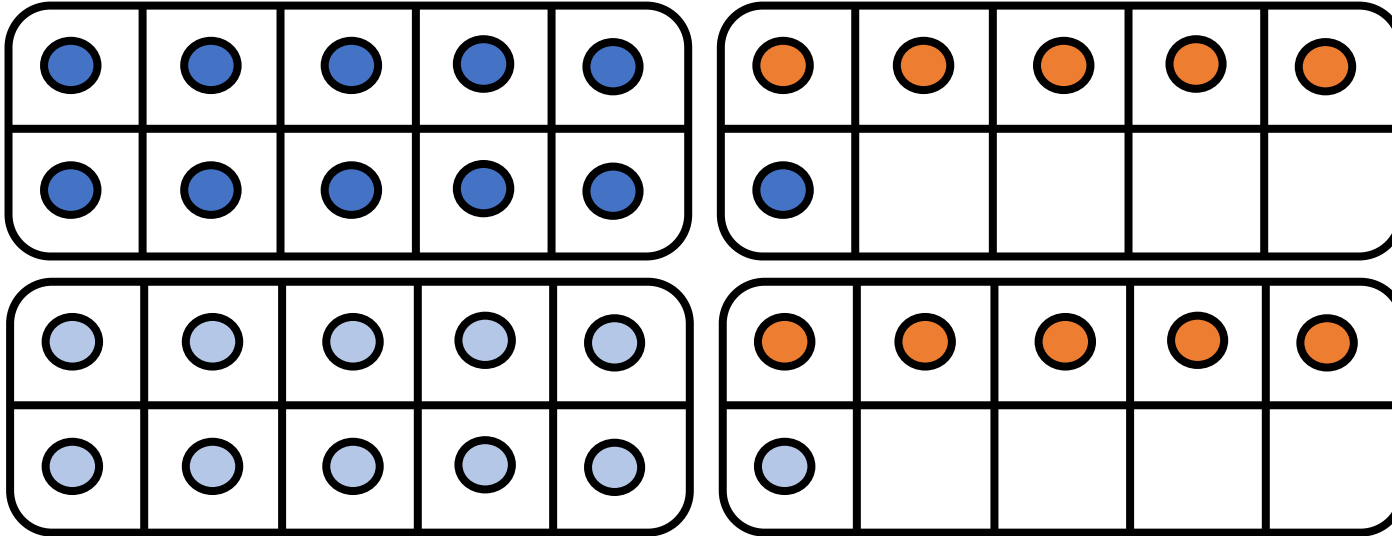
$$10 + 5 + 1 + 10 + 5 + 1$$






CM27: Connaitre les doubles jusqu'à 20 + 20

Quel est le double de 16 ?



$$16 + 16 = \underline{\hspace{2cm}}$$

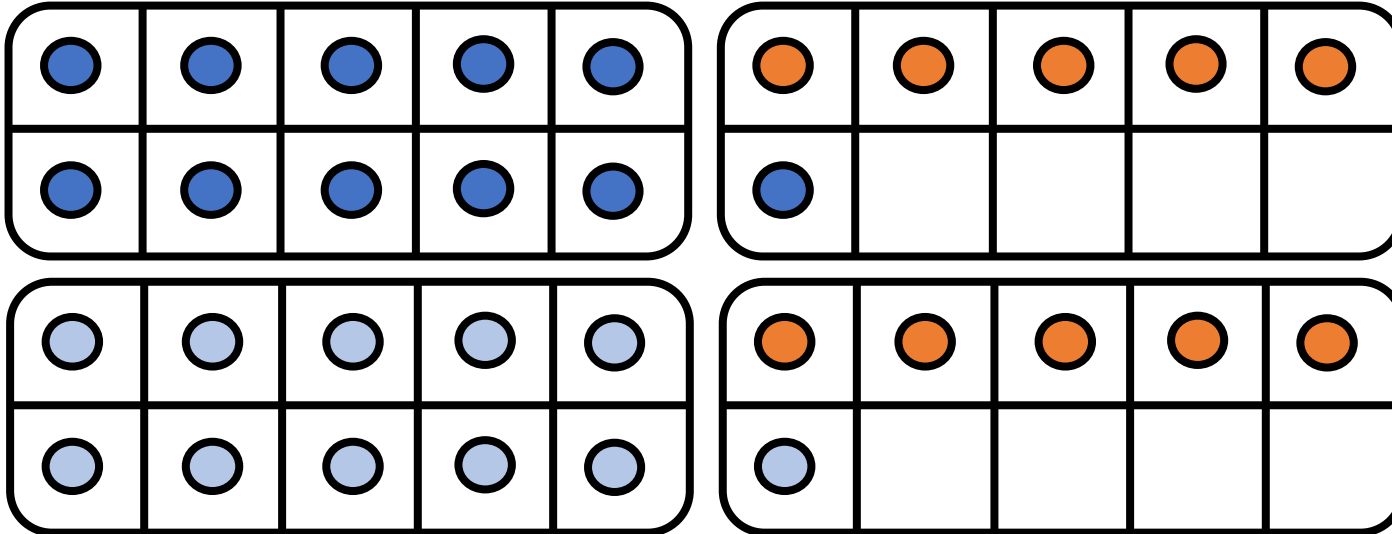
$$10 + 5 + 1 + 10 + 5 + 1 = 30$$





CM27: Connaitre les doubles jusqu'à 20 + 20

Quel est le double de 16 ?




$$16 + 16 = \underline{\hspace{2cm}}$$

$$10 + 5 + 1 + 10 + 5 + 1$$

Diagram showing the decomposition of 16 + 16 into 30 + 2. Lines connect the first 10, 5, and 1 to the 30, and the second 10, 5, and 1 to the 2.

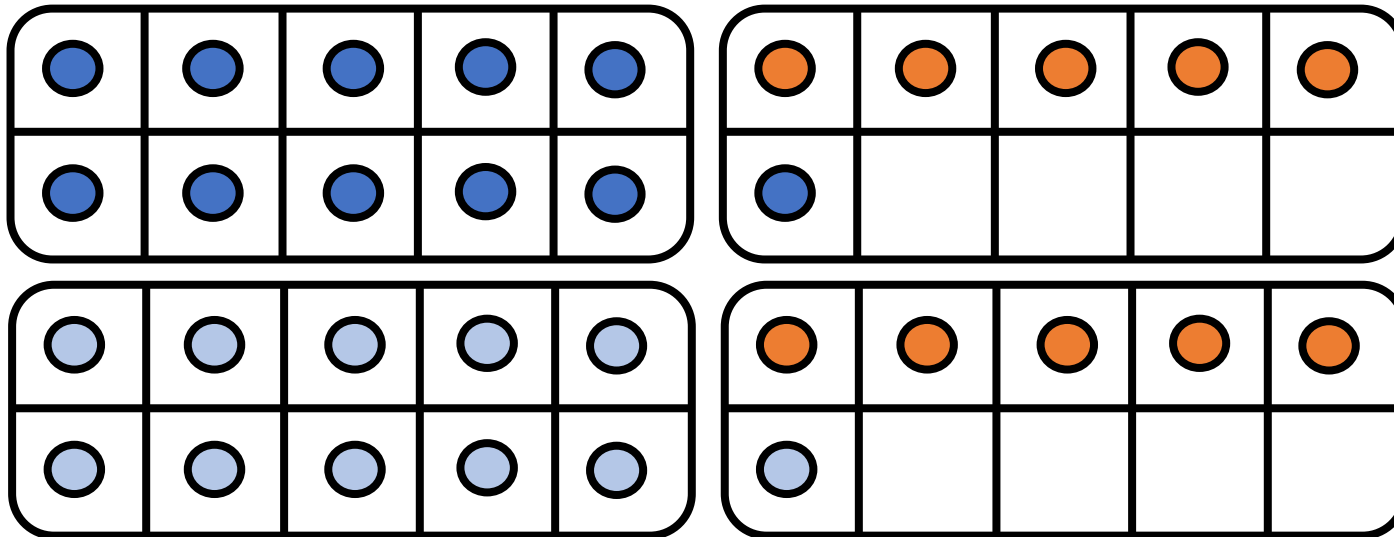
$$30 + 2$$






CM27: Connaitre les doubles jusqu'à 20 + 20

Quel est le double de 16 ?



$$16 + 16 = \underline{32}$$

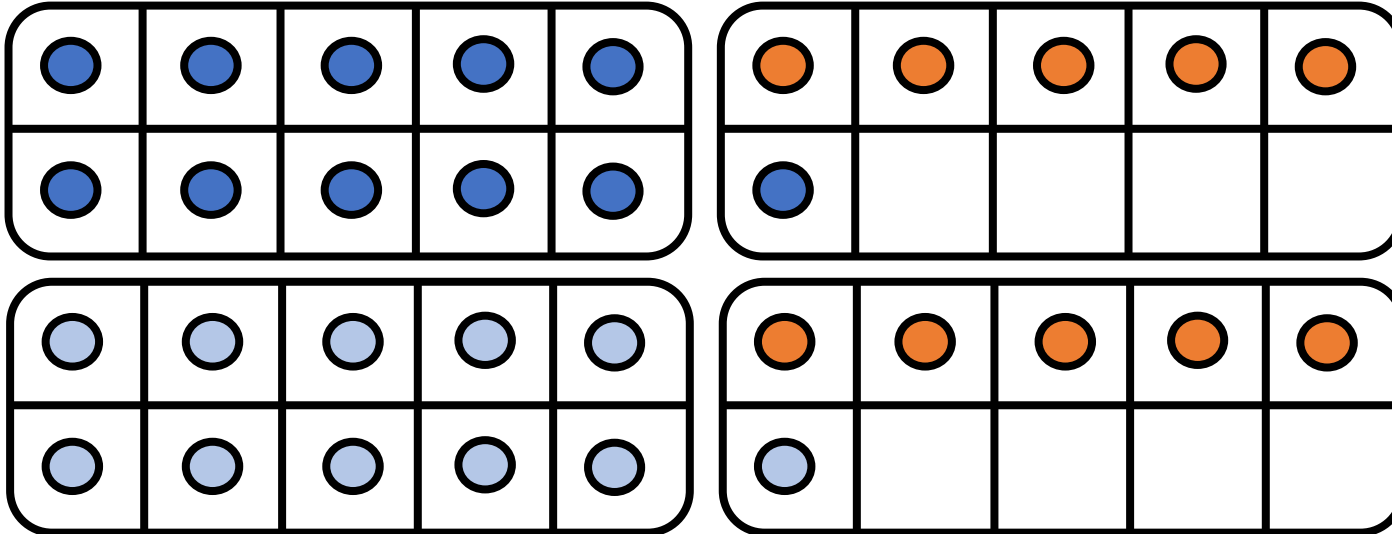
$$10 + 5 + 1 + 10 + 5 + 1 = 30 + 2$$





CM27: Connaitre les doubles jusqu'à 20 + 20

Quel est le double de 16 ?



$$16 + 16 = \underline{32}$$

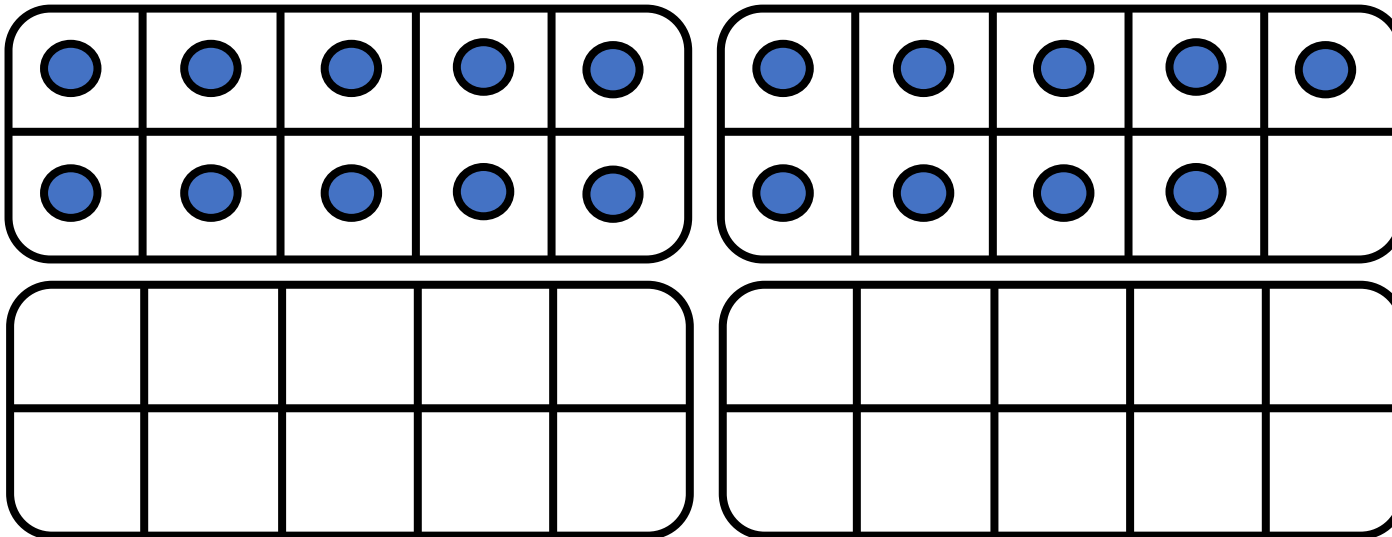
$$10 + 5 + 1 + 10 + 5 + 1 = 30 + 2 = 32$$

32




CM27: Connaitre les doubles jusqu'à 20 + 20

Quel est le double de 19 ?



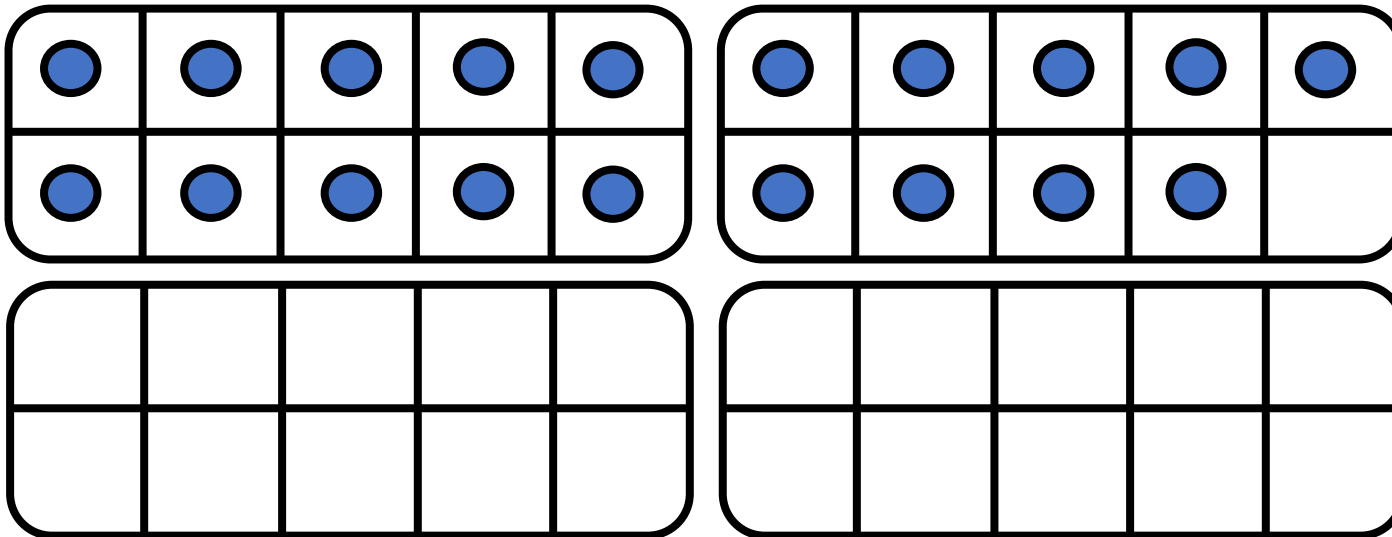
$$19 + 19 = \underline{\hspace{2cm}}$$






CM27: Connaitre les doubles jusqu'à 20 + 20

Quel est le double de 19 ?



$$19 + 19 = \underline{\hspace{2cm}}$$

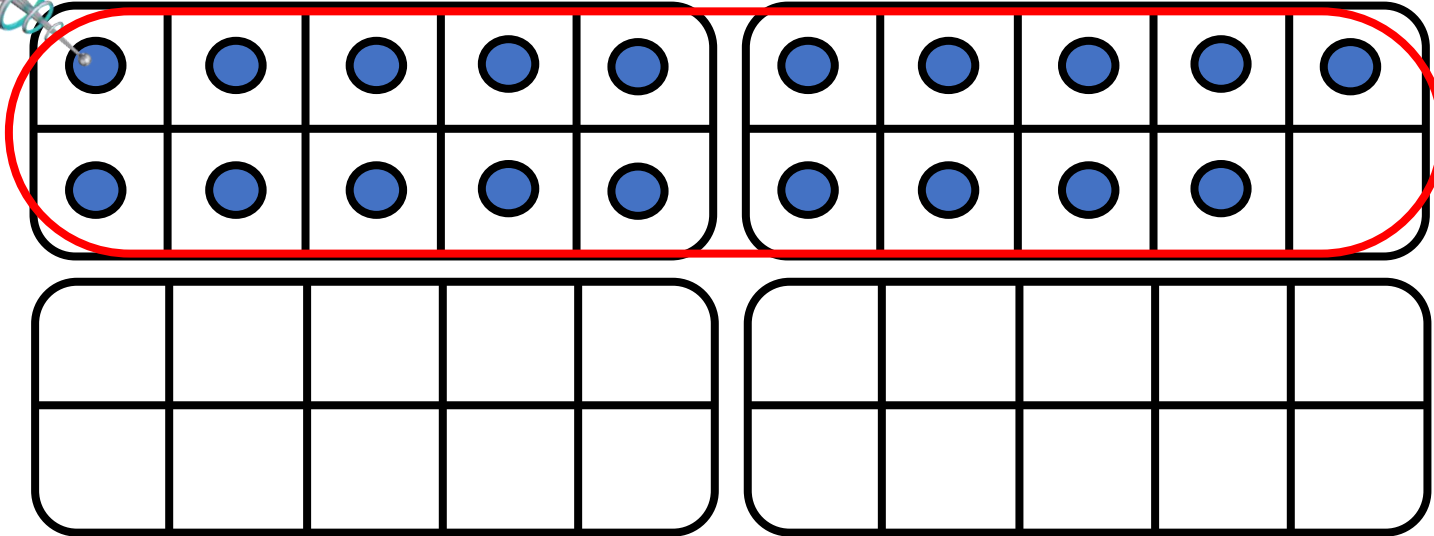
$$10 + 5 + 4$$






CM27: Connaitre les doubles jusqu'à 20 + 20

Quel est le double de 19 ?



$$19 + 19 = \underline{\hspace{2cm}}$$

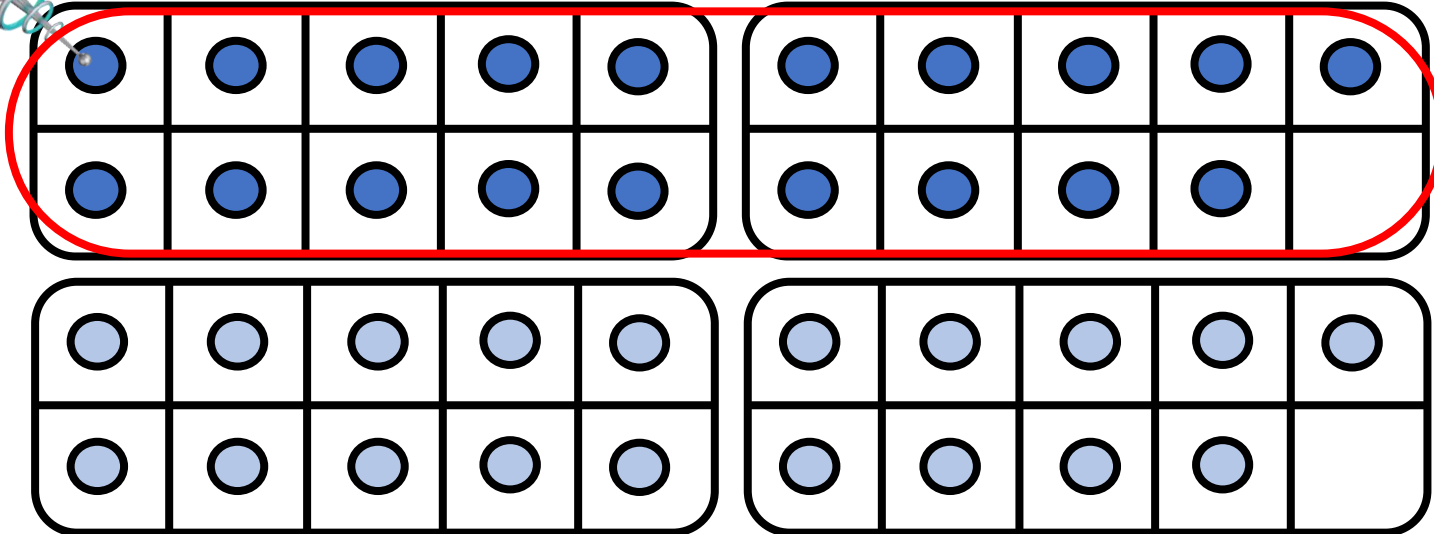
$$10 + 5 + 4 +$$






CM27: Connaitre les doubles jusqu'à 20 + 20

Quel est le double de 19 ?



$$19 + 19 = \underline{\hspace{2cm}}$$

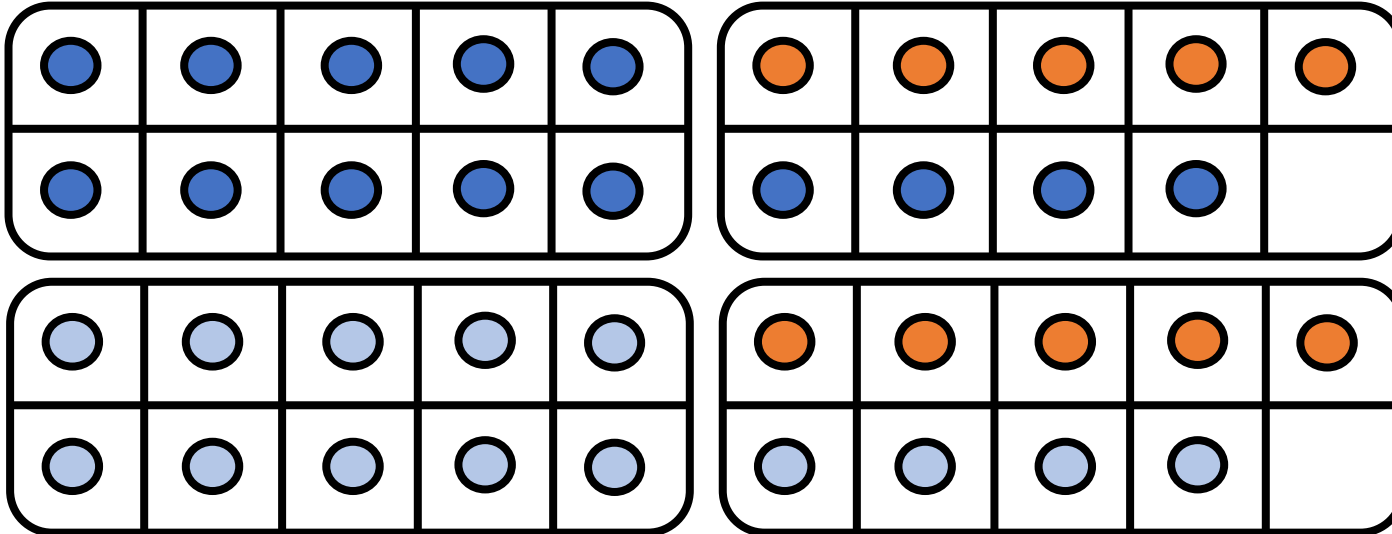
$$10 + 5 + 4 + 10 + 5 + 4$$






CM27: Connaitre les doubles jusqu'à 20 + 20

Quel est le double de 19 ?



$$19 + 19 = \underline{\hspace{2cm}}$$

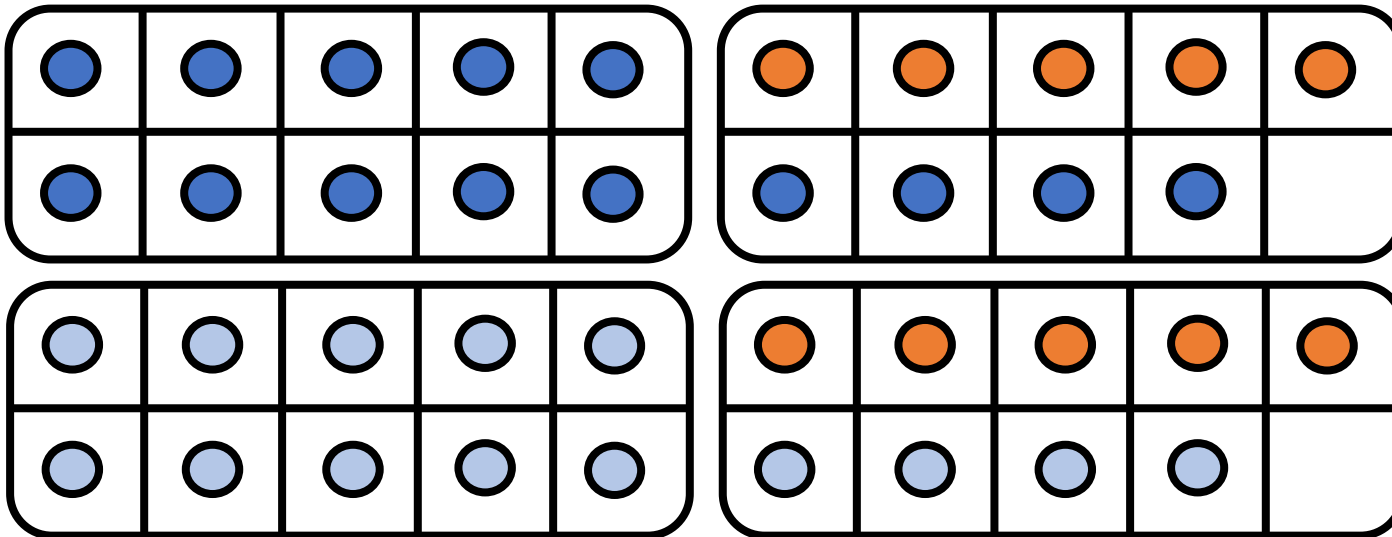
$$10 + 5 + 4 + 10 + 5 + 4$$





CM27: Connaitre les doubles jusqu'à 20 + 20


Quel est le double de 19 ?



$$19 + 19 = \underline{\hspace{2cm}}$$

$$10 + 5 + 4 + 10 + 5 + 4$$

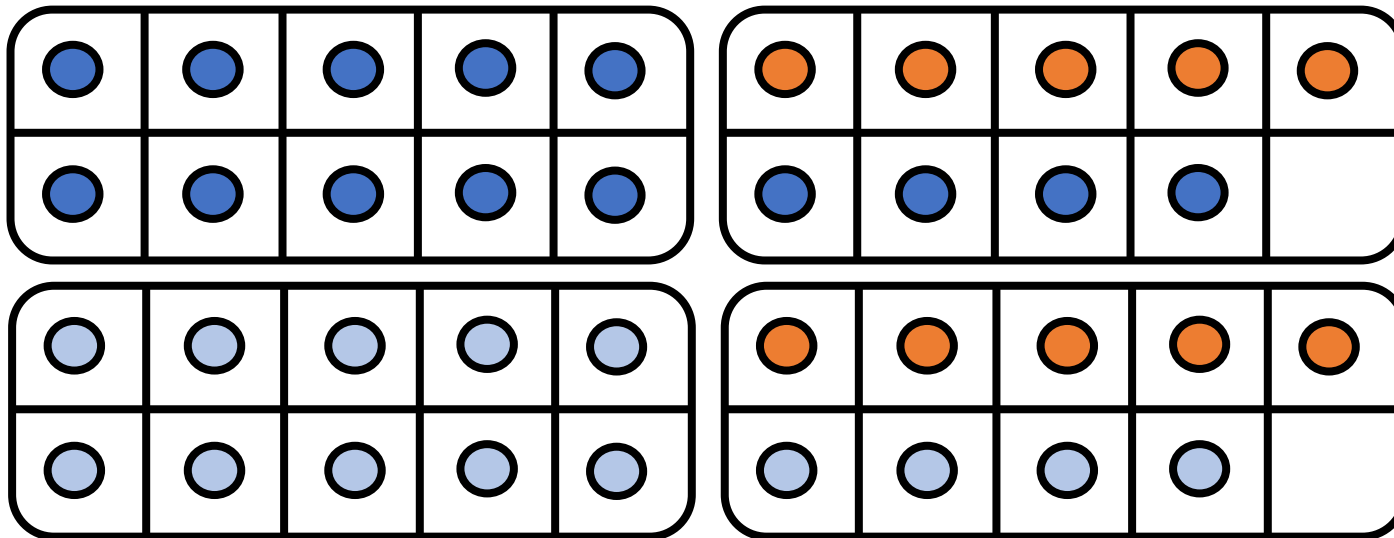
30






CM27: Connaitre les doubles jusqu'à 20 + 20

Quel est le double de 19 ?



$$19 + 19 = \underline{\hspace{2cm}}$$

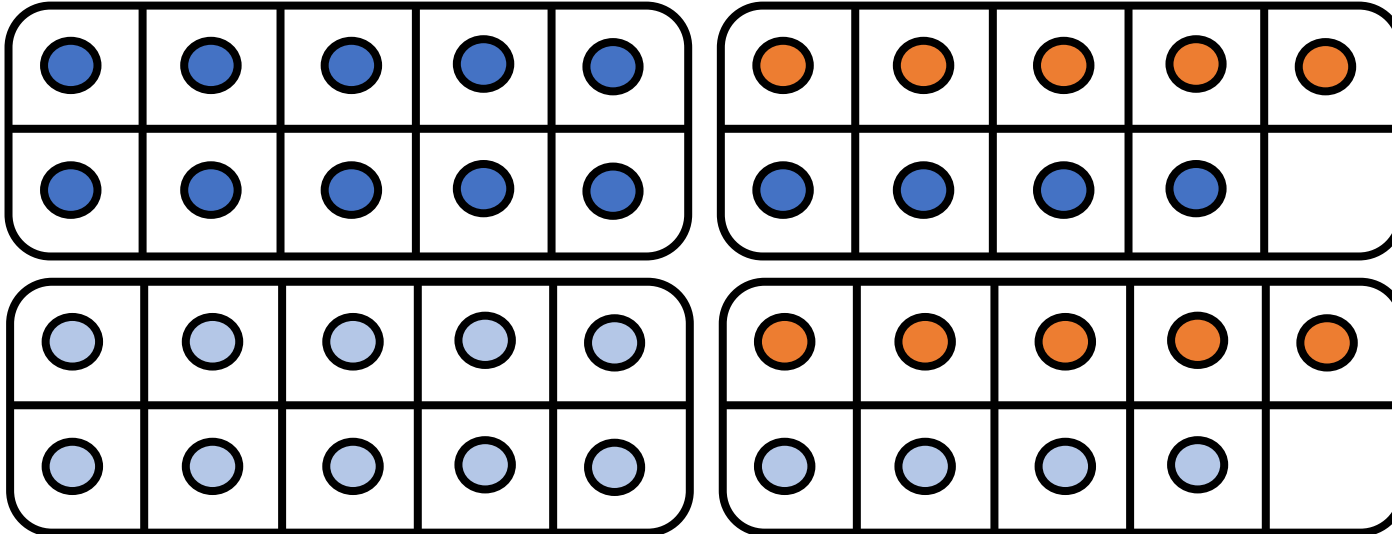
$$\begin{array}{ccccccccccc} 10 & + & 5 & + & 4 & + & 10 & + & 5 & + & 4 \\ & & \diagdown & & \diagup & & \diagdown & & \diagup & & \diagdown & & \diagup \\ & & & & & & 30 & + & 8 & & & & \end{array}$$






CM27: Connaitre les doubles jusqu'à 20 + 20

Quel est le double de 19 ?



$$19 + 19 = \underline{38}$$

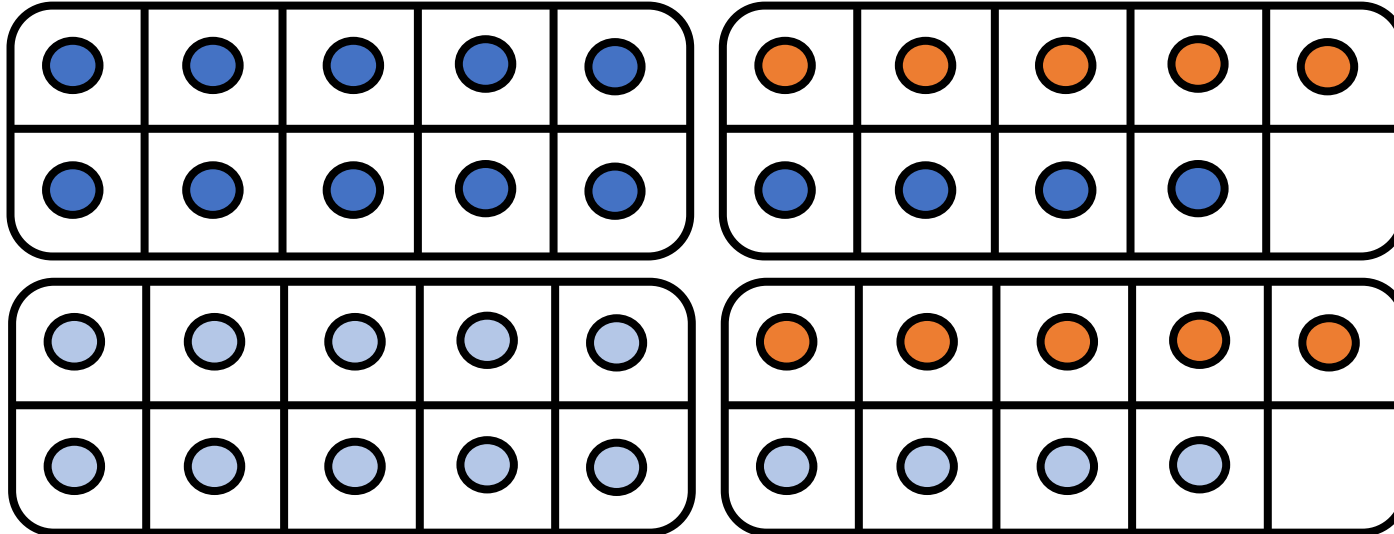
$$\begin{array}{cccccccc} 10 & + & 5 & + & 4 & + & 10 & + & 5 & + & 4 \\ & & \diagdown & & \diagup & & \diagdown & & \diagup & & \diagdown \\ & & & & & & 30 & + & 8 & & \end{array}$$





CM27: Connaitre les doubles jusqu'à 20 + 20

Quel est le double de 19 ?



$$19 + 19 = \underline{38}$$

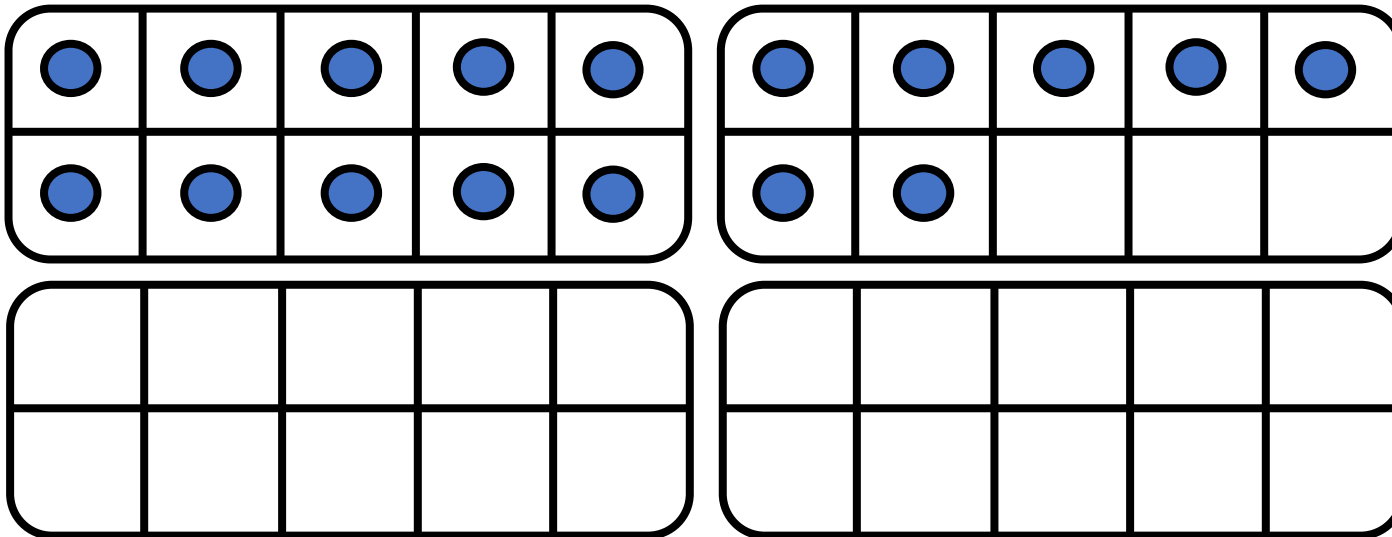
$$\begin{array}{ccccccccccc} 10 & + & 5 & + & 4 & + & 10 & + & 5 & + & 4 \\ & & \diagdown & & \diagup & & \diagdown & & \diagup & & \diagdown & & \diagup \\ & & & & & & 30 & + & 8 & & & & \end{array}$$

38




CM27: Connaitre les doubles jusqu'à 20 + 20

Quel est le double de 17 ?



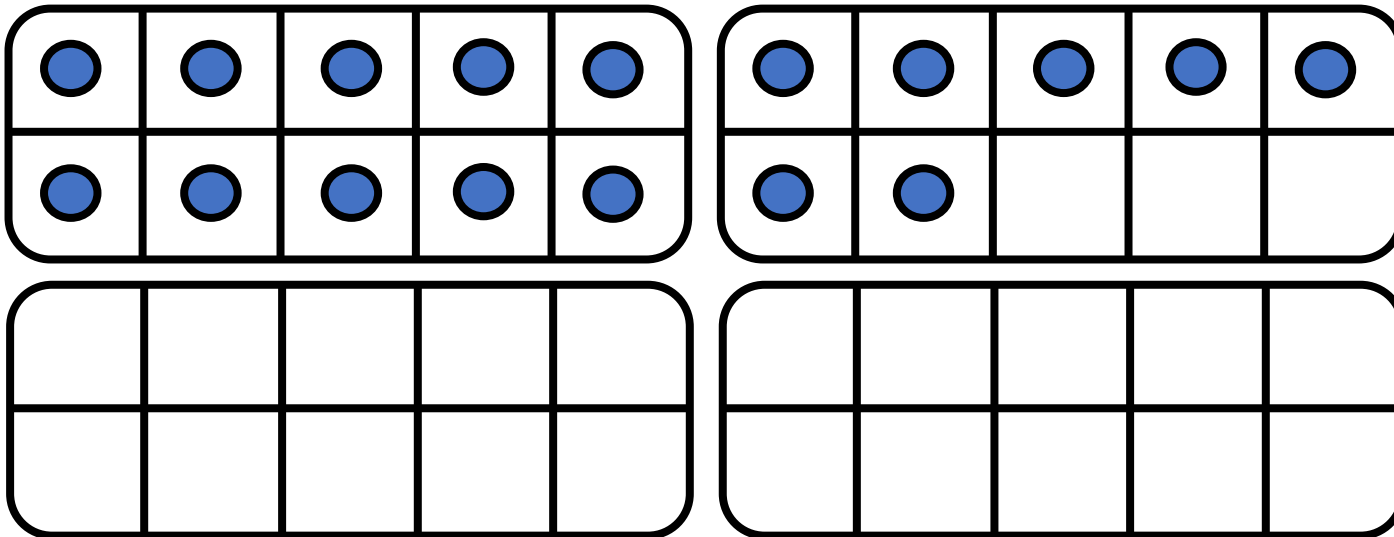
$$17 + 17 = \underline{\hspace{2cm}}$$






CM27: Connaitre les doubles jusqu'à 20 + 20

Quel est le double de 17 ?




$$17 + 17 = \underline{\hspace{2cm}}$$

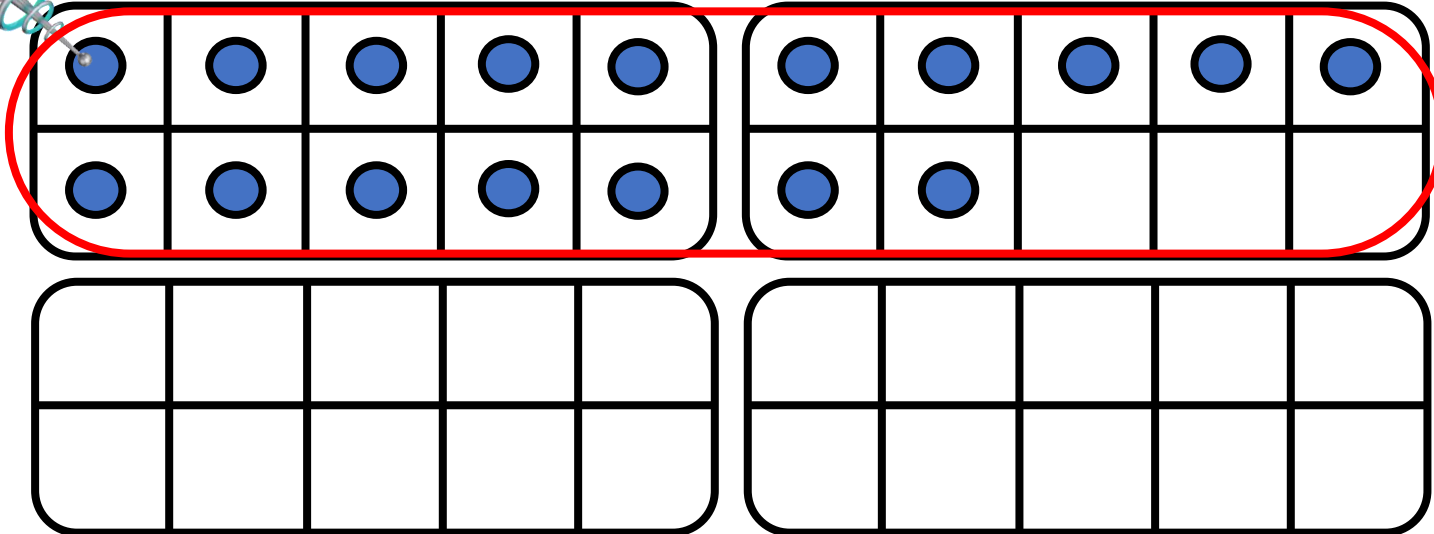
$$10 + 5 + 2$$



CM27: Connaitre les doubles jusqu'à 20 + 20




Quel est le double de 17 ?



$$17 + 17 = \underline{\hspace{2cm}}$$

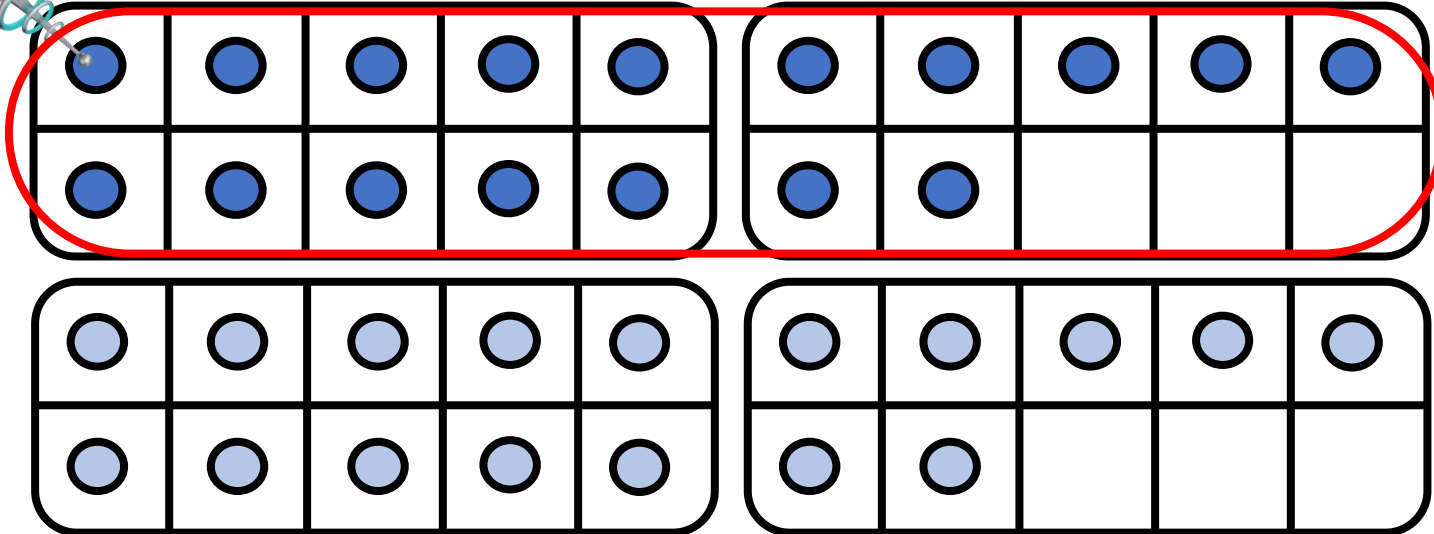
$$10 + 5 + 2 +$$






CM27: Connaitre les doubles jusqu'à 20 + 20

Quel est le double de 17 ?



$$17 + 17 = \underline{\hspace{2cm}}$$

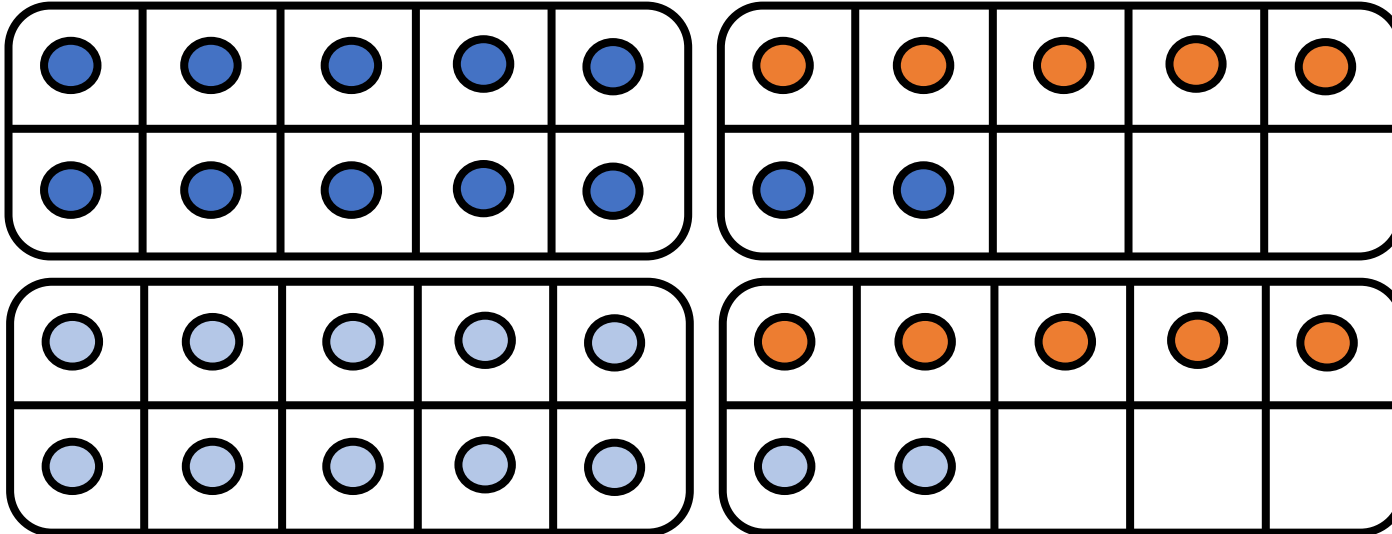
$$10 + 5 + 2 + 10 + 5 + 2$$






CM27: Connaitre les doubles jusqu'à 20 + 20

Quel est le double de 17 ?



$$17 + 17 = \underline{\hspace{2cm}}$$

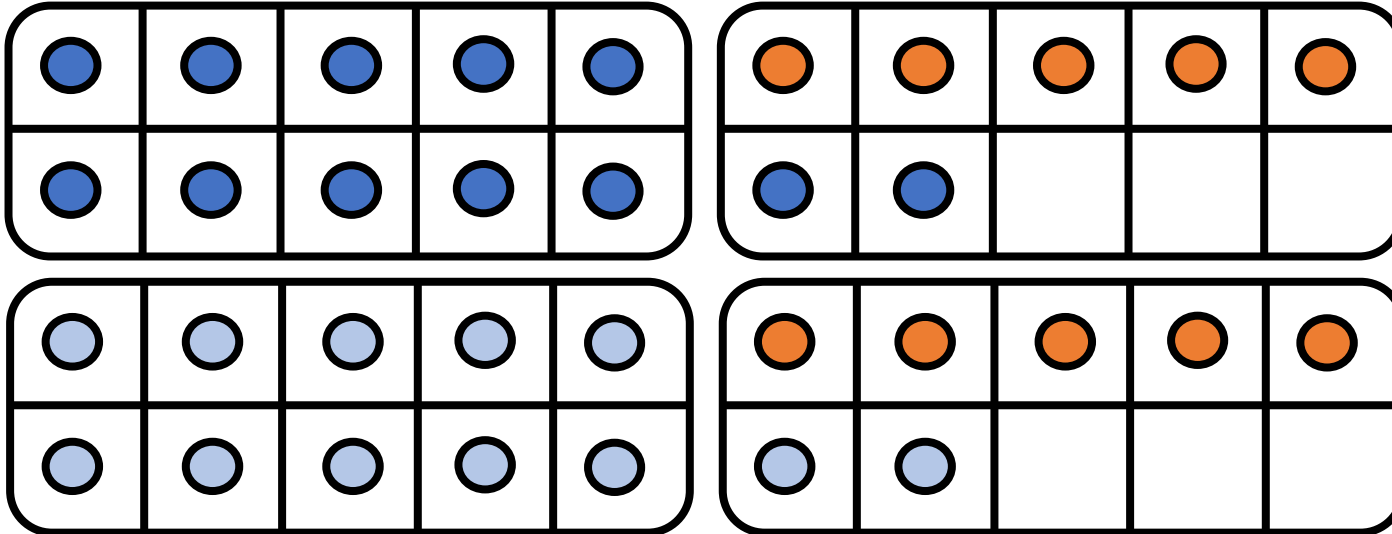
$$10 + 5 + 2 + 10 + 5 + 2$$






CM27: Connaitre les doubles jusqu'à 20 + 20

Quel est le double de 17 ?



$$17 + 17 = \underline{\hspace{2cm}}$$

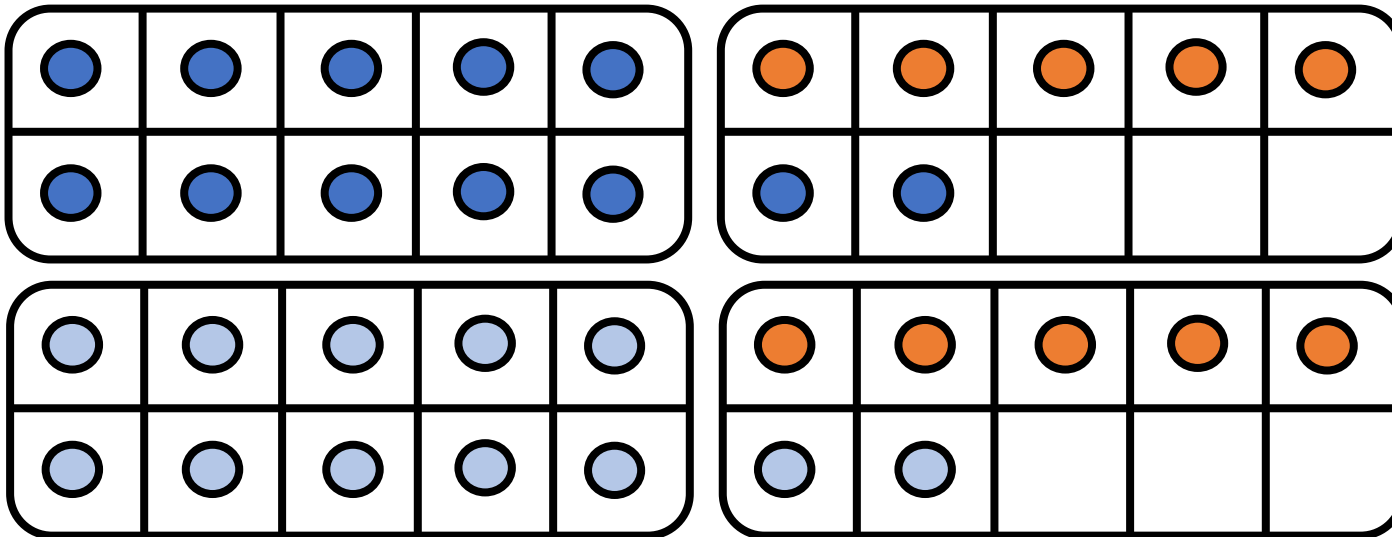
$$10 + 5 + 2 + 10 + 5 + 2 = 30$$





CM27: Connaitre les doubles jusqu'à 20 + 20


Quel est le double de 17 ?



$$17 + 17 = \underline{\hspace{2cm}}$$

$$10 + 5 + 2 + 10 + 5 + 2$$

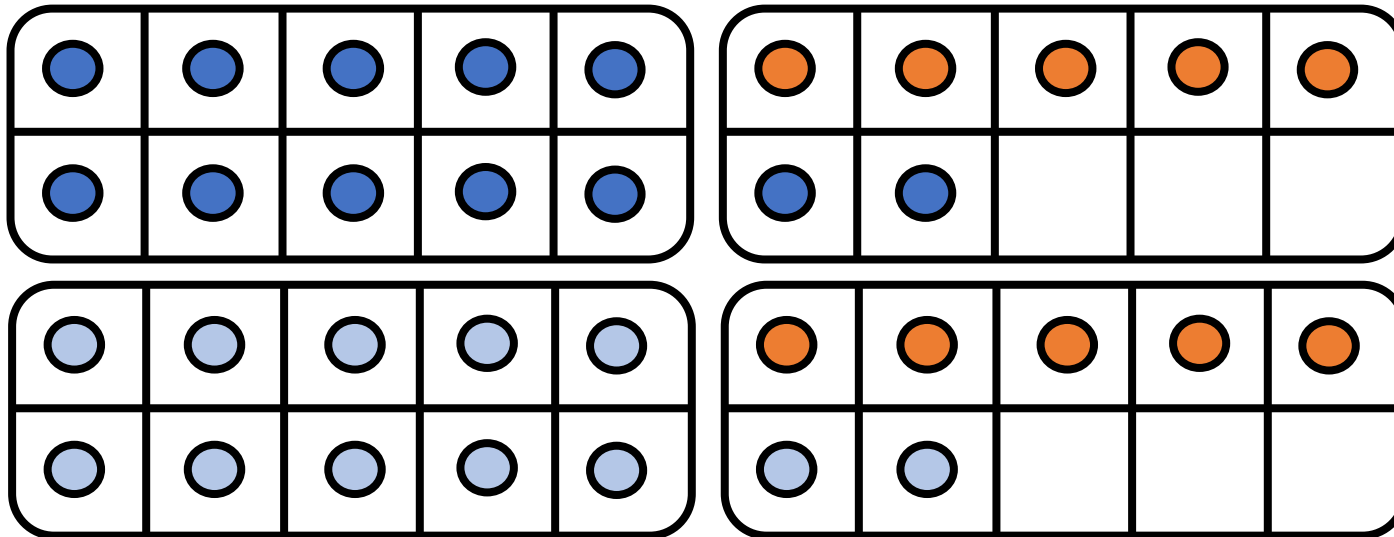
30 + 4






CM27: Connaitre les doubles jusqu'à 20 + 20

Quel est le double de 17 ?



$$17 + 17 = \underline{34}$$

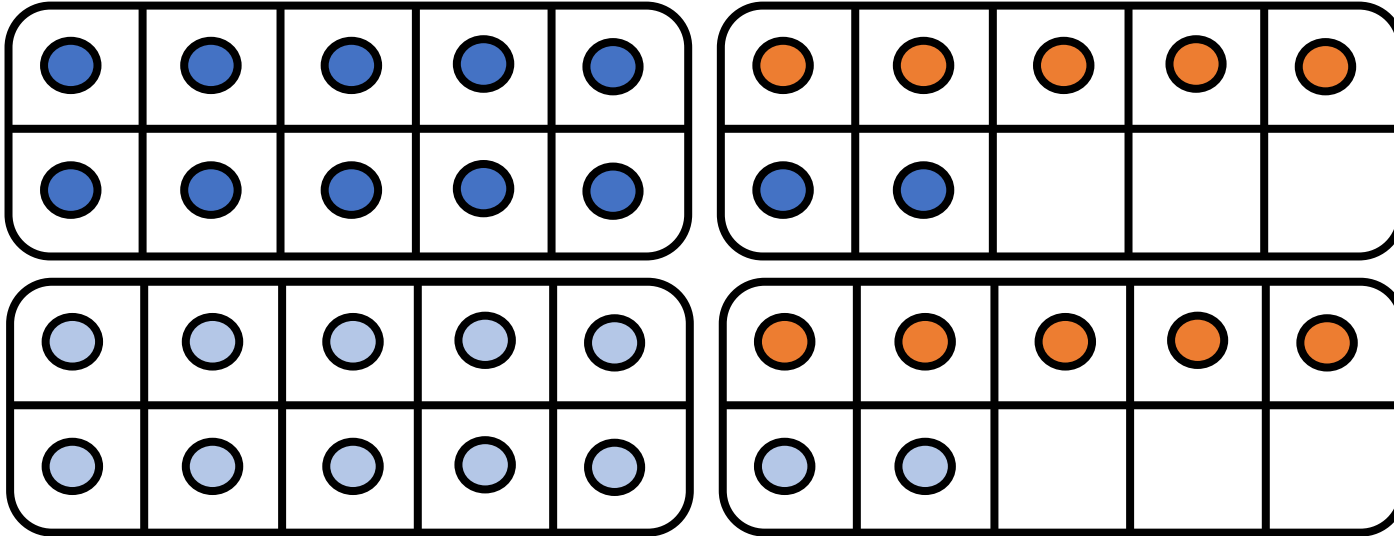
$$10 + 5 + 2 + 10 + 5 + 2 = 30 + 4$$





CM27: Connaitre les doubles jusqu'à 20 + 20

Quel est le double de 17 ?



$$17 + 17 = \underline{34}$$

$$10 + 5 + 2 + 10 + 5 + 2$$

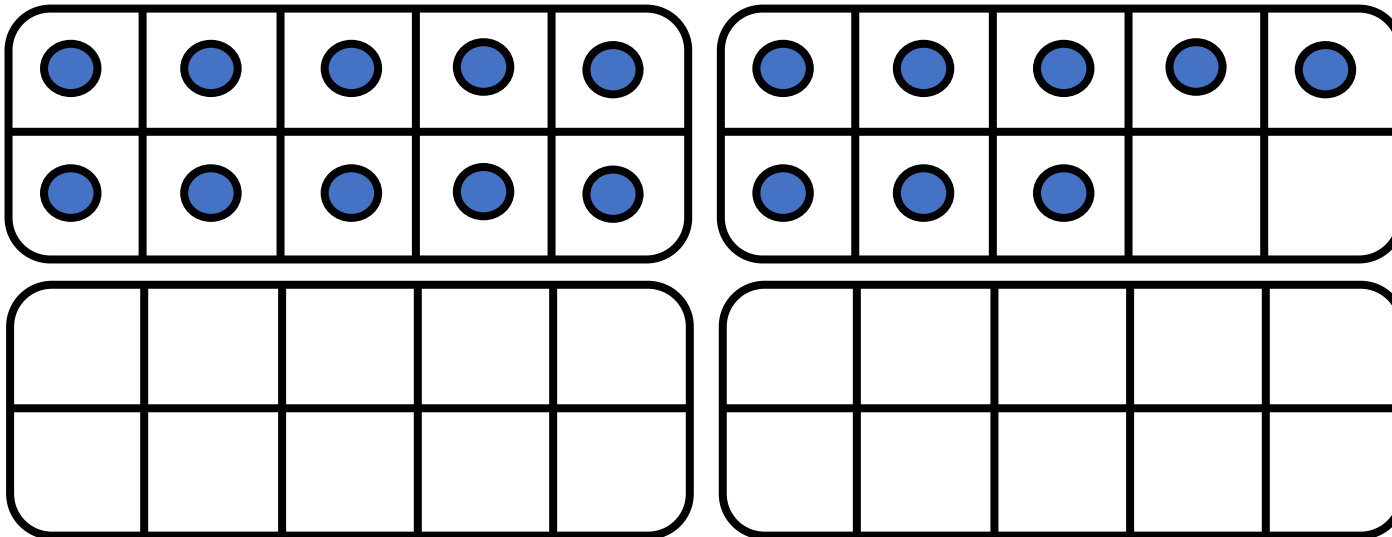
30 + 4

34




CM27: Connaitre les doubles jusqu'à 20 + 20

Quel est le double de 18 ?



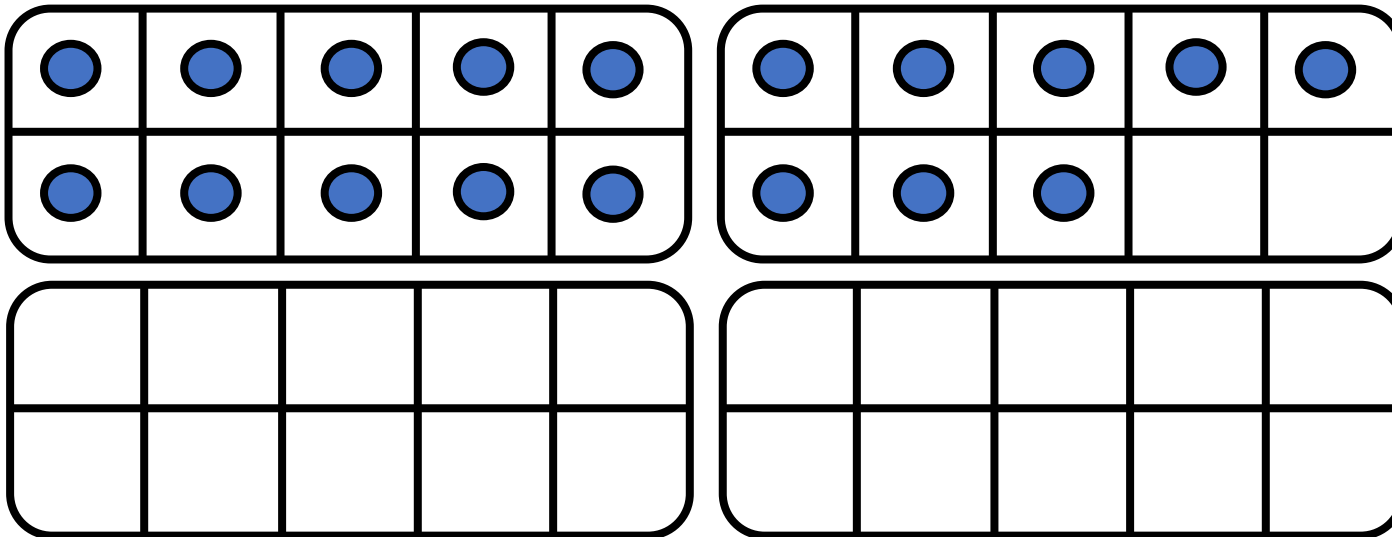
$$18 + 18 = \underline{\hspace{2cm}}$$






CM27: Connaitre les doubles jusqu'à 20 + 20

Quel est le double de 18 ?



$$18 + 18 = \underline{\hspace{2cm}}$$

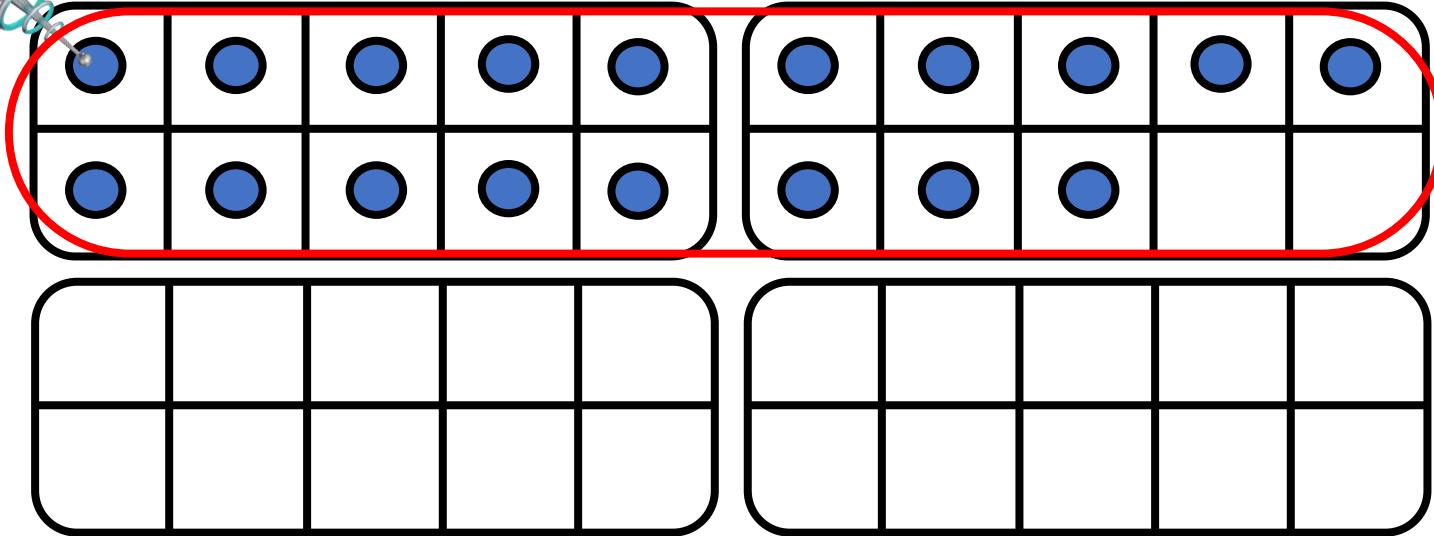
$$10 + 5 + 3$$






CM27: Connaitre les doubles jusqu'à 20 + 20

Quel est le double de 18 ?



$$18 + 18 = \underline{\hspace{2cm}}$$

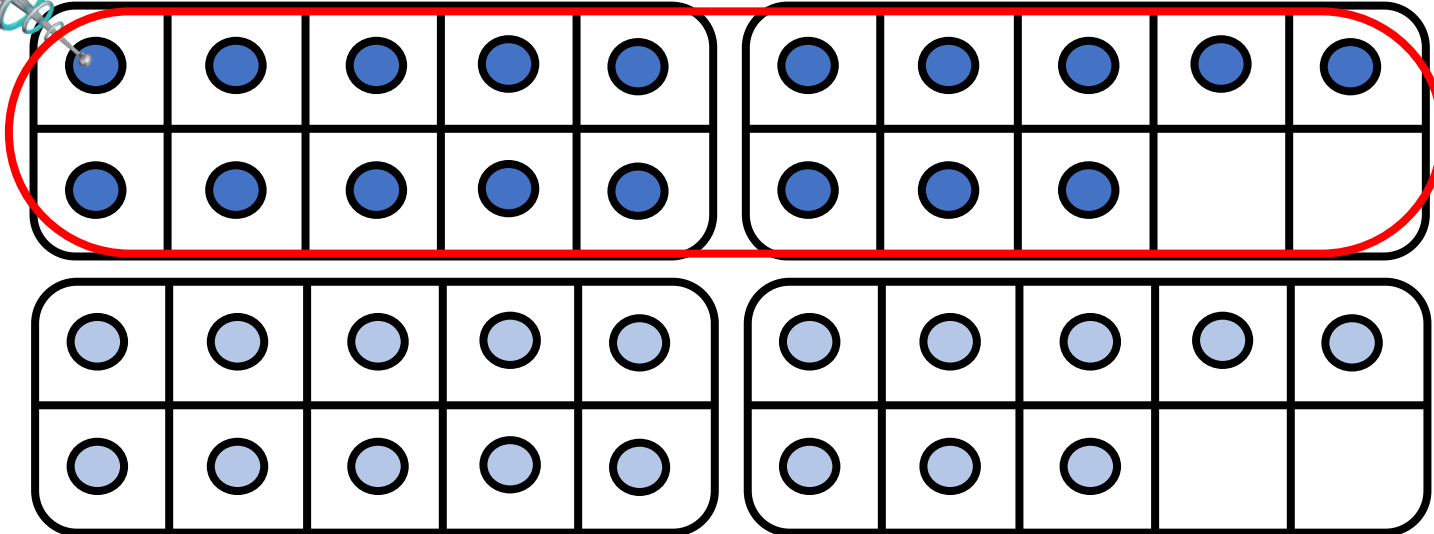
$$10 + 5 + 3 +$$






CM27: Connaitre les doubles jusqu'à 20 + 20

Quel est le double de 18 ?



$$18 + 18 = \underline{\hspace{2cm}}$$

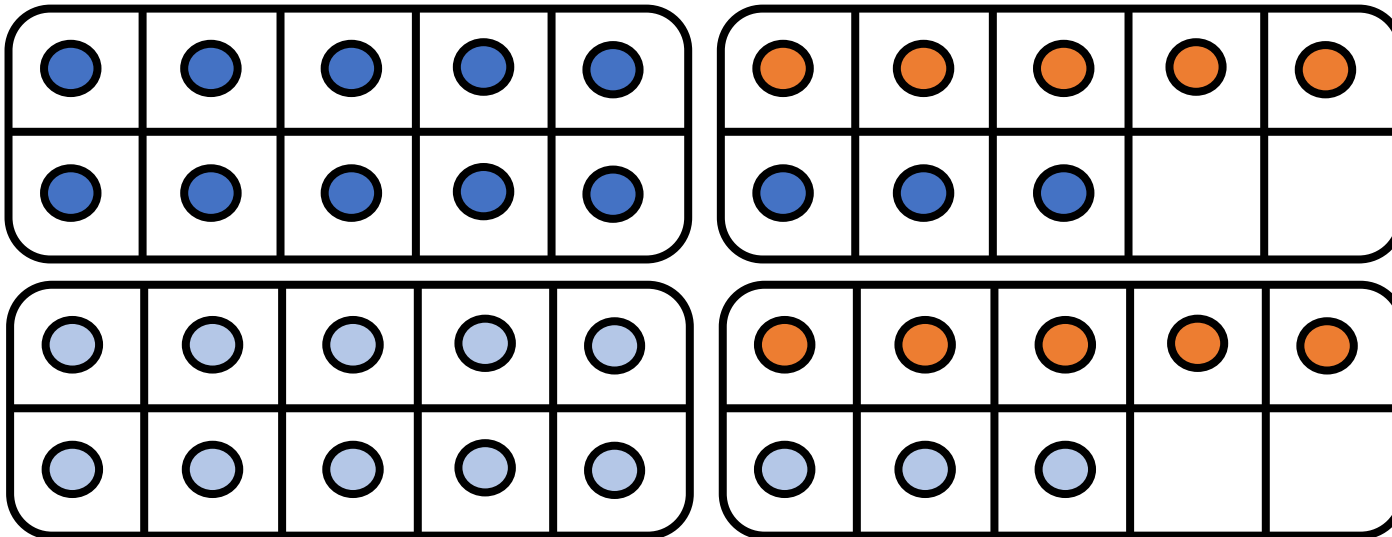
$$10 + 5 + 3 + 10 + 5 + 3$$






CM27: Connaitre les doubles jusqu'à 20 + 20

Quel est le double de 18 ?



$$18 + 18 = \underline{\hspace{2cm}}$$

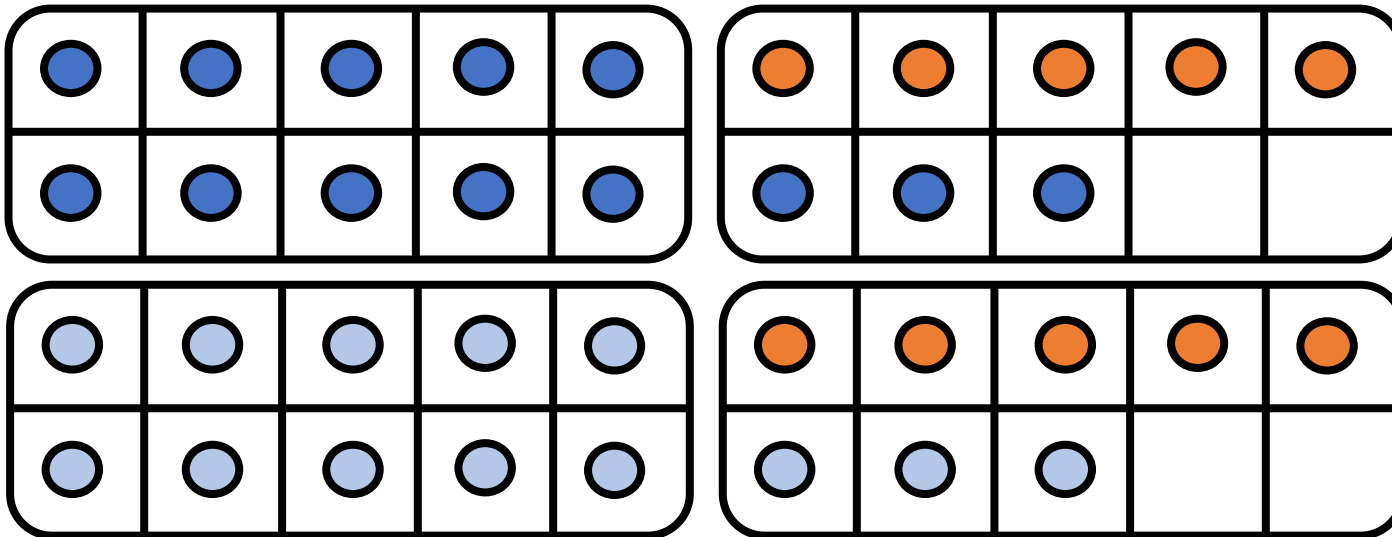
$$10 + 5 + 3 + 10 + 5 + 3$$






CM27: Connaitre les doubles jusqu'à 20 + 20

Quel est le double de 18 ?



$$18 + 18 = \underline{\hspace{2cm}}$$

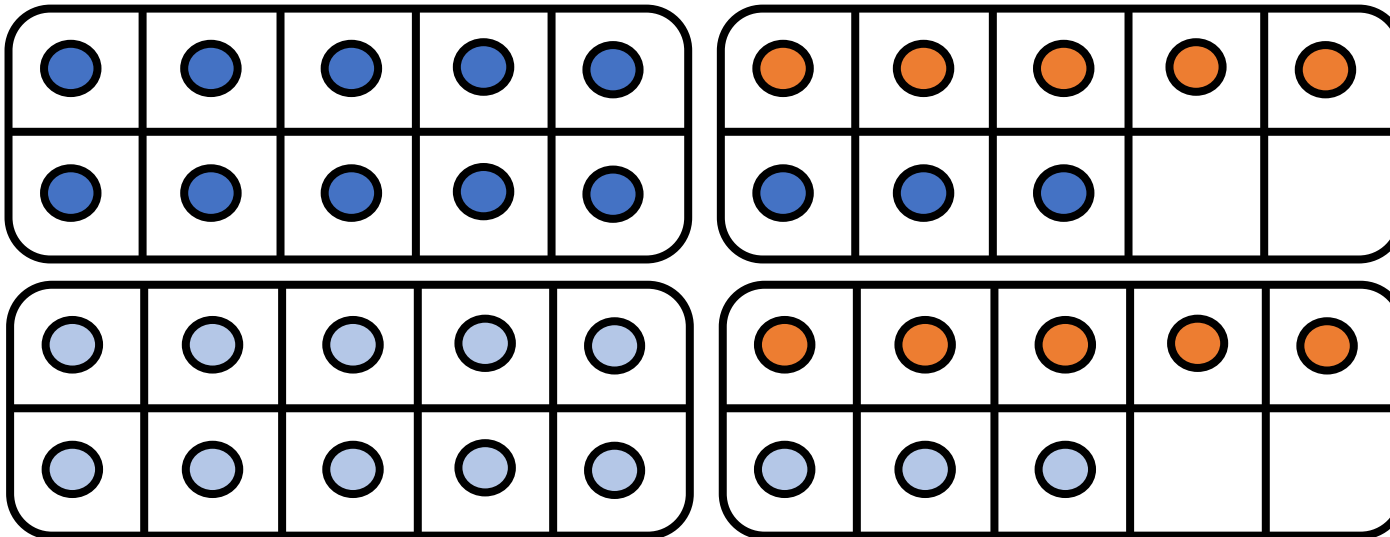
$$10 + 5 + 3 + 10 + 5 + 3 = 30$$





CM27: Connaitre les doubles jusqu'à 20 + 20


Quel est le double de 18 ?



$$18 + 18 = \underline{\hspace{2cm}}$$

$$10 + 5 + 3 + 10 + 5 + 3$$

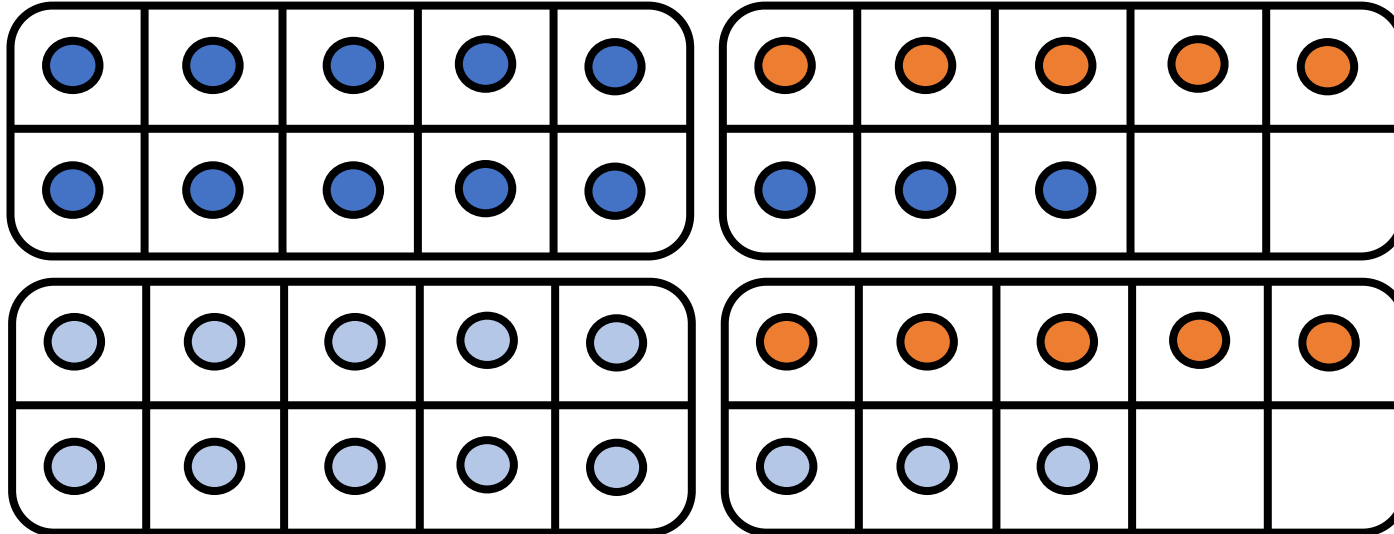
30 + 6





CM27: Connaitre les doubles jusqu'à 20 + 20


Quel est le double de 18 ?



$$18 + 18 = \underline{36}$$

$$10 + 5 + 3 + 10 + 5 + 3$$

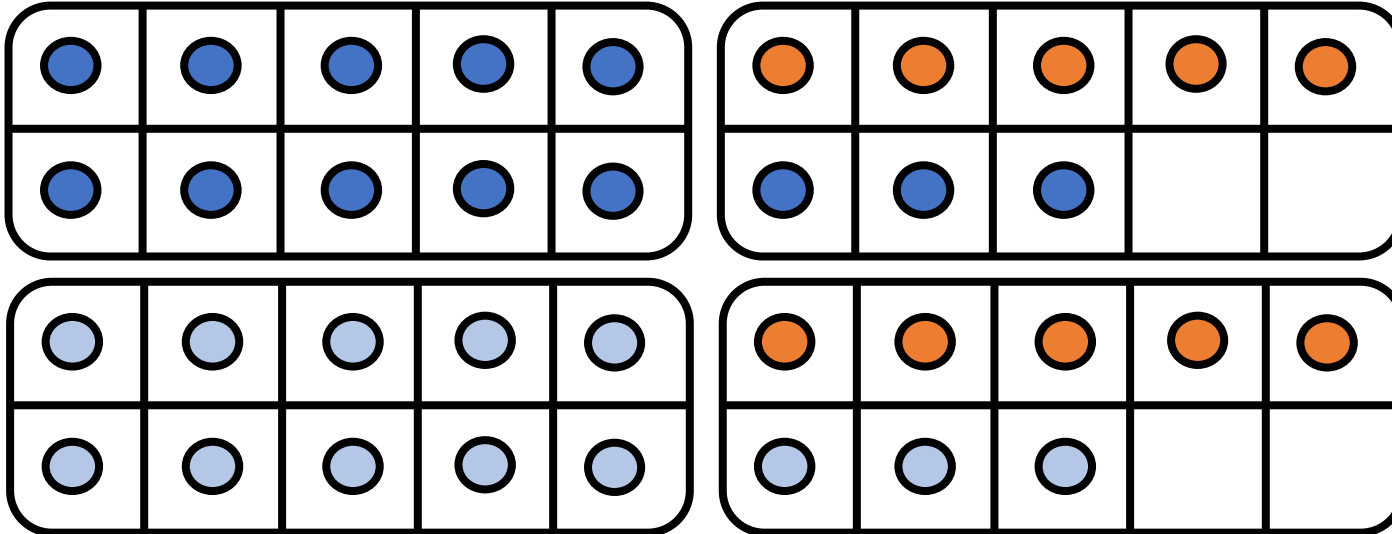
30 + 6





CM27: Connaitre les doubles jusqu'à 20 + 20

Quel est le double de 18 ?



$$18 + 18 = \underline{36}$$

$$\begin{array}{ccccccc} 10 & + & 5 & + & 3 & + & 10 & + & 5 & + & 3 \\ & & \diagdown & & \diagup & & \diagdown & & \diagup & & \diagdown \\ & & & & & & 30 & + & 6 & & \end{array}$$

36



CM27: Connaitre les doubles jusqu'à 20 + 20

$10 + 10 = 20$	Le double de 10, c'est 20.	20, c'est le double de 10.
$11 + 11 = 22$	Le double de 11, c'est 22.	22, c'est le double de 11.
$12 + 12 = 24$	Le double de 12, c'est 24.	24, c'est le double de 12.
$13 + 13 = 26$	Le double de 13, c'est 26.	26, c'est le double de 13.
$14 + 14 = 28$	Le double de 14, c'est 28.	28, c'est le double de 14.
$15 + 15 = 30$	Le double de 15, c'est 30.	30, c'est le double de 15.
$16 + 16 = 32$	Le double de 16, c'est 32.	



CM27: Connaitre les doubles jusqu'à 20 + 20

$10 + 10 = 20$	Le double de 10, c'est 20.	20, c'est le double de 10.
$11 + 11 = 22$	Le double de 11, c'est 22.	22, c'est le double de 11.
$12 + 12 = 24$	Le double de 12, c'est 24.	24, c'est le double de 12.
$13 + 13 = 26$	Le double de 13, c'est 26.	26, c'est le double de 13.
$14 + 14 = 28$	Le double de 14, c'est 28.	28, c'est le double de 14.
$15 + 15 = 30$	Le double de 15, c'est 30.	30, c'est le double de 15.
$16 + 16 = 32$	Le double de 16, c'est 32.	32, c'est le double de 16.



CM27: Connaitre les doubles jusqu'à 20 + 20

$10 + 10 = 20$	Le double de 10, c'est 20.	20, c'est le double de 10.
$11 + 11 = 22$	Le double de 11, c'est 22.	22, c'est le double de 11.
$12 + 12 = 24$	Le double de 12, c'est 24.	24, c'est le double de 12.
$13 + 13 = 26$	Le double de 13, c'est 26.	26, c'est le double de 13.
$14 + 14 = 28$	Le double de 14, c'est 28.	28, c'est le double de 14.
$15 + 15 = 30$	Le double de 15, c'est 30.	30, c'est le double de 15.
$16 + 16 = 32$	Le double de 16, c'est 32.	32, c'est le double de 16.
$17 + 17 = 34$		



CM27: Connaitre les doubles jusqu'à 20 + 20

$10 + 10 = 20$	Le double de 10, c'est 20.	20, c'est le double de 10.
$11 + 11 = 22$	Le double de 11, c'est 22.	22, c'est le double de 11.
$12 + 12 = 24$	Le double de 12, c'est 24.	24, c'est le double de 12.
$13 + 13 = 26$	Le double de 13, c'est 26.	26, c'est le double de 13.
$14 + 14 = 28$	Le double de 14, c'est 28.	28, c'est le double de 14.
$15 + 15 = 30$	Le double de 15, c'est 30.	30, c'est le double de 15.
$16 + 16 = 32$	Le double de 16, c'est 32.	32, c'est le double de 16.
$17 + 17 = 34$	Le double de 17, c'est 34.	



CM27: Connaitre les doubles jusqu'à 20 + 20

$10 + 10 = 20$	Le double de 10, c'est 20.	20, c'est le double de 10.
$11 + 11 = 22$	Le double de 11, c'est 22.	22, c'est le double de 11.
$12 + 12 = 24$	Le double de 12, c'est 24.	24, c'est le double de 12.
$13 + 13 = 26$	Le double de 13, c'est 26.	26, c'est le double de 13.
$14 + 14 = 28$	Le double de 14, c'est 28.	28, c'est le double de 14.
$15 + 15 = 30$	Le double de 15, c'est 30.	30, c'est le double de 15.
$16 + 16 = 32$	Le double de 16, c'est 32.	32, c'est le double de 16.
$17 + 17 = 34$	Le double de 17, c'est 34.	34, c'est le double de 17.



CM27: Connaitre les doubles jusqu'à 20 + 20

$10 + 10 = 20$	Le double de 10, c'est 20.	20, c'est le double de 10.
$11 + 11 = 22$	Le double de 11, c'est 22.	22, c'est le double de 11.
$12 + 12 = 24$	Le double de 12, c'est 24.	24, c'est le double de 12.
$13 + 13 = 26$	Le double de 13, c'est 26.	26, c'est le double de 13.
$14 + 14 = 28$	Le double de 14, c'est 28.	28, c'est le double de 14.
$15 + 15 = 30$	Le double de 15, c'est 30.	30, c'est le double de 15.
$16 + 16 = 32$	Le double de 16, c'est 32.	32, c'est le double de 16.
$17 + 17 = 34$	Le double de 17, c'est 34.	34, c'est le double de 17.
$18 + 18 = 36$		



CM27: Connaitre les doubles jusqu'à 20 + 20

$10 + 10 = 20$	Le double de 10, c'est 20.	20, c'est le double de 10.
$11 + 11 = 22$	Le double de 11, c'est 22.	22, c'est le double de 11.
$12 + 12 = 24$	Le double de 12, c'est 24.	24, c'est le double de 12.
$13 + 13 = 26$	Le double de 13, c'est 26.	26, c'est le double de 13.
$14 + 14 = 28$	Le double de 14, c'est 28.	28, c'est le double de 14.
$15 + 15 = 30$	Le double de 15, c'est 30.	30, c'est le double de 15.
$16 + 16 = 32$	Le double de 16, c'est 32.	32, c'est le double de 16.
$17 + 17 = 34$	Le double de 17, c'est 34.	34, c'est le double de 17.
$18 + 18 = 36$	Le double de 18, c'est 36.	



CM27: Connaitre les doubles jusqu'à 20 + 20

$10 + 10 = 20$	Le double de 10, c'est 20.	20, c'est le double de 10.
$11 + 11 = 22$	Le double de 11, c'est 22.	22, c'est le double de 11.
$12 + 12 = 24$	Le double de 12, c'est 24.	24, c'est le double de 12.
$13 + 13 = 26$	Le double de 13, c'est 26.	26, c'est le double de 13.
$14 + 14 = 28$	Le double de 14, c'est 28.	28, c'est le double de 14.
$15 + 15 = 30$	Le double de 15, c'est 30.	30, c'est le double de 15.
$16 + 16 = 32$	Le double de 16, c'est 32.	32, c'est le double de 16.
$17 + 17 = 34$	Le double de 17, c'est 34.	34, c'est le double de 17.
$18 + 18 = 36$	Le double de 18, c'est 36.	36, c'est le double de 18.



CM27: Connaitre les doubles jusqu'à 20 + 20

$10 + 10 = 20$	Le double de 10, c'est 20.	20, c'est le double de 10.
$11 + 11 = 22$	Le double de 11, c'est 22.	22, c'est le double de 11.
$12 + 12 = 24$	Le double de 12, c'est 24.	24, c'est le double de 12.
$13 + 13 = 26$	Le double de 13, c'est 26.	26, c'est le double de 13.
$14 + 14 = 28$	Le double de 14, c'est 28.	28, c'est le double de 14.
$15 + 15 = 30$	Le double de 15, c'est 30.	30, c'est le double de 15.
$16 + 16 = 32$	Le double de 16, c'est 32.	32, c'est le double de 16.
$17 + 17 = 34$	Le double de 17, c'est 34.	34, c'est le double de 17.
$18 + 18 = 36$	Le double de 18, c'est 36.	36, c'est le double de 18.
$19 + 19 = 38$		



CM27: Connaitre les doubles jusqu'à 20 + 20

$10 + 10 = 20$	Le double de 10, c'est 20.	20, c'est le double de 10.
$11 + 11 = 22$	Le double de 11, c'est 22.	22, c'est le double de 11.
$12 + 12 = 24$	Le double de 12, c'est 24.	24, c'est le double de 12.
$13 + 13 = 26$	Le double de 13, c'est 26.	26, c'est le double de 13.
$14 + 14 = 28$	Le double de 14, c'est 28.	28, c'est le double de 14.
$15 + 15 = 30$	Le double de 15, c'est 30.	30, c'est le double de 15.
$16 + 16 = 32$	Le double de 16, c'est 32.	32, c'est le double de 16.
$17 + 17 = 34$	Le double de 17, c'est 34.	34, c'est le double de 17.
$18 + 18 = 36$	Le double de 18, c'est 36.	36, c'est le double de 18.
$19 + 19 = 38$	Le double de 19, c'est 38.	



CM27: Connaitre les doubles jusqu'à 20 + 20

$10 + 10 = 20$	Le double de 10, c'est 20.	20, c'est le double de 10.
$11 + 11 = 22$	Le double de 11, c'est 22.	22, c'est le double de 11.
$12 + 12 = 24$	Le double de 12, c'est 24.	24, c'est le double de 12.
$13 + 13 = 26$	Le double de 13, c'est 26.	26, c'est le double de 13.
$14 + 14 = 28$	Le double de 14, c'est 28.	28, c'est le double de 14.
$15 + 15 = 30$	Le double de 15, c'est 30.	30, c'est le double de 15.
$16 + 16 = 32$	Le double de 16, c'est 32.	32, c'est le double de 16.
$17 + 17 = 34$	Le double de 17, c'est 34.	34, c'est le double de 17.
$18 + 18 = 36$	Le double de 18, c'est 36.	36, c'est le double de 18.
$19 + 19 = 38$	Le double de 19, c'est 38.	38, c'est le double de 19.



CM27: Connaitre les doubles jusqu'à 20 + 20

$10 + 10 = 20$	Le double de 10, c'est 20.	20, c'est le double de 10.
$11 + 11 = 22$	Le double de 11, c'est 22.	22, c'est le double de 11.
$12 + 12 = 24$	Le double de 12, c'est 24.	24, c'est le double de 12.
$13 + 13 = 26$	Le double de 13, c'est 26.	26, c'est le double de 13.
$14 + 14 = 28$	Le double de 14, c'est 28.	28, c'est le double de 14.
$15 + 15 = 30$	Le double de 15, c'est 30.	30, c'est le double de 15.
$16 + 16 = 32$	Le double de 16, c'est 32.	32, c'est le double de 16.
$17 + 17 = 34$	Le double de 17, c'est 34.	34, c'est le double de 17.
$18 + 18 = 36$	Le double de 18, c'est 36.	36, c'est le double de 18.
$19 + 19 = 38$	Le double de 19, c'est 38.	38, c'est le double de 19.
$20 + 20 = 40$		



CM27: Connaitre les doubles jusqu'à 20 + 20

$10 + 10 = 20$	Le double de 10, c'est 20.	20, c'est le double de 10.
$11 + 11 = 22$	Le double de 11, c'est 22.	22, c'est le double de 11.
$12 + 12 = 24$	Le double de 12, c'est 24.	24, c'est le double de 12.
$13 + 13 = 26$	Le double de 13, c'est 26.	26, c'est le double de 13.
$14 + 14 = 28$	Le double de 14, c'est 28.	28, c'est le double de 14.
$15 + 15 = 30$	Le double de 15, c'est 30.	30, c'est le double de 15.
$16 + 16 = 32$	Le double de 16, c'est 32.	32, c'est le double de 16.
$17 + 17 = 34$	Le double de 17, c'est 34.	34, c'est le double de 17.
$18 + 18 = 36$	Le double de 18, c'est 36.	36, c'est le double de 18.
$19 + 19 = 38$	Le double de 19, c'est 38.	38, c'est le double de 19.
$20 + 20 = 40$	Le double de 20, c'est 40.	



CM27: Connaitre les doubles jusqu'à 20 + 20

$10 + 10 = 20$	Le double de 10, c'est 20.	20, c'est le double de 10.
$11 + 11 = 22$	Le double de 11, c'est 22.	22, c'est le double de 11.
$12 + 12 = 24$	Le double de 12, c'est 24.	24, c'est le double de 12.
$13 + 13 = 26$	Le double de 13, c'est 26.	26, c'est le double de 13.
$14 + 14 = 28$	Le double de 14, c'est 28.	28, c'est le double de 14.
$15 + 15 = 30$	Le double de 15, c'est 30.	30, c'est le double de 15.
$16 + 16 = 32$	Le double de 16, c'est 32.	32, c'est le double de 16.
$17 + 17 = 34$	Le double de 17, c'est 34.	34, c'est le double de 17.
$18 + 18 = 36$	Le double de 18, c'est 36.	36, c'est le double de 18.
$19 + 19 = 38$	Le double de 19, c'est 38.	38, c'est le double de 19.
$20 + 20 = 40$	Le double de 20, c'est 40.	40, c'est le double de 20.