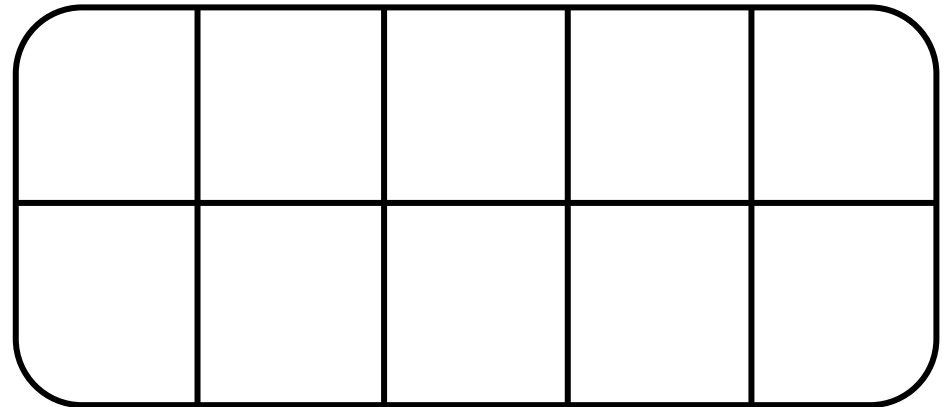
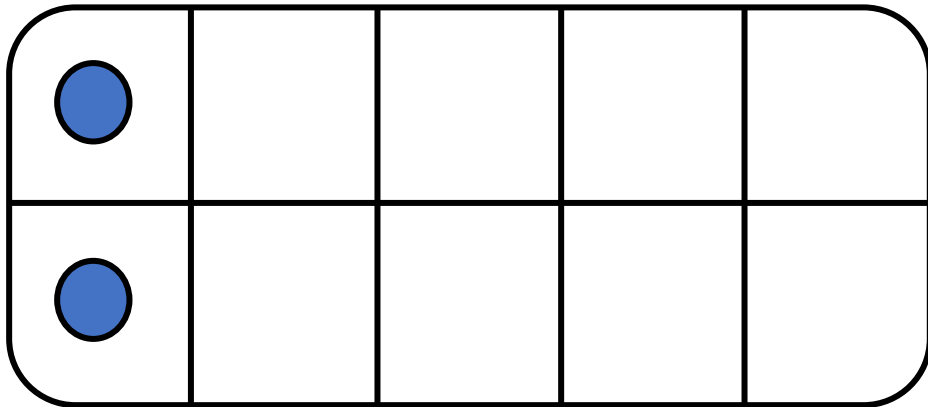




## CM21: Trouver la moitié des nombres inférieurs à 20

Quelle est la moitié de 2 ?

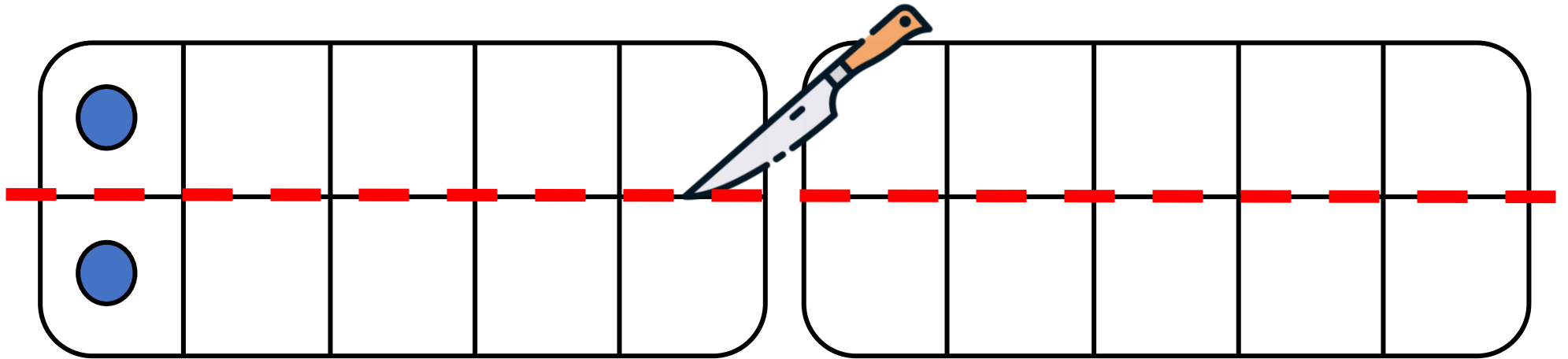


La moitié de 2, c'est \_\_\_\_ .



## CM21: Trouver la moitié des nombres inférieurs à 20

Quelle est la moitié de 2 ?

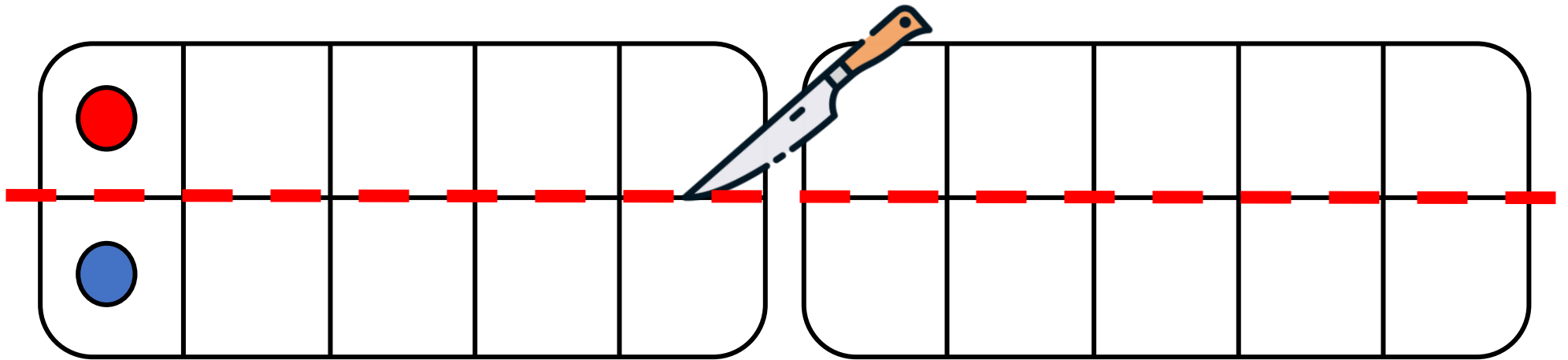


La moitié de 2, c'est \_\_\_\_ .



## CM21: Trouver la moitié des nombres inférieurs à 20

Quelle est la moitié de 2 ?

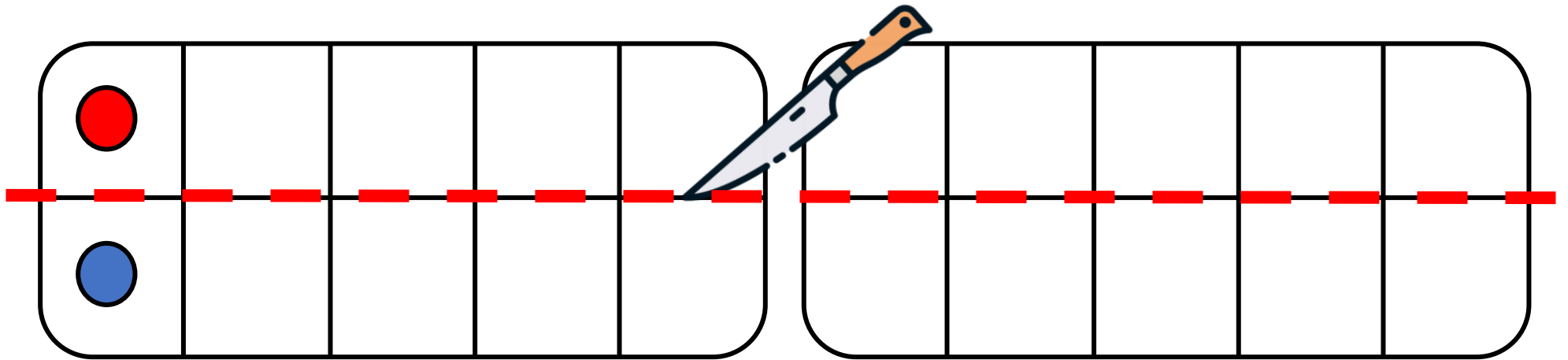


La moitié de 2, c'est \_\_\_\_ .



## CM21: Trouver la moitié des nombres inférieurs à 20

Quelle est la moitié de 2 ?

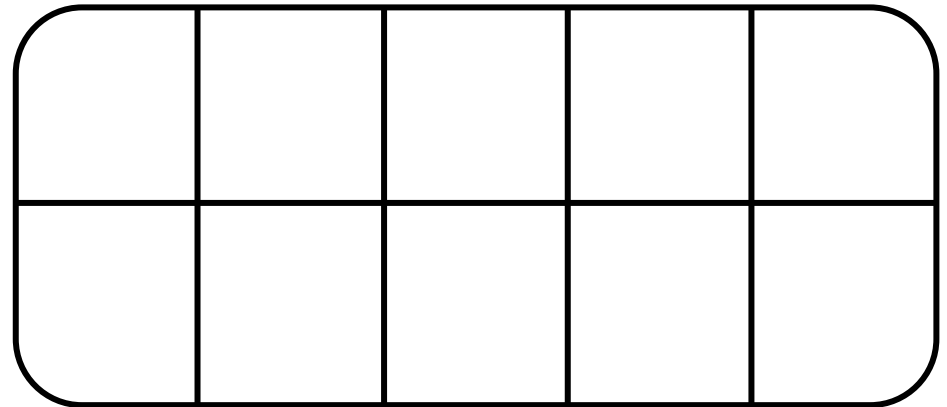
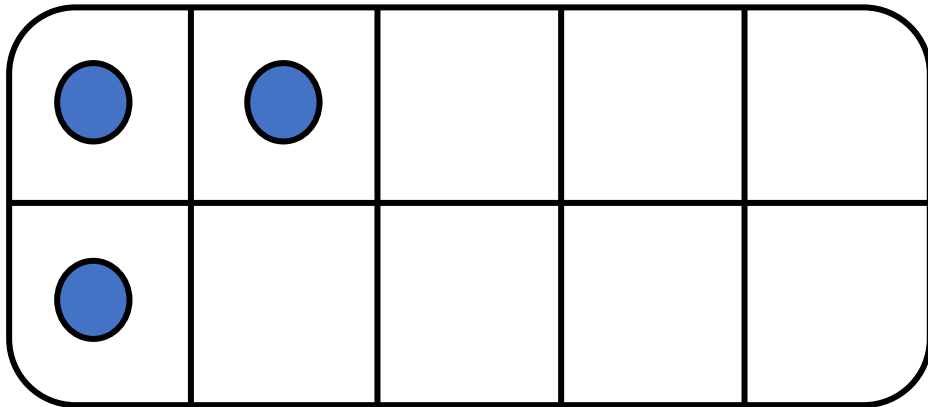


La moitié de 2, c'est 1 .



## CM21: Trouver la moitié des nombres inférieurs à 20

Quelle est la moitié de 3 ?

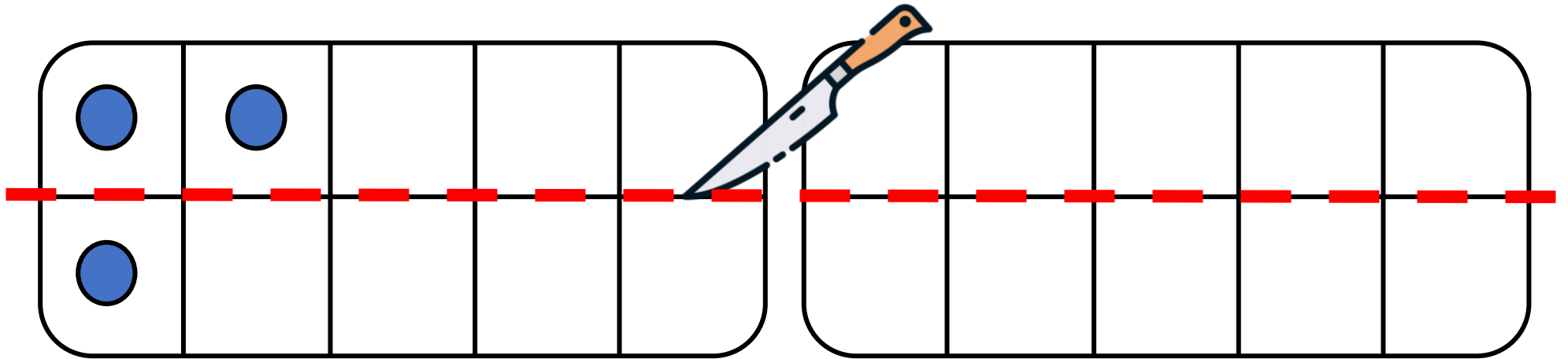


La moitié de 3, c'est \_\_\_\_ .



## CM21: Trouver la moitié des nombres inférieurs à 20

Quelle est la moitié de 3 ?

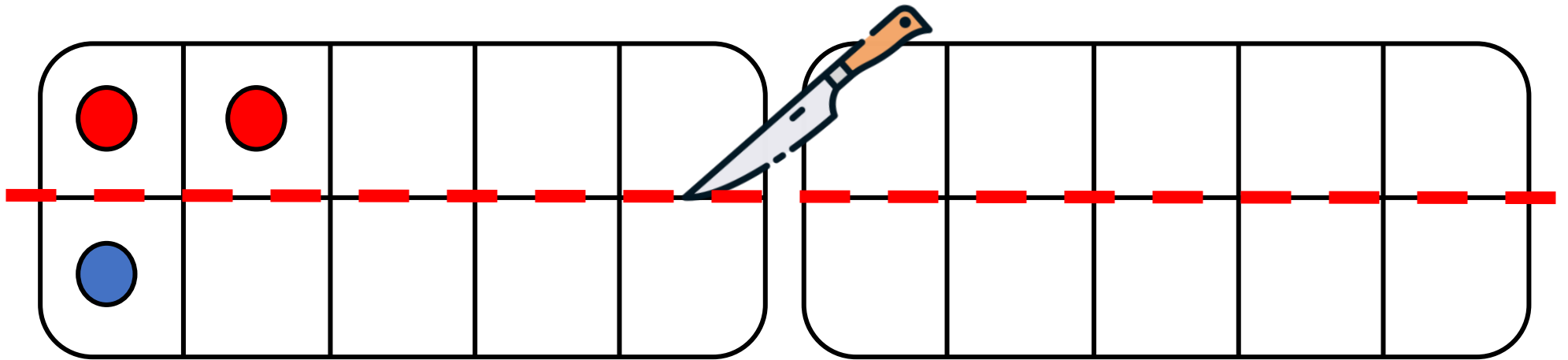


La moitié de 3, c'est \_\_\_\_ .



## CM21: Trouver la moitié des nombres inférieurs à 20

Quelle est la moitié de 3 ?

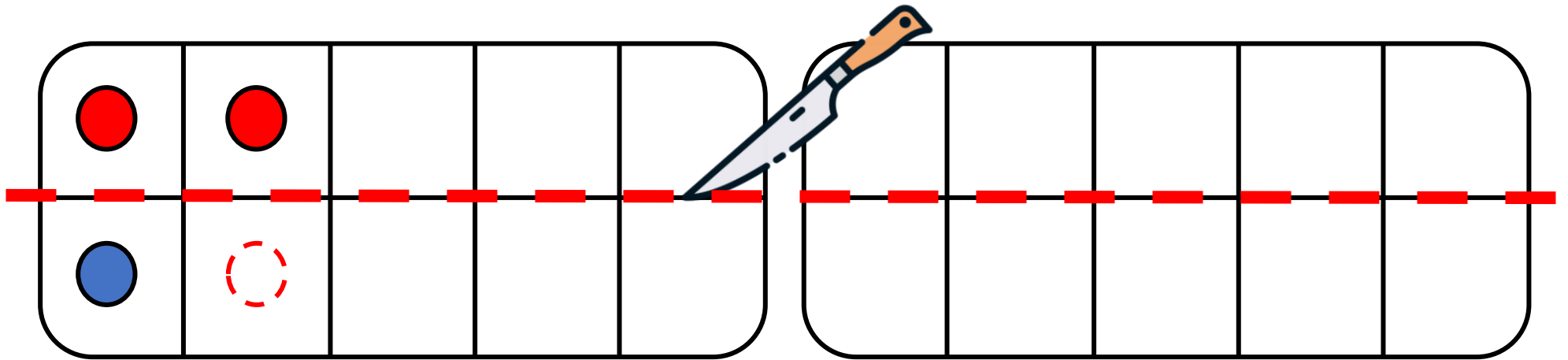


La moitié de 3, c'est \_\_\_\_ .



## CM21: Trouver la moitié des nombres inférieurs à 20

Quelle est la moitié de 3 ?



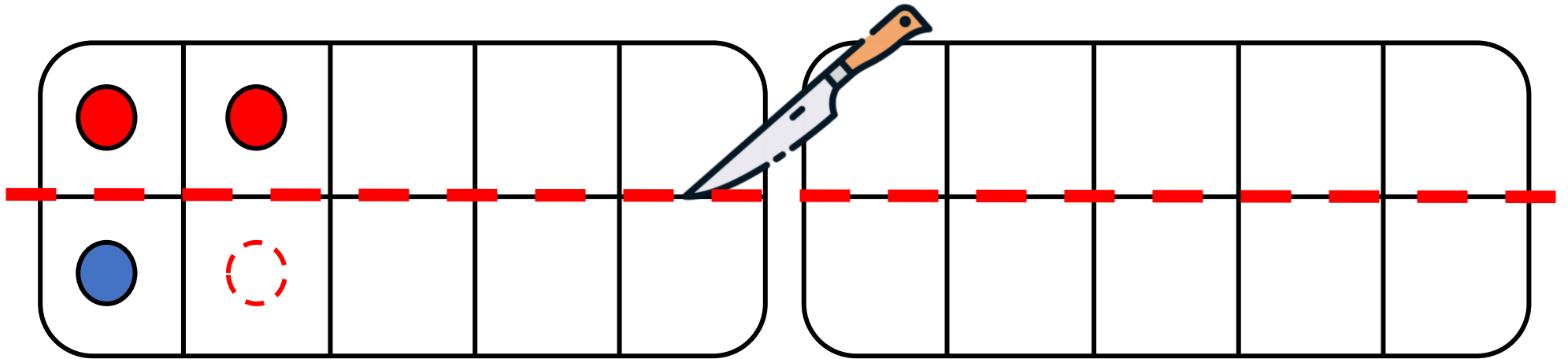
La moitié de 3, c'est \_\_\_\_ .





## CM21: Trouver la moitié des nombres inférieurs à 20

Quelle est la moitié de 3 ?

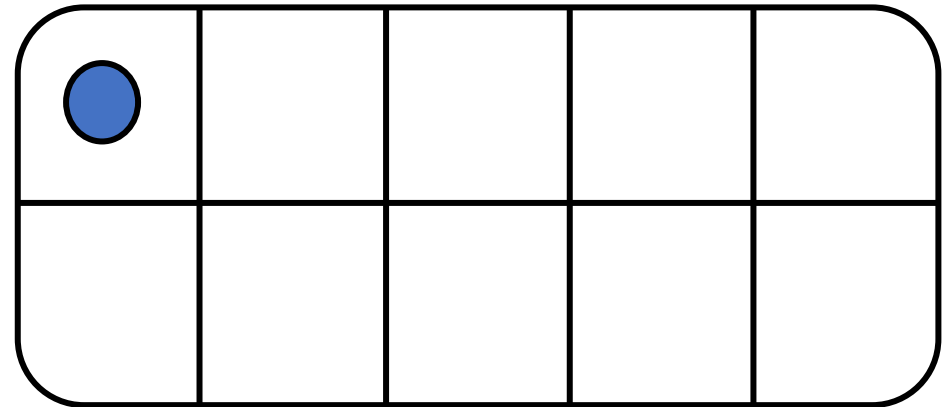
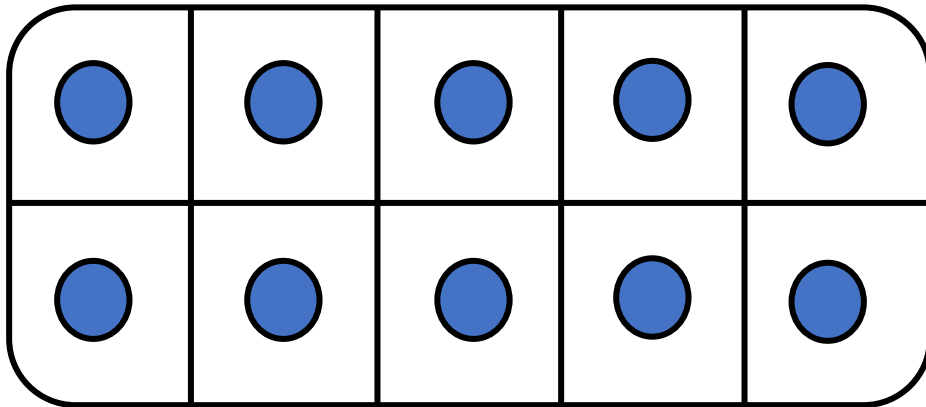


La moitié de 3, c'est X .



## CM21: Trouver la moitié des nombres inférieurs à 20

Quelle est la moitié de 11 ?

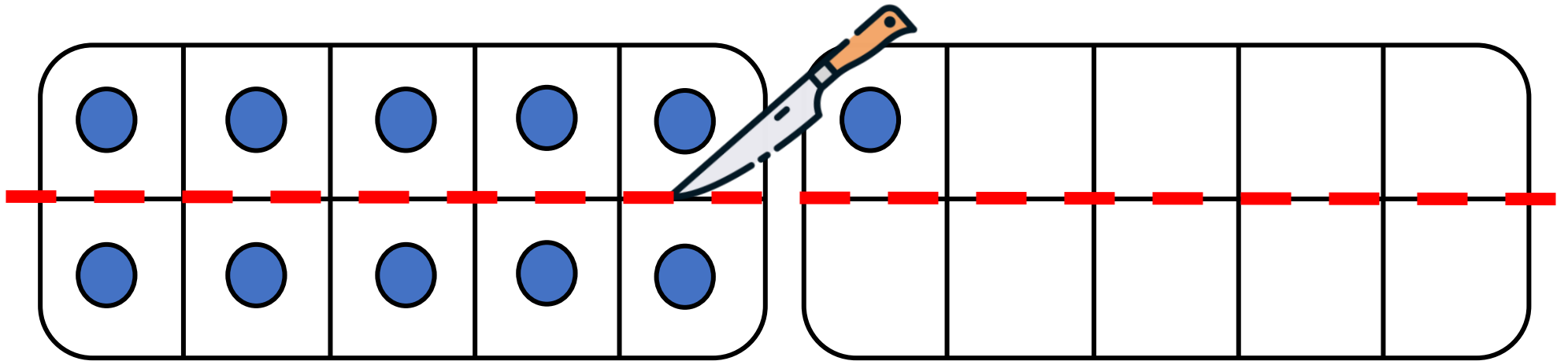


La moitié de 11, c'est \_\_\_\_ .



## CM21: Trouver la moitié des nombres inférieurs à 20

Quelle est la moitié de 11 ?

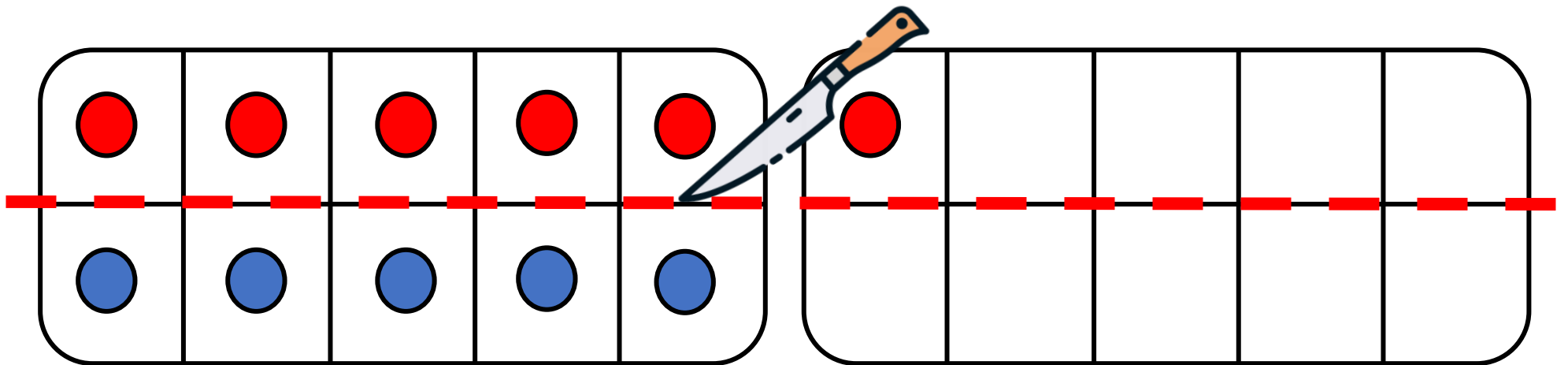


La moitié de 11, c'est \_\_\_\_ .



## CM21: Trouver la moitié des nombres inférieurs à 20

Quelle est la moitié de 11 ?

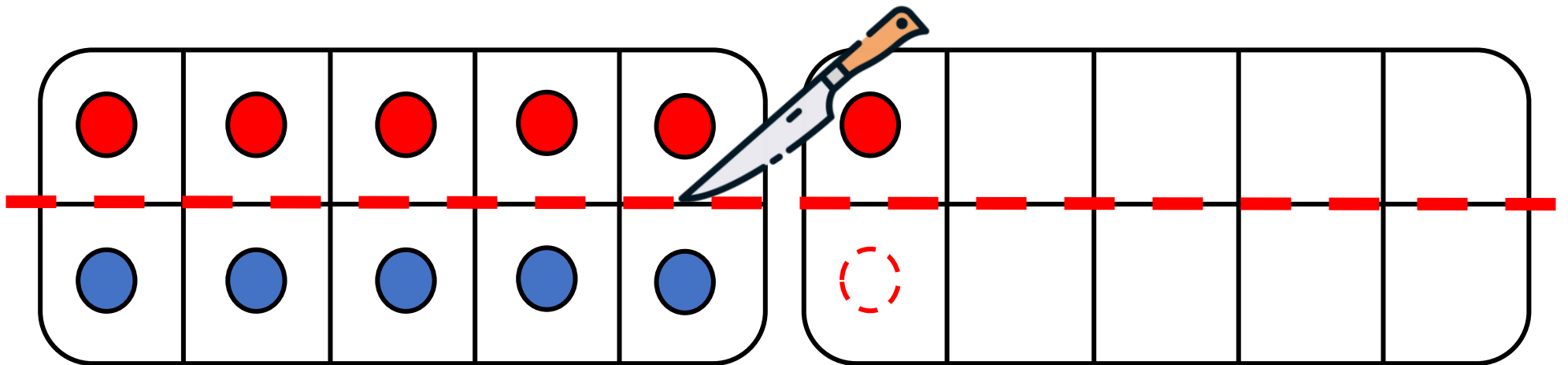


La moitié de 11, c'est \_\_\_\_ .



## CM21: Trouver la moitié des nombres inférieurs à 20

Quelle est la moitié de 11 ?

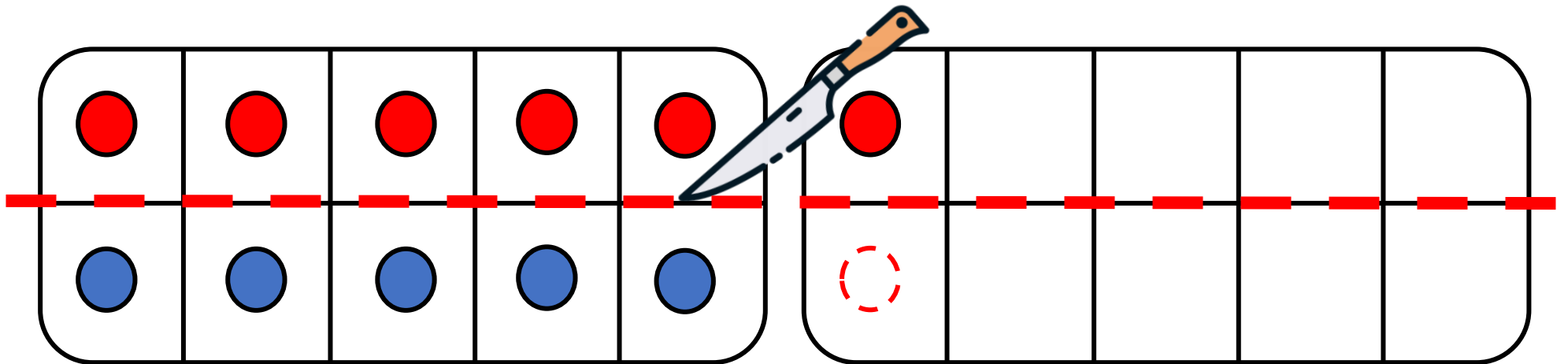


La moitié de 11, c'est \_\_\_\_ .



## CM21: Trouver la moitié des nombres inférieurs à 20

Quelle est la moitié de 11 ?

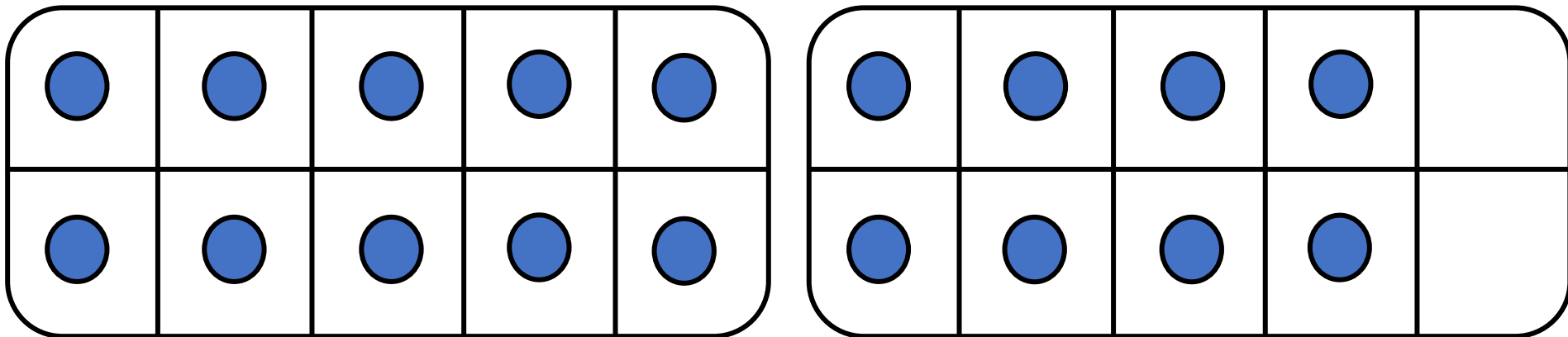


La moitié de 11, c'est   X   .



## CM21: Trouver la moitié des nombres inférieurs à 20

Quelle est la moitié de 18 ?

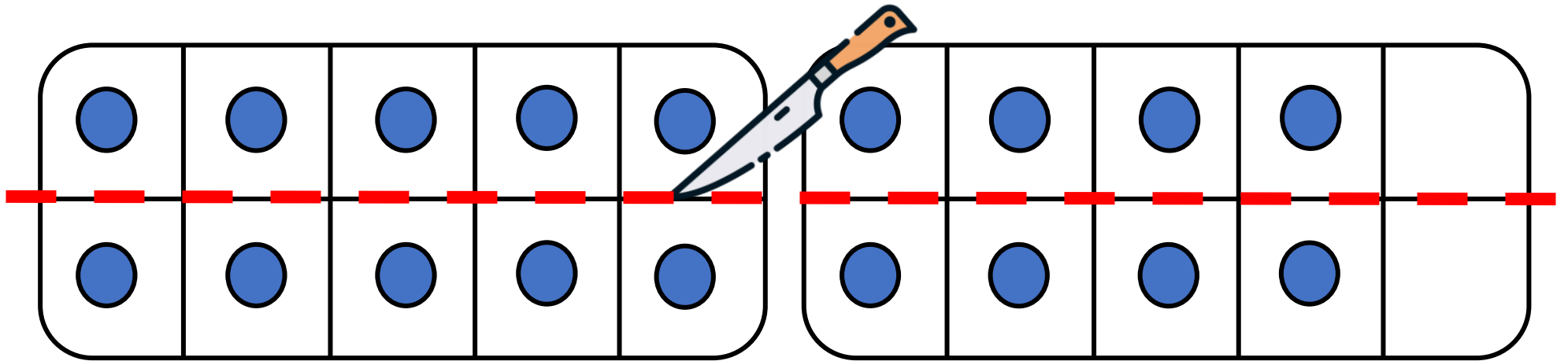


La moitié de 18, c'est \_\_\_\_ .



## CM21: Trouver la moitié des nombres inférieurs à 20

Quelle est la moitié de 18 ?



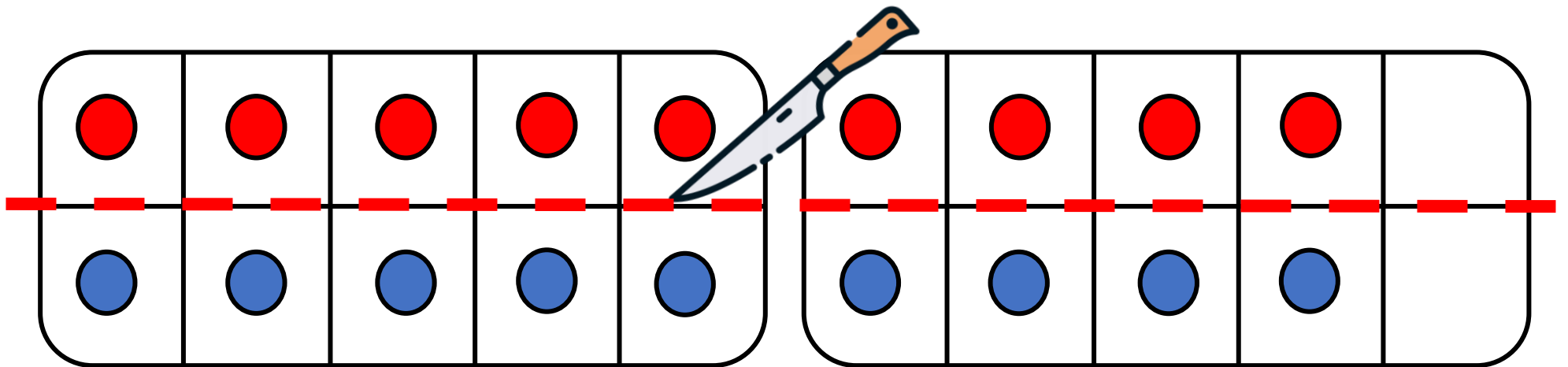
La moitié de 18, c'est \_\_\_\_ .





## CM21: Trouver la moitié des nombres inférieurs à 20

Quelle est la moitié de 18 ?

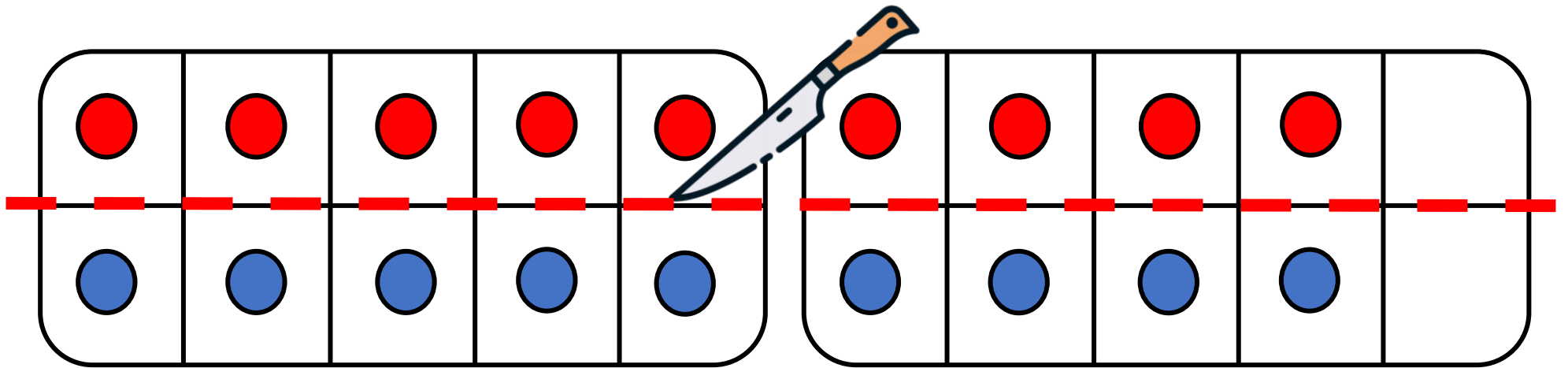


La moitié de 18, c'est \_\_\_\_ .



## CM21: Trouver la moitié des nombres inférieurs à 20

Quelle est la moitié de 18 ?

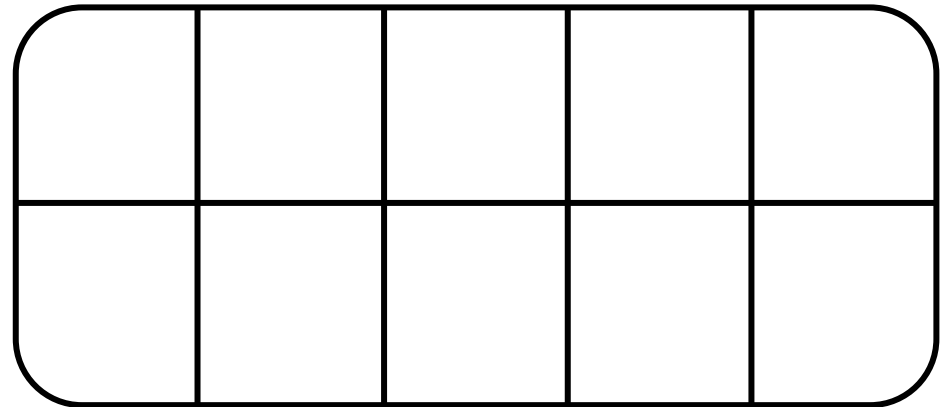
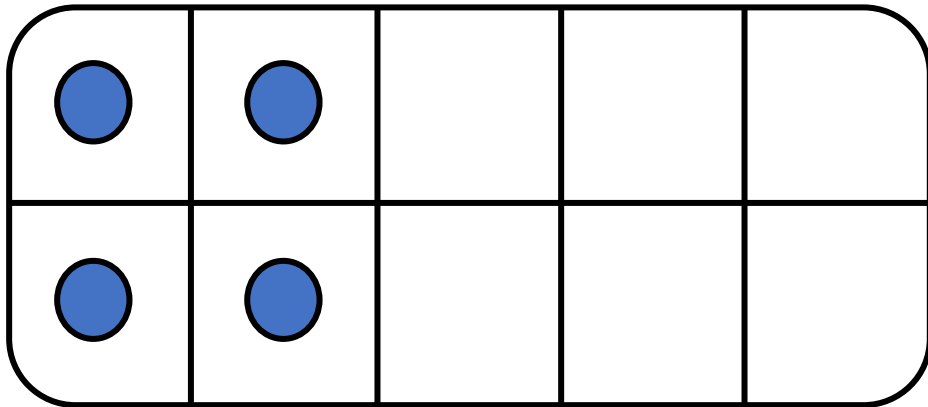


La moitié de 18, c'est 9 .



## CM21: Trouver la moitié des nombres inférieurs à 20

Quelle est la moitié de 4 ?

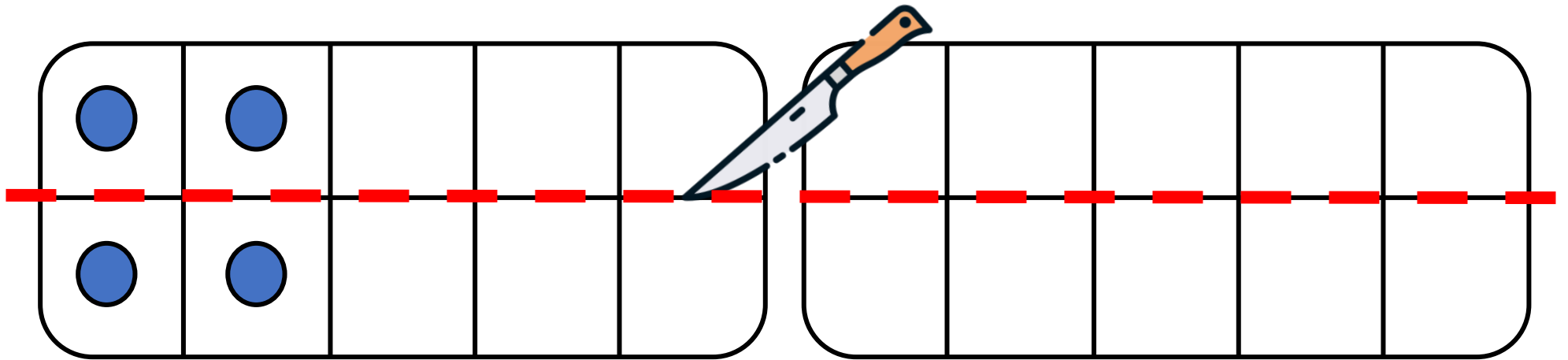


La moitié de 4, c'est \_\_\_\_ .



## CM21: Trouver la moitié des nombres inférieurs à 20

Quelle est la moitié de 4 ?

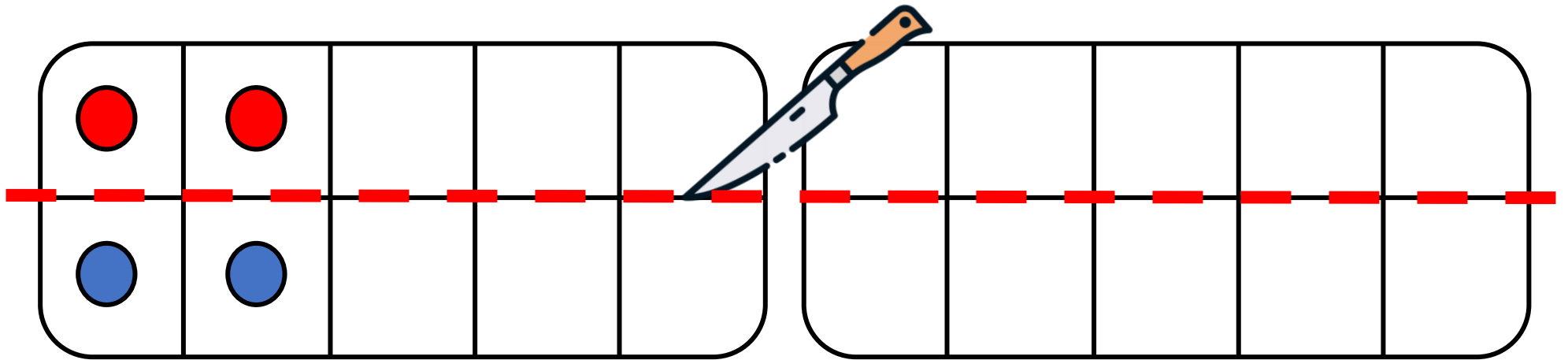


La moitié de 4, c'est \_\_\_\_ .



## CM21: Trouver la moitié des nombres inférieurs à 20

Quelle est la moitié de 4 ?

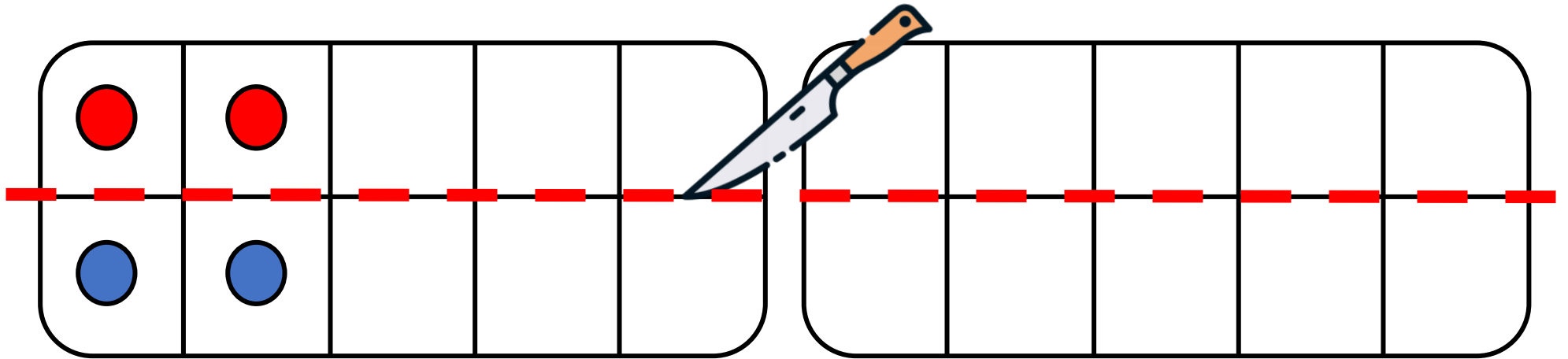


La moitié de 4, c'est \_\_\_\_ .



## CM21: Trouver la moitié des nombres inférieurs à 20

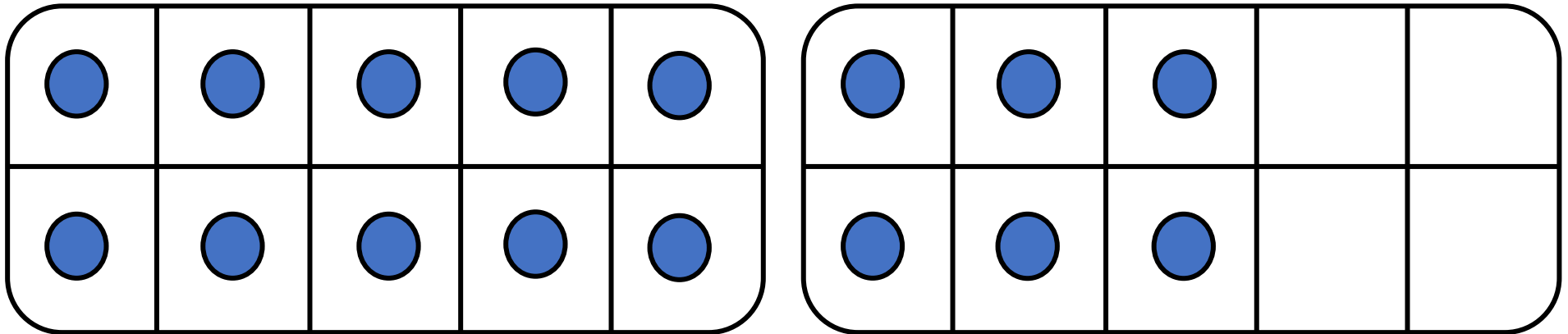
Quelle est la moitié de 4 ?



La moitié de 4, c'est 2 .



Quelle est la moitié de 16 ?

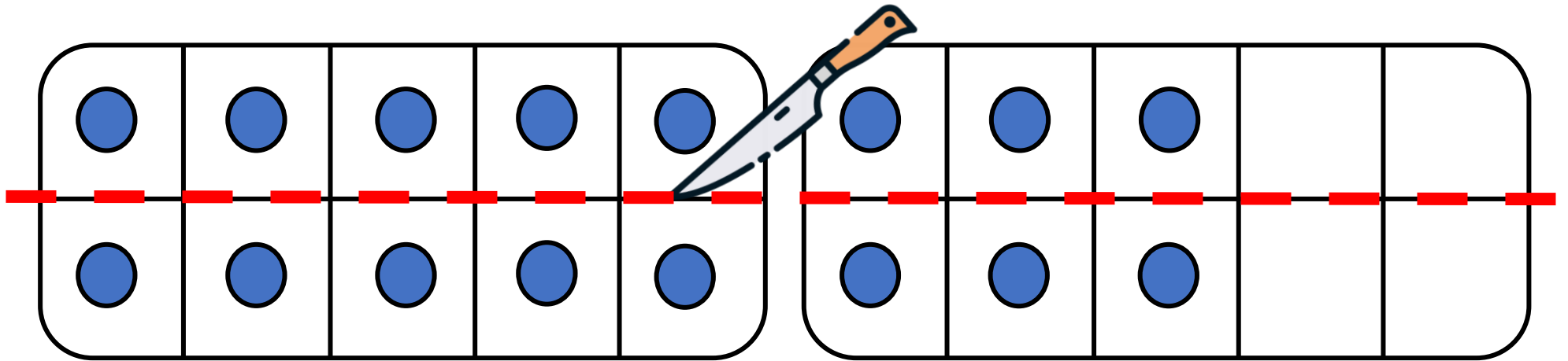


La moitié de 16, c'est \_\_\_\_ .



## CM21: Trouver la moitié des nombres inférieurs à 20

Quelle est la moitié de 16 ?



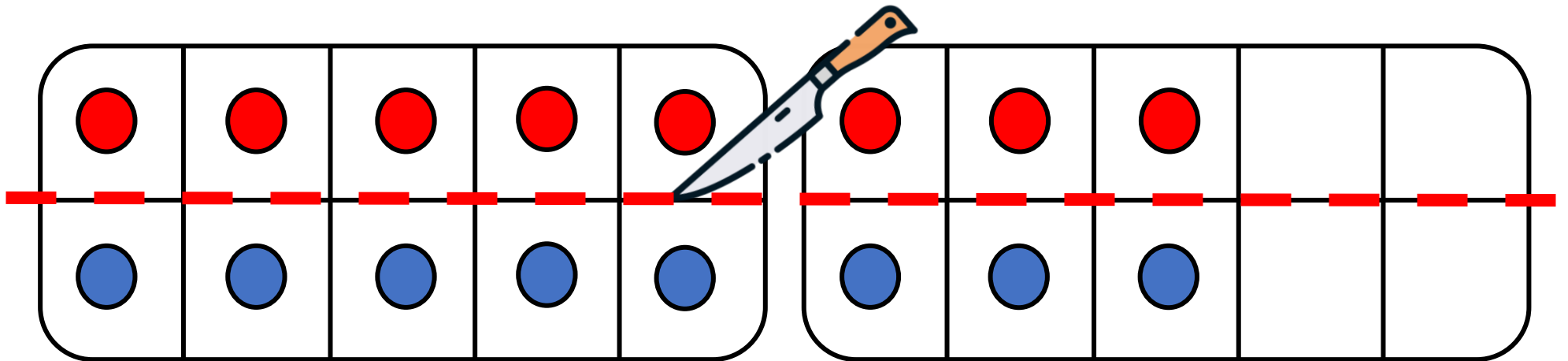
La moitié de 16, c'est \_\_\_\_ .





## CM21: Trouver la moitié des nombres inférieurs à 20

Quelle est la moitié de 16 ?

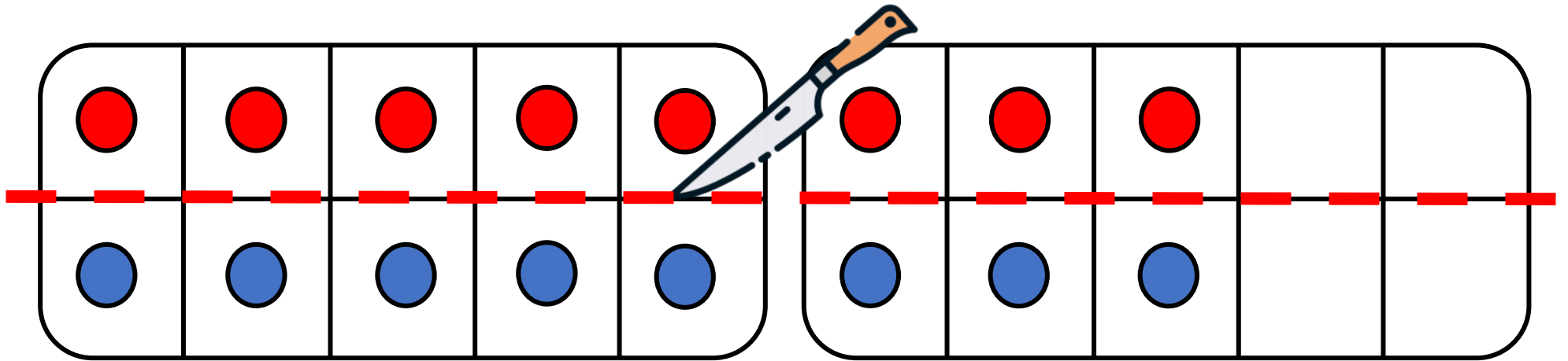


La moitié de 16, c'est \_\_\_\_ .



## CM21: Trouver la moitié des nombres inférieurs à 20

Quelle est la moitié de 16 ?

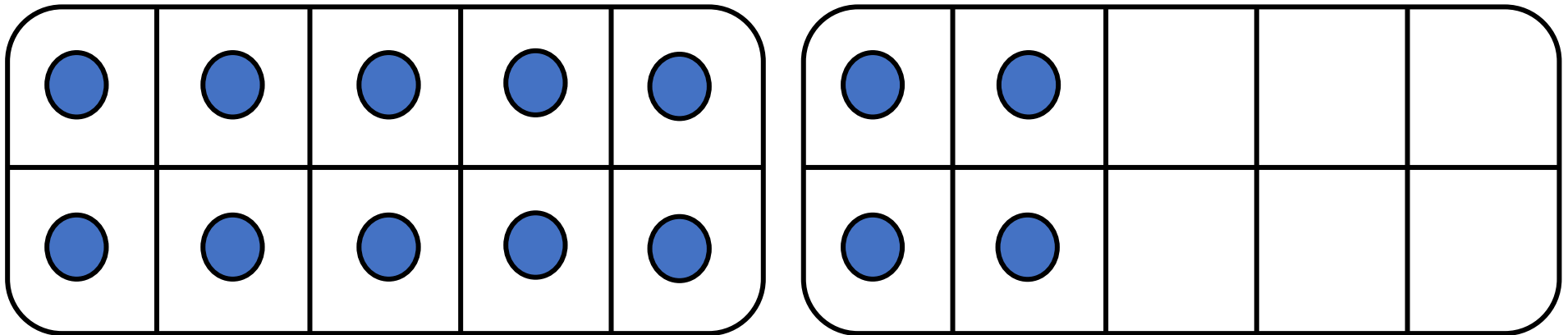


La moitié de 16, c'est 8.



## CM21: Trouver la moitié des nombres inférieurs à 20

Quelle est la moitié de 14 ?

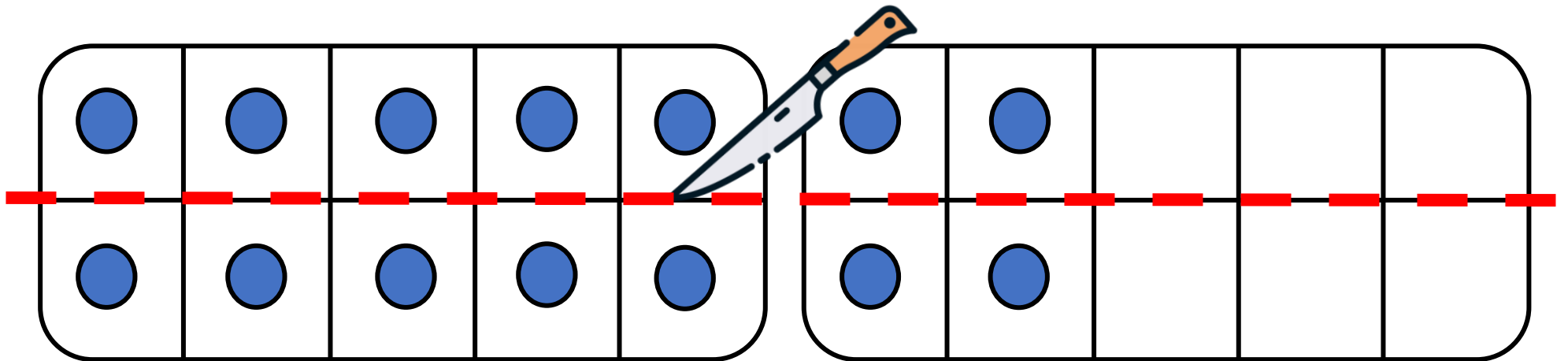


La moitié de 14, c'est \_\_\_\_ .



## CM21: Trouver la moitié des nombres inférieurs à 20

Quelle est la moitié de 14 ?

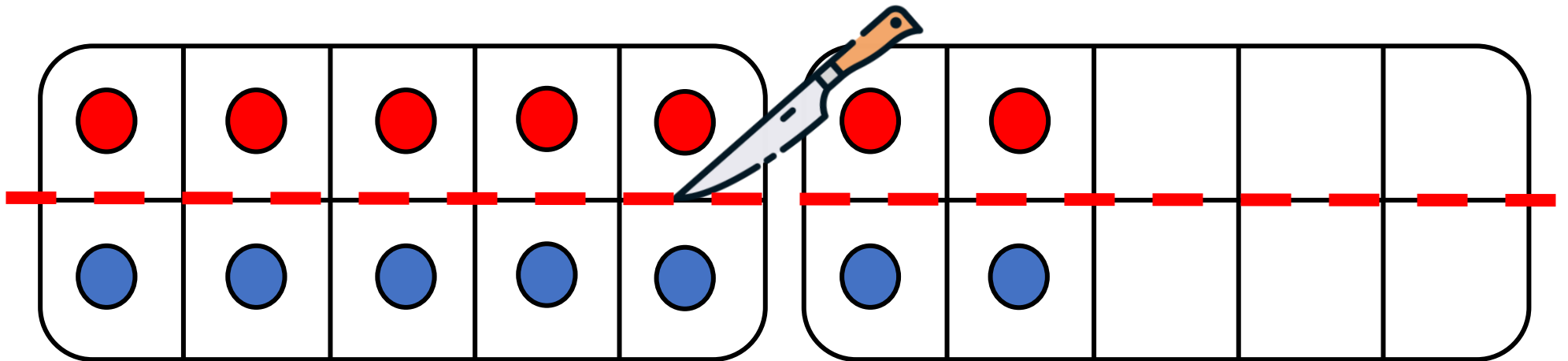


La moitié de 14, c'est \_\_\_\_ .



## CM21: Trouver la moitié des nombres inférieurs à 20

Quelle est la moitié de 14 ?

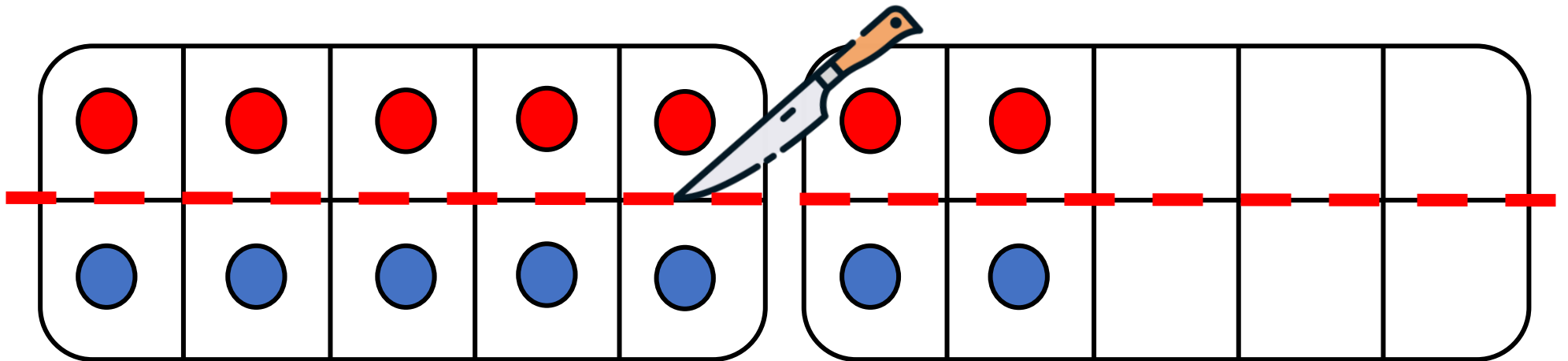


La moitié de 14, c'est \_\_\_\_ .



## CM21: Trouver la moitié des nombres inférieurs à 20

Quelle est la moitié de 14 ?

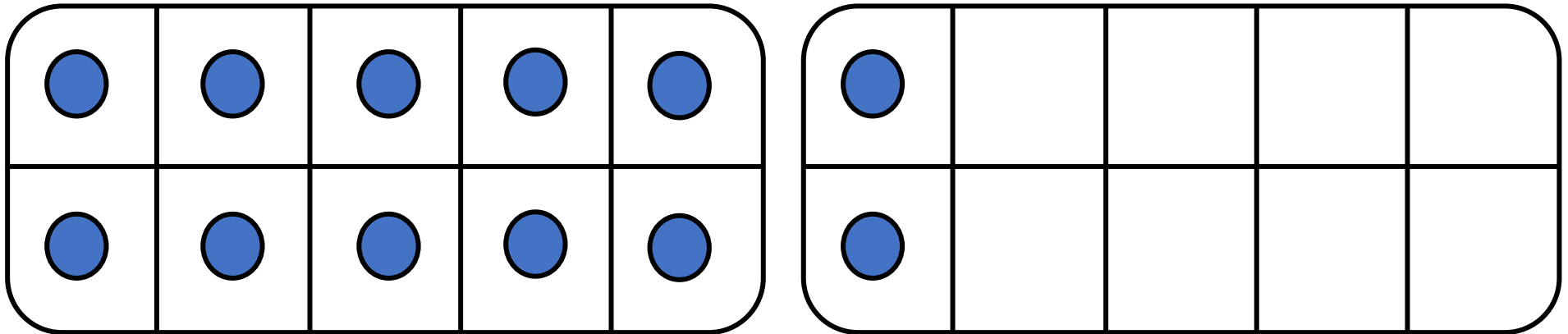


La moitié de 14, c'est 7 .



## CM21: Trouver la moitié des nombres inférieurs à 20

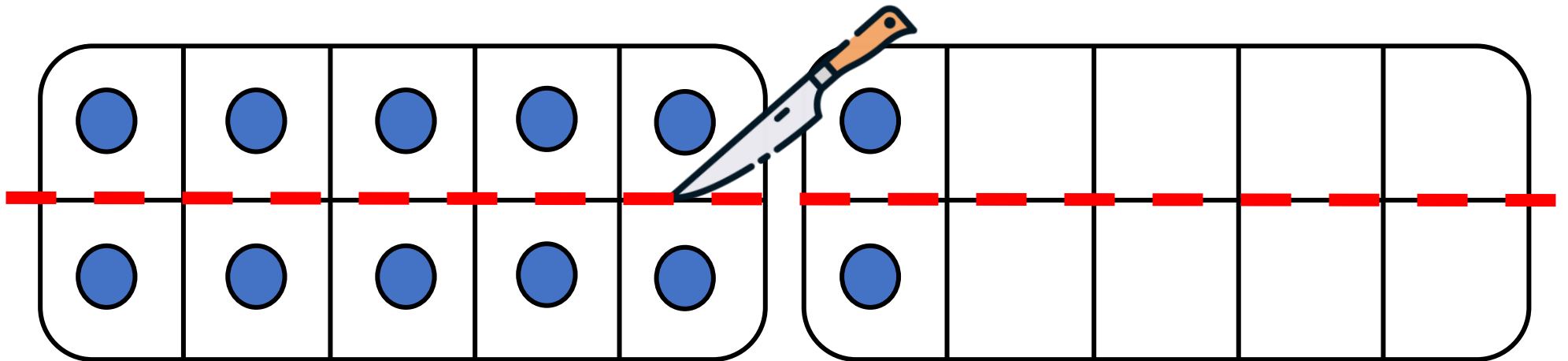
Quelle est la moitié de 12 ?



La moitié de 12, c'est \_\_\_\_ .



Quelle est la moitié de 12 ?



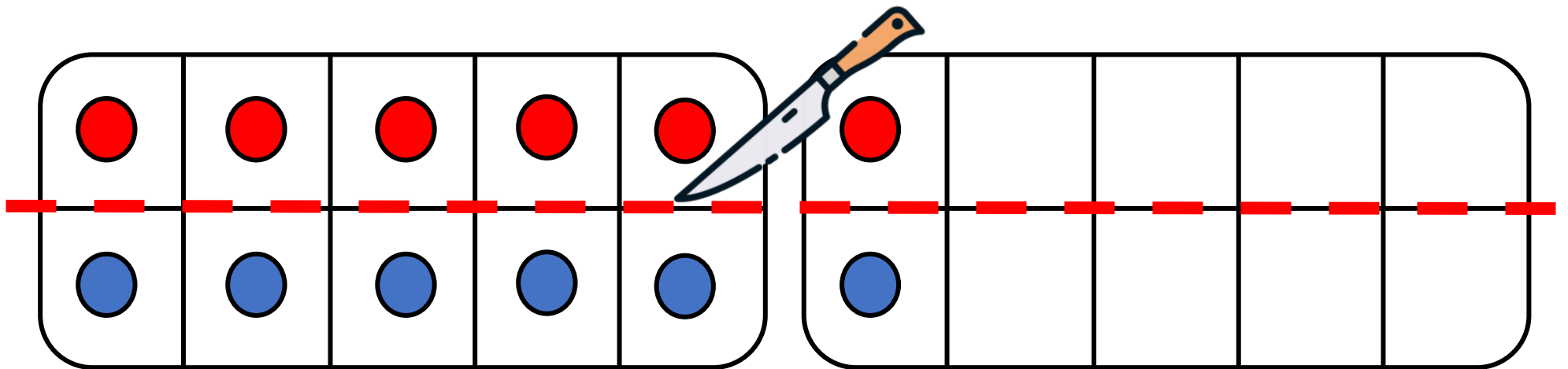
La moitié de 12, c'est \_\_\_\_ .





## CM21: Trouver la moitié des nombres inférieurs à 20

Quelle est la moitié de 12 ?

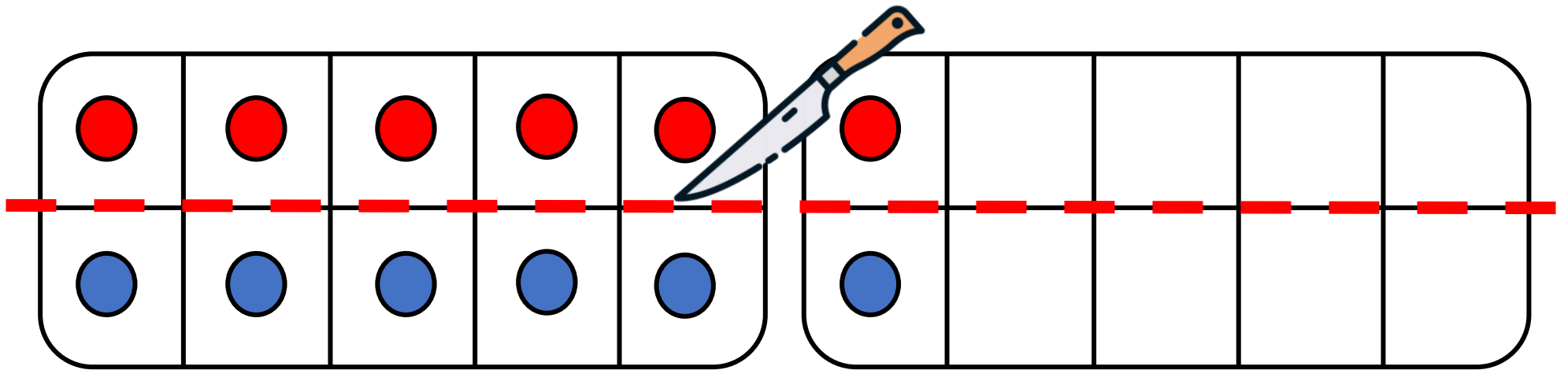


La moitié de 12, c'est \_\_\_\_ .



## CM21: Trouver la moitié des nombres inférieurs à 20

Quelle est la moitié de 12 ?

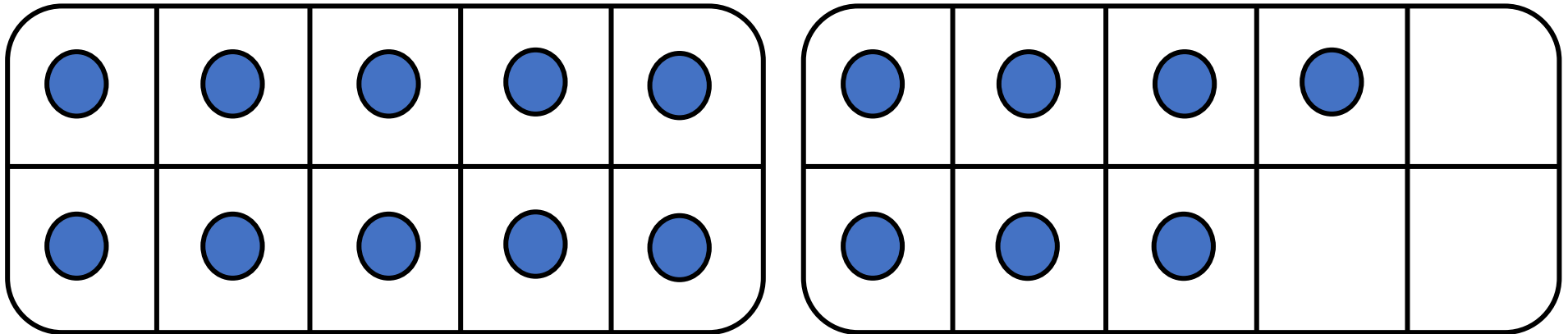


La moitié de 12, c'est 6 .



## CM21: Trouver la moitié des nombres inférieurs à 20

Quelle est la moitié de 17 ?

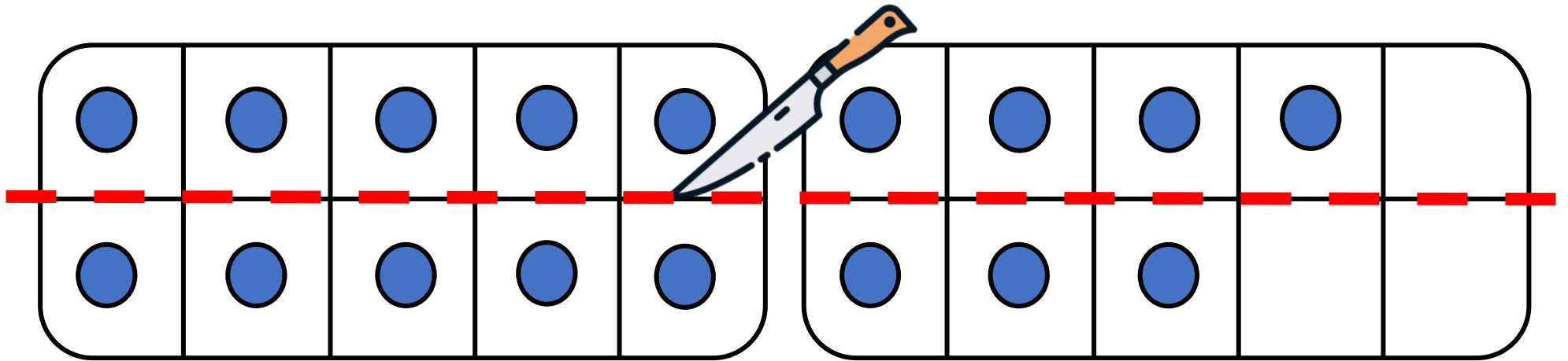


La moitié de 17, c'est \_\_\_\_ .



## CM21: Trouver la moitié des nombres inférieurs à 20

Quelle est la moitié de 17 ?

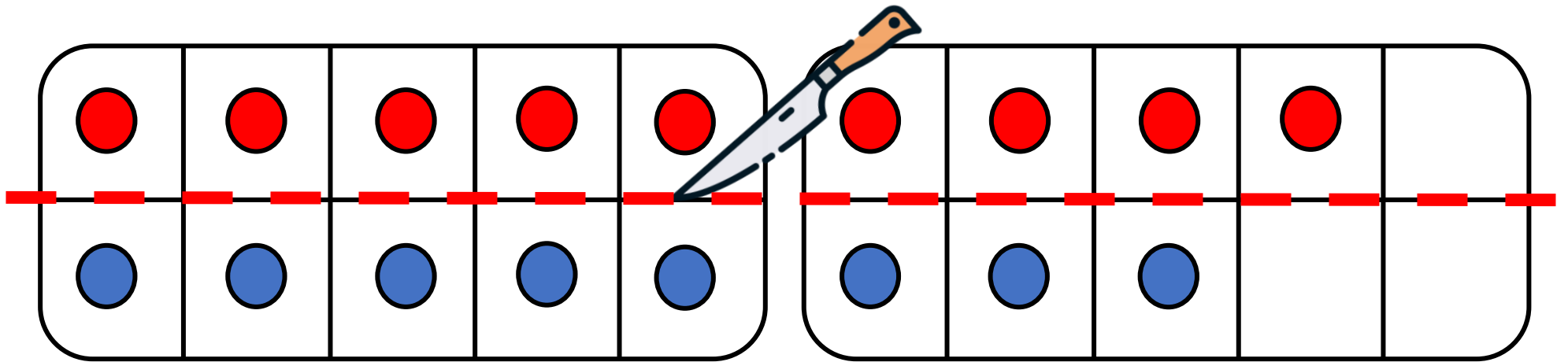


La moitié de 17, c'est \_\_\_\_ .



## CM21: Trouver la moitié des nombres inférieurs à 20

Quelle est la moitié de 17 ?

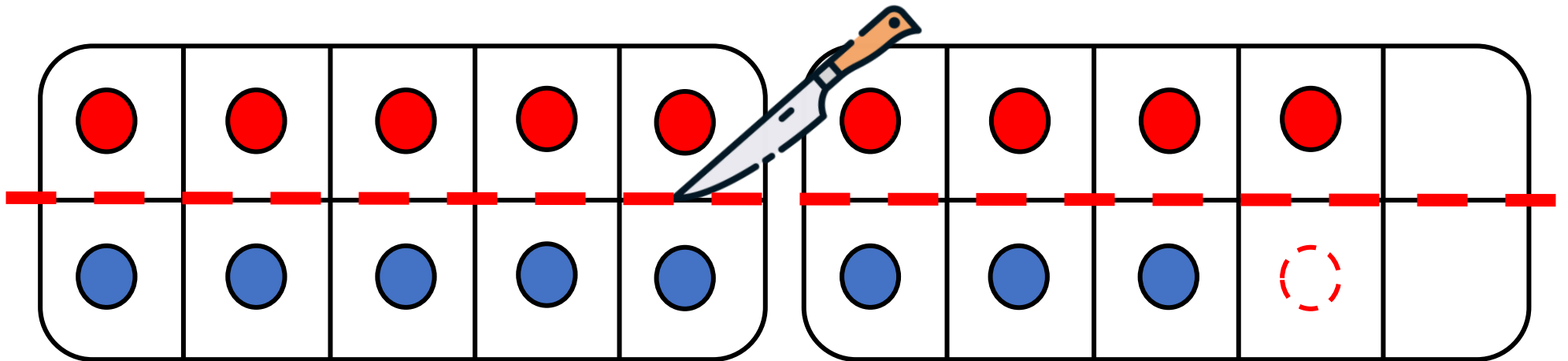


La moitié de 17, c'est \_\_\_\_ .



## CM21: Trouver la moitié des nombres inférieurs à 20

Quelle est la moitié de 17 ?

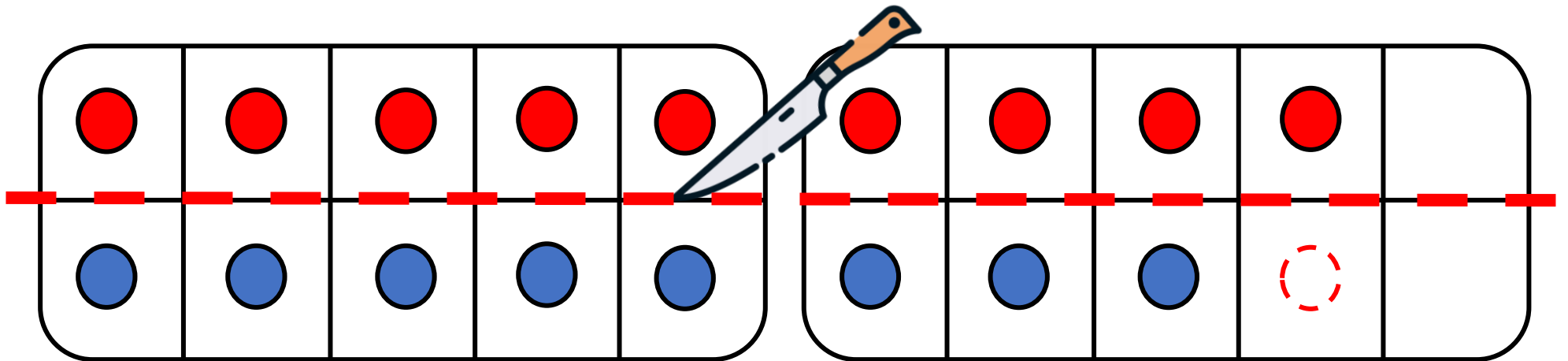


La moitié de 17, c'est \_\_\_\_ .



## CM21: Trouver la moitié des nombres inférieurs à 20

Quelle est la moitié de 17 ?

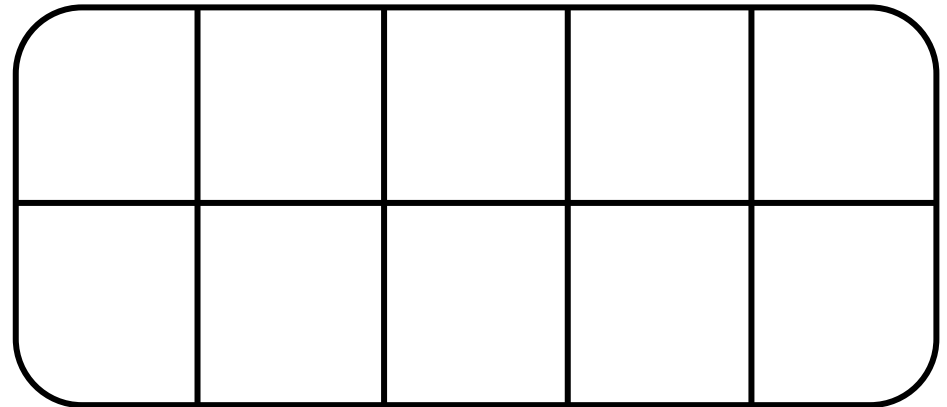
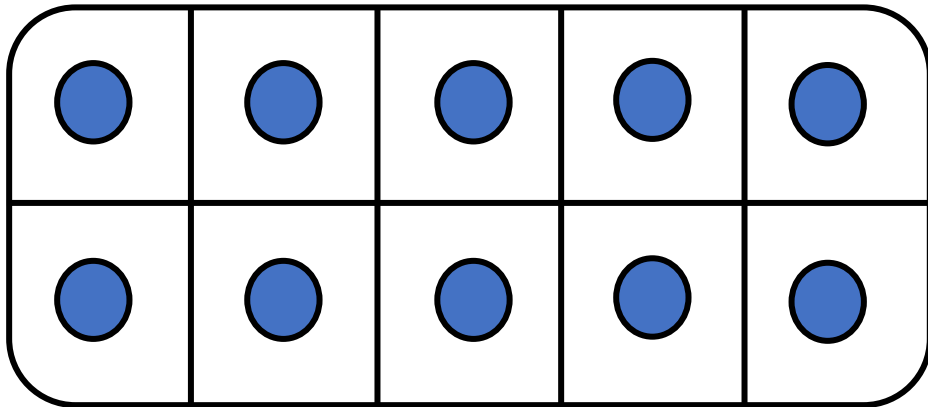


La moitié de 17, c'est   X   .



## CM21: Trouver la moitié des nombres inférieurs à 20

Quelle est la moitié de 10 ?



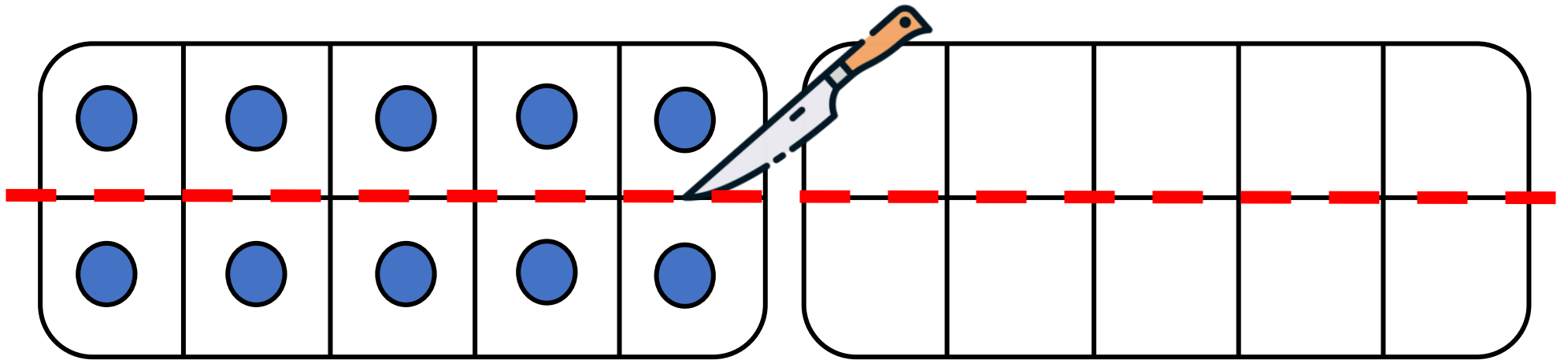
La moitié de 10, c'est \_\_\_\_ .





## CM21: Trouver la moitié des nombres inférieurs à 20

Quelle est la moitié de 10 ?

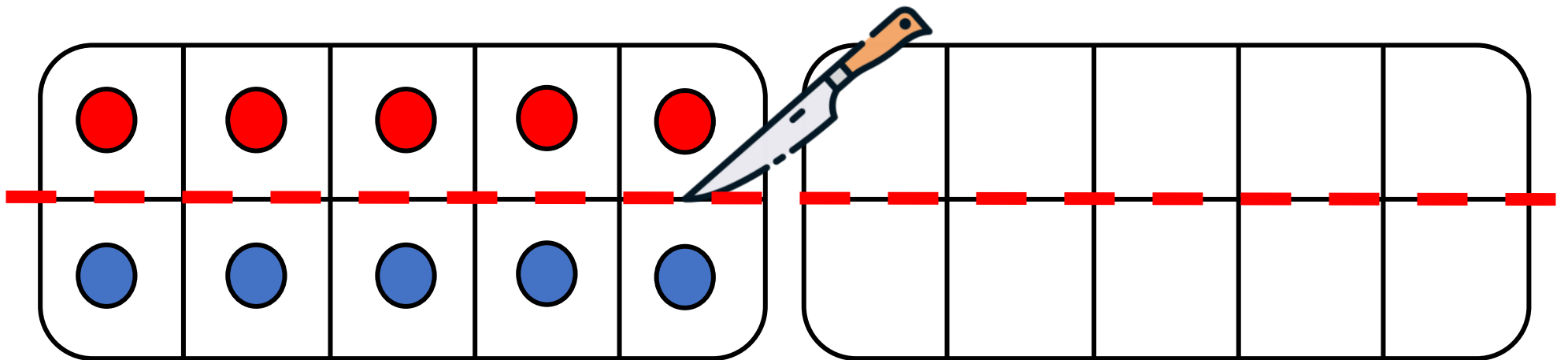


La moitié de 10, c'est \_\_\_\_ .



## CM21: Trouver la moitié des nombres inférieurs à 20

Quelle est la moitié de 10 ?

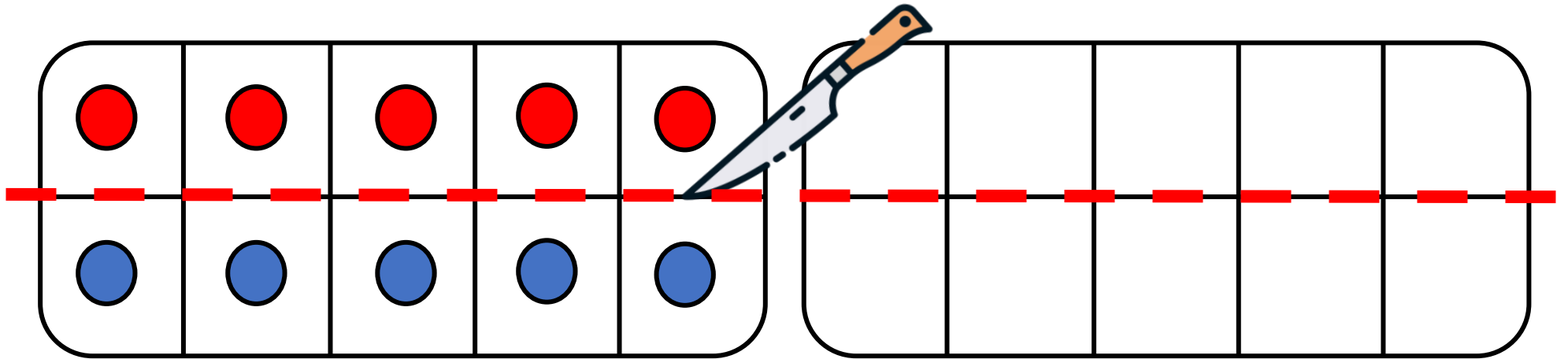


La moitié de 10, c'est \_\_\_\_ .



## CM21: Trouver la moitié des nombres inférieurs à 20

Quelle est la moitié de 10 ?

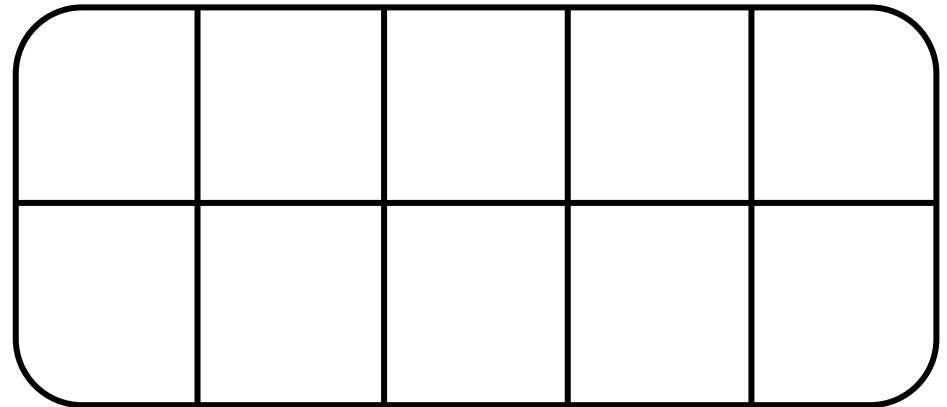
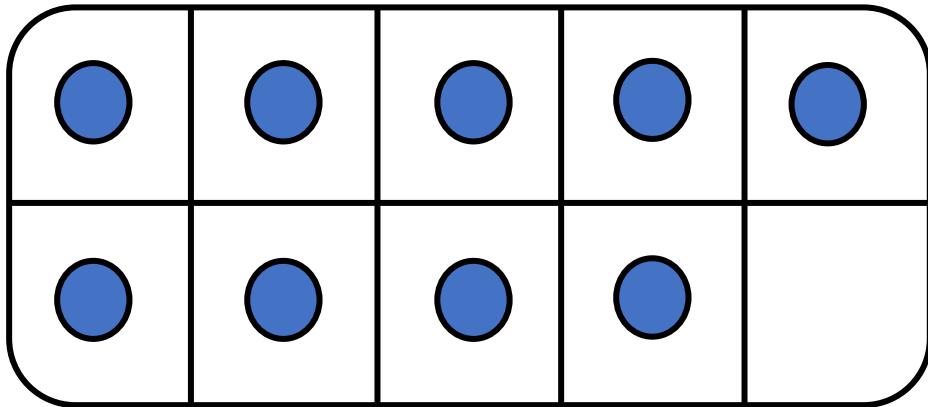


La moitié de 10, c'est 5 .



## CM21: Trouver la moitié des nombres inférieurs à 20

Quelle est la moitié de 9 ?

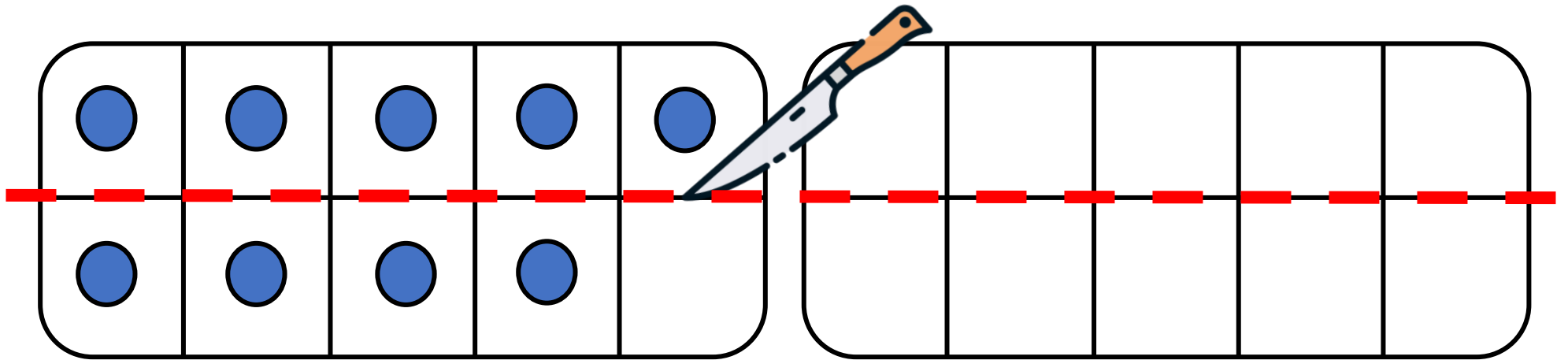


La moitié de 9, c'est \_\_\_\_ .



## CM21: Trouver la moitié des nombres inférieurs à 20

Quelle est la moitié de 9 ?

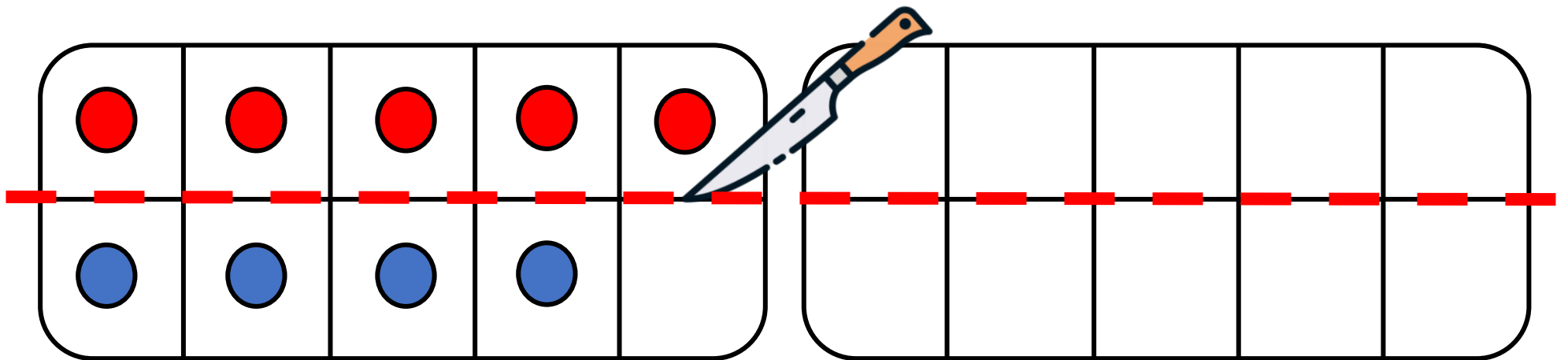


La moitié de 9, c'est \_\_\_\_ .



## CM21: Trouver la moitié des nombres inférieurs à 20

Quelle est la moitié de 9 ?

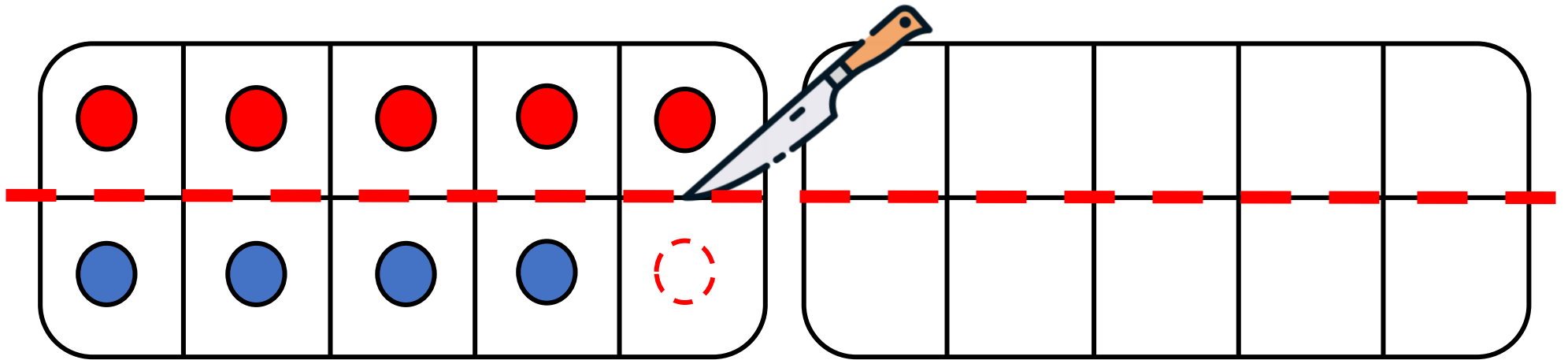


La moitié de 9, c'est \_\_\_\_ .



## CM21: Trouver la moitié des nombres inférieurs à 20

Quelle est la moitié de 9 ?

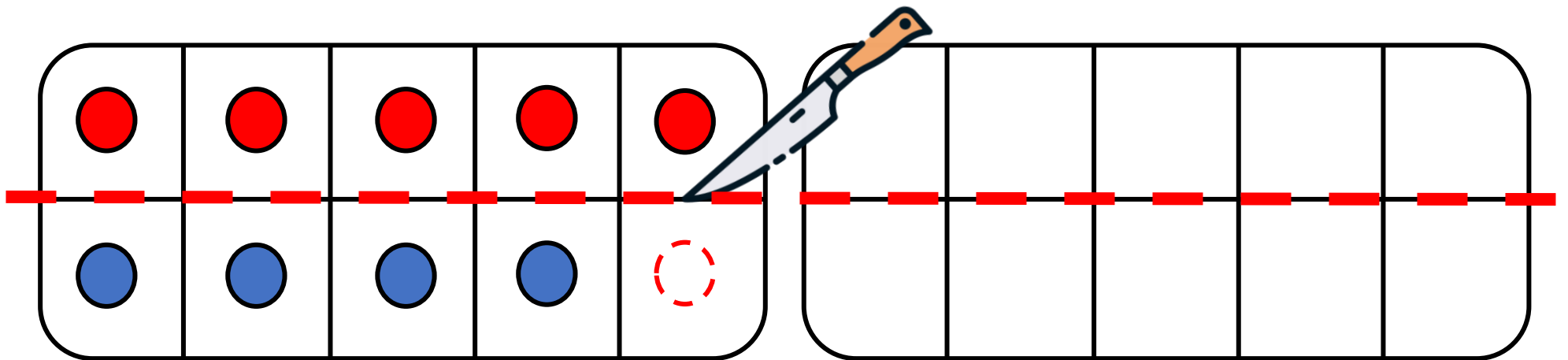


La moitié de 9, c'est \_\_\_\_ .



## CM21: Trouver la moitié des nombres inférieurs à 20

Quelle est la moitié de 9 ?



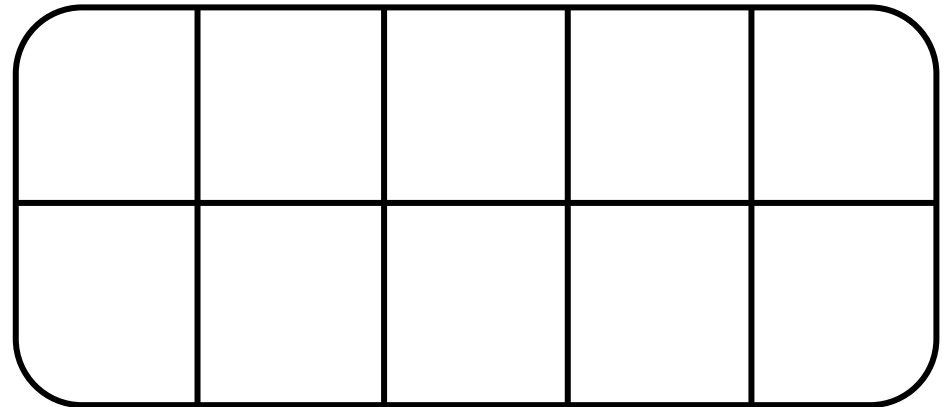
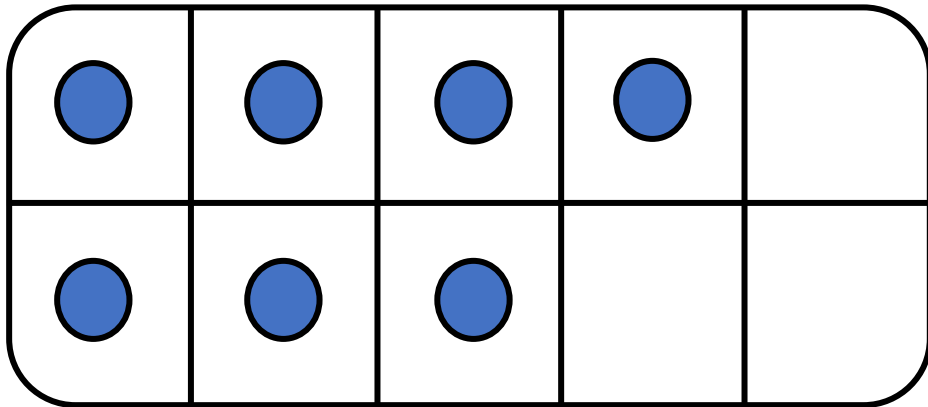
La moitié de 9, c'est X .





## CM21: Trouver la moitié des nombres inférieurs à 20

Quelle est la moitié de 7 ?

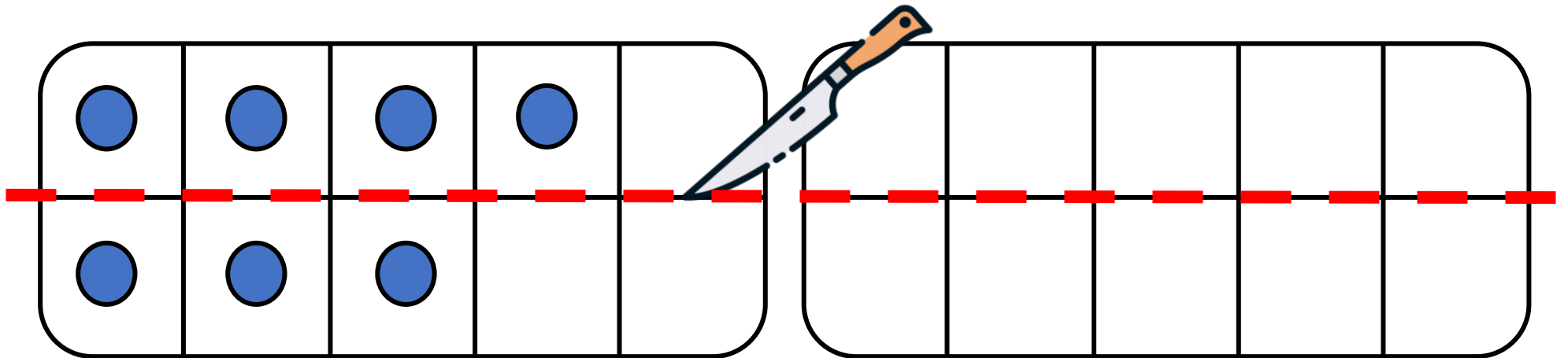


La moitié de 7, c'est \_\_\_\_ .



## CM21: Trouver la moitié des nombres inférieurs à 20

Quelle est la moitié de 7 ?

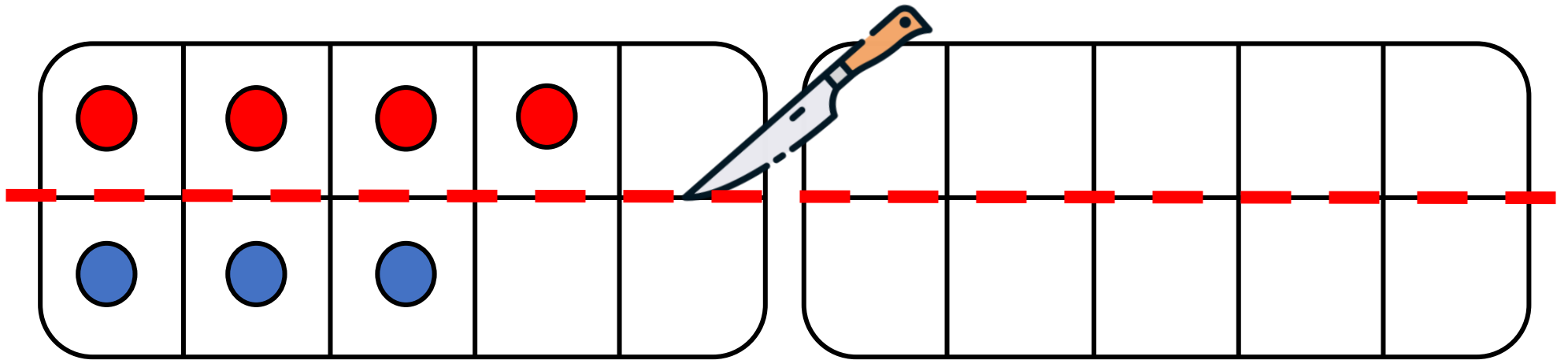


La moitié de 7, c'est \_\_\_\_ .



## CM21: Trouver la moitié des nombres inférieurs à 20

Quelle est la moitié de 7 ?

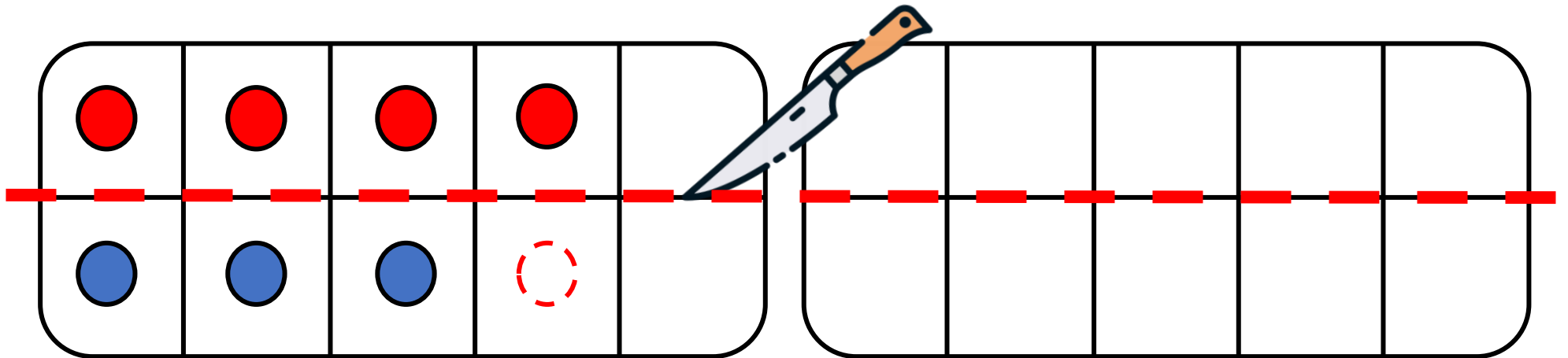


La moitié de 7, c'est \_\_\_\_ .



## CM21: Trouver la moitié des nombres inférieurs à 20

Quelle est la moitié de 7 ?

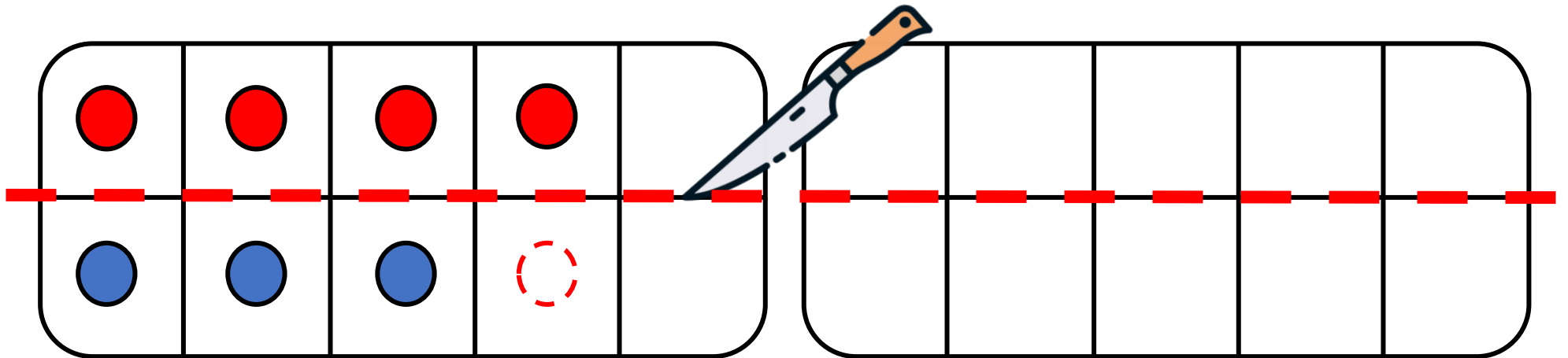


La moitié de 7, c'est \_\_\_\_ .



## CM21: Trouver la moitié des nombres inférieurs à 20

Quelle est la moitié de 7 ?

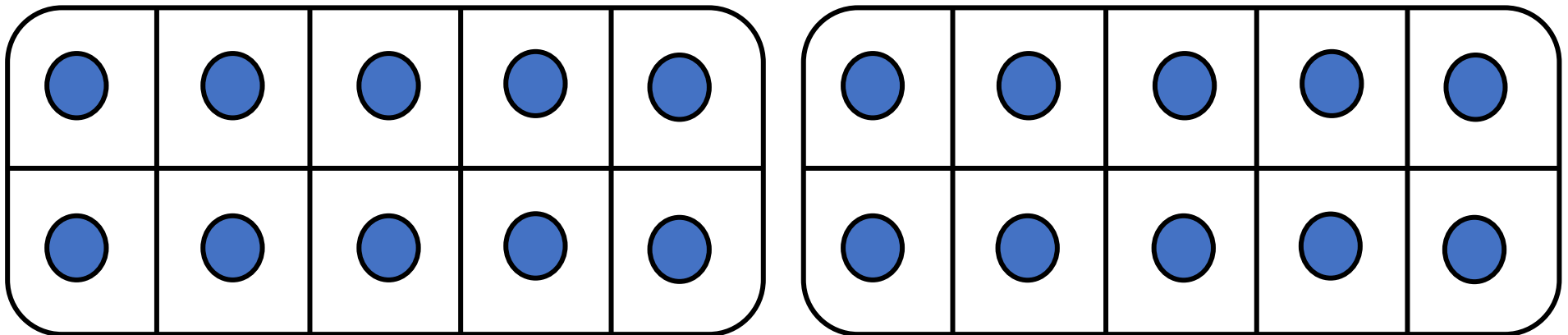


La moitié de 7, c'est X.



## CM21: Trouver la moitié des nombres inférieurs à 20

Quelle est la moitié de 20 ?

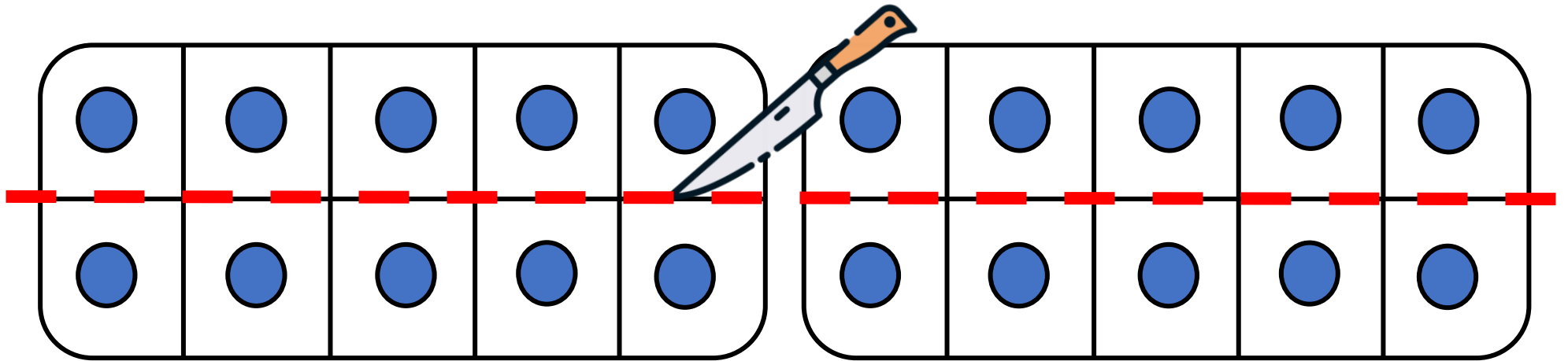


La moitié de 20, c'est \_\_\_\_ .



## CM21: Trouver la moitié des nombres inférieurs à 20

Quelle est la moitié de 20 ?

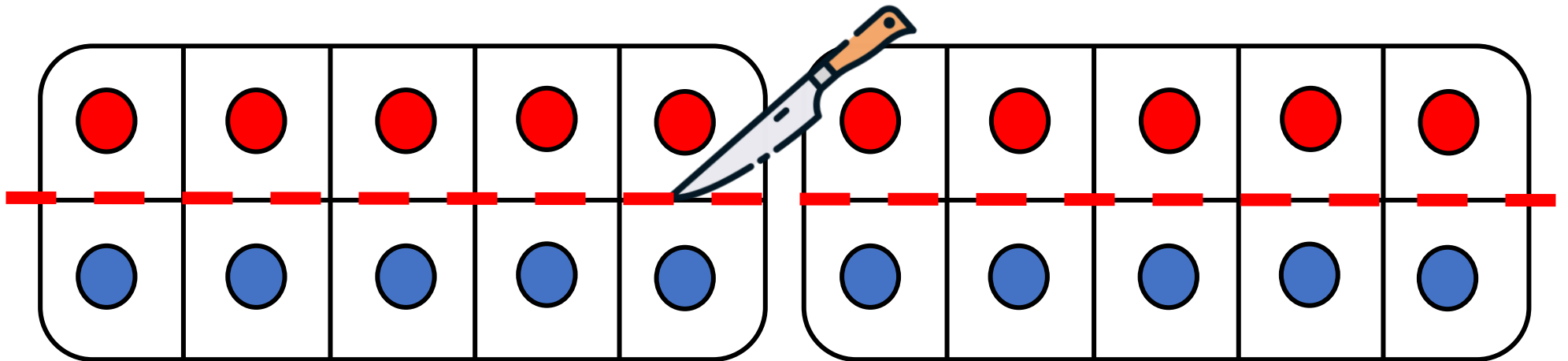


La moitié de 20, c'est \_\_\_\_ .



## CM21: Trouver la moitié des nombres inférieurs à 20

Quelle est la moitié de 20 ?



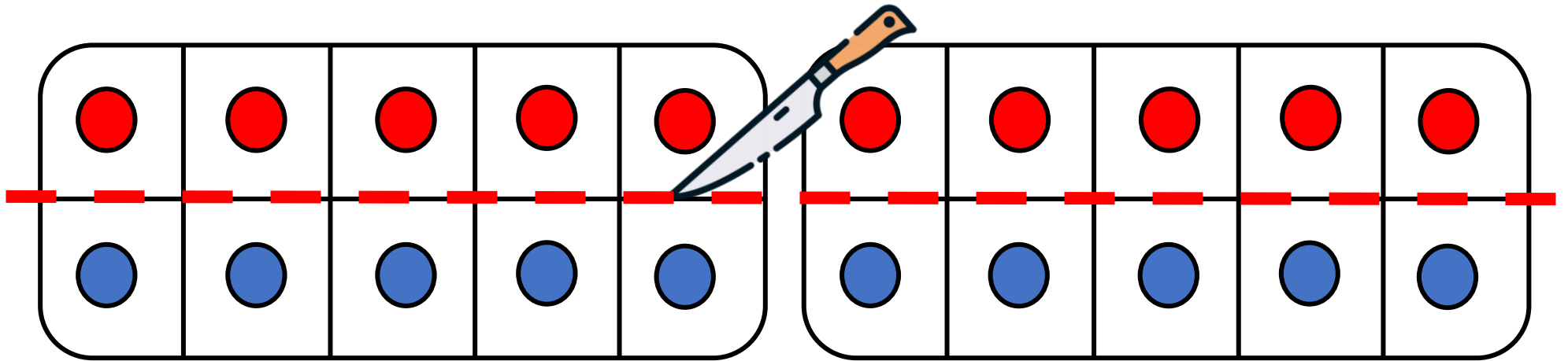
La moitié de 20, c'est \_\_\_\_ .





## CM21: Trouver la moitié des nombres inférieurs à 20

Quelle est la moitié de 20 ?

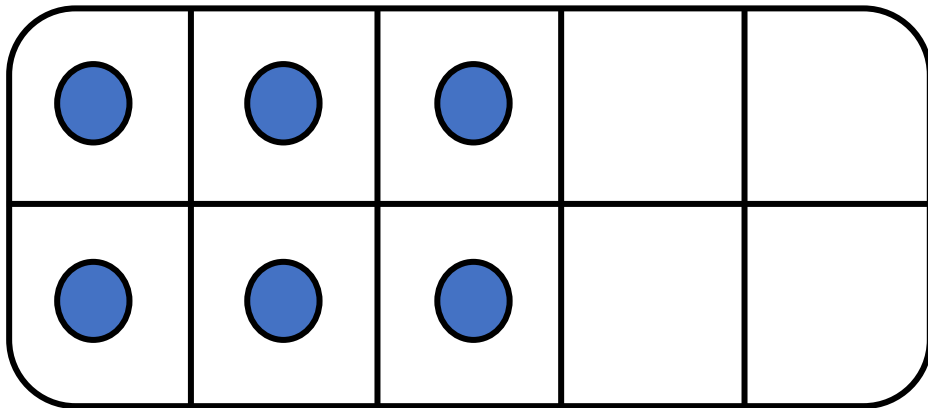


La moitié de 20, c'est 10 .



## CM21: Trouver la moitié des nombres inférieurs à 20

Quelle est la moitié de 6 ?

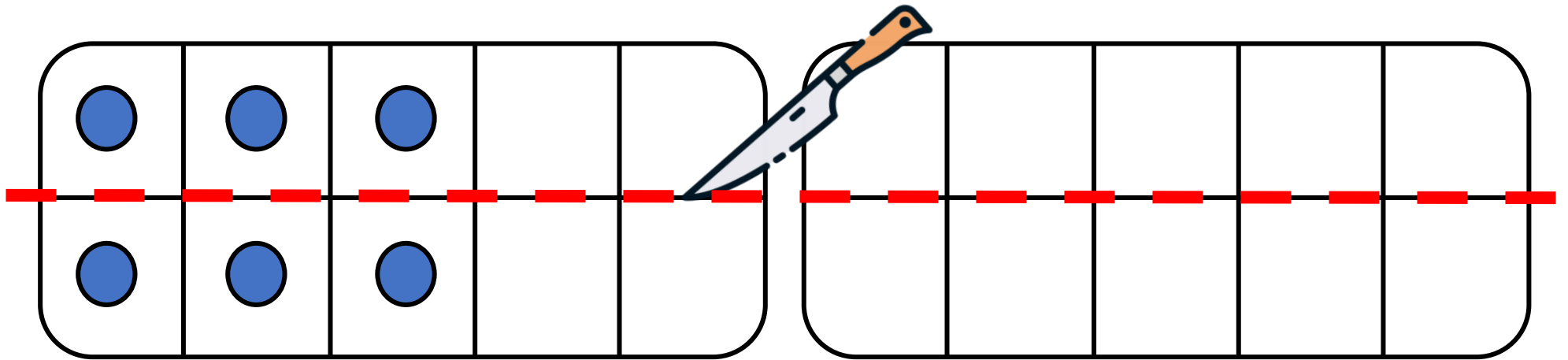


La moitié de 6, c'est \_\_\_\_ .



## CM21: Trouver la moitié des nombres inférieurs à 20

Quelle est la moitié de 6 ?

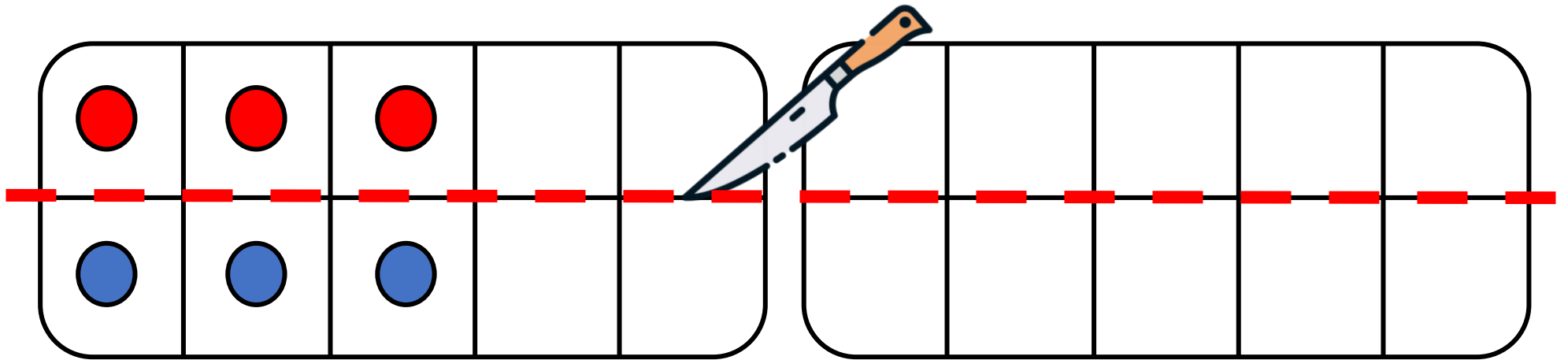


La moitié de 6, c'est \_\_\_\_ .



## CM21: Trouver la moitié des nombres inférieurs à 20

Quelle est la moitié de 6 ?

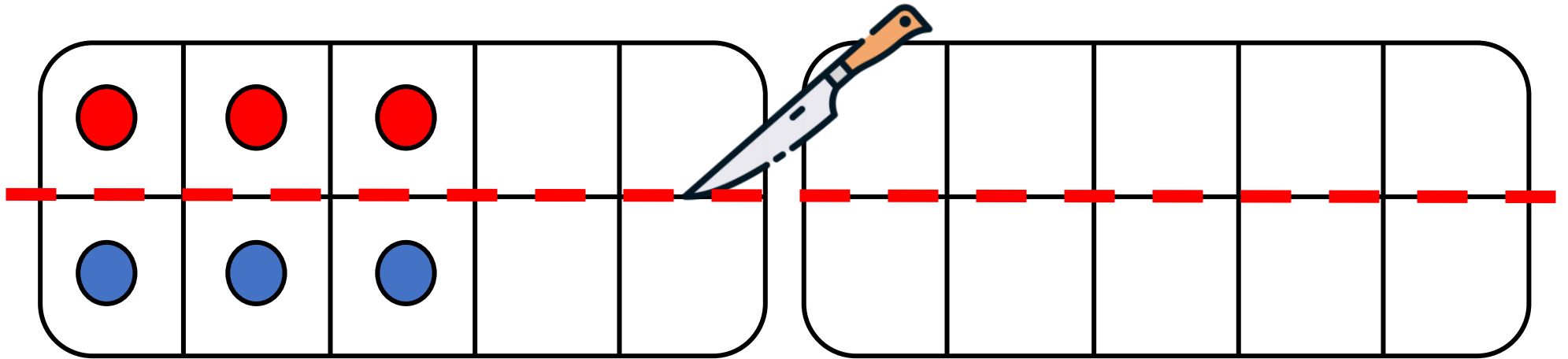


La moitié de 6, c'est \_\_\_\_ .



## CM21: Trouver la moitié des nombres inférieurs à 20

Quelle est la moitié de 6 ?

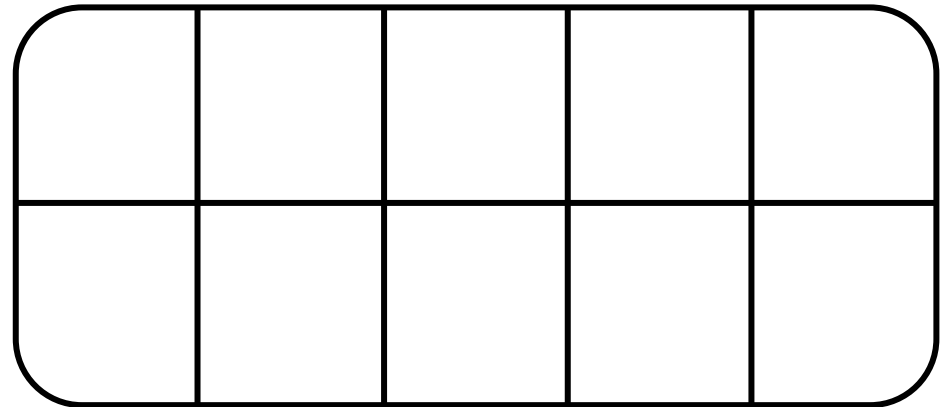
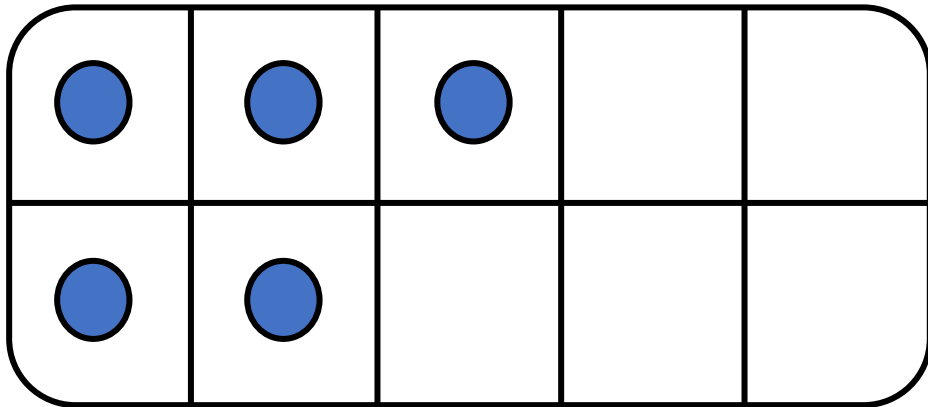


La moitié de 6, c'est 3.



## CM21: Trouver la moitié des nombres inférieurs à 20

Quelle est la moitié de 5 ?

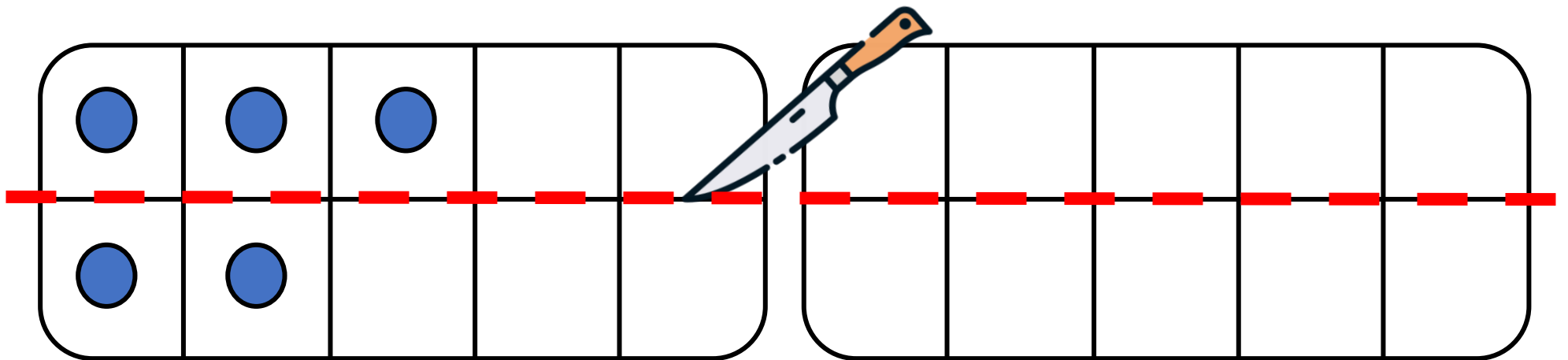


La moitié de 5, c'est \_\_\_\_ .



## CM21: Trouver la moitié des nombres inférieurs à 20

Quelle est la moitié de 5 ?

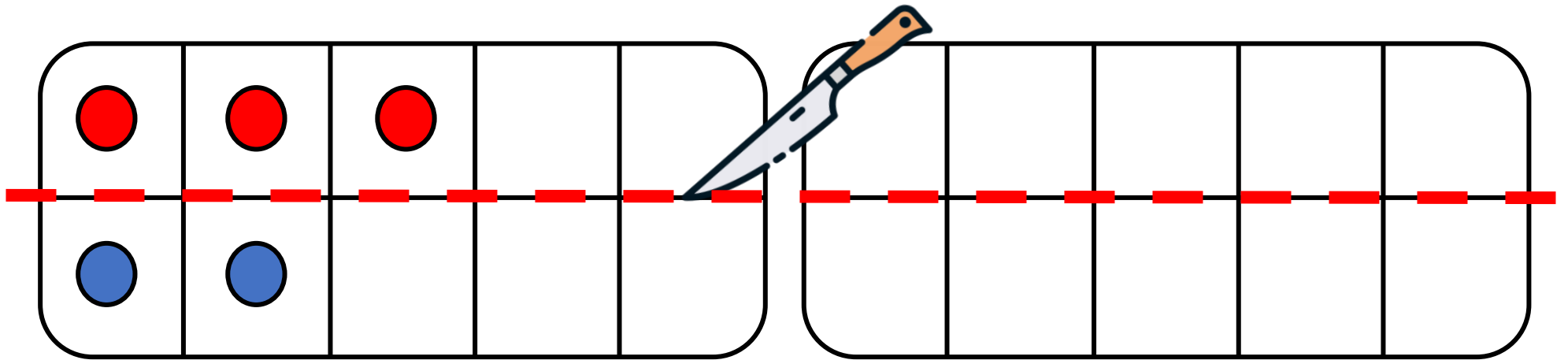


La moitié de 5, c'est \_\_\_\_ .



## CM21: Trouver la moitié des nombres inférieurs à 20

Quelle est la moitié de 5 ?



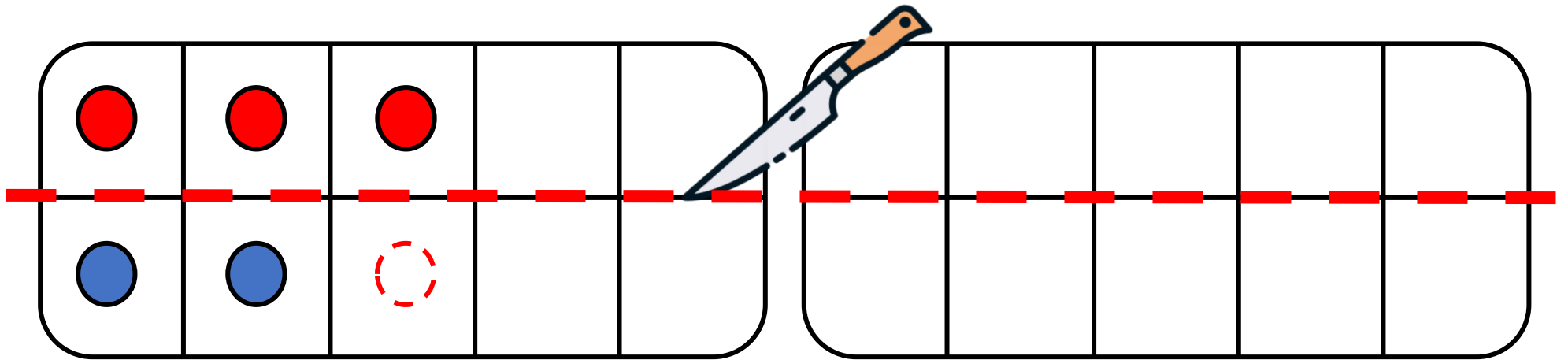
La moitié de 5, c'est \_\_\_\_ .





## CM21: Trouver la moitié des nombres inférieurs à 20

Quelle est la moitié de 5 ?

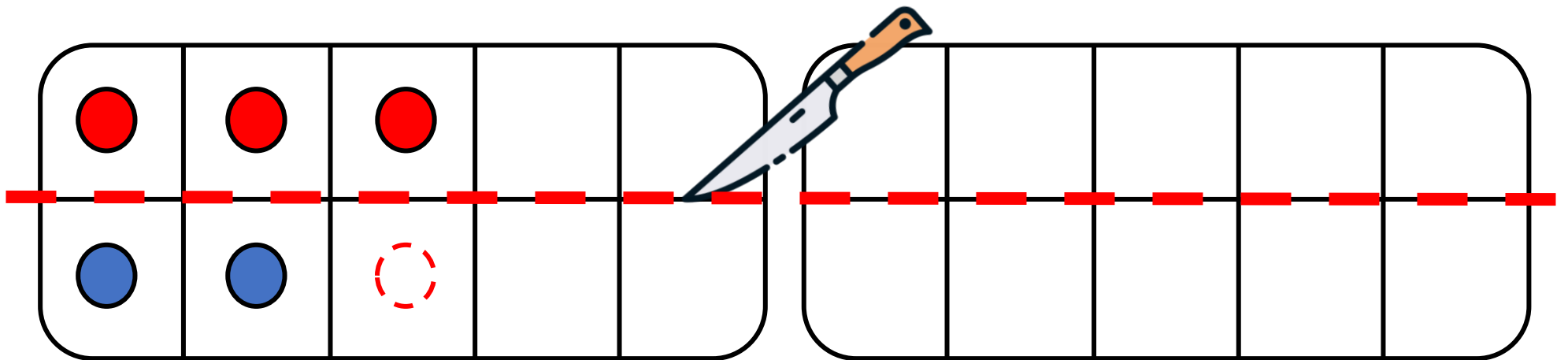


La moitié de 5, c'est \_\_\_\_ .



## CM21: Trouver la moitié des nombres inférieurs à 20

Quelle est la moitié de 5 ?

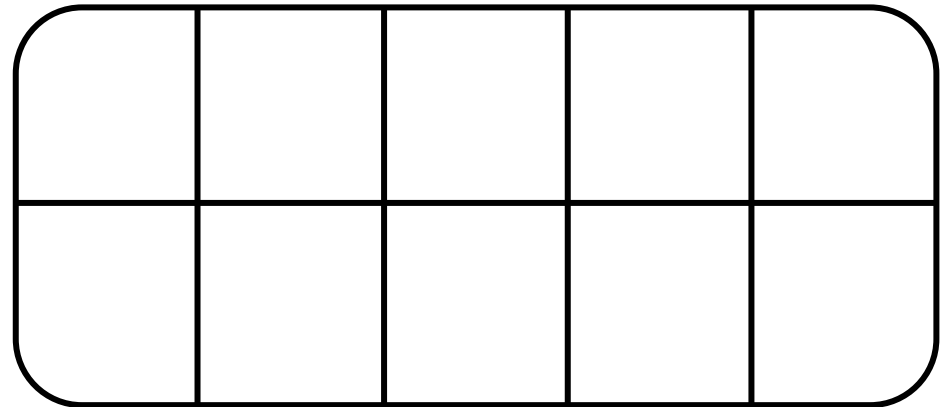
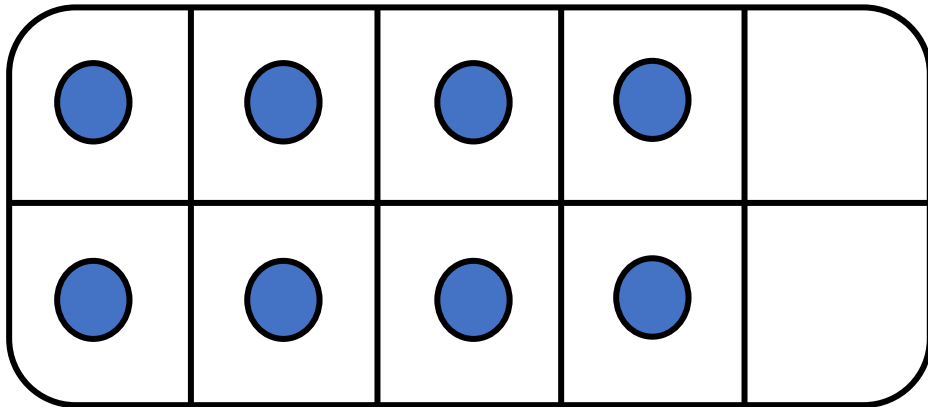


La moitié de 5, c'est   X   .



## CM21: Trouver la moitié des nombres inférieurs à 20

Quelle est la moitié de 8 ?

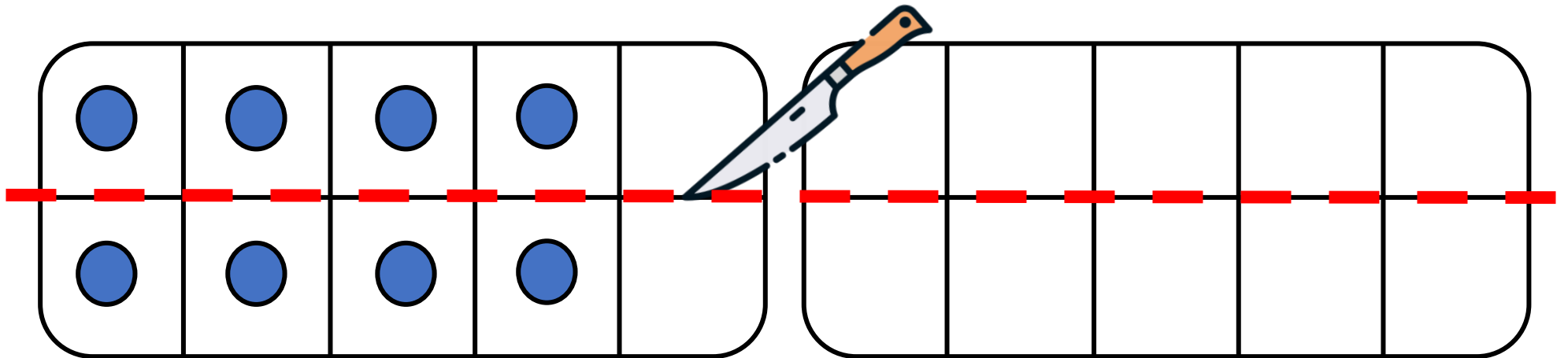


La moitié de 8, c'est \_\_\_\_ .



## CM21: Trouver la moitié des nombres inférieurs à 20

Quelle est la moitié de 8 ?

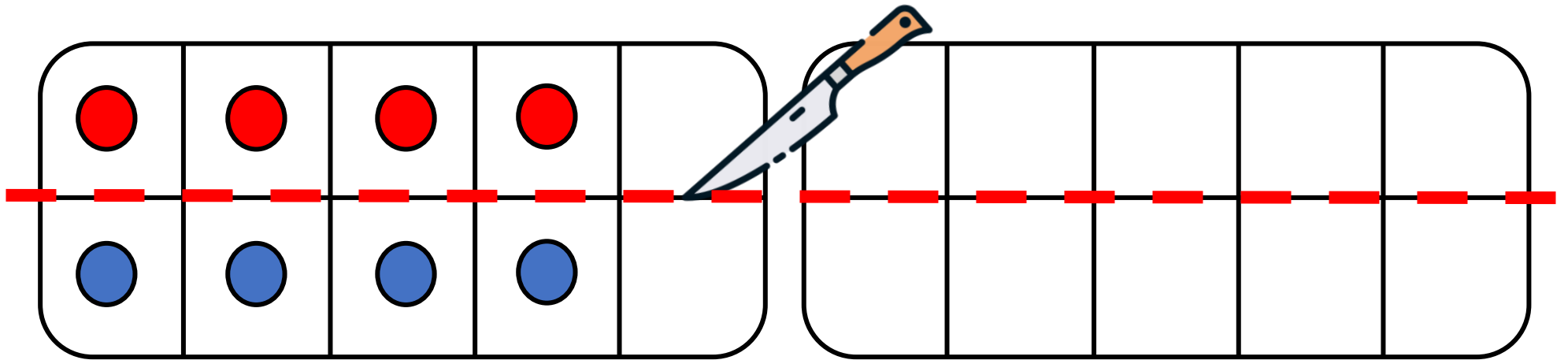


La moitié de 8, c'est \_\_\_\_ .



## CM21: Trouver la moitié des nombres inférieurs à 20

Quelle est la moitié de 8 ?

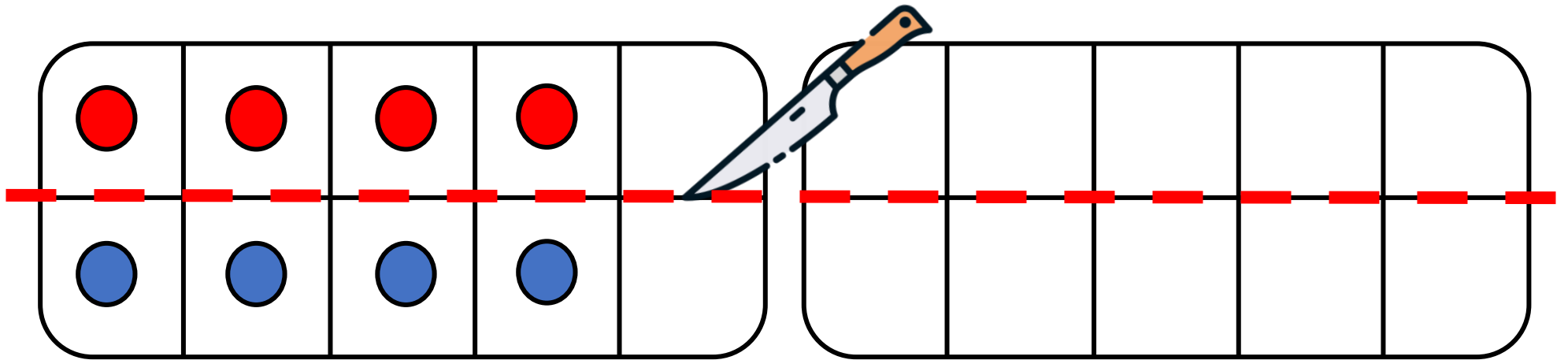


La moitié de 8, c'est \_\_\_\_ .



## CM21: Trouver la moitié des nombres inférieurs à 20

Quelle est la moitié de 8 ?

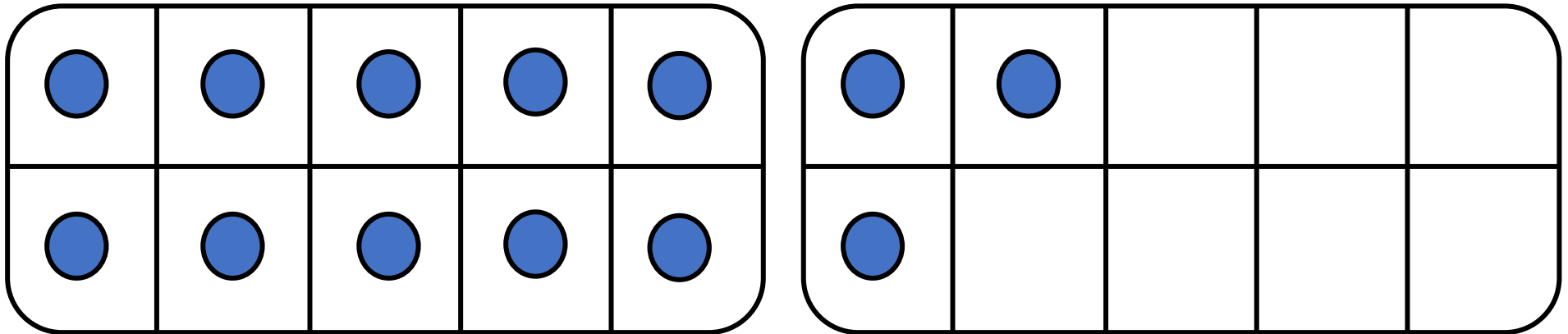


La moitié de 8, c'est 4 .



## CM21: Trouver la moitié des nombres inférieurs à 20

Quelle est la moitié de 13 ?

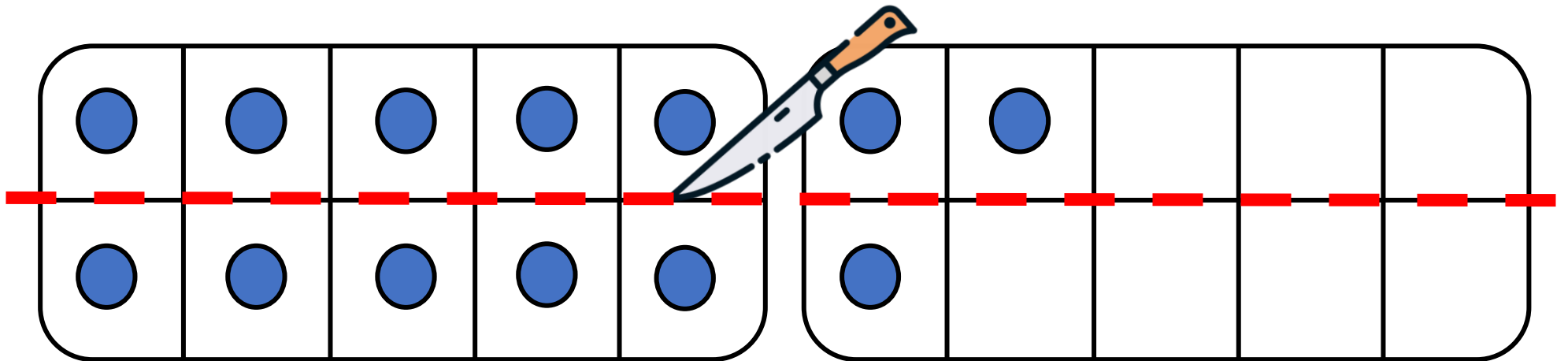


La moitié de 13, c'est \_\_\_\_ .



## CM21: Trouver la moitié des nombres inférieurs à 20

Quelle est la moitié de 13 ?



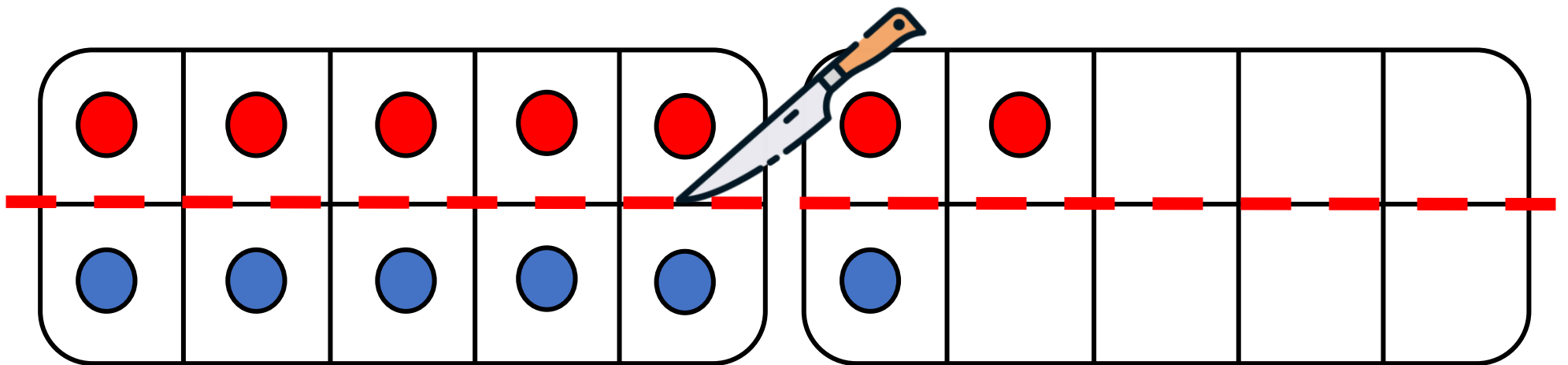
La moitié de 13, c'est \_\_\_\_ .





## CM21: Trouver la moitié des nombres inférieurs à 20

Quelle est la moitié de 13 ?

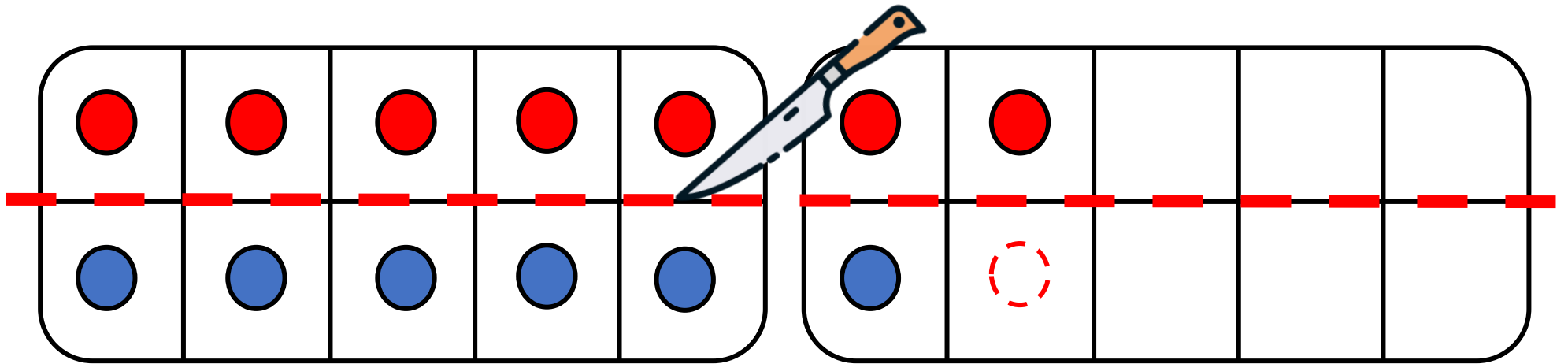


La moitié de 13, c'est \_\_\_\_ .



## CM21: Trouver la moitié des nombres inférieurs à 20

Quelle est la moitié de 13 ?

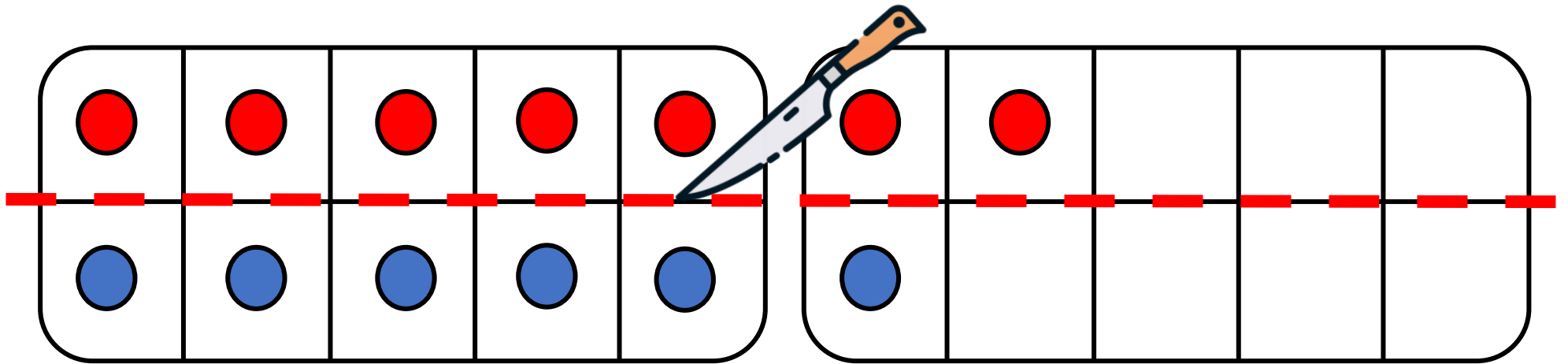


La moitié de 13, c'est \_\_\_\_ .



## CM21: Trouver la moitié des nombres inférieurs à 20

Quelle est la moitié de 13 ?

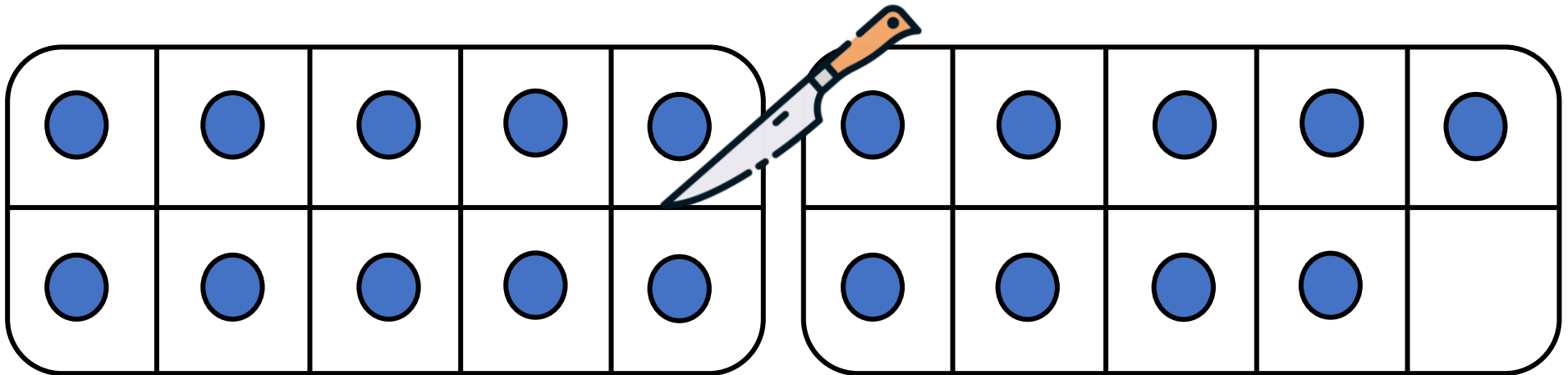


La moitié de 13, c'est X .



## CM21: Trouver la moitié des nombres inférieurs à 20

Quelle est la moitié de 19 ?

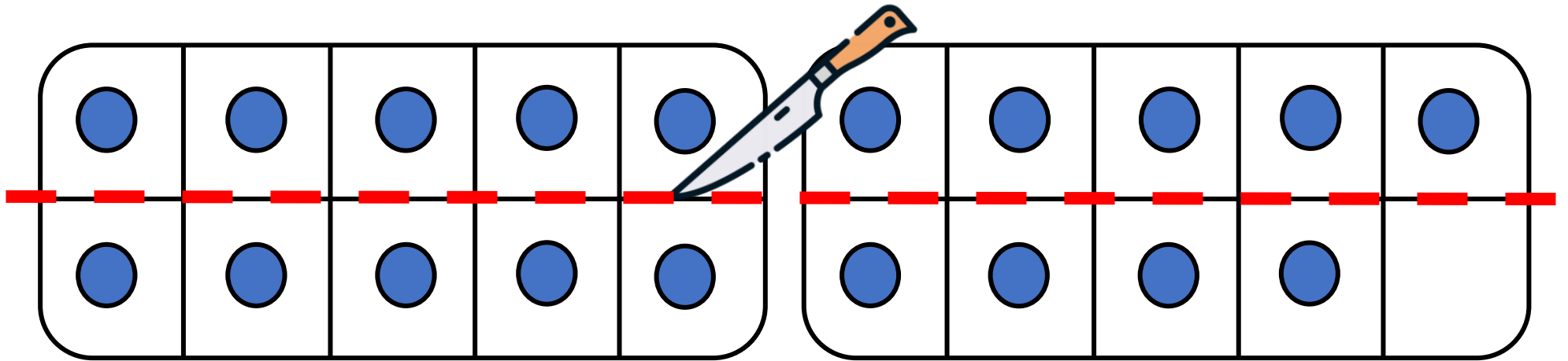


La moitié de 19, c'est \_\_\_\_ .



## CM21: Trouver la moitié des nombres inférieurs à 20

Quelle est la moitié de 19 ?

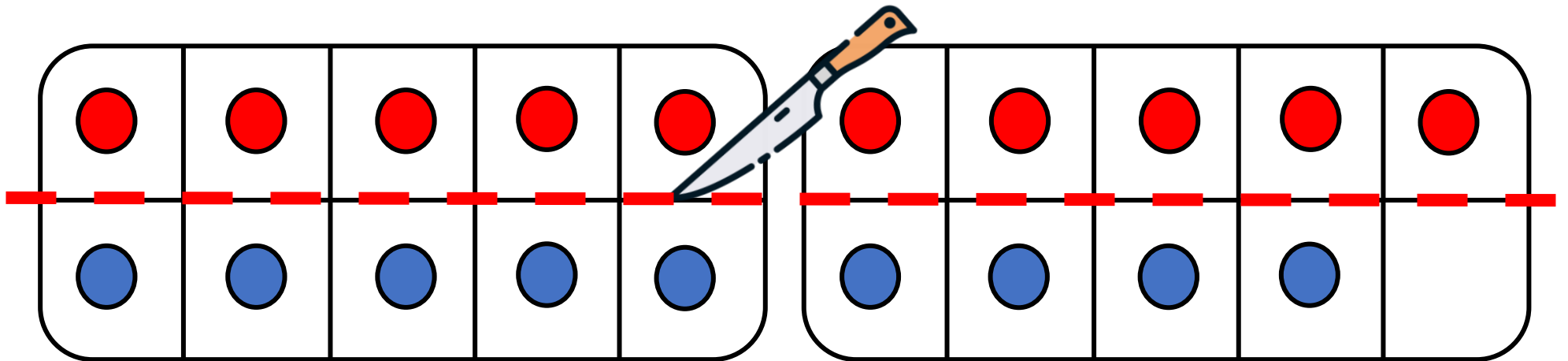


La moitié de 19, c'est \_\_\_\_ .



## CM21: Trouver la moitié des nombres inférieurs à 20

Quelle est la moitié de 19 ?

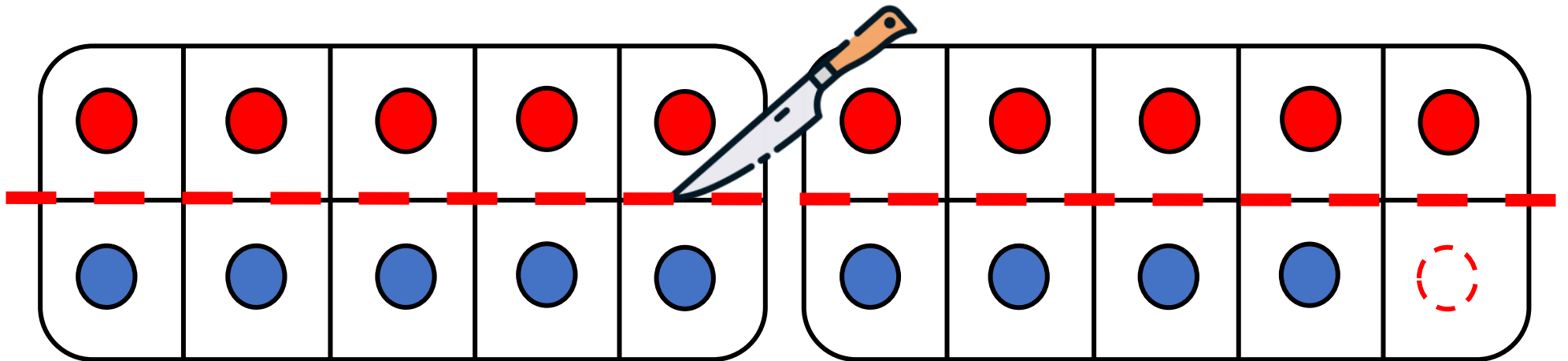


La moitié de 19, c'est \_\_\_\_ .



## CM21: Trouver la moitié des nombres inférieurs à 20

Quelle est la moitié de 19 ?

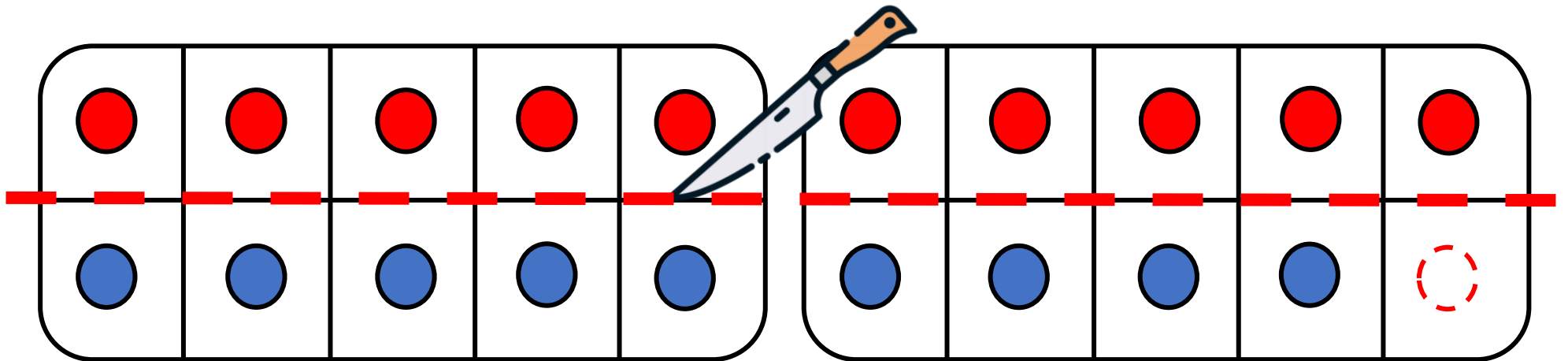


La moitié de 19, c'est \_\_\_\_ .



## CM21: Trouver la moitié des nombres inférieurs à 20

Quelle est la moitié de 19 ?



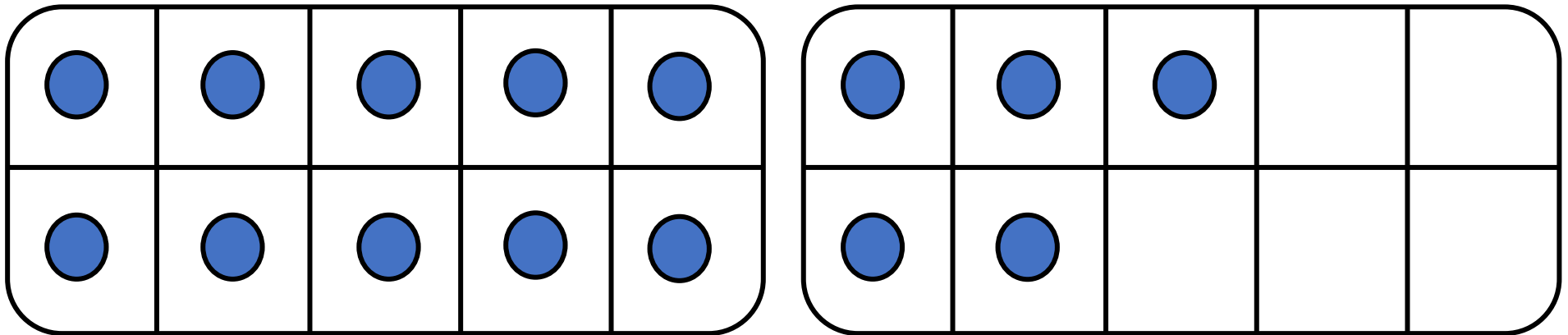
La moitié de 19, c'est   X   .





## CM21: Trouver la moitié des nombres inférieurs à 20

Quelle est la moitié de 15 ?

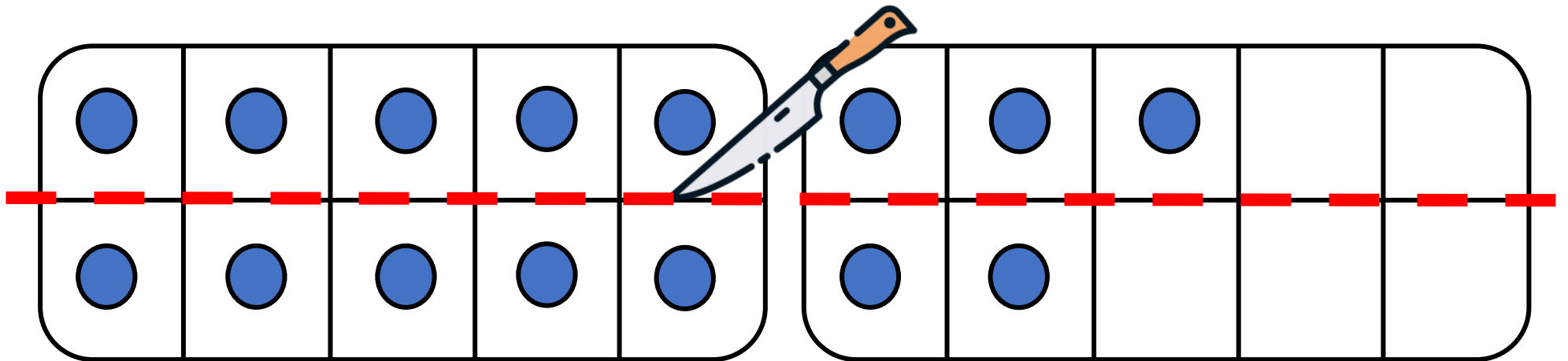


La moitié de 15, c'est \_\_\_\_ .



## CM21: Trouver la moitié des nombres inférieurs à 20

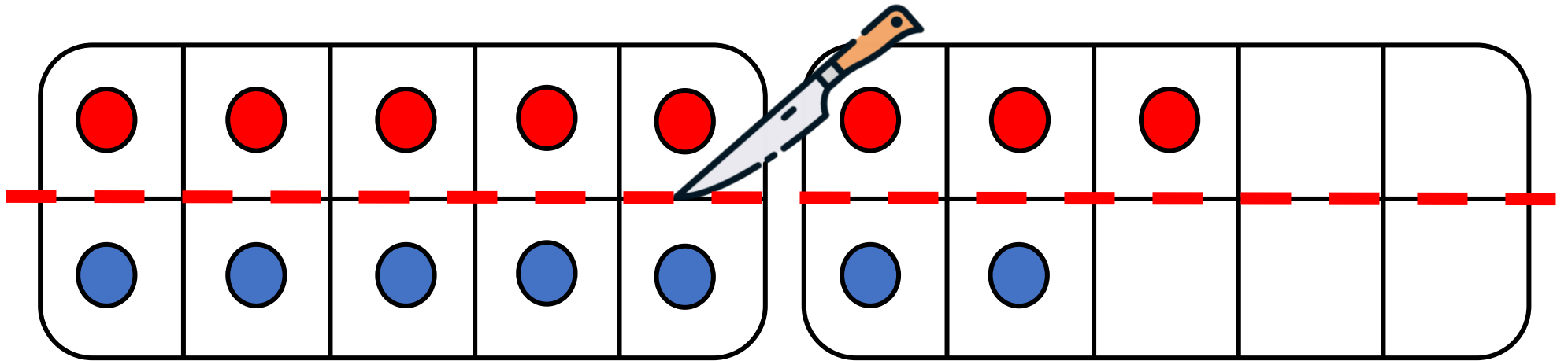
Quelle est la moitié de 15 ?



La moitié de 15, c'est \_\_\_\_ .



Quelle est la moitié de 15 ?

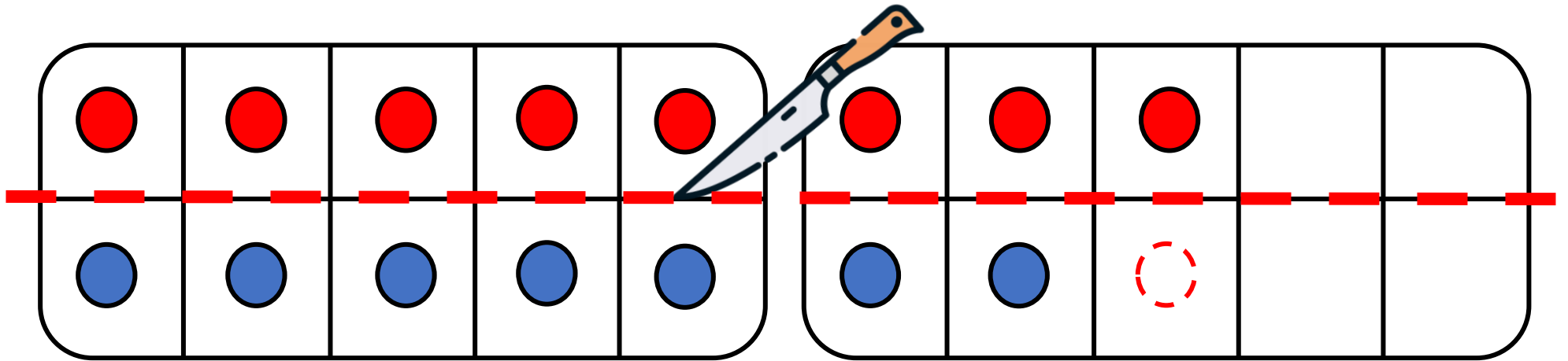


La moitié de 15, c'est \_\_\_\_ .



## CM21: Trouver la moitié des nombres inférieurs à 20

Quelle est la moitié de 15 ?

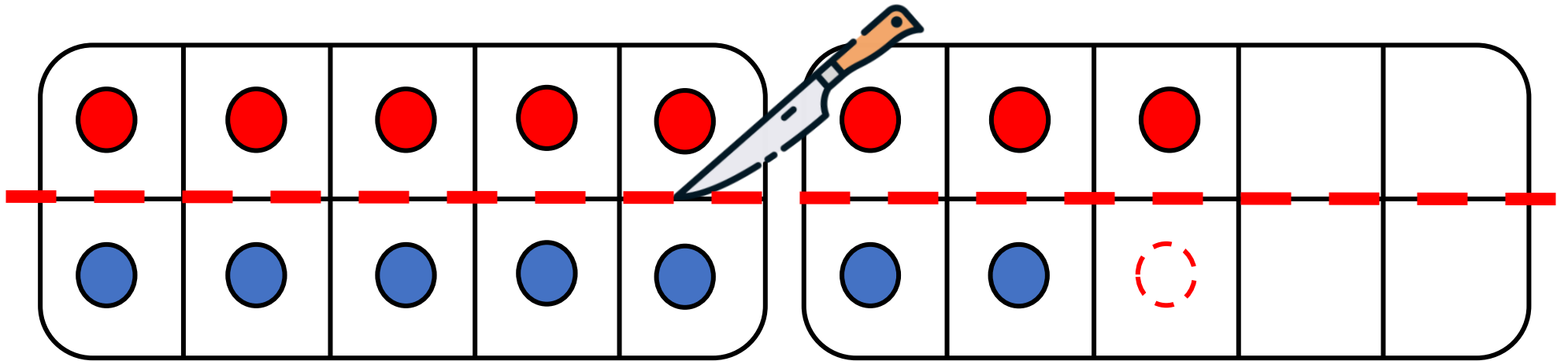


La moitié de 15, c'est \_\_\_\_ .



## CM21: Trouver la moitié des nombres inférieurs à 20

Quelle est la moitié de 15 ?



La moitié de 15, c'est   X   .



































## CM21: Trouver la moitié des nombres inférieurs à 20

La moitié de 1, c'est	X		
La moitié de 2, c'est	1		
La moitié de 3, c'est	X		
La moitié de 4, c'est	2		
La moitié de 5, c'est	X		
La moitié de 6, c'est	3		
La moitié de 7, c'est	X		



## CM21: Trouver la moitié des nombres inférieurs à 20

La moitié de 1, c'est	X		
La moitié de 2, c'est	1		
La moitié de 3, c'est	X		
La moitié de 4, c'est	2		
La moitié de 5, c'est	X		
La moitié de 6, c'est	3		
La moitié de 7, c'est	X		
La moitié de 8, c'est			



## CM21: Trouver la moitié des nombres inférieurs à 20

La moitié de 1, c'est	X		
La moitié de 2, c'est	1		
La moitié de 3, c'est	X		
La moitié de 4, c'est	2		
La moitié de 5, c'est	X		
La moitié de 6, c'est	3		
La moitié de 7, c'est	X		
La moitié de 8, c'est	4		





## CM21: Trouver la moitié des nombres inférieurs à 20

La moitié de 1, c'est	X		
La moitié de 2, c'est	1		
La moitié de 3, c'est	X		
La moitié de 4, c'est	2		
La moitié de 5, c'est	X		
La moitié de 6, c'est	3		
La moitié de 7, c'est	X		
La moitié de 8, c'est	4		
La moitié de 9, c'est	X		





## CM21: Trouver la moitié des nombres inférieurs à 20

La moitié de 1, c'est	X		
La moitié de 2, c'est	1		
La moitié de 3, c'est	X		
La moitié de 4, c'est	2		
La moitié de 5, c'est	X		
La moitié de 6, c'est	3		
La moitié de 7, c'est	X		
La moitié de 8, c'est	4		
La moitié de 9, c'est	X		
La moitié de 10, c'est			



## CM21: Trouver la moitié des nombres inférieurs à 20

La moitié de 1, c'est	X		
La moitié de 2, c'est	1		
La moitié de 3, c'est	X		
La moitié de 4, c'est	2		
La moitié de 5, c'est	X		
La moitié de 6, c'est	3		
La moitié de 7, c'est	X		
La moitié de 8, c'est	4		
La moitié de 9, c'est	X		
La moitié de 10, c'est	5		





















## CM21: Trouver la moitié des nombres inférieurs à 20

La moitié de 1, c'est	X
La moitié de 2, c'est	1
La moitié de 3, c'est	X
La moitié de 4, c'est	2
La moitié de 5, c'est	X
La moitié de 6, c'est	3
La moitié de 7, c'est	X
La moitié de 8, c'est	4
La moitié de 9, c'est	X
La moitié de 10, c'est	5

La moitié de 11, c'est	X
La moitié de 12, c'est	6
La moitié de 13, c'est	X
La moitié de 14, c'est	7
La moitié de 15, c'est	



## CM21: Trouver la moitié des nombres inférieurs à 20

La moitié de 1, c'est	X
La moitié de 2, c'est	1
La moitié de 3, c'est	X
La moitié de 4, c'est	2
La moitié de 5, c'est	X
La moitié de 6, c'est	3
La moitié de 7, c'est	X
La moitié de 8, c'est	4
La moitié de 9, c'est	X
La moitié de 10, c'est	5

La moitié de 11, c'est	X
La moitié de 12, c'est	6
La moitié de 13, c'est	X
La moitié de 14, c'est	7
La moitié de 15, c'est	X



## CM21: Trouver la moitié des nombres inférieurs à 20

La moitié de 1, c'est	X
La moitié de 2, c'est	1
La moitié de 3, c'est	X
La moitié de 4, c'est	2
La moitié de 5, c'est	X
La moitié de 6, c'est	3
La moitié de 7, c'est	X
La moitié de 8, c'est	4
La moitié de 9, c'est	X
La moitié de 10, c'est	5

La moitié de 11, c'est	X
La moitié de 12, c'est	6
La moitié de 13, c'est	X
La moitié de 14, c'est	7
La moitié de 15, c'est	X
La moitié de 16, c'est	



## CM21: Trouver la moitié des nombres inférieurs à 20

La moitié de 1, c'est	X
La moitié de 2, c'est	1
La moitié de 3, c'est	X
La moitié de 4, c'est	2
La moitié de 5, c'est	X
La moitié de 6, c'est	3
La moitié de 7, c'est	X
La moitié de 8, c'est	4
La moitié de 9, c'est	X
La moitié de 10, c'est	5

La moitié de 11, c'est	X
La moitié de 12, c'est	6
La moitié de 13, c'est	X
La moitié de 14, c'est	7
La moitié de 15, c'est	X
La moitié de 16, c'est	8



## CM21: Trouver la moitié des nombres inférieurs à 20

La moitié de 1, c'est	X
La moitié de 2, c'est	1
La moitié de 3, c'est	X
La moitié de 4, c'est	2
La moitié de 5, c'est	X
La moitié de 6, c'est	3
La moitié de 7, c'est	X
La moitié de 8, c'est	4
La moitié de 9, c'est	X
La moitié de 10, c'est	5

La moitié de 11, c'est	X
La moitié de 12, c'est	6
La moitié de 13, c'est	X
La moitié de 14, c'est	7
La moitié de 15, c'est	X
La moitié de 16, c'est	8
La moitié de 17, c'est	



## CM21: Trouver la moitié des nombres inférieurs à 20

La moitié de 1, c'est	X
La moitié de 2, c'est	1
La moitié de 3, c'est	X
La moitié de 4, c'est	2
La moitié de 5, c'est	X
La moitié de 6, c'est	3
La moitié de 7, c'est	X
La moitié de 8, c'est	4
La moitié de 9, c'est	X
La moitié de 10, c'est	5

La moitié de 11, c'est	X
La moitié de 12, c'est	6
La moitié de 13, c'est	X
La moitié de 14, c'est	7
La moitié de 15, c'est	X
La moitié de 16, c'est	8
La moitié de 17, c'est	X





## CM21: Trouver la moitié des nombres inférieurs à 20

La moitié de 1, c'est	X
La moitié de 2, c'est	1
La moitié de 3, c'est	X
La moitié de 4, c'est	2
La moitié de 5, c'est	X
La moitié de 6, c'est	3
La moitié de 7, c'est	X
La moitié de 8, c'est	4
La moitié de 9, c'est	X
La moitié de 10, c'est	5

La moitié de 11, c'est	X
La moitié de 12, c'est	6
La moitié de 13, c'est	X
La moitié de 14, c'est	7
La moitié de 15, c'est	X
La moitié de 16, c'est	8
La moitié de 17, c'est	X
La moitié de 18, c'est	



## CM21: Trouver la moitié des nombres inférieurs à 20

La moitié de 1, c'est	X
La moitié de 2, c'est	1
La moitié de 3, c'est	X
La moitié de 4, c'est	2
La moitié de 5, c'est	X
La moitié de 6, c'est	3
La moitié de 7, c'est	X
La moitié de 8, c'est	4
La moitié de 9, c'est	X
La moitié de 10, c'est	5

La moitié de 11, c'est	X
La moitié de 12, c'est	6
La moitié de 13, c'est	X
La moitié de 14, c'est	7
La moitié de 15, c'est	X
La moitié de 16, c'est	8
La moitié de 17, c'est	X
La moitié de 18, c'est	9



## CM21: Trouver la moitié des nombres inférieurs à 20

La moitié de 1, c'est	X	La moitié de 11, c'est	X
La moitié de 2, c'est	1	La moitié de 12, c'est	6
La moitié de 3, c'est	X	La moitié de 13, c'est	X
La moitié de 4, c'est	2	La moitié de 14, c'est	7
La moitié de 5, c'est	X	La moitié de 15, c'est	X
La moitié de 6, c'est	3	La moitié de 16, c'est	8
La moitié de 7, c'est	X	La moitié de 17, c'est	X
La moitié de 8, c'est	4	La moitié de 18, c'est	9
La moitié de 9, c'est	X	La moitié de 19, c'est	
La moitié de 10, c'est	5		



## CM21: Trouver la moitié des nombres inférieurs à 20

La moitié de 1, c'est	X	La moitié de 11, c'est	X
La moitié de 2, c'est	1	La moitié de 12, c'est	6
La moitié de 3, c'est	X	La moitié de 13, c'est	X
La moitié de 4, c'est	2	La moitié de 14, c'est	7
La moitié de 5, c'est	X	La moitié de 15, c'est	X
La moitié de 6, c'est	3	La moitié de 16, c'est	8
La moitié de 7, c'est	X	La moitié de 17, c'est	X
La moitié de 8, c'est	4	La moitié de 18, c'est	9
La moitié de 9, c'est	X	La moitié de 19, c'est	X
La moitié de 10, c'est	5		



## CM21: Trouver la moitié des nombres inférieurs à 20

La moitié de 1, c'est	X	La moitié de 11, c'est	X
La moitié de 2, c'est	1	La moitié de 12, c'est	6
La moitié de 3, c'est	X	La moitié de 13, c'est	X
La moitié de 4, c'est	2	La moitié de 14, c'est	7
La moitié de 5, c'est	X	La moitié de 15, c'est	X
La moitié de 6, c'est	3	La moitié de 16, c'est	8
La moitié de 7, c'est	X	La moitié de 17, c'est	X
La moitié de 8, c'est	4	La moitié de 18, c'est	9
La moitié de 9, c'est	X	La moitié de 19, c'est	X
La moitié de 10, c'est	5	La moitié de 20, c'est	



## CM21: Trouver la moitié des nombres inférieurs à 20

La moitié de 1, c'est	X	La moitié de 11, c'est	X
La moitié de 2, c'est	1	La moitié de 12, c'est	6
La moitié de 3, c'est	X	La moitié de 13, c'est	X
La moitié de 4, c'est	2	La moitié de 14, c'est	7
La moitié de 5, c'est	X	La moitié de 15, c'est	X
La moitié de 6, c'est	3	La moitié de 16, c'est	8
La moitié de 7, c'est	X	La moitié de 17, c'est	X
La moitié de 8, c'est	4	La moitié de 18, c'est	9
La moitié de 9, c'est	X	La moitié de 19, c'est	X
La moitié de 10, c'est	5	La moitié de 20, c'est	10