
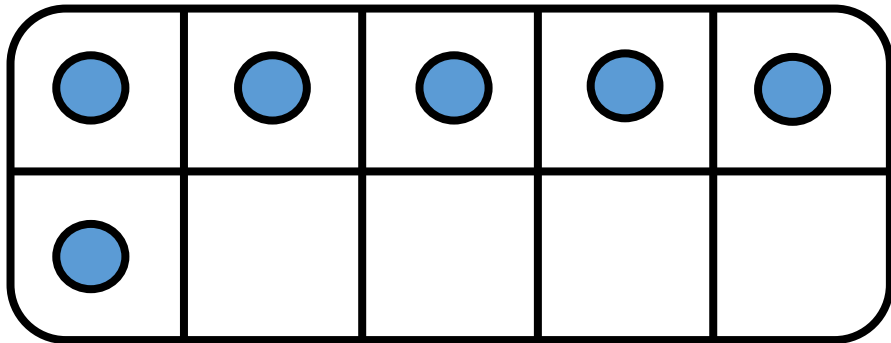




CM19: Connaitre les décompositions de 13 et 14

Combien manque-t-il pour faire 13 ?

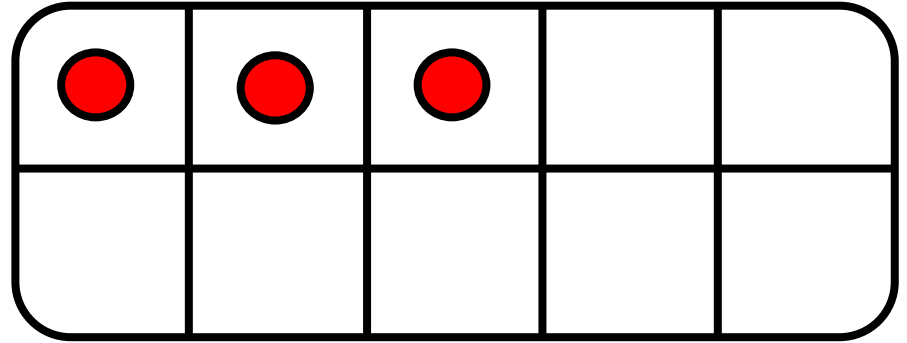
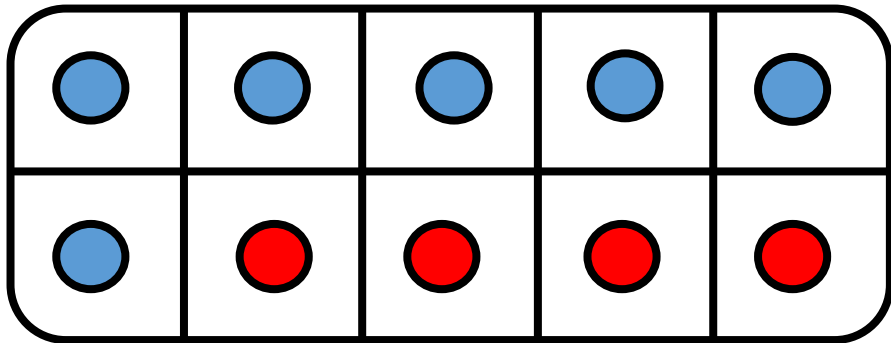


$$13 = \underline{\quad\quad\quad} + 6$$



CM19: Connaitre les décompositions de 13 et 14

Combien manque-t-il pour faire 13 ?

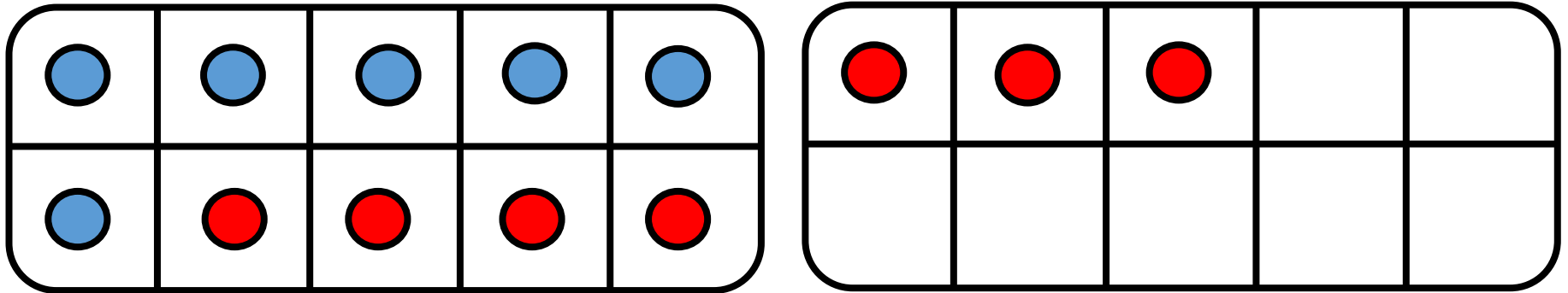


$$13 = \underline{\quad\quad\quad} + 6$$



CM19: Connaitre les décompositions de 13 et 14

Combien manque-t-il pour faire 13 ?


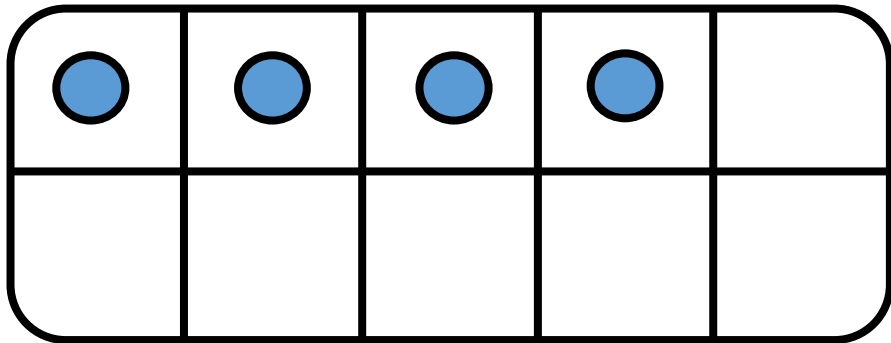


$$13 = \underline{7} + 6$$



CM19: Connaitre les décompositions de 13 et 14

Combien manque-t-il pour faire 13 ?

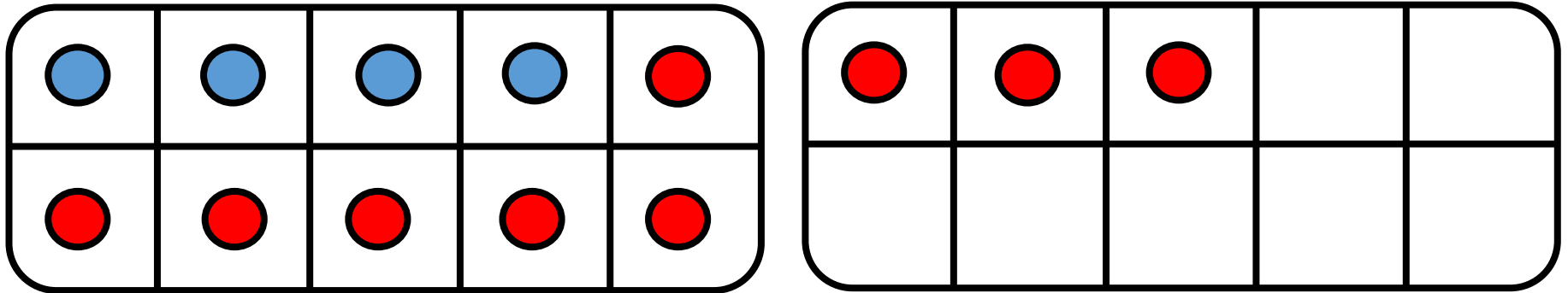


$$13 = \underline{\quad\quad\quad} + 4$$



CM19: Connaitre les décompositions de 13 et 14

Combien manque-t-il pour faire 13 ?

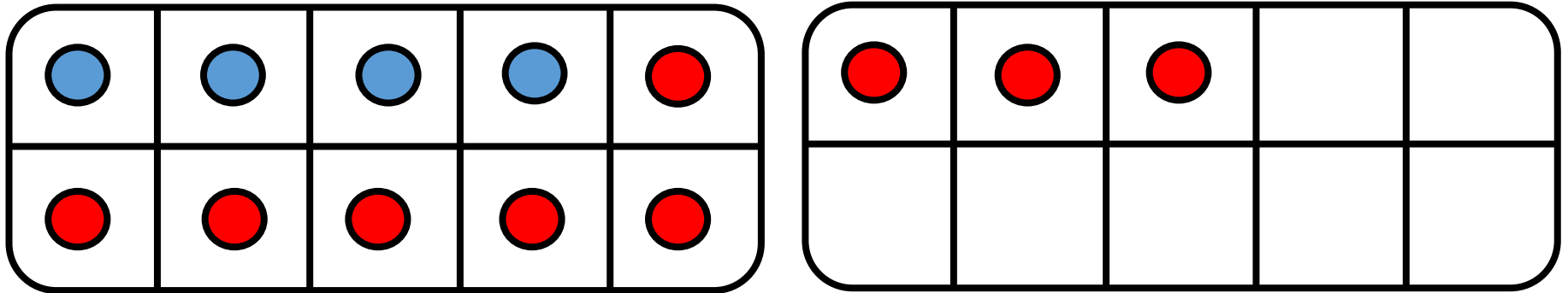


$$13 = \underline{\quad\quad\quad} + 4$$



CM19: Connaitre les décompositions de 13 et 14

Combien manque-t-il pour faire 13 ?

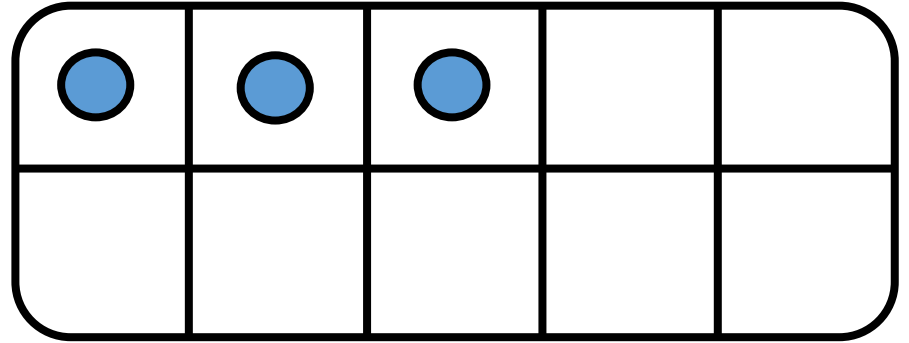
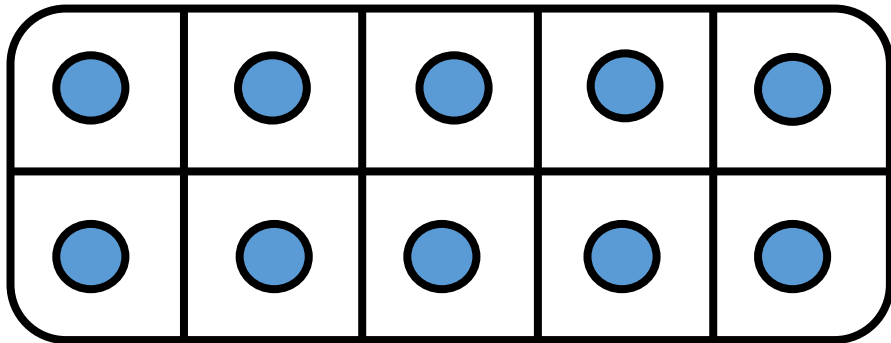


$$13 = \underline{9} + 4$$



CM19: Connaitre les décompositions de 13 et 14

Combien manque-t-il pour faire 13 ?

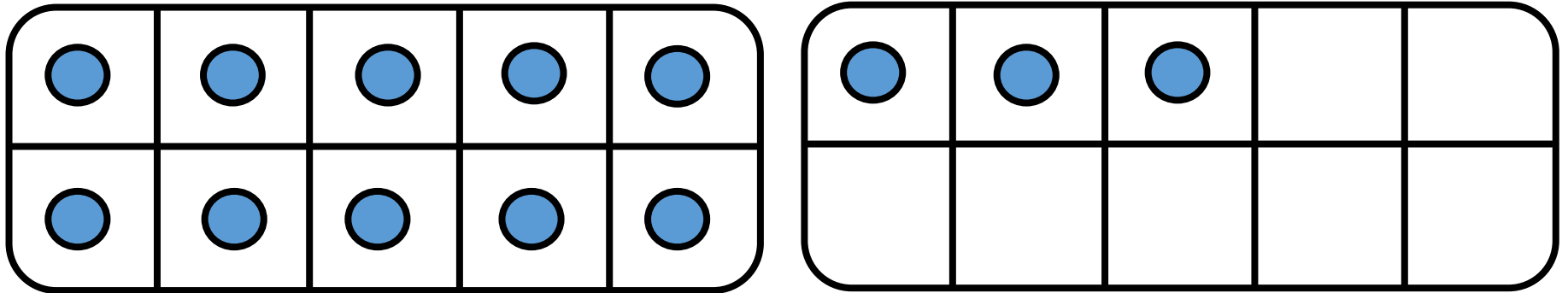


$$13 = \underline{\quad\quad\quad} + 13$$



CM19: Connaitre les décompositions de 13 et 14

Combien manque-t-il pour faire 13 ?

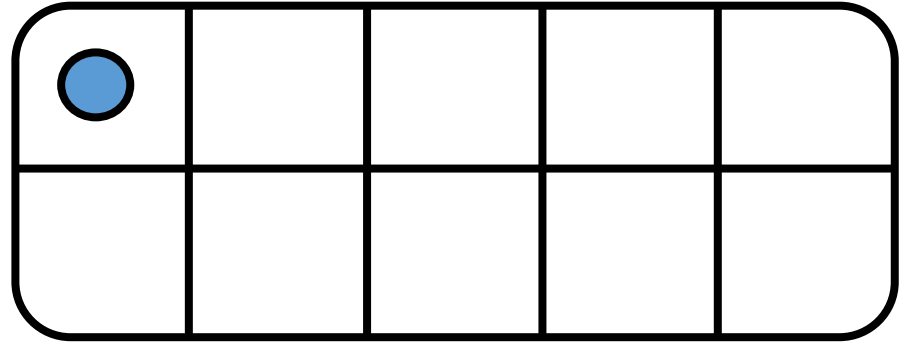
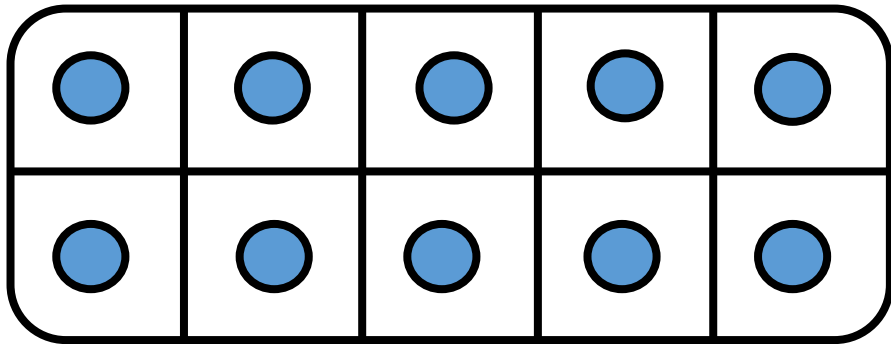


$$13 = \underline{0} + 13$$



CM19: Connaitre les décompositions de 13 et 14

Combien manque-t-il pour faire 13 ?

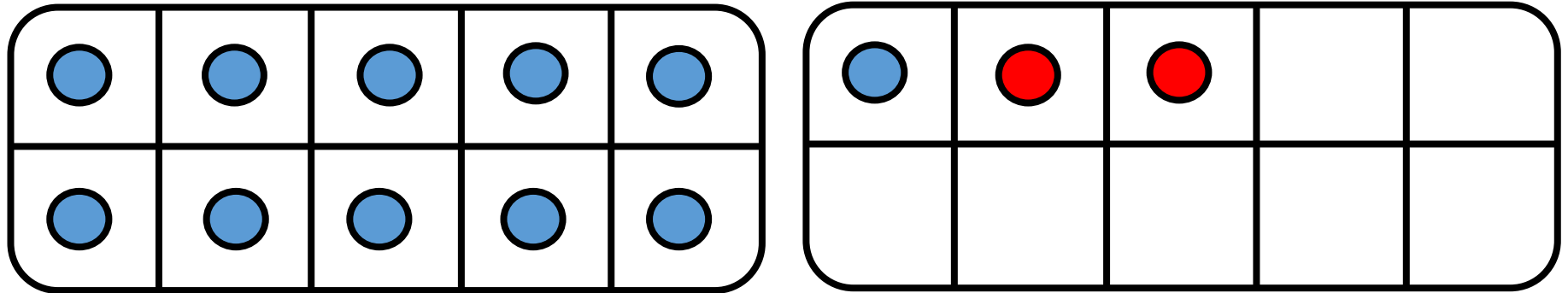


$$13 = \underline{\quad\quad\quad} + 11$$



CM19: Connaitre les décompositions de 13 et 14

Combien manque-t-il pour faire 13 ?

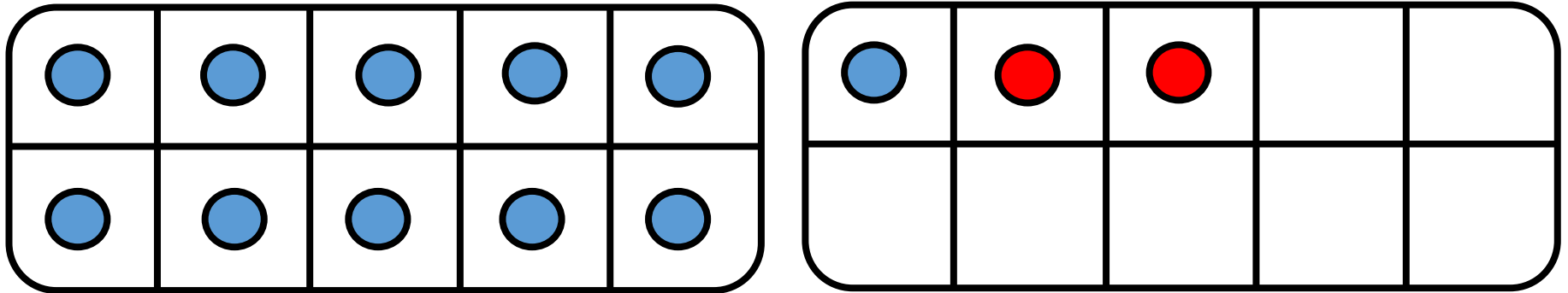


$$13 = \underline{\quad\quad\quad} + 11$$



CM19: Connaitre les décompositions de 13 et 14

Combien manque-t-il pour faire 13 ?


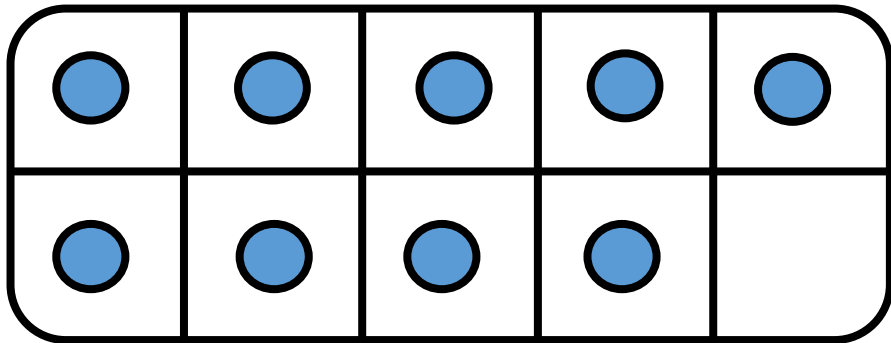


$$13 = \underline{\quad 2 \quad} + 11$$



CM19: Connaitre les décompositions de 13 et 14

Combien manque-t-il pour faire 13 ?

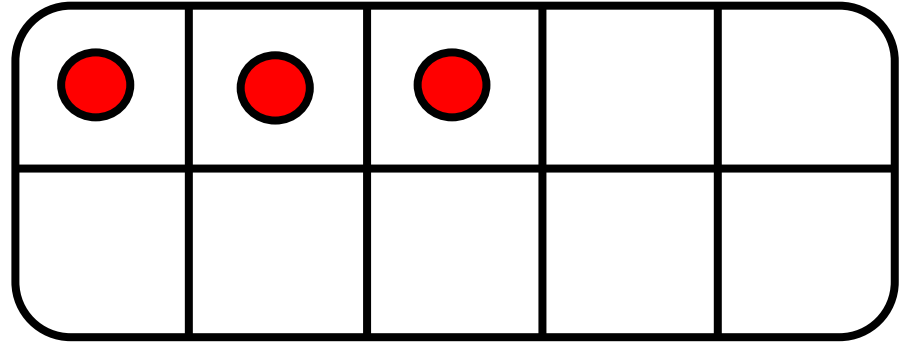
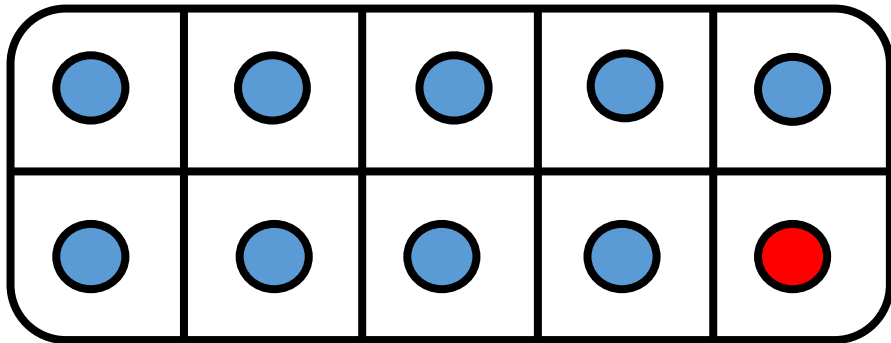


$$13 = \underline{\quad\quad\quad} + 9$$



CM19: Connaitre les décompositions de 13 et 14

Combien manque-t-il pour faire 13 ?

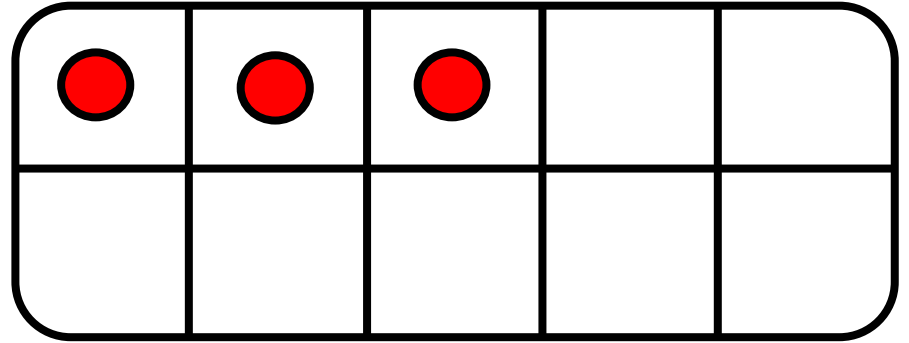
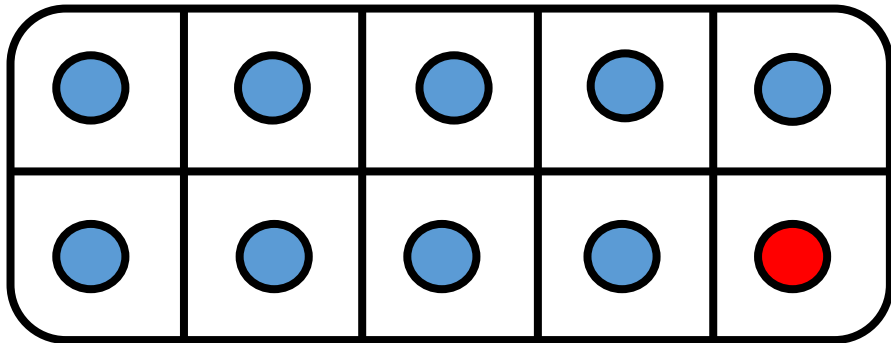


$$13 = \underline{\quad\quad\quad} + 9$$



CM19: Connaitre les décompositions de 13 et 14

Combien manque-t-il pour faire 13 ?


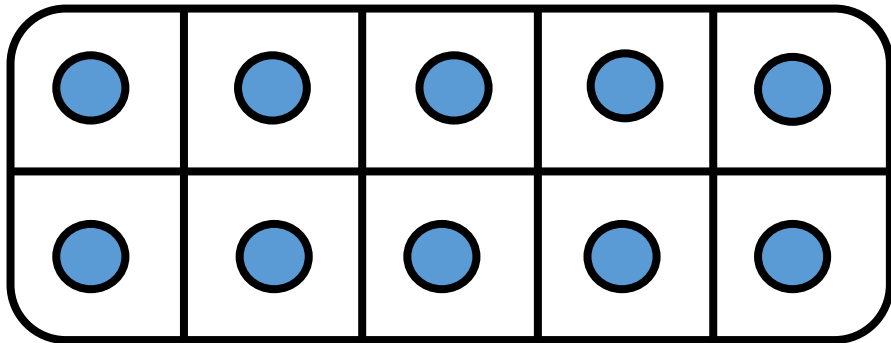


$$13 = \underline{4} + 9$$



CM19: Connaitre les décompositions de 13 et 14

Combien manque-t-il pour faire 13 ?

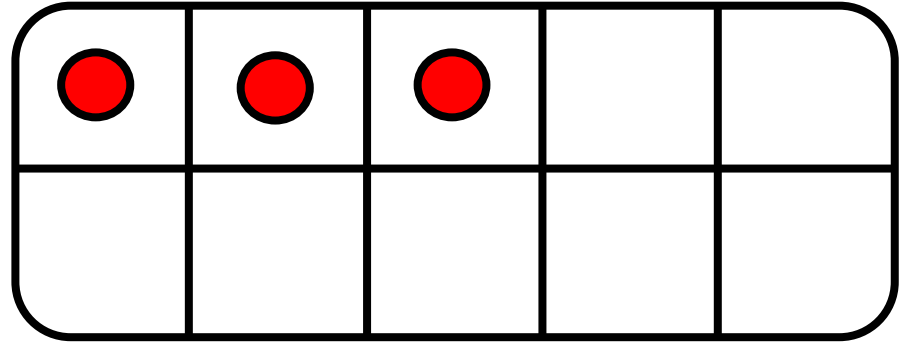
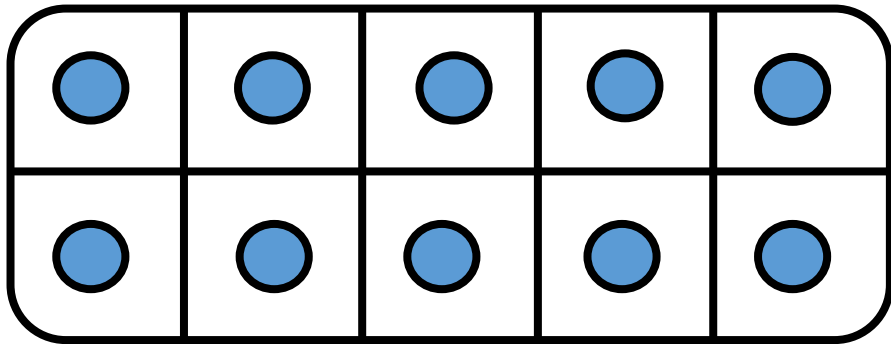


$$13 = \underline{\quad\quad\quad} + 10$$



CM19: Connaitre les décompositions de 13 et 14

Combien manque-t-il pour faire 13 ?

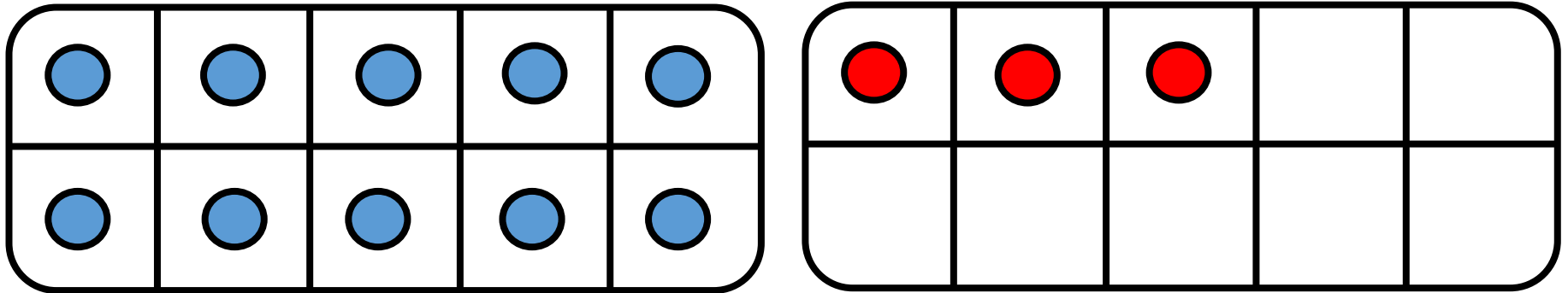


$$13 = \underline{\quad\quad\quad} + 10$$



CM19: Connaitre les décompositions de 13 et 14

Combien manque-t-il pour faire 13 ?


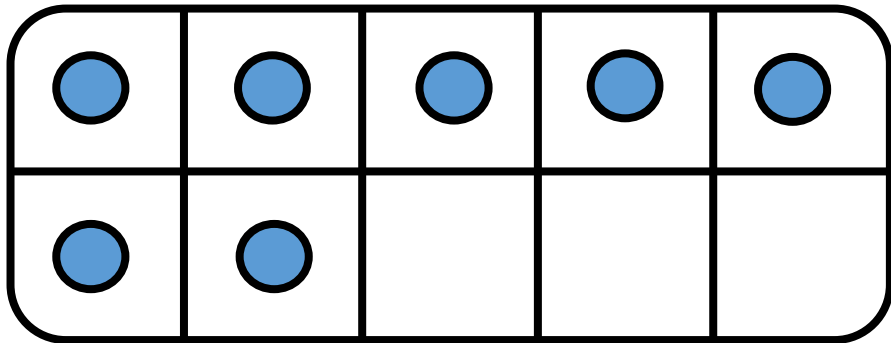


$$13 = \underline{3} + 10$$



CM19: Connaitre les décompositions de 13 et 14

Combien manque-t-il pour faire 13 ?

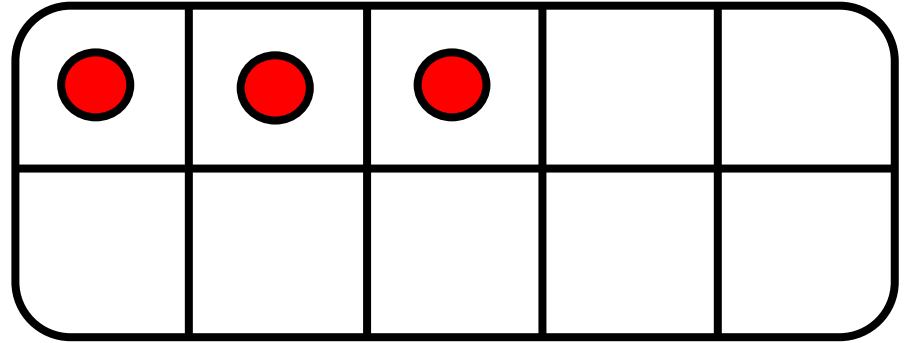
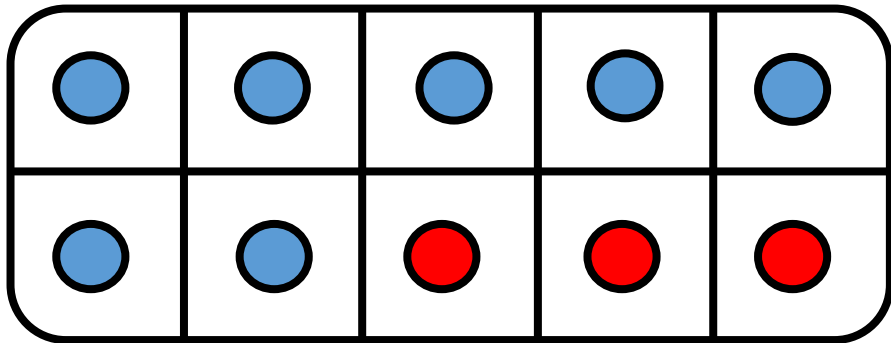


$$13 = \underline{\quad\quad\quad} + 7$$



CM19: Connaitre les décompositions de 13 et 14

Combien manque-t-il pour faire 13 ?

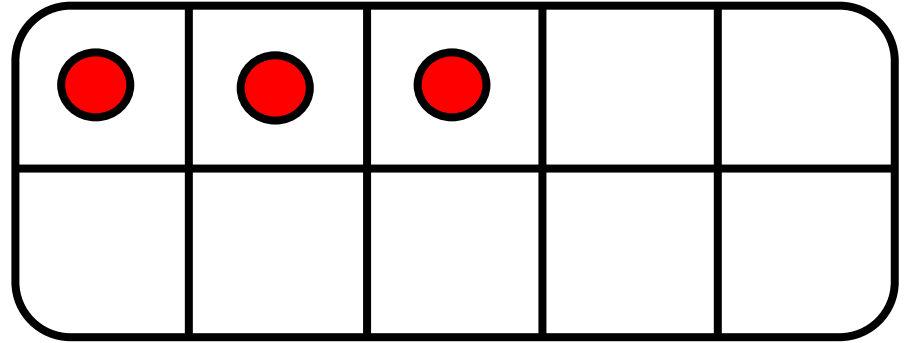
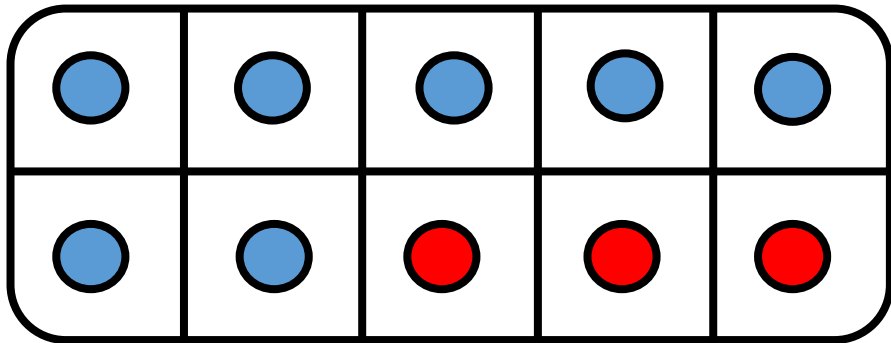


$$13 = \underline{\quad\quad\quad} + 7$$



CM19: Connaitre les décompositions de 13 et 14

Combien manque-t-il pour faire 13 ?

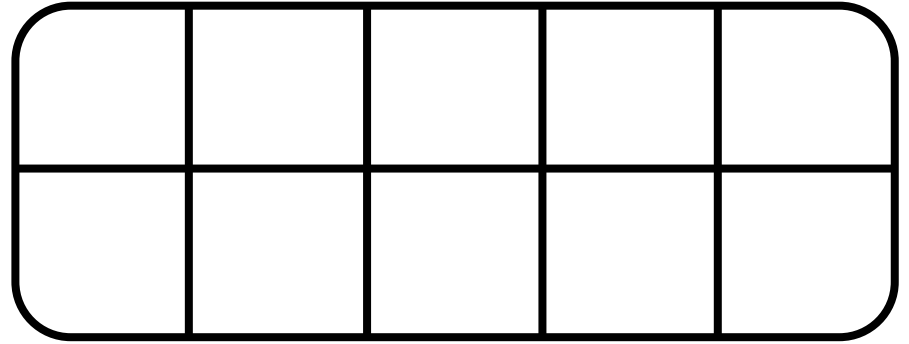
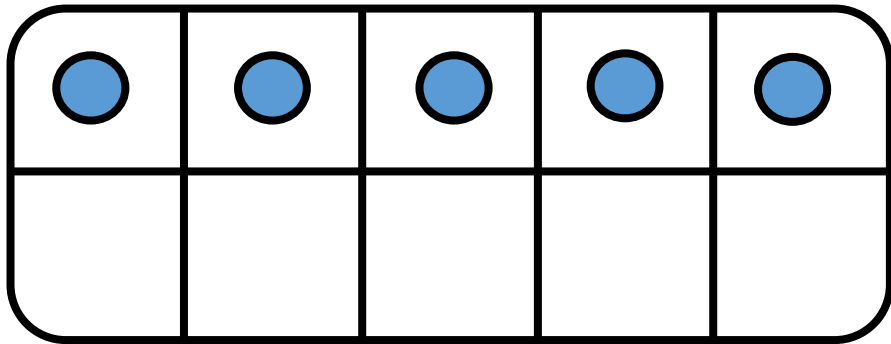


$$13 = \underline{6} + 7$$



CM19: Connaitre les décompositions de 13 et 14

Combien manque-t-il pour faire 13 ?

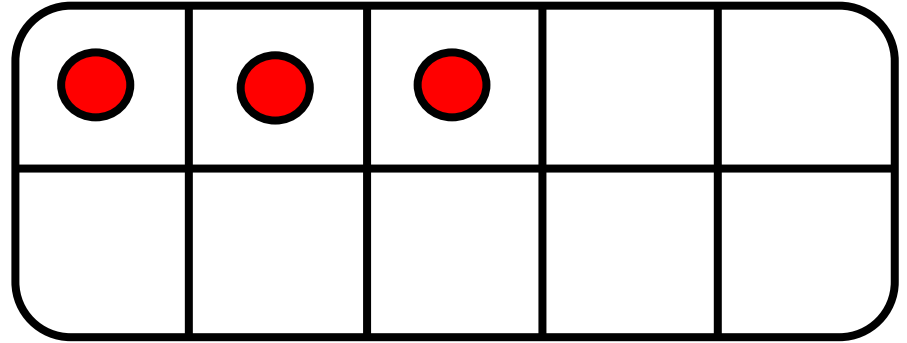
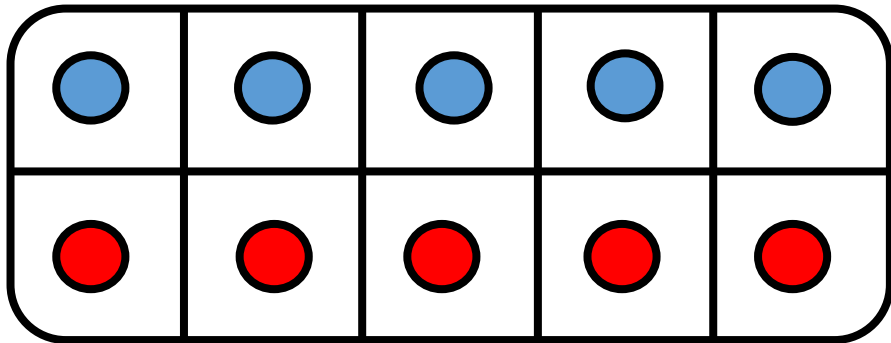


$$13 = \underline{\quad\quad\quad} + 5$$



CM19: Connaitre les décompositions de 13 et 14

Combien manque-t-il pour faire 13 ?

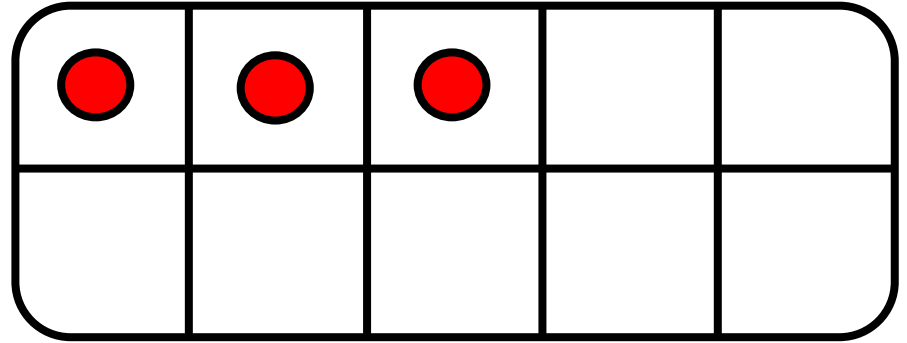
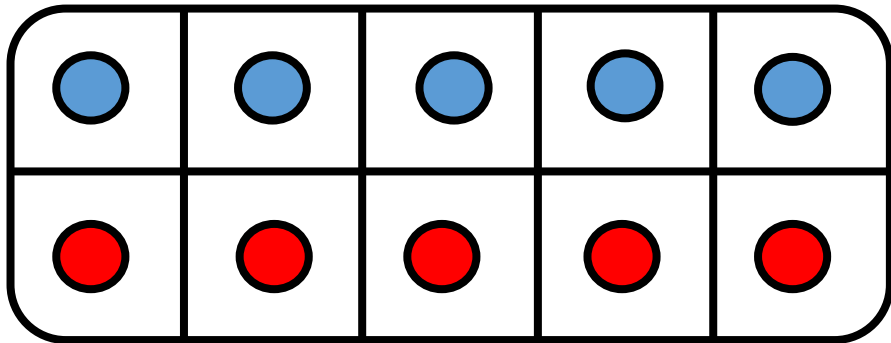


$$13 = \underline{\quad\quad\quad} + 5$$



CM19: Connaitre les décompositions de 13 et 14

Combien manque-t-il pour faire 13 ?


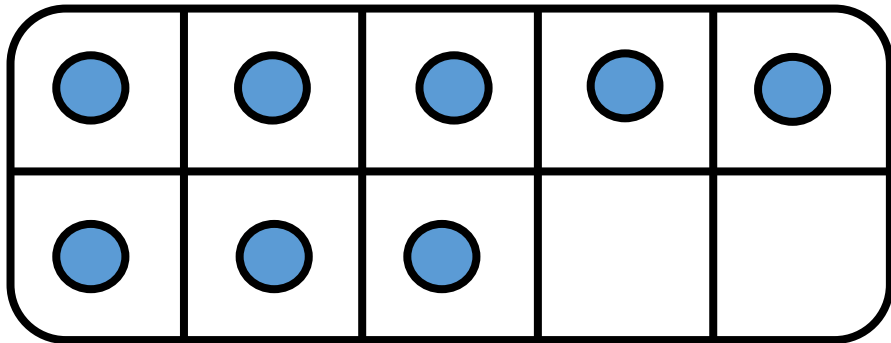


$$13 = \underline{8} + 5$$



CM19: Connaitre les décompositions de 13 et 14

Combien manque-t-il pour faire 13 ?

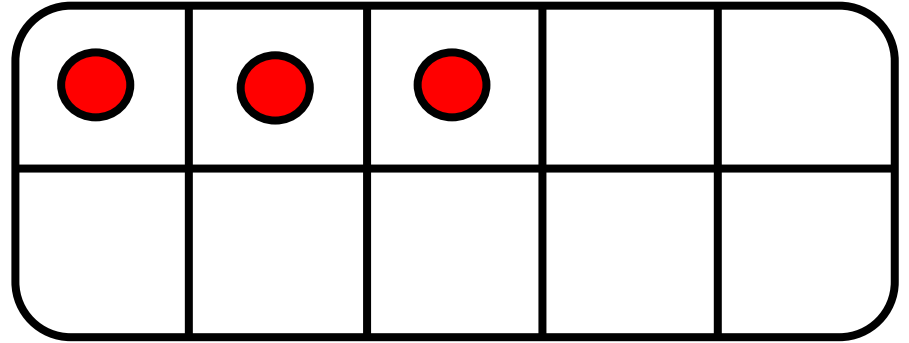
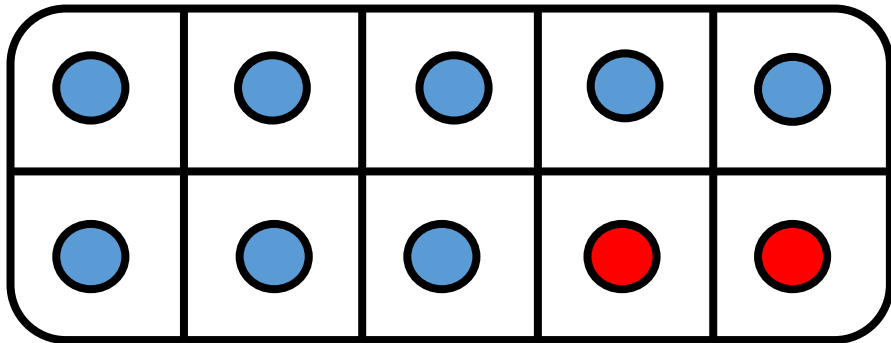


$$13 = \underline{\quad\quad\quad} + 8$$



CM19: Connaitre les décompositions de 13 et 14

Combien manque-t-il pour faire 13 ?

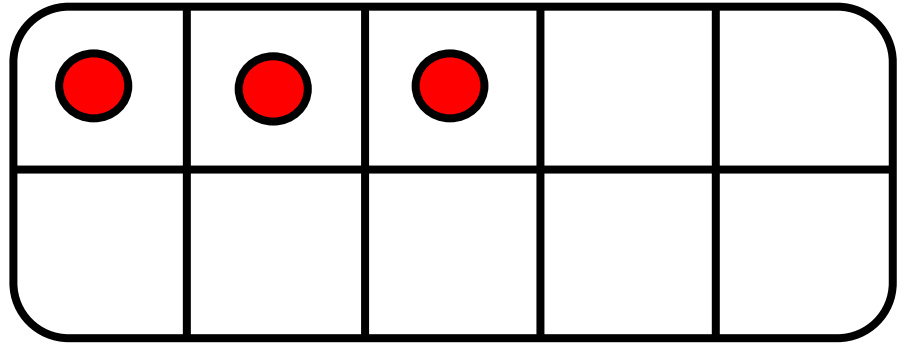
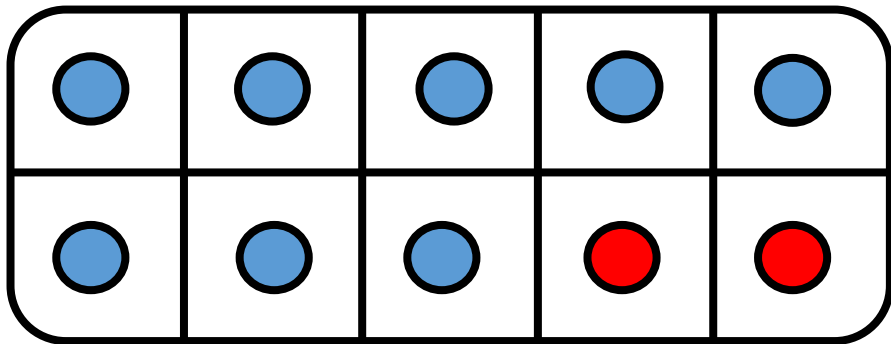


$$13 = \underline{\quad\quad\quad} + 8$$



CM19: Connaitre les décompositions de 13 et 14

Combien manque-t-il pour faire 13 ?



$$13 = \underline{5} + 8$$



CM19: Connaitre les décompositions de 13 et 14

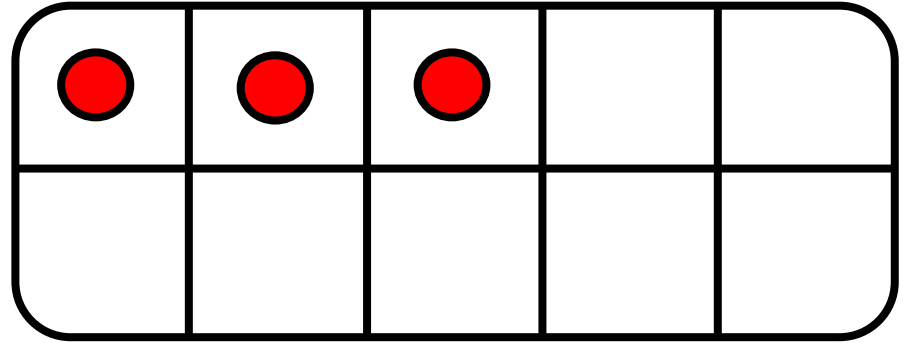
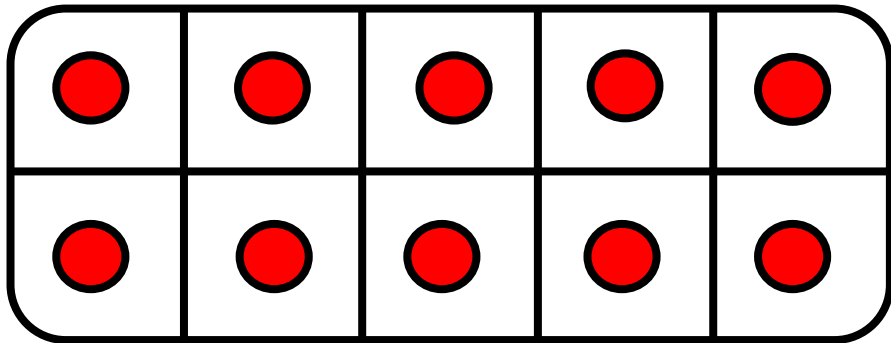
Combien manque-t-il pour faire 13 ?

$$13 = \underline{\quad\quad\quad} + 0$$



CM19: Connaitre les décompositions de 13 et 14

Combien manque-t-il pour faire 13 ?

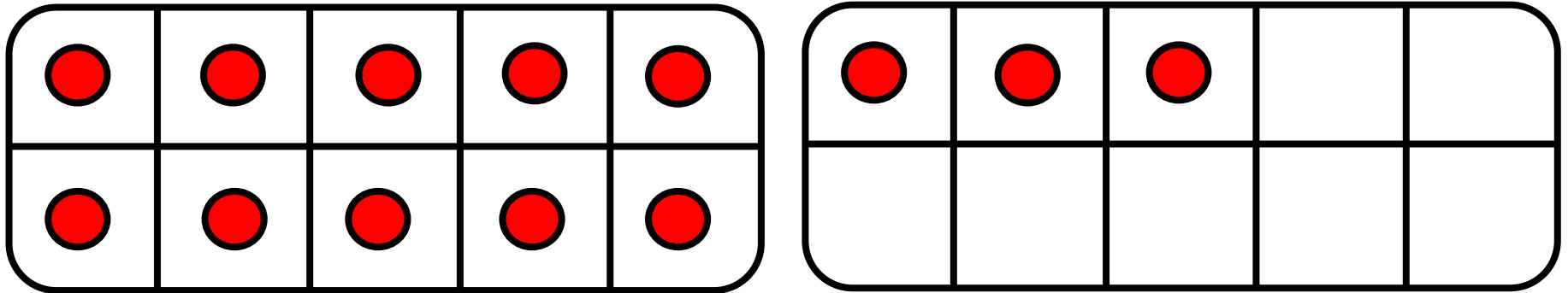


$$13 = \underline{\quad\quad\quad} + 0$$



CM19: Connaitre les décompositions de 13 et 14

Combien manque-t-il pour faire 13 ?

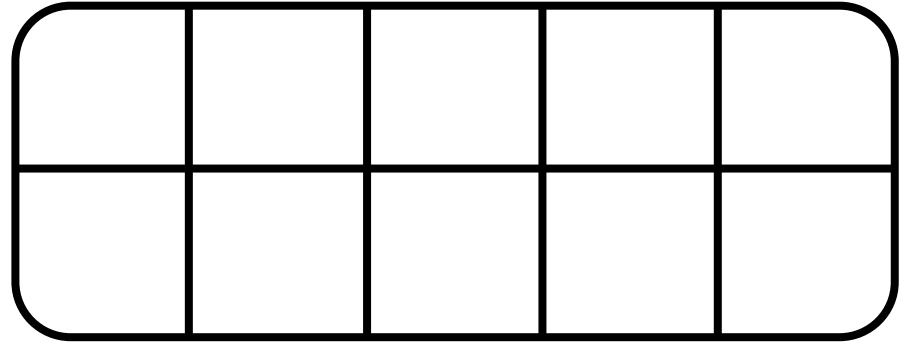
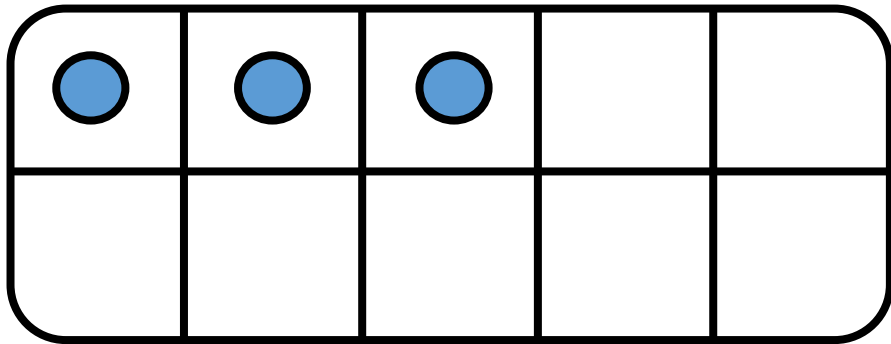


$$13 = \underline{13} + 0$$



CM19: Connaitre les décompositions de 13 et 14

Combien manque-t-il pour faire 13 ?

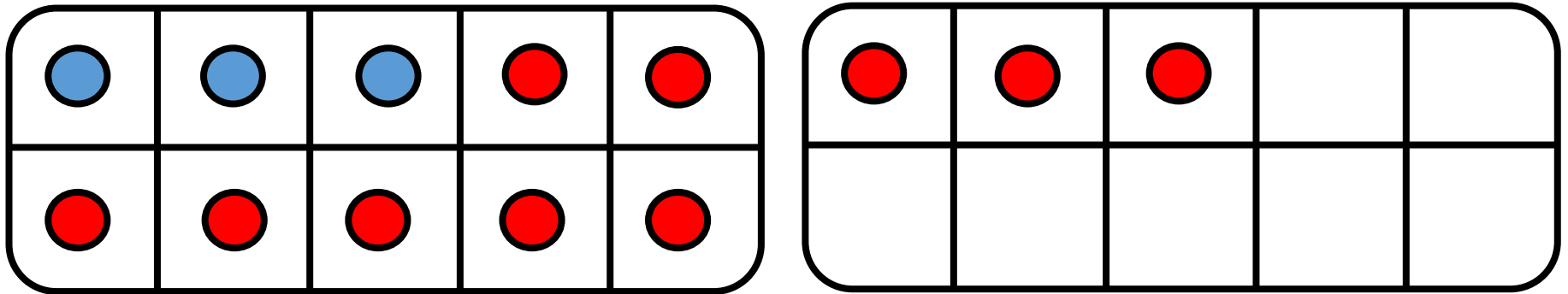


$$13 = \underline{\quad\quad\quad} + 3$$



CM19: Connaitre les décompositions de 13 et 14

Combien manque-t-il pour faire 13 ?

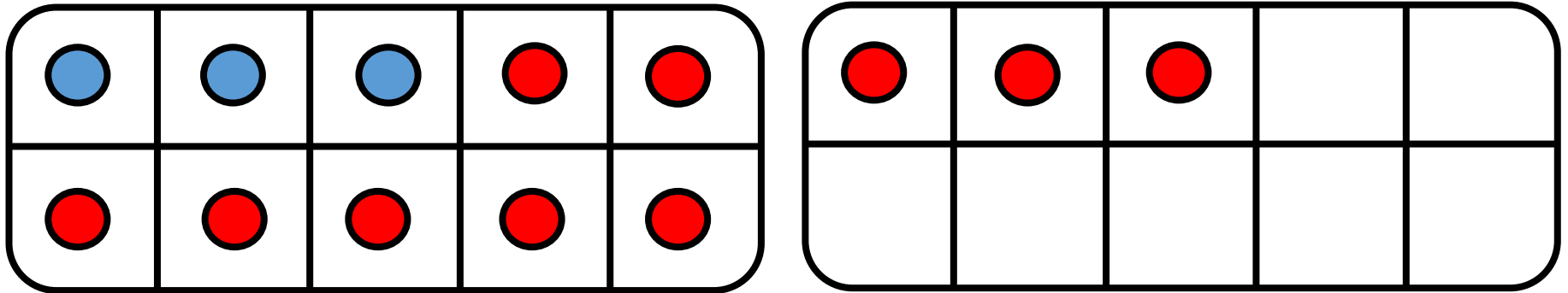


$$13 = \underline{\quad\quad\quad} + 3$$



CM19: Connaitre les décompositions de 13 et 14

Combien manque-t-il pour faire 13 ?


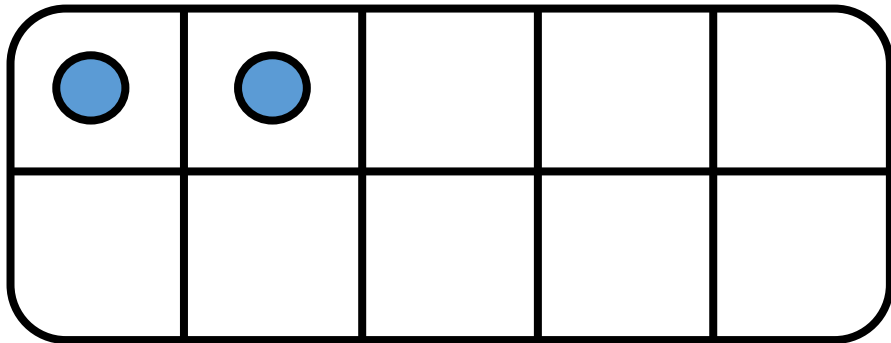


$$13 = \underline{10} + 3$$



CM19: Connaitre les décompositions de 13 et 14

Combien manque-t-il pour faire 13 ?

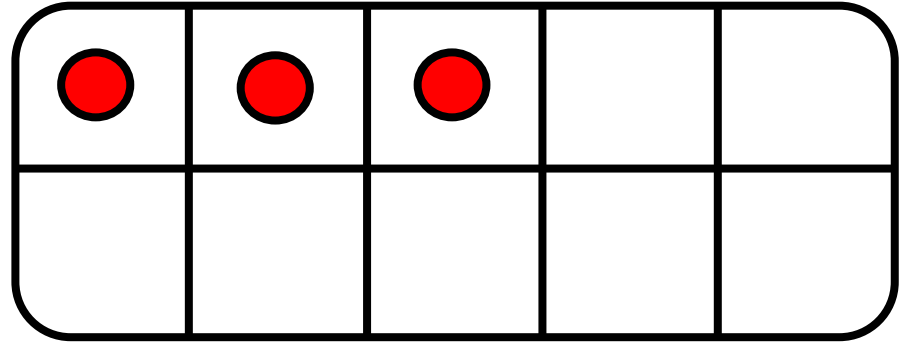
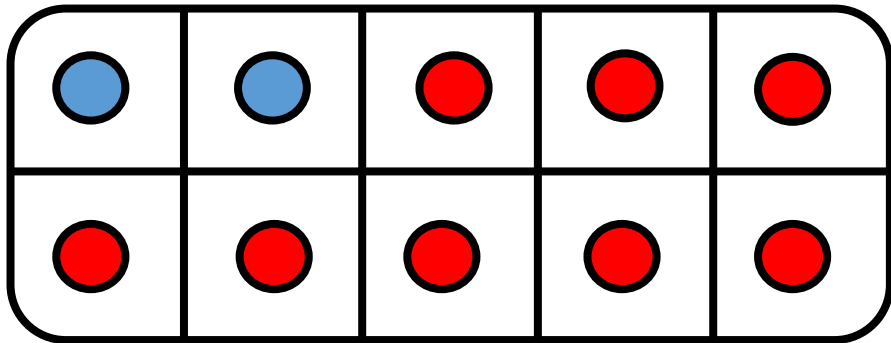


$$13 = \underline{\quad\quad\quad} + 2$$



CM19: Connaitre les décompositions de 13 et 14

Combien manque-t-il pour faire 13 ?

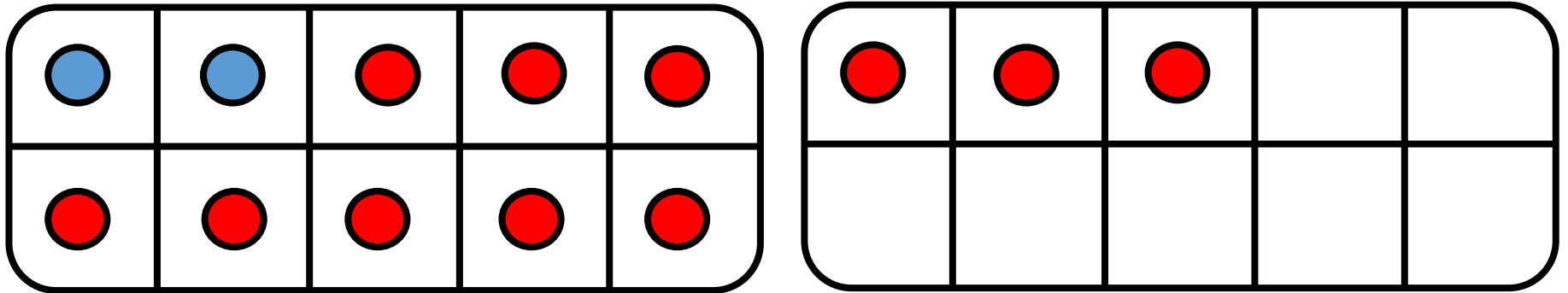


$$13 = \underline{\quad\quad\quad} + 2$$



CM19: Connaitre les décompositions de 13 et 14

Combien manque-t-il pour faire 13 ?

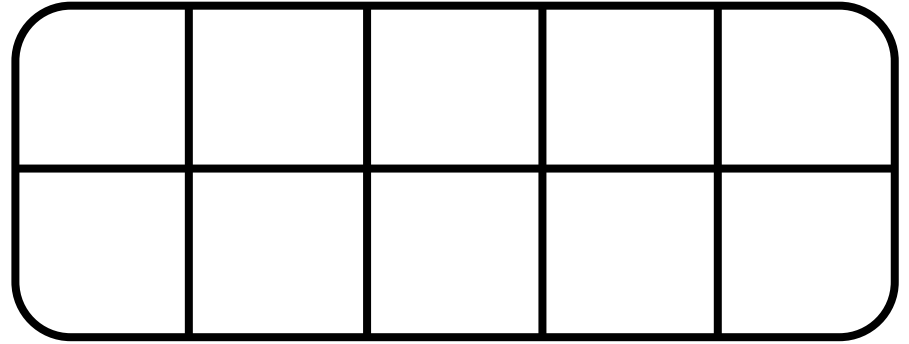
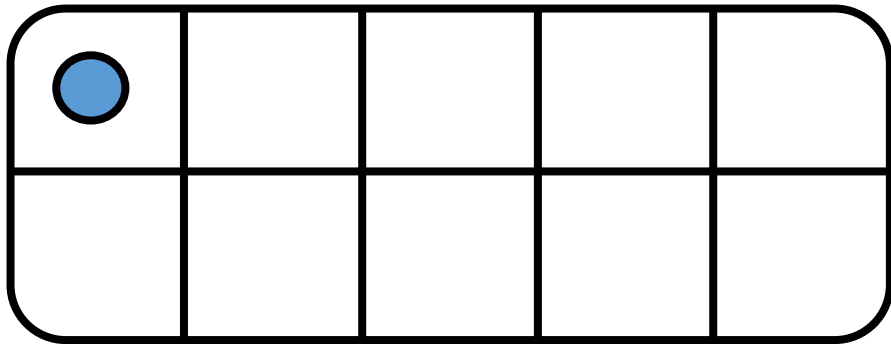


$$13 = \underline{11} + 2$$



CM19: Connaitre les décompositions de 13 et 14

Combien manque-t-il pour faire 13 ?

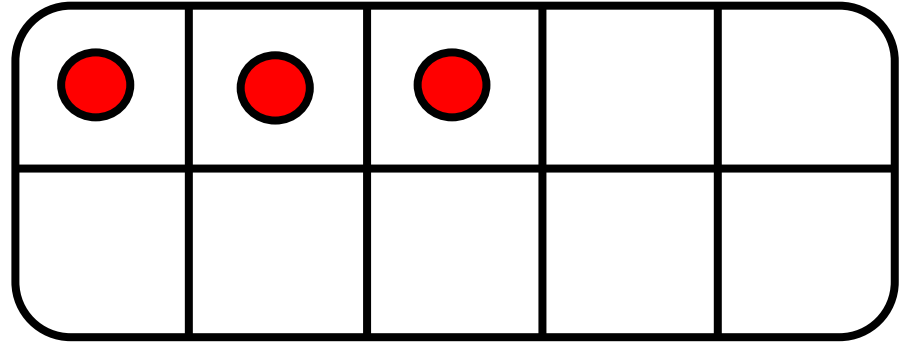
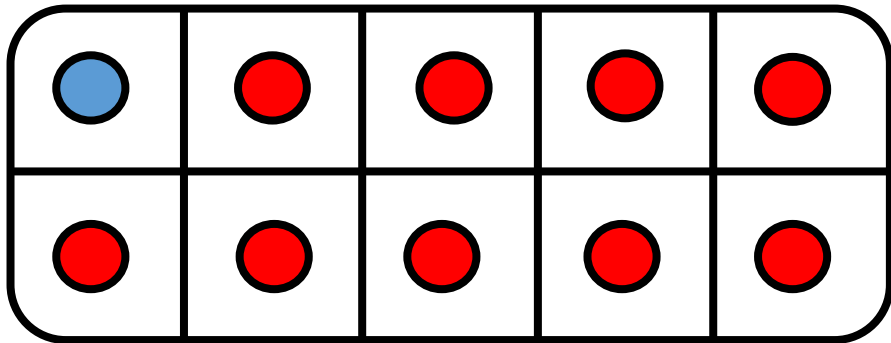


$$13 = \underline{\quad\quad\quad} + 1$$



CM19: Connaitre les décompositions de 13 et 14

Combien manque-t-il pour faire 13 ?

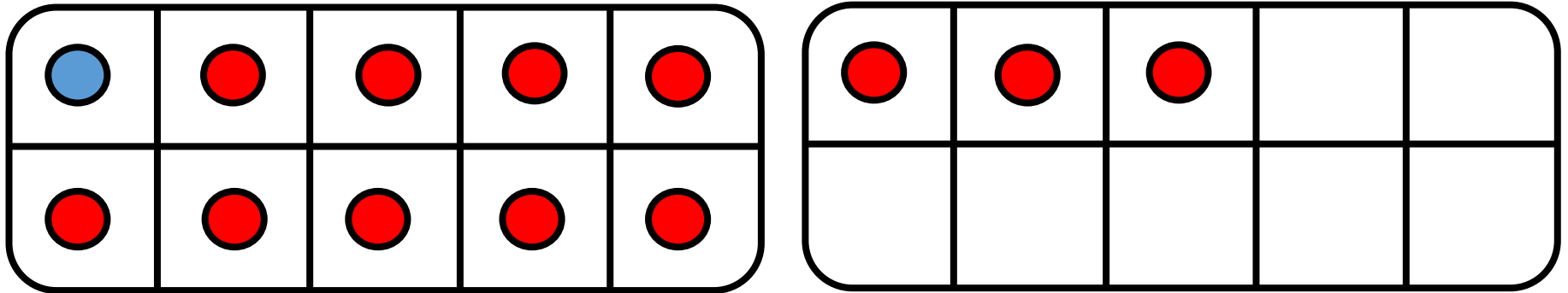


$$13 = \underline{\quad\quad\quad} + 1$$



CM19: Connaitre les décompositions de 13 et 14

Combien manque-t-il pour faire 13 ?

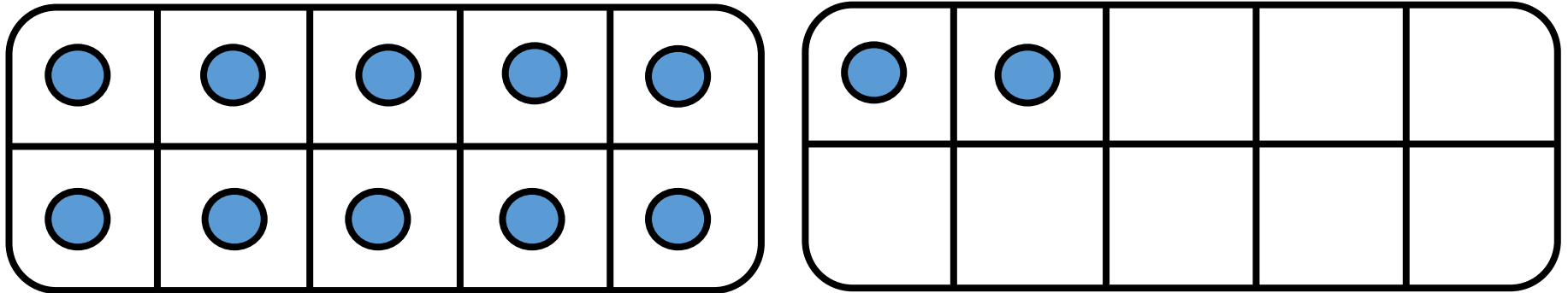


$$13 = \underline{12} + 1$$



CM19: Connaitre les décompositions de 13 et 14

Combien manque-t-il pour faire 13 ?

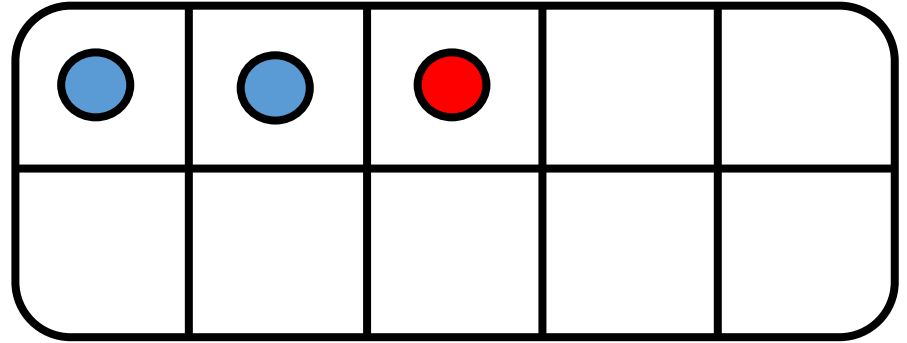
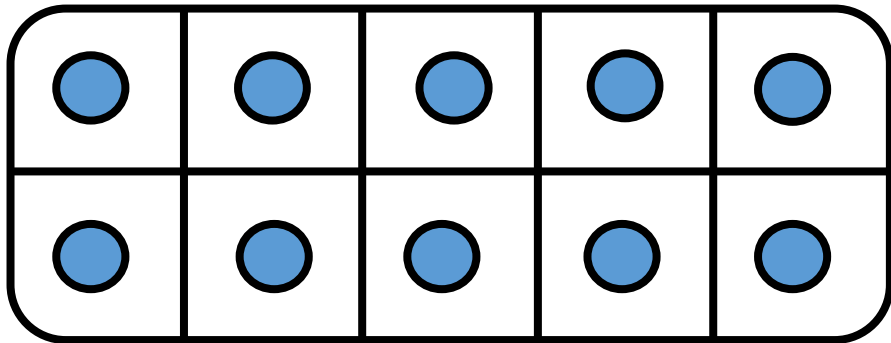


$$13 = \underline{\quad\quad\quad} + 12$$



CM19: Connaitre les décompositions de 13 et 14

Combien manque-t-il pour faire 13 ?

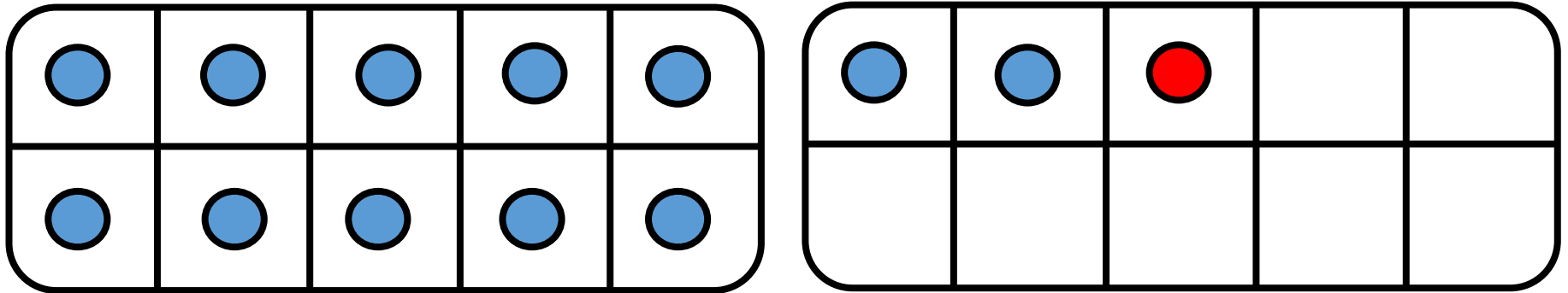


$$13 = \underline{\quad\quad\quad} + 12$$



CM19: Connaitre les décompositions de 13 et 14

Combien manque-t-il pour faire 13 ?

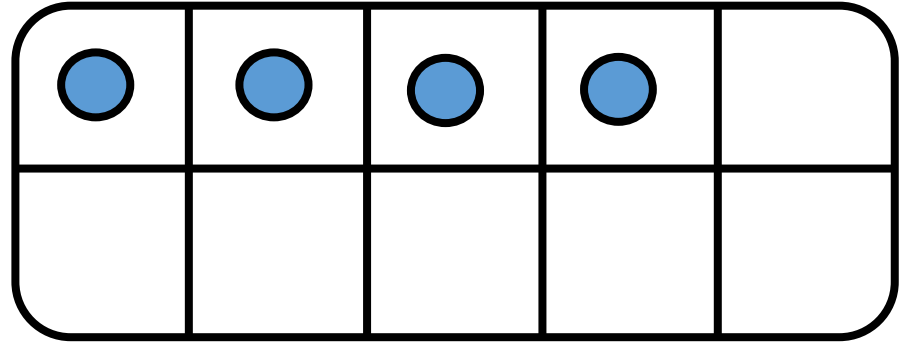
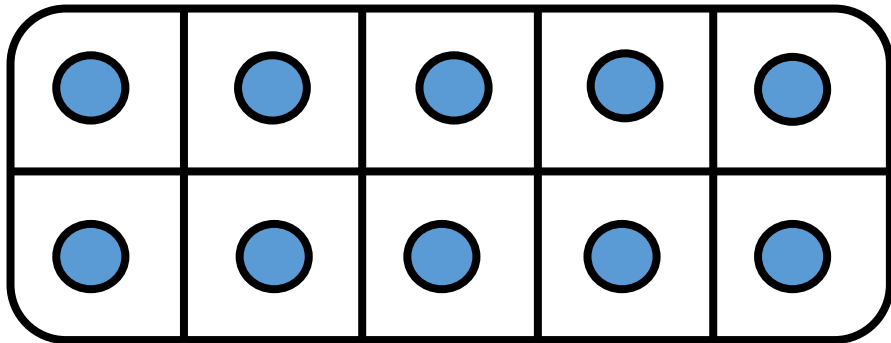


$$13 = \underline{\quad 1 \quad} + 12$$



CM19: Connaitre les décompositions de 13 et 14

Combien manque-t-il pour faire 14 ?

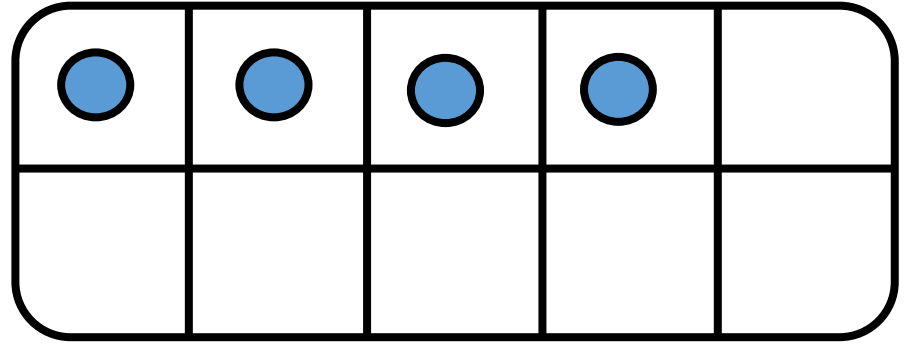
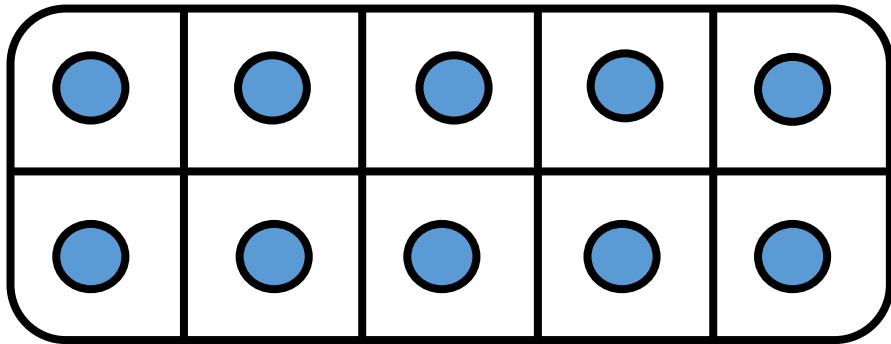


$$14 = 14 + \underline{\hspace{2cm}}$$



CM19: Connaitre les décompositions de 13 et 14

Combien manque-t-il pour faire 14 ?


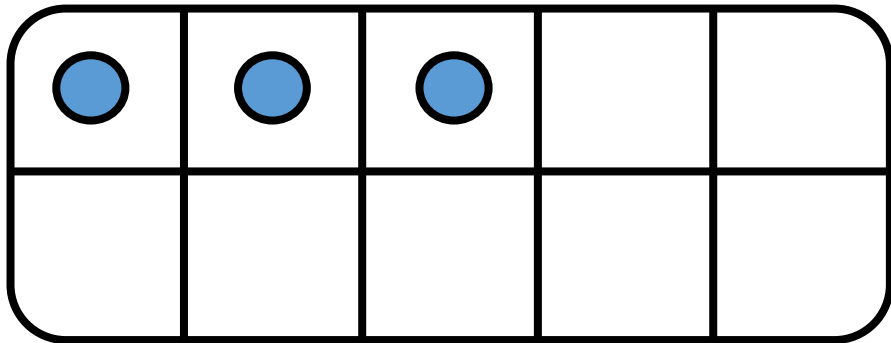


$$14 = 14 + \underline{0}$$



CM19: Connaitre les décompositions de 13 et 14

Combien manque-t-il pour faire 14 ?

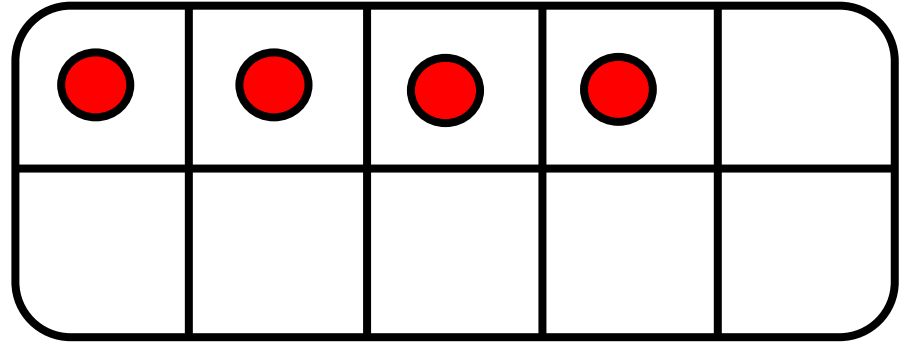
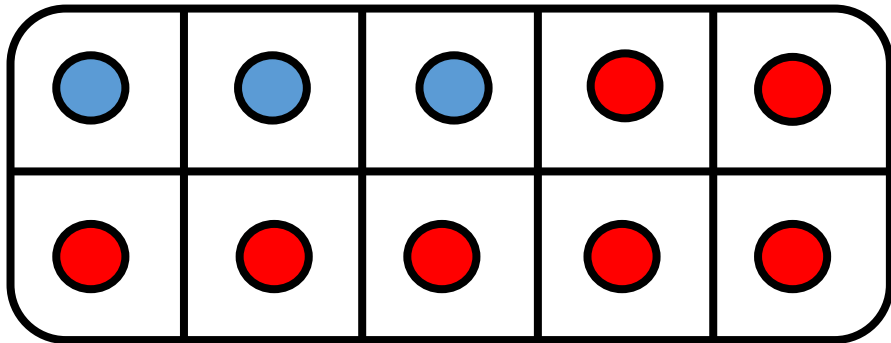


$$14 = 3 + \underline{\hspace{2cm}}$$



CM19: Connaitre les décompositions de 13 et 14

Combien manque-t-il pour faire 14 ?

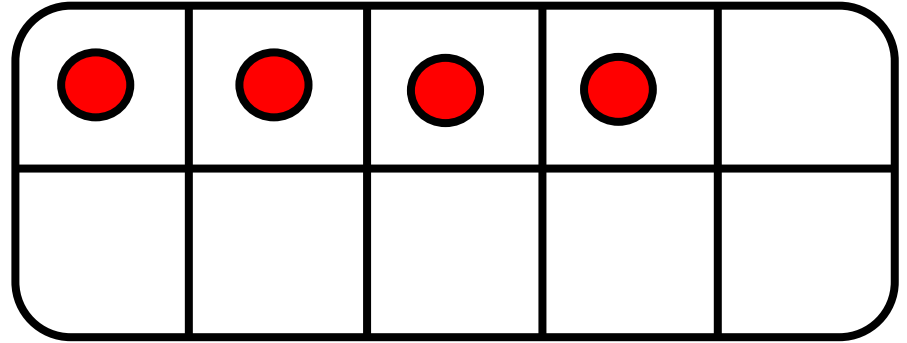
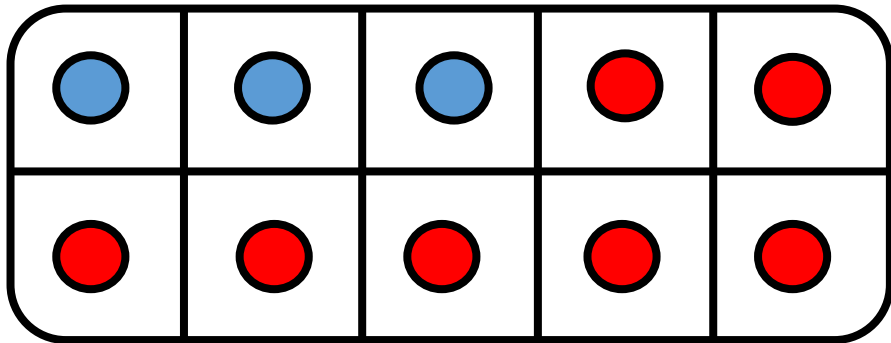


$$14 = 3 + \underline{\hspace{2cm}}$$



CM19: Connaitre les décompositions de 13 et 14

Combien manque-t-il pour faire 14 ?

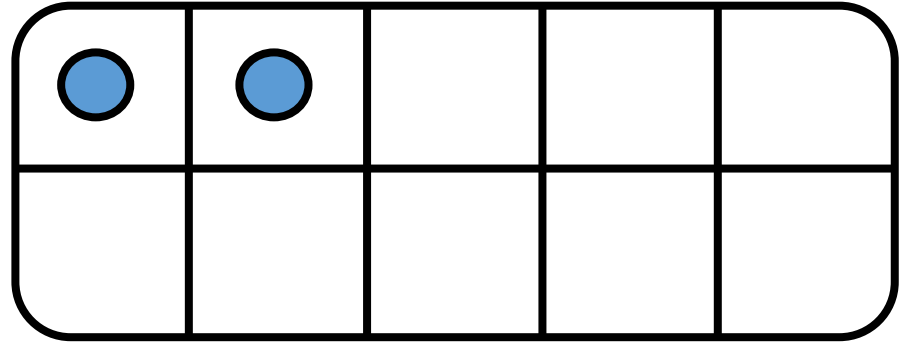
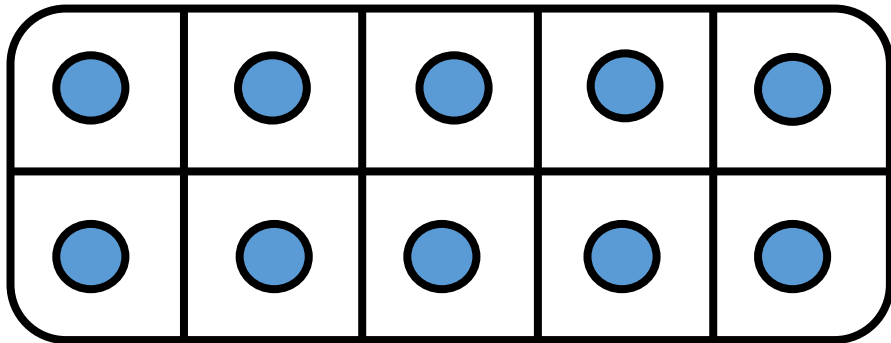


$$14 = 3 + \underline{11}$$



CM19: Connaitre les décompositions de 13 et 14

Combien manque-t-il pour faire 14 ?

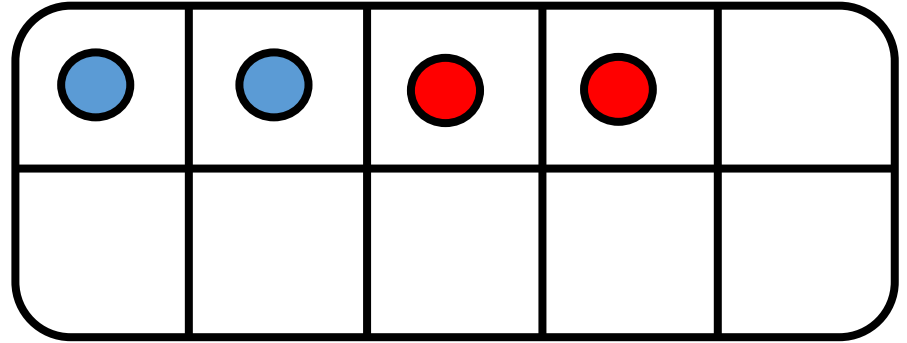
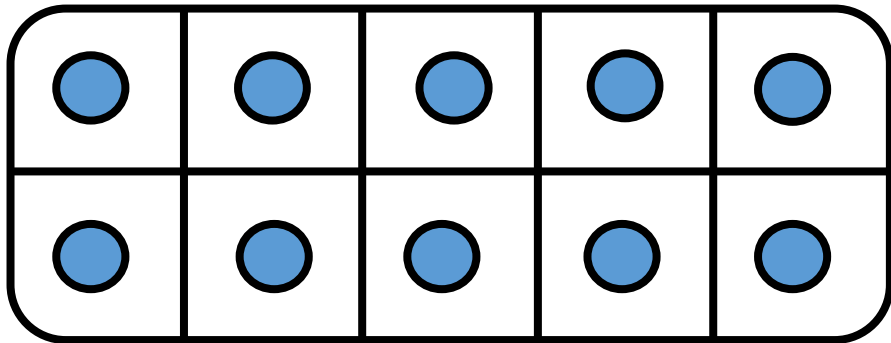


$$14 = 12 + \underline{\quad}$$



CM19: Connaitre les décompositions de 13 et 14

Combien manque-t-il pour faire 14 ?

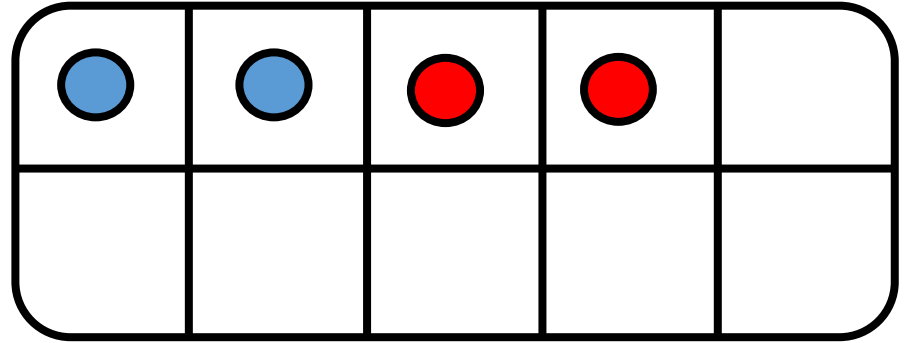
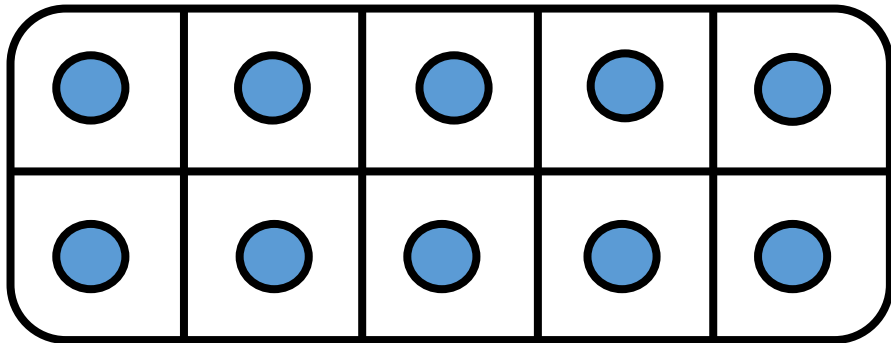


$$14 = 12 + \underline{\quad}$$



CM19: Connaitre les décompositions de 13 et 14

Combien manque-t-il pour faire 14 ?

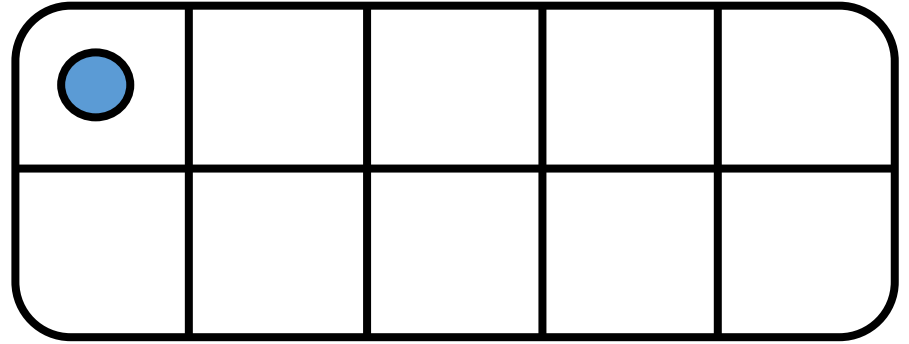
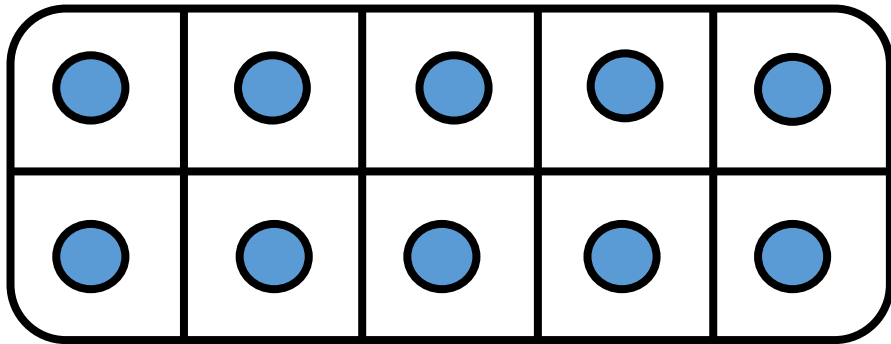


$$14 = 12 + \underline{2}$$



CM19: Connaitre les décompositions de 13 et 14

Combien manque-t-il pour faire 14 ?

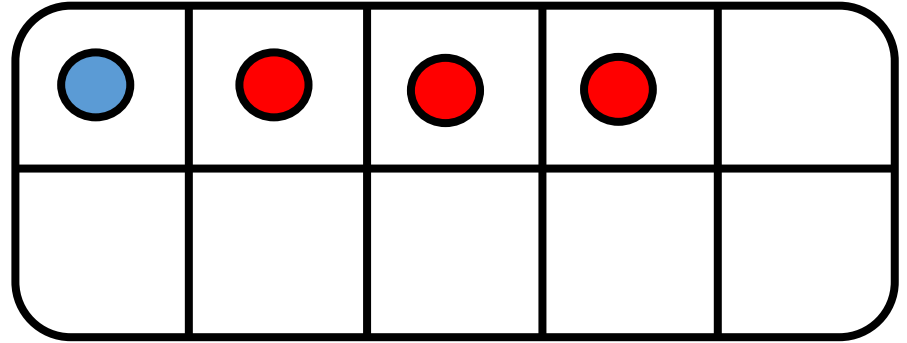
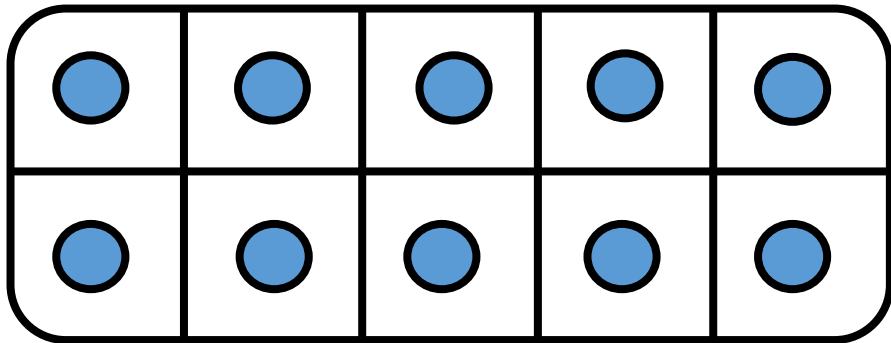


$$14 = 11 + \underline{\quad}$$



CM19: Connaitre les décompositions de 13 et 14

Combien manque-t-il pour faire 14 ?

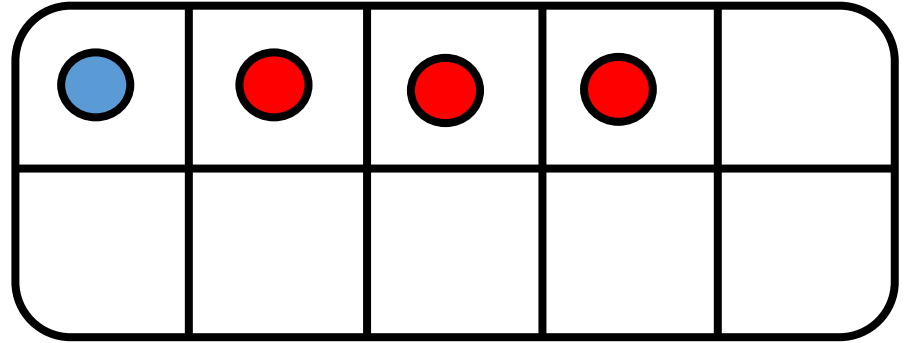
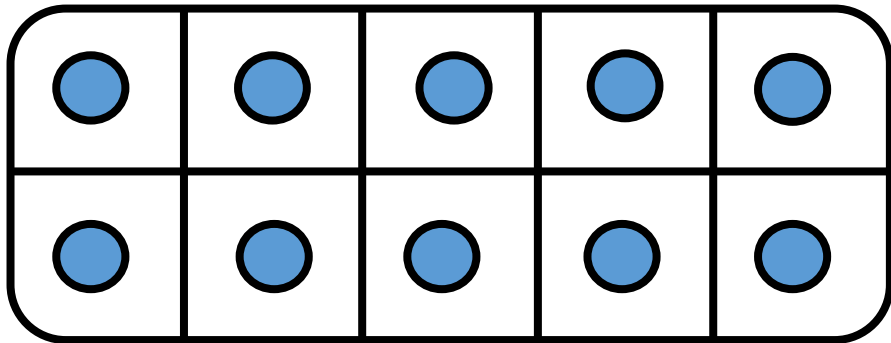


$$14 = 11 + \underline{\hspace{2cm}}$$



CM19: Connaitre les décompositions de 13 et 14

Combien manque-t-il pour faire 14 ?



$$14 = 11 + \underline{3}$$



CM19: Connaitre les décompositions de 13 et 14

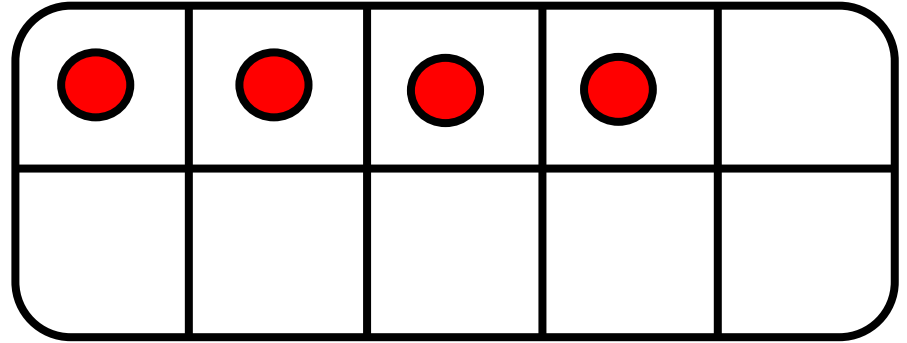
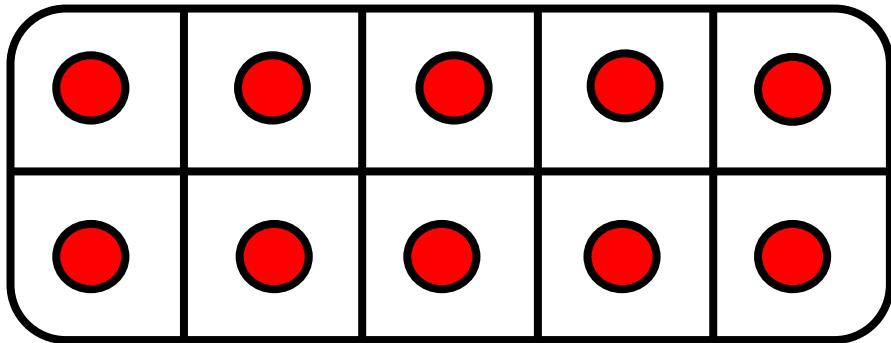
Combien manque-t-il pour faire 14 ?

$$14 = 0 + \underline{\hspace{2cm}}$$



CM19: Connaitre les décompositions de 13 et 14

Combien manque-t-il pour faire 14 ?

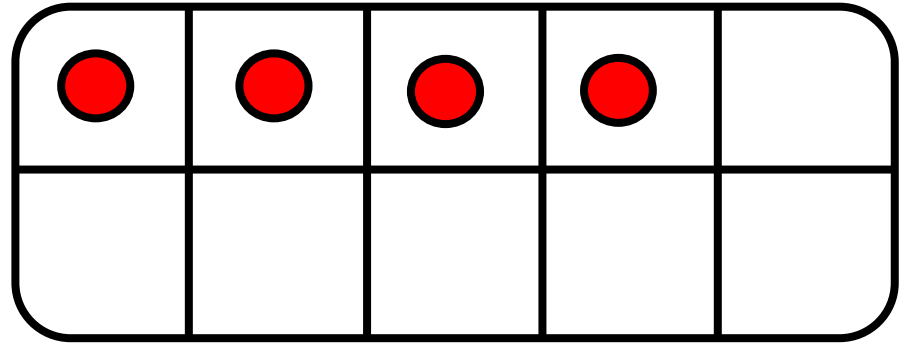
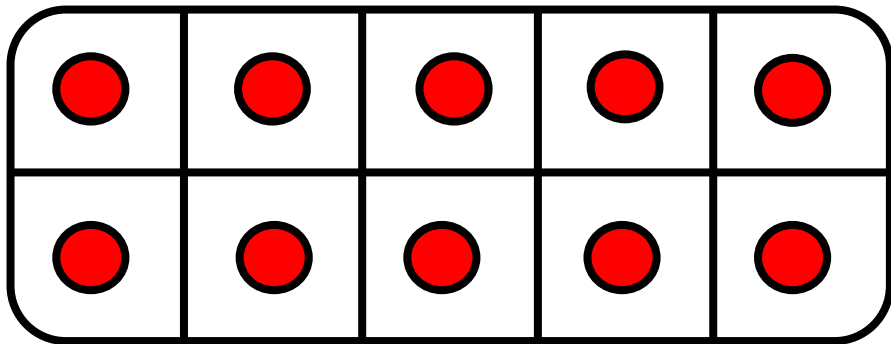


$$14 = 0 + \underline{\hspace{2cm}}$$



CM19: Connaitre les décompositions de 13 et 14

Combien manque-t-il pour faire 14 ?


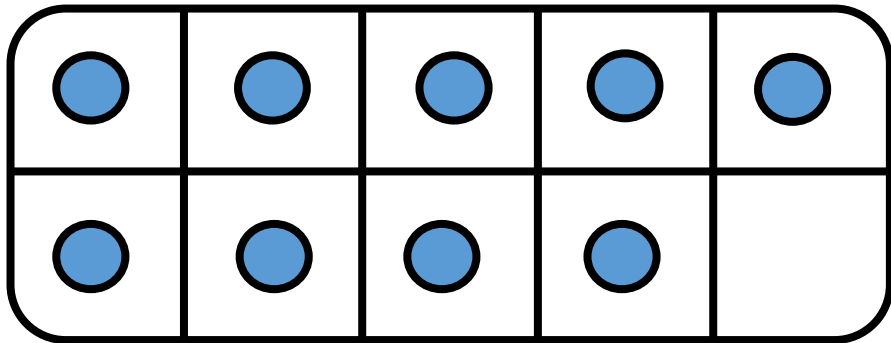


$$14 = 0 + \underline{14}$$



CM19: Connaitre les décompositions de 13 et 14

Combien manque-t-il pour faire 14 ?

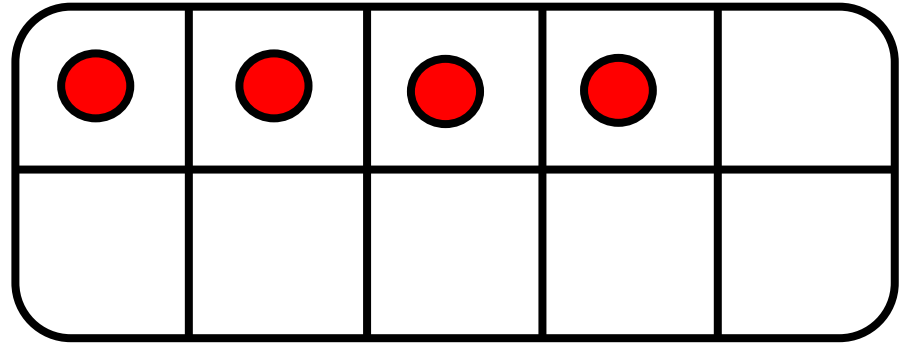
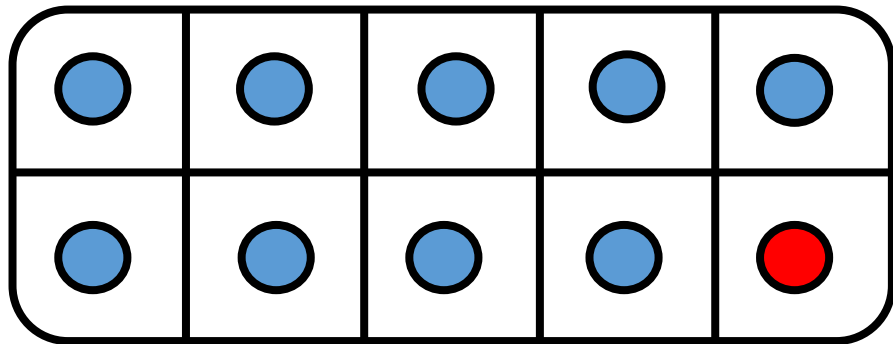


$$14 = 9 + \underline{\hspace{2cm}}$$



CM19: Connaitre les décompositions de 13 et 14

Combien manque-t-il pour faire 14 ?

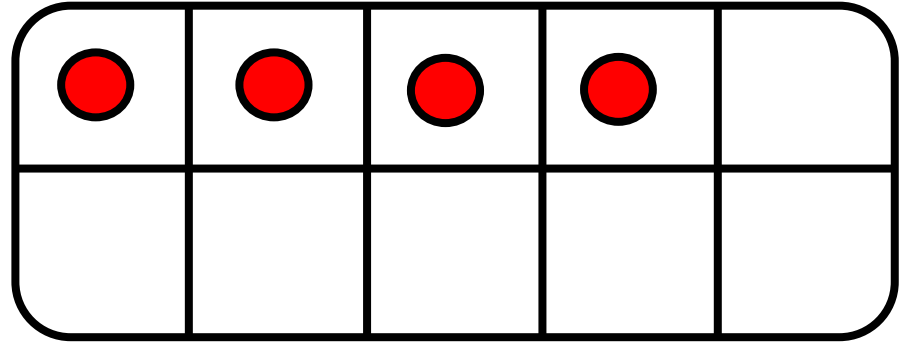
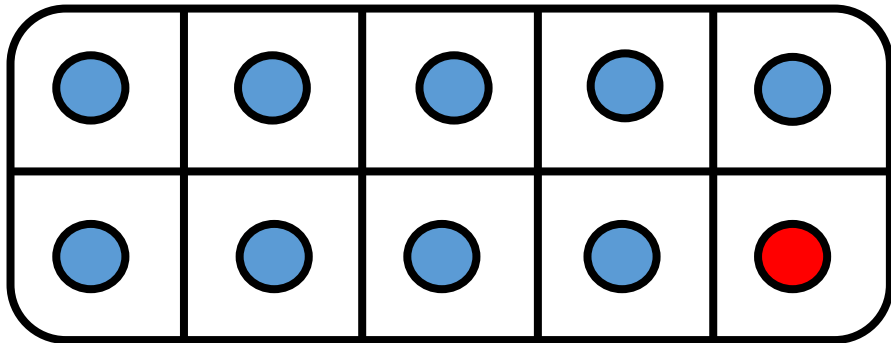


$$14 = 9 + \underline{\quad}$$



CM19: Connaitre les décompositions de 13 et 14

Combien manque-t-il pour faire 14 ?


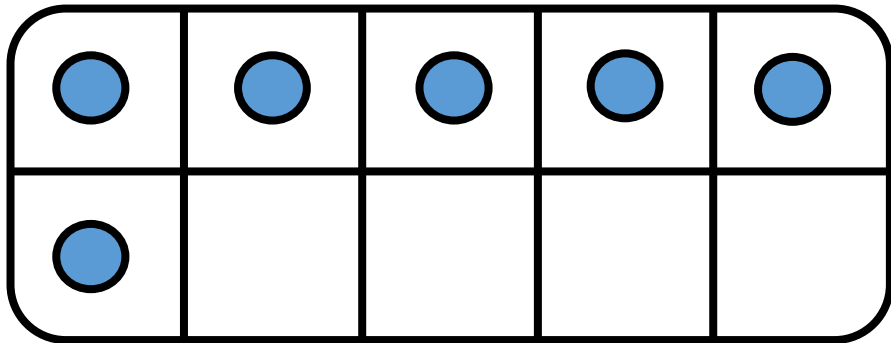


$$14 = 9 + \underline{5}$$



CM19: Connaitre les décompositions de 13 et 14

Combien manque-t-il pour faire 14 ?

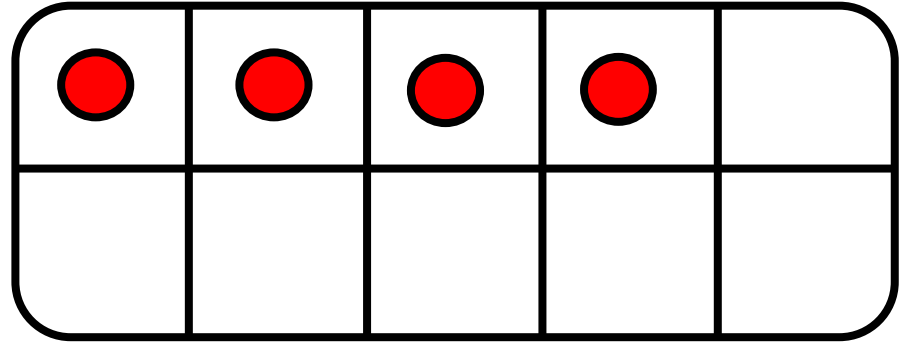
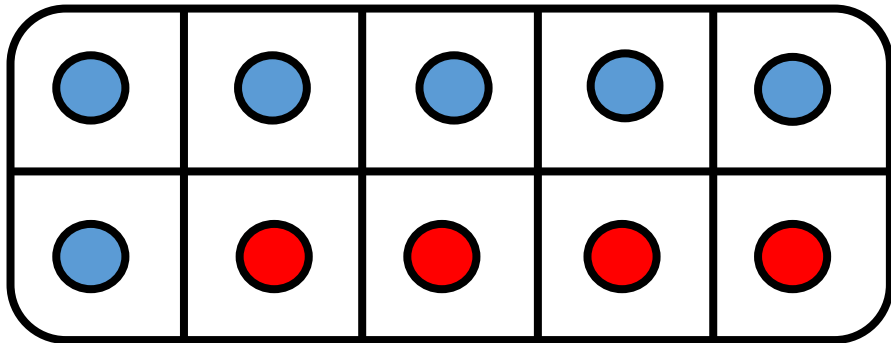


$$14 = 6 + \underline{\quad}$$



CM19: Connaitre les décompositions de 13 et 14

Combien manque-t-il pour faire 14 ?

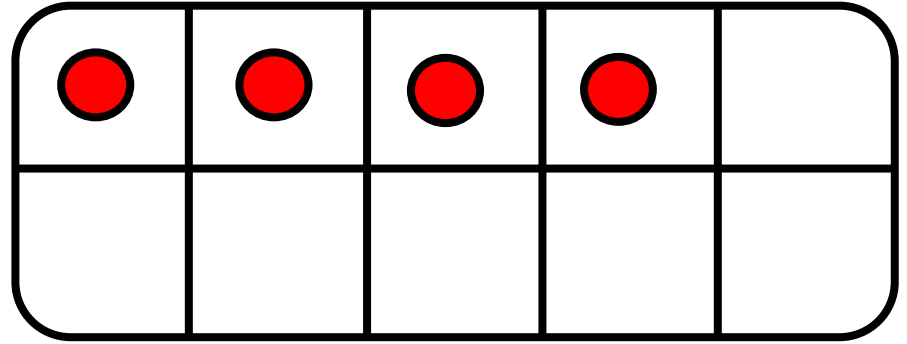
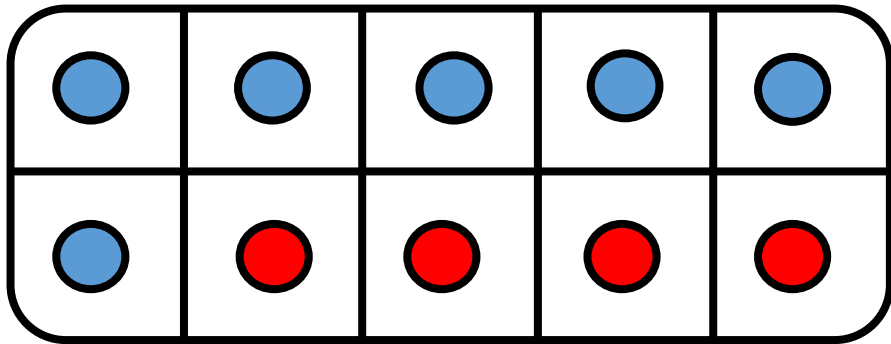


$$14 = 6 + \underline{\hspace{2cm}}$$



CM19: Connaitre les décompositions de 13 et 14

Combien manque-t-il pour faire 14 ?


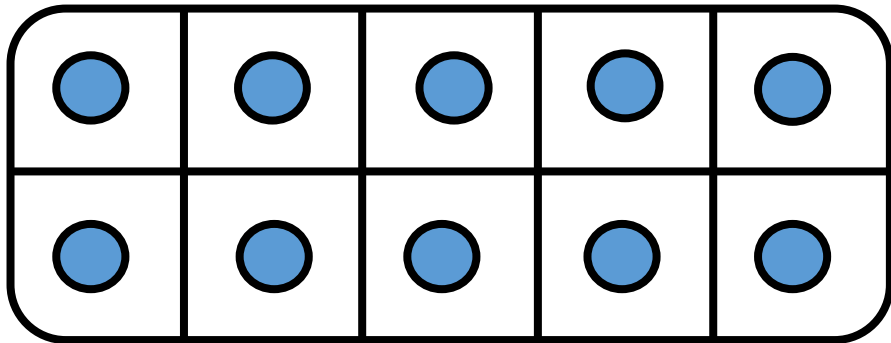


$$14 = 6 + \underline{8}$$



CM19: Connaitre les décompositions de 13 et 14

Combien manque-t-il pour faire 14 ?

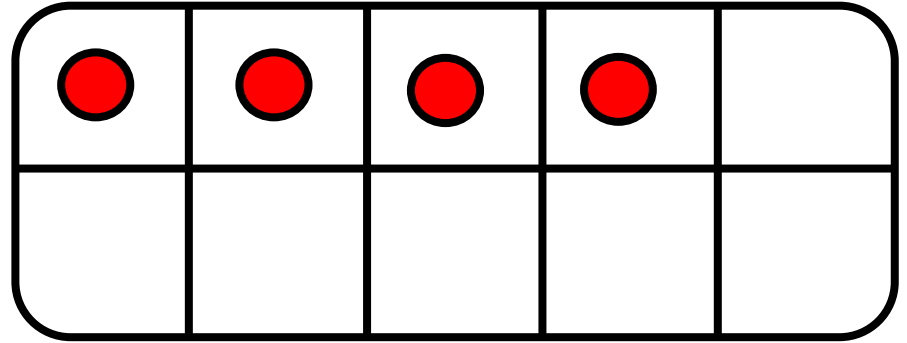
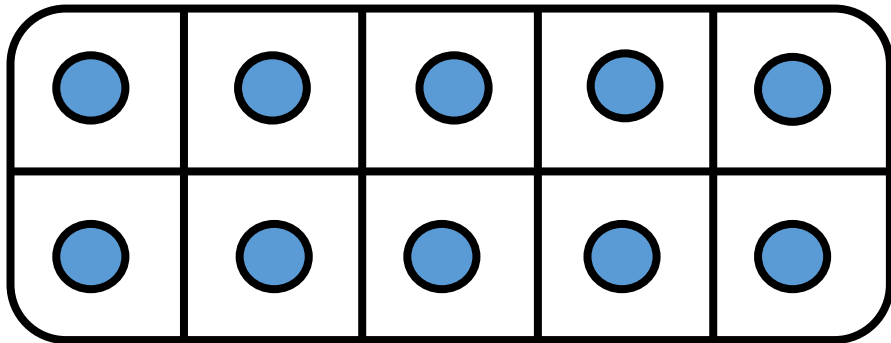


$$14 = 10 + \underline{\quad}$$



CM19: Connaitre les décompositions de 13 et 14

Combien manque-t-il pour faire 14 ?

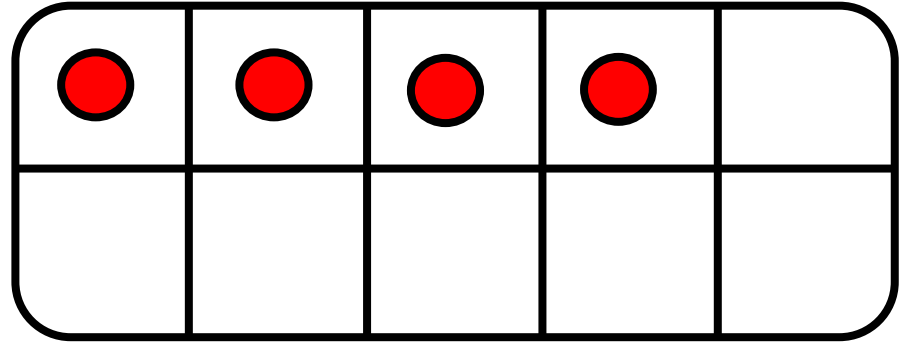
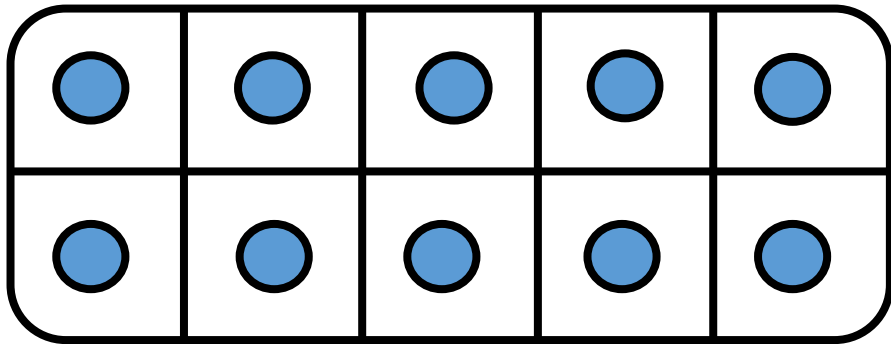


$$14 = 10 + \underline{\quad}$$



CM19: Connaitre les décompositions de 13 et 14

Combien manque-t-il pour faire 14 ?


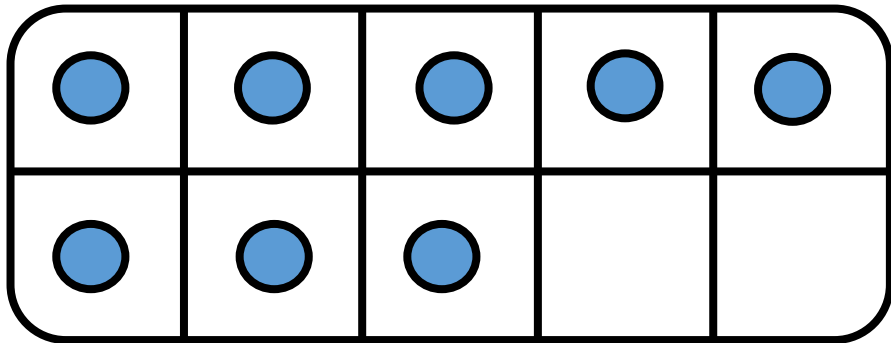


$$14 = 10 + \underline{4}$$



CM19: Connaitre les décompositions de 13 et 14

Combien manque-t-il pour faire 14 ?

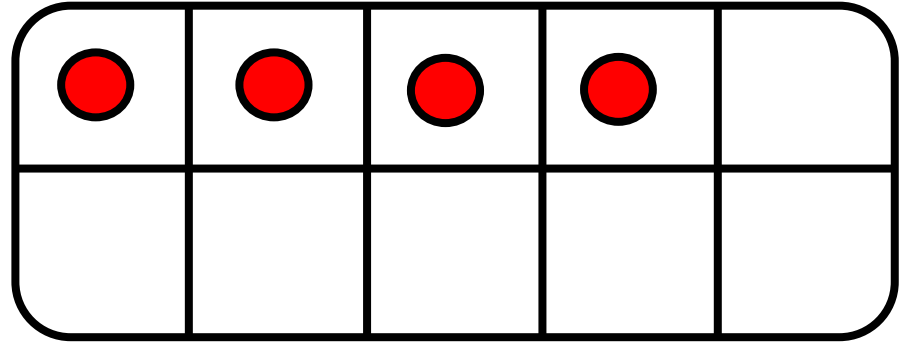
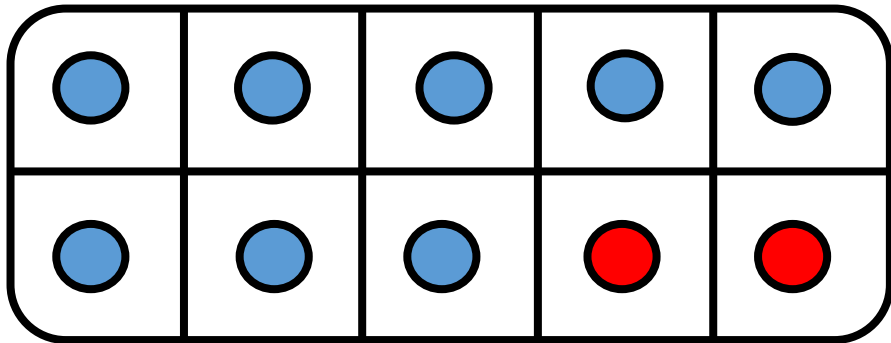


$$14 = 8 + \underline{\quad}$$



CM19: Connaitre les décompositions de 13 et 14

Combien manque-t-il pour faire 14 ?

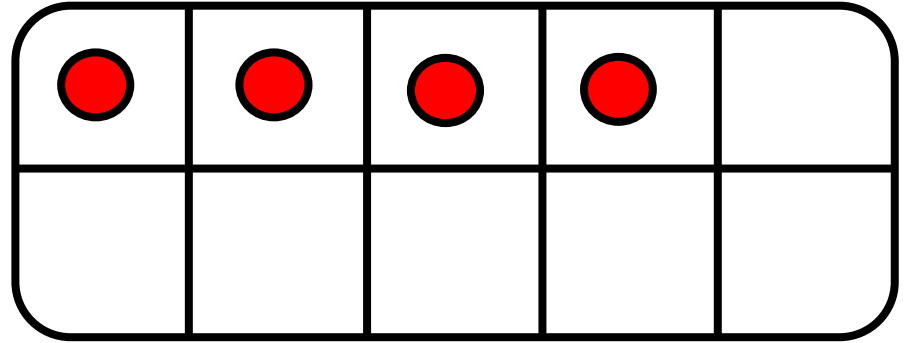
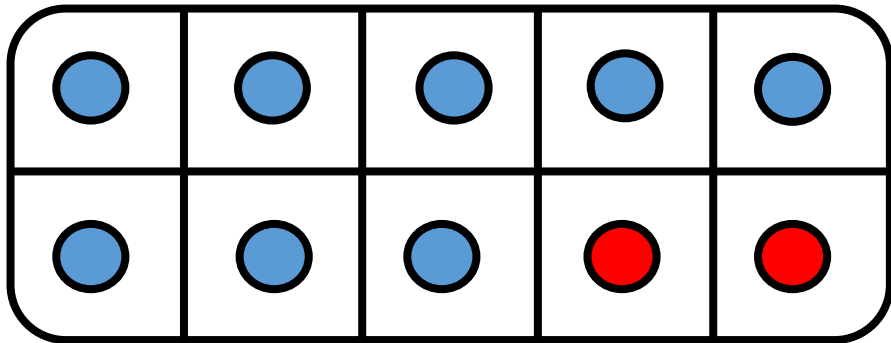


$$14 = 8 + \underline{\hspace{2cm}}$$



CM19: Connaitre les décompositions de 13 et 14

Combien manque-t-il pour faire 14 ?


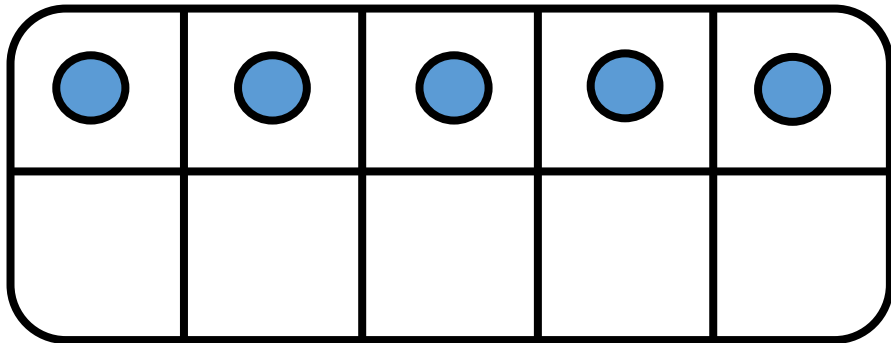


$$14 = 8 + \underline{6}$$



CM19: Connaitre les décompositions de 13 et 14

Combien manque-t-il pour faire 14 ?

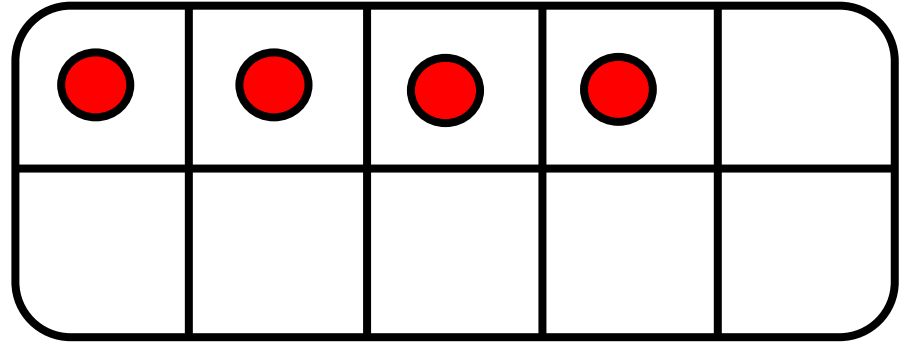
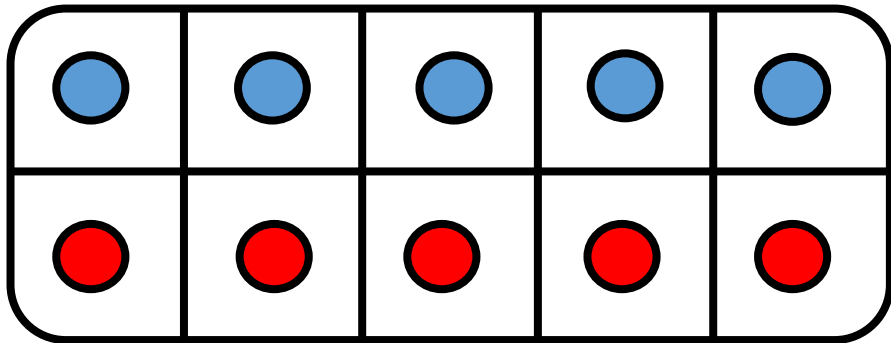


$$14 = 5 + \underline{\quad}$$



CM19: Connaitre les décompositions de 13 et 14

Combien manque-t-il pour faire 14 ?

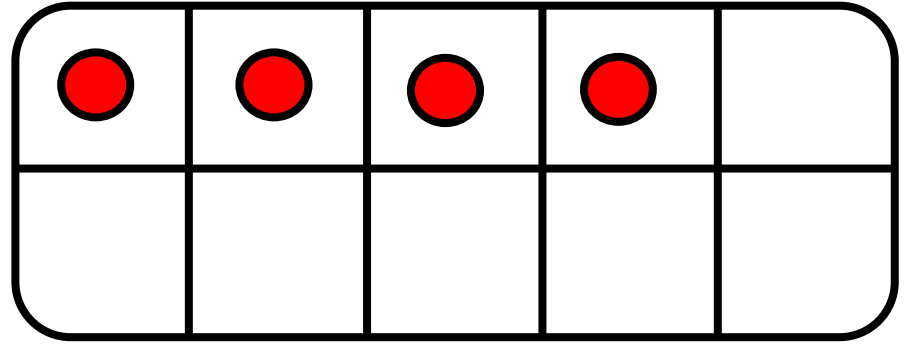
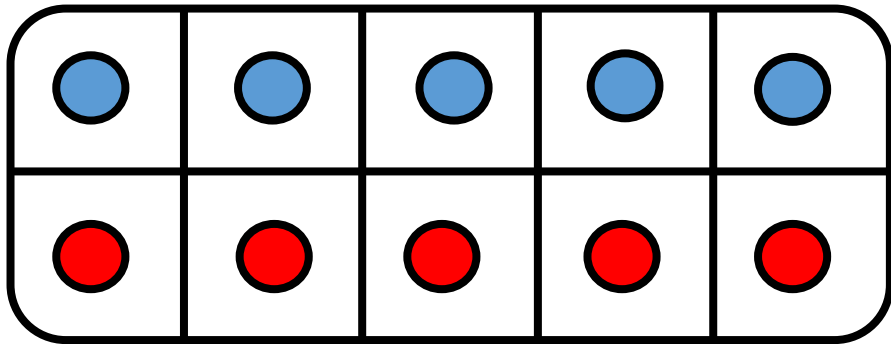


$$14 = 5 + \underline{\hspace{2cm}}$$



CM19: Connaitre les décompositions de 13 et 14

Combien manque-t-il pour faire 14 ?


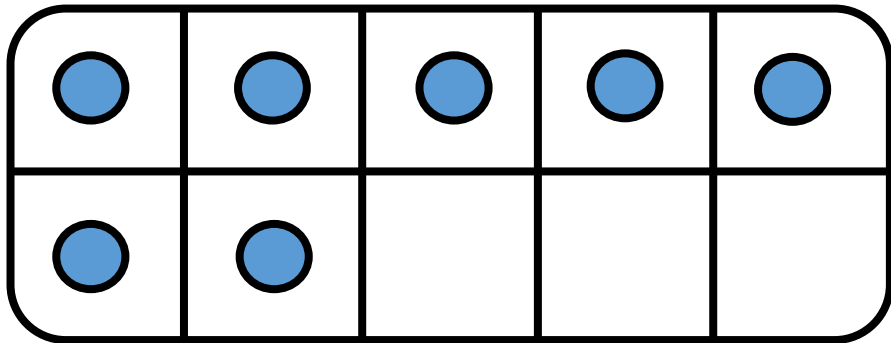


$$14 = 5 + \underline{9}$$



CM19: Connaitre les décompositions de 13 et 14

Combien manque-t-il pour faire 14 ?

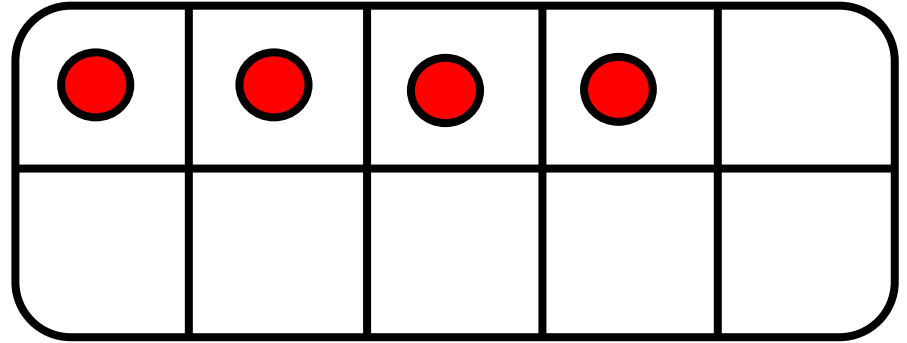
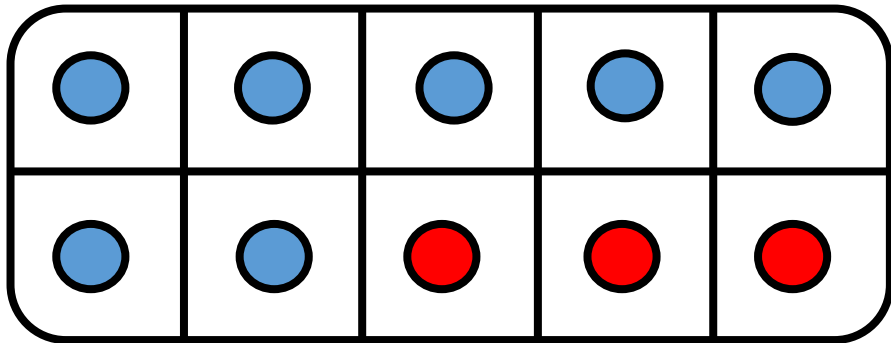


$$14 = 7 + \underline{\hspace{2cm}}$$



CM19: Connaitre les décompositions de 13 et 14

Combien manque-t-il pour faire 14 ?

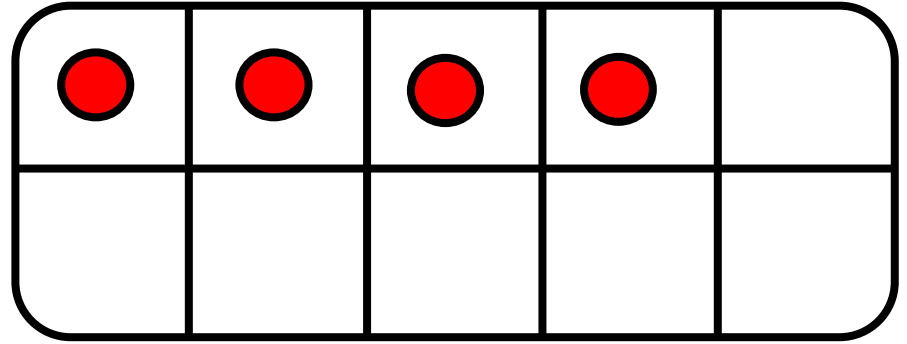
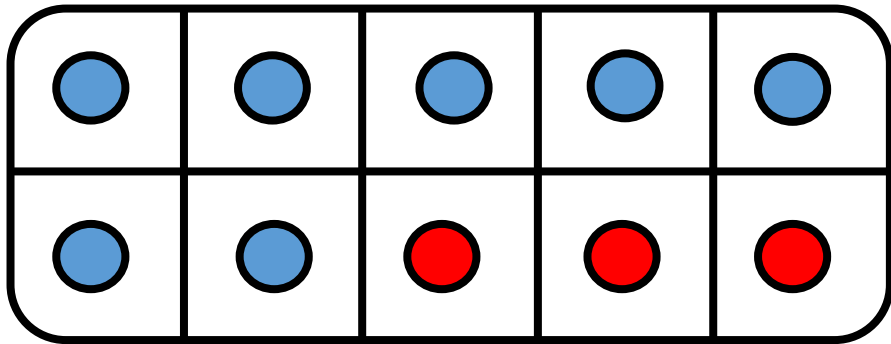


$$14 = 7 + \underline{\quad}$$



CM19: Connaitre les décompositions de 13 et 14

Combien manque-t-il pour faire 14 ?


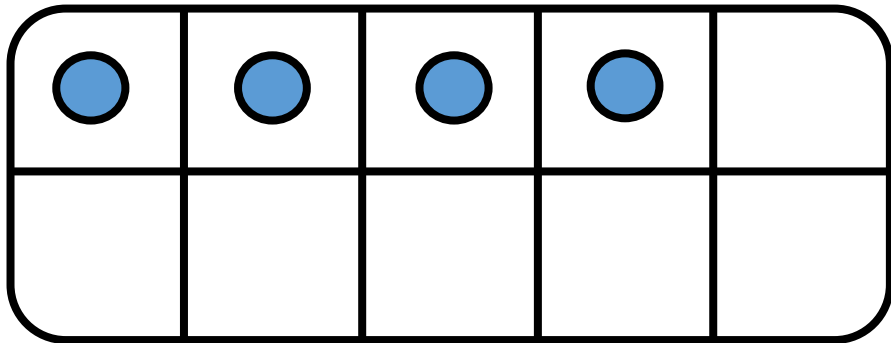


$$14 = 7 + \underline{\quad 7 \quad}$$



CM19: Connaitre les décompositions de 13 et 14

Combien manque-t-il pour faire 14 ?

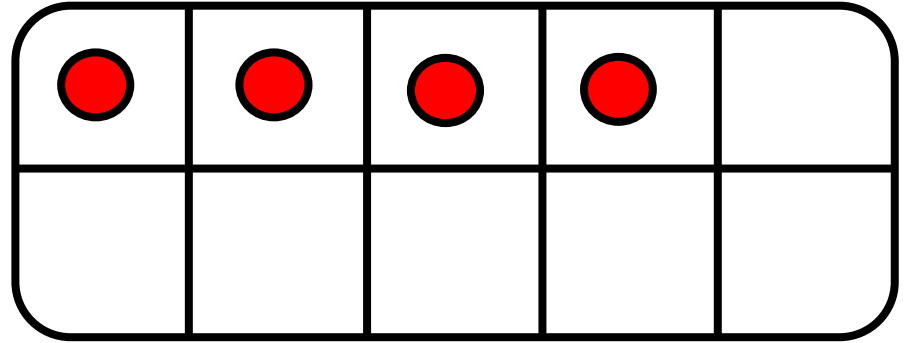
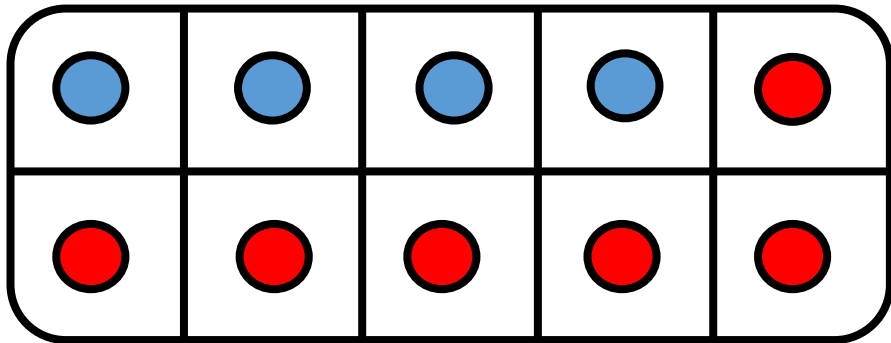


$$14 = 4 + \underline{\quad}$$



CM19: Connaitre les décompositions de 13 et 14

Combien manque-t-il pour faire 14 ?

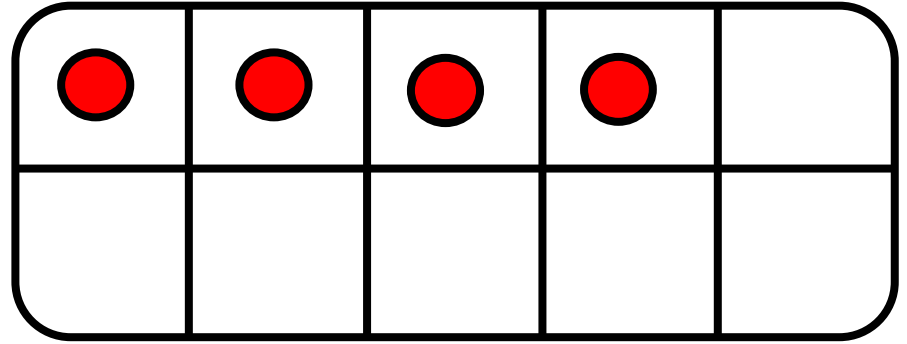
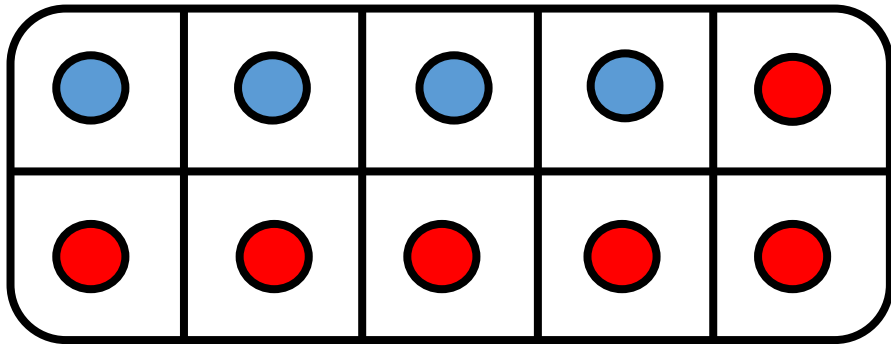


$$14 = 4 + \underline{\quad}$$



CM19: Connaitre les décompositions de 13 et 14

Combien manque-t-il pour faire 14 ?


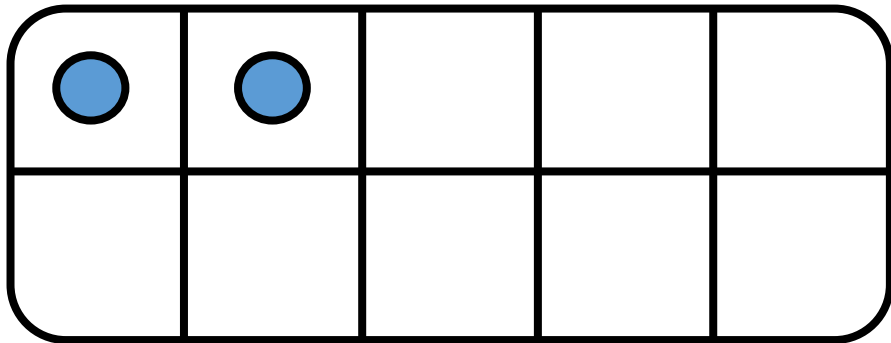


$$14 = 4 + \underline{10}$$



CM19: Connaitre les décompositions de 13 et 14

Combien manque-t-il pour faire 14 ?

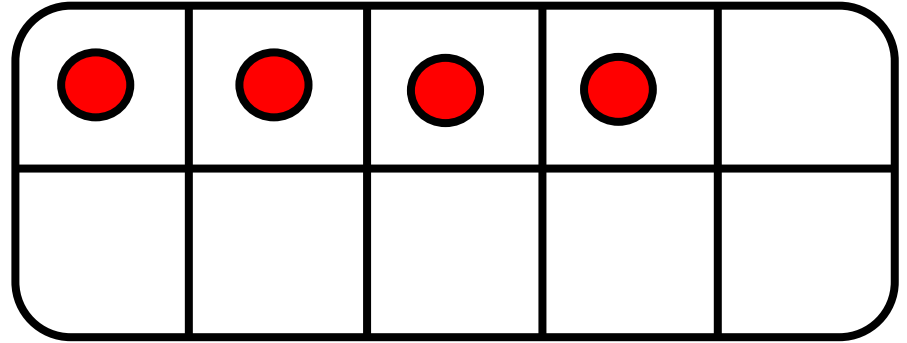
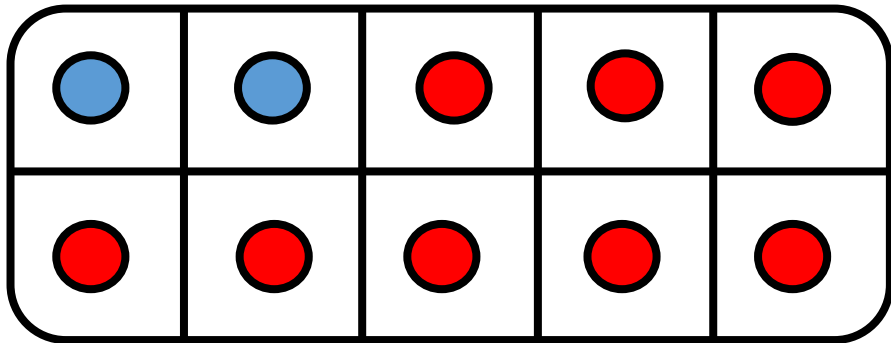


$$14 = 2 + \underline{\quad}$$



CM19: Connaitre les décompositions de 13 et 14

Combien manque-t-il pour faire 14 ?

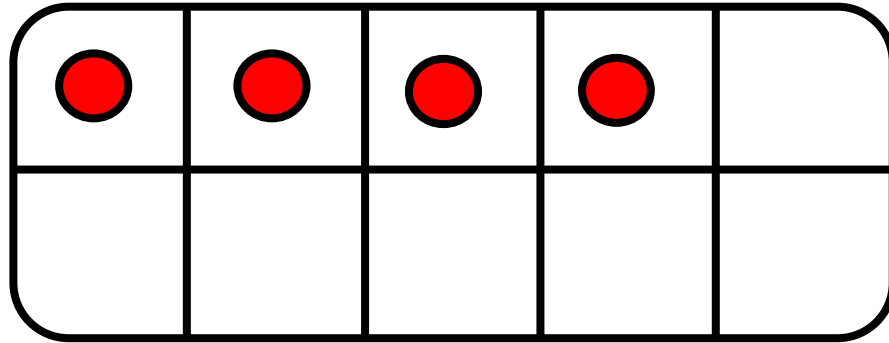
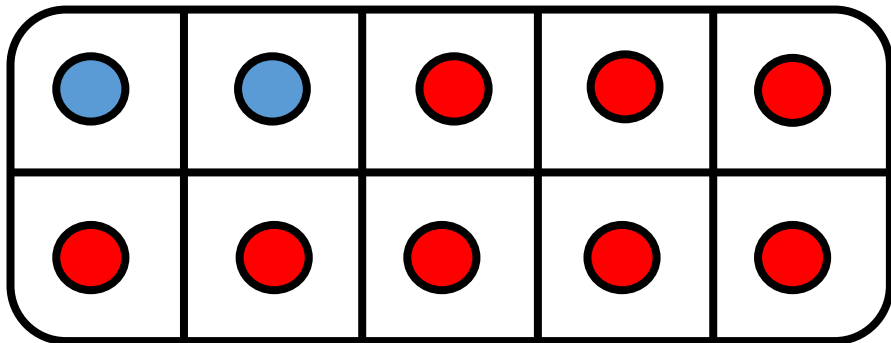


$$14 = 2 + \underline{\hspace{2cm}}$$



CM19: Connaitre les décompositions de 13 et 14

Combien manque-t-il pour faire 14 ?

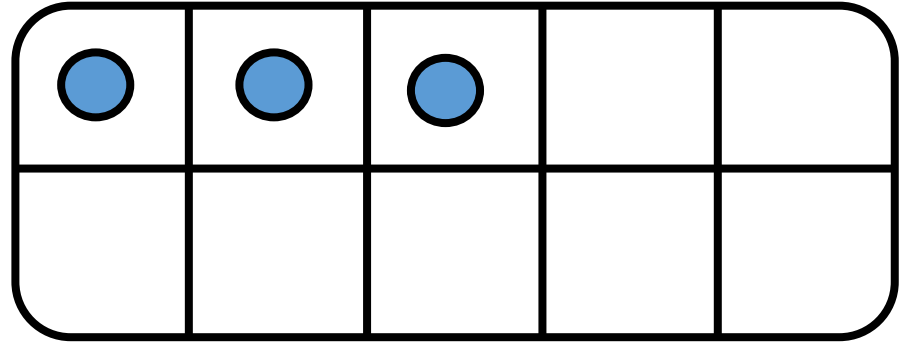
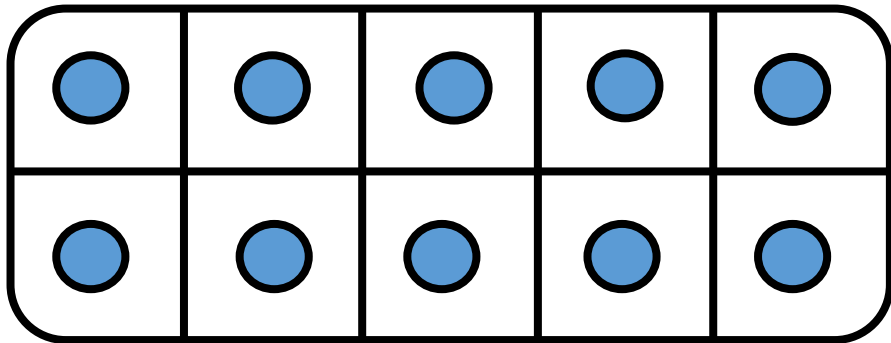


$$14 = 2 + \underline{12}$$



CM19: Connaitre les décompositions de 13 et 14

Combien manque-t-il pour faire 14 ?

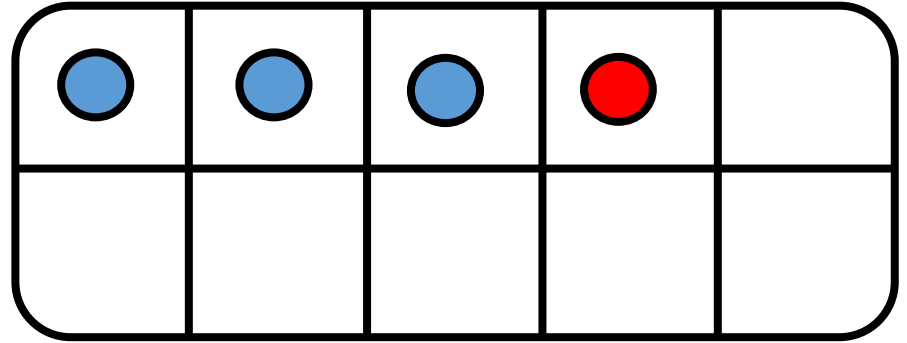
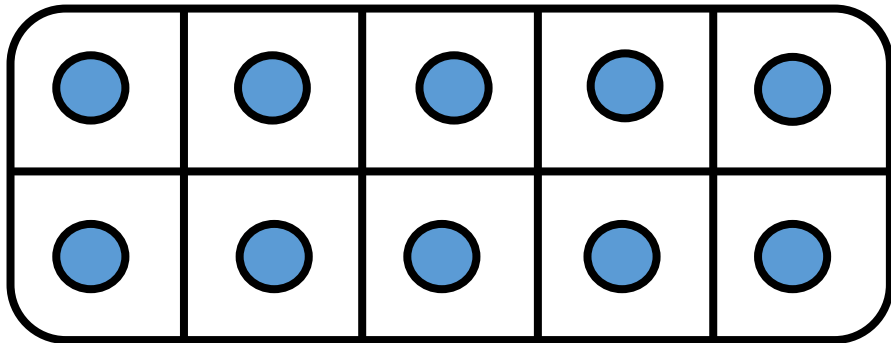


$$14 = 13 + \underline{\quad}$$



CM19: Connaitre les décompositions de 13 et 14

Combien manque-t-il pour faire 14 ?

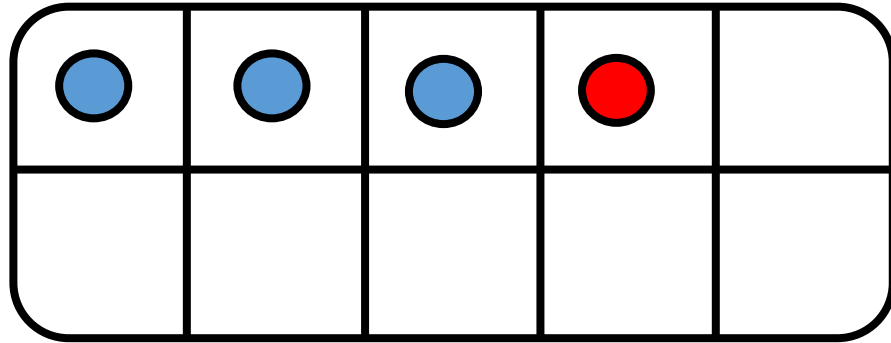
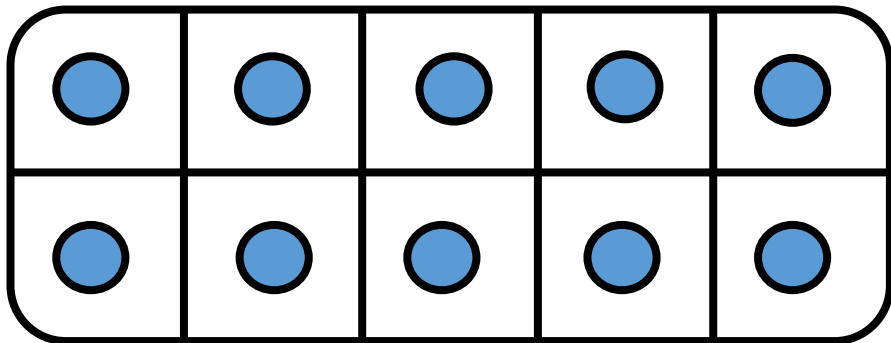


$$14 = 13 + \underline{\quad}$$



CM19: Connaitre les décompositions de 13 et 14

Combien manque-t-il pour faire 14 ?



$$14 = 13 + \underline{1}$$



CM19: Connaitre les décompositions de 13 et 14

Combien manque-t-il pour faire 14 ?

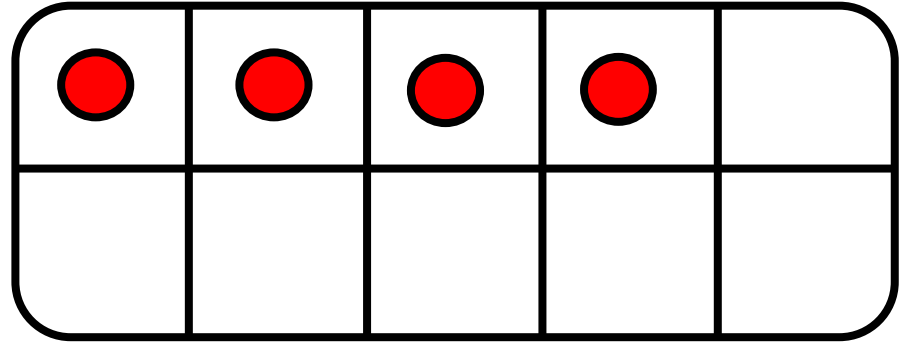
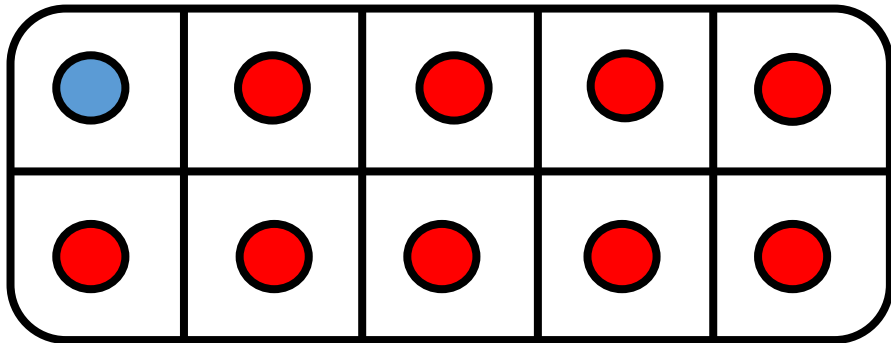
●				

$$14 = 1 + \underline{\hspace{2cm}}$$



CM19: Connaitre les décompositions de 13 et 14

Combien manque-t-il pour faire 14 ?

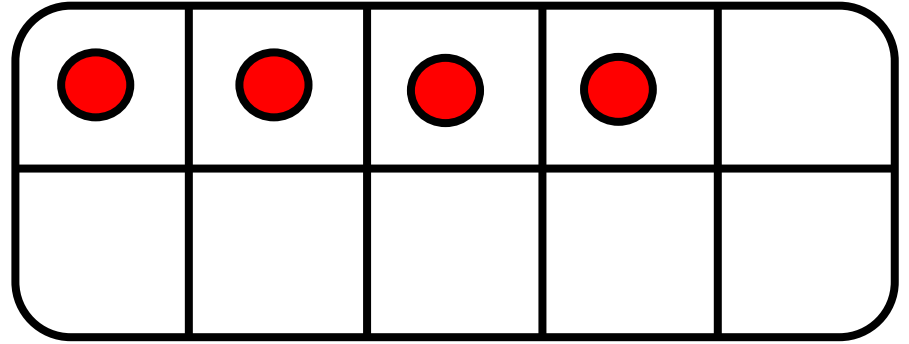
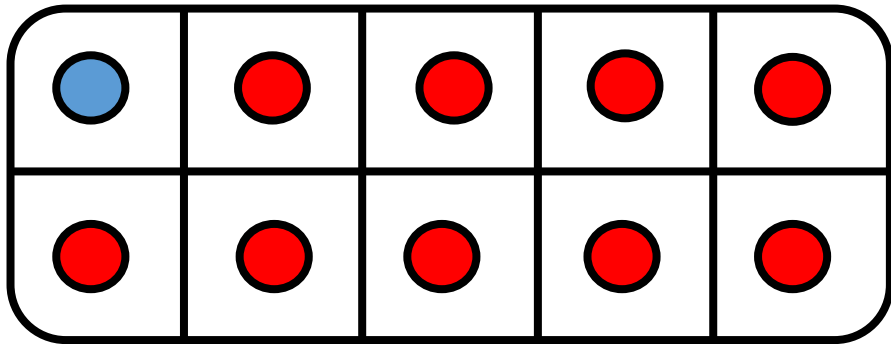


$$14 = 1 + \underline{\hspace{2cm}}$$



CM19: Connaitre les décompositions de 13 et 14

Combien manque-t-il pour faire 14 ?



$$14 = 1 + \underline{13}$$



CM19: Connaitre les décompositions de 13 et 14

$13 = 0 + 13$	
$13 = 1 + 12$	
$13 = 2 + 11$	



CM19: Connaitre les décompositions de 13 et 14

$13 = 0 + 13$	
$13 = 1 + 12$	
$13 = 2 + 11$	
$13 = 3 + 10$	



CM19: Connaitre les décompositions de 13 et 14

$13 = 0 + 13$	
$13 = 1 + 12$	
$13 = 2 + 11$	
$13 = 3 + 10$	
$13 = 4 + 9$	



CM19: Connaitre les décompositions de 13 et 14

$13 = 0 + 13$	
$13 = 1 + 12$	
$13 = 2 + 11$	
$13 = 3 + 10$	
$13 = 4 + 9$	
$13 = 5 + 8$	



CM19: Connaitre les décompositions de 13 et 14

$13 = 0 + 13$	
$13 = 1 + 12$	
$13 = 2 + 11$	
$13 = 3 + 10$	
$13 = 4 + 9$	
$13 = 5 + 8$	
$13 = 6 + 7$	



CM19: Connaitre les décompositions de 13 et 14

$13 = 0 + 13$	$13 = 7 + 6$
$13 = 1 + 12$	
$13 = 2 + 11$	
$13 = 3 + 10$	
$13 = 4 + 9$	
$13 = 5 + 8$	
$13 = 6 + 7$	



CM19: Connaitre les décompositions de 13 et 14

$13 = 0 + 13$	$13 = 7 + 6$
$13 = 1 + 12$	$13 = 8 + 5$
$13 = 2 + 11$	
$13 = 3 + 10$	
$13 = 4 + 9$	
$13 = 5 + 8$	
$13 = 6 + 7$	



CM19: Connaitre les décompositions de 13 et 14

$13 = 0 + 13$	$13 = 7 + 6$
$13 = 1 + 12$	$13 = 8 + 5$
$13 = 2 + 11$	$13 = 9 + 4$
$13 = 3 + 10$	
$13 = 4 + 9$	
$13 = 5 + 8$	
$13 = 6 + 7$	



CM19: Connaitre les décompositions de 13 et 14

$13 = 0 + 13$	$13 = 7 + 6$
$13 = 1 + 12$	$13 = 8 + 5$
$13 = 2 + 11$	$13 = 9 + 4$
$13 = 3 + 10$	$13 = 10 + 3$
$13 = 4 + 9$	
$13 = 5 + 8$	
$13 = 6 + 7$	



CM19: Connaitre les décompositions de 13 et 14

$13 = 0 + 13$	$13 = 7 + 6$
$13 = 1 + 12$	$13 = 8 + 5$
$13 = 2 + 11$	$13 = 9 + 4$
$13 = 3 + 10$	$13 = 10 + 3$
$13 = 4 + 9$	$13 = 11 + 2$
$13 = 5 + 8$	
$13 = 6 + 7$	



CM19: Connaitre les décompositions de 13 et 14

$13 = 0 + 13$	$13 = 7 + 6$
$13 = 1 + 12$	$13 = 8 + 5$
$13 = 2 + 11$	$13 = 9 + 4$
$13 = 3 + 10$	$13 = 10 + 3$
$13 = 4 + 9$	$13 = 11 + 2$
$13 = 5 + 8$	$13 = 12 + 1$
$13 = 6 + 7$	



CM19: Connaitre les décompositions de 13 et 14

$13 = 0 + 13$	$13 = 7 + 6$
$13 = 1 + 12$	$13 = 8 + 5$
$13 = 2 + 11$	$13 = 9 + 4$
$13 = 3 + 10$	$13 = 10 + 3$
$13 = 4 + 9$	$13 = 11 + 2$
$13 = 5 + 8$	$13 = 12 + 1$
$13 = 6 + 7$	$13 = 13 + 0$



CM19: Connaitre les décompositions de 13 et 14

$14 = 0 + 14$	
$14 = 1 + 13$	
$14 = 2 + 12$	
$14 = 3 + 11$	



CM19: Connaitre les décompositions de 13 et 14

$14 = 0 + 14$	
$14 = 1 + 13$	
$14 = 2 + 12$	
$14 = 3 + 11$	
$14 = 4 + 10$	



CM19: Connaitre les décompositions de 13 et 14

$14 = 0 + 14$	
$14 = 1 + 13$	
$14 = 2 + 12$	
$14 = 3 + 11$	
$14 = 4 + 10$	
$14 = 5 + 9$	



CM19: Connaitre les décompositions de 13 et 14

$14 = 0 + 14$	
$14 = 1 + 13$	
$14 = 2 + 12$	
$14 = 3 + 11$	
$14 = 4 + 10$	
$14 = 5 + 9$	
$14 = 6 + 8$	



CM19: Connaitre les décompositions de 13 et 14

$14 = 0 + 14$	
$14 = 1 + 13$	
$14 = 2 + 12$	
$14 = 3 + 11$	
$14 = 4 + 10$	
$14 = 5 + 9$	
$14 = 6 + 8$	
$14 = 7 + 7$	



CM19: Connaitre les décompositions de 13 et 14

$14 = 0 + 14$	$14 = 8 + 6$
$14 = 1 + 13$	
$14 = 2 + 12$	
$14 = 3 + 11$	
$14 = 4 + 10$	
$14 = 5 + 9$	
$14 = 6 + 8$	
$14 = 7 + 7$	



CM19: Connaitre les décompositions de 13 et 14

$14 = 0 + 14$	$14 = 8 + 6$
$14 = 1 + 13$	$14 = 9 + 5$
$14 = 2 + 12$	
$14 = 3 + 11$	
$14 = 4 + 10$	
$14 = 5 + 9$	
$14 = 6 + 8$	
$14 = 7 + 7$	



CM19: Connaitre les décompositions de 13 et 14

$14 = 0 + 14$	$14 = 8 + 6$
$14 = 1 + 13$	$14 = 9 + 5$
$14 = 2 + 12$	$14 = 10 + 4$
$14 = 3 + 11$	
$14 = 4 + 10$	
$14 = 5 + 9$	
$14 = 6 + 8$	
$14 = 7 + 7$	



CM19: Connaitre les décompositions de 13 et 14

$14 = 0 + 14$	$14 = 8 + 6$
$14 = 1 + 13$	$14 = 9 + 5$
$14 = 2 + 12$	$14 = 10 + 4$
$14 = 3 + 11$	$14 = 11 + 3$
$14 = 4 + 10$	
$14 = 5 + 9$	
$14 = 6 + 8$	
$14 = 7 + 7$	



CM19: Connaitre les décompositions de 13 et 14

$14 = 0 + 14$	$14 = 8 + 6$
$14 = 1 + 13$	$14 = 9 + 5$
$14 = 2 + 12$	$14 = 10 + 4$
$14 = 3 + 11$	$14 = 11 + 3$
$14 = 4 + 10$	$14 = 12 + 2$
$14 = 5 + 9$	
$14 = 6 + 8$	
$14 = 7 + 7$	



CM19: Connaitre les décompositions de 13 et 14

$14 = 0 + 14$	$14 = 8 + 6$
$14 = 1 + 13$	$14 = 9 + 5$
$14 = 2 + 12$	$14 = 10 + 4$
$14 = 3 + 11$	$14 = 11 + 3$
$14 = 4 + 10$	$14 = 12 + 2$
$14 = 5 + 9$	$14 = 13 + 1$
$14 = 6 + 8$	
$14 = 7 + 7$	



CM19: Connaitre les décompositions de 13 et 14

$14 = 0 + 14$	$14 = 8 + 6$
$14 = 1 + 13$	$14 = 9 + 5$
$14 = 2 + 12$	$14 = 10 + 4$
$14 = 3 + 11$	$14 = 11 + 3$
$14 = 4 + 10$	$14 = 12 + 2$
$14 = 5 + 9$	$14 = 13 + 1$
$14 = 6 + 8$	$14 = 14 + 0$
$14 = 7 + 7$	