
















Prénom : .....

# Rallye mesure litres et centilitres



Trouve les objets représentés dans la boîte, entoure la bonne unité, écris ton estimation de leur contenance puis vérifie avec les objets de référence.

L'objet	Mon estimation 	Ma mesure 	L'objet	Mon estimation 	Ma mesure 
 un bouchon	..... cL ..... L	..... cL ..... L	 un gobelet	..... cL ..... L	..... cL ..... L
 une petite bouteille d'eau	..... cL ..... L	..... cL ..... L	 une grande bouteille d'eau	..... cL ..... L	..... cL ..... L
 un seau	..... cL ..... L	..... cL ..... L	 une gourde	..... cL ..... L	..... cL ..... L
 une verrine	..... cL ..... L	..... cL ..... L	 un verre doseur	..... cL ..... L	..... cL ..... L
 un pot de crème fraîche	..... cL ..... L	..... cL ..... L	 un bol	..... cL ..... L	..... cL ..... L