








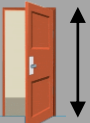







Prénom :

Rallye mesure mètres et centimètres



Trouve les objets représentés dans la classe, entoure la bonne unité, écris ton estimation de leur longueur puis mesure-les avec ta règle graduée ou un mètre.

L'objet	Mon estimation 	Ma mesure 	L'objet	Mon estimation 	Ma mesure 
 la longueur de ta trousse cm m cm m	 la longueur du dévidoir de scotch cm m cm m
 la longueur d'un stylo cm m cm m	 la largeur du tableau cm m cm m
 la hauteur de la porte de la classe cm m cm m	 la largeur d'un classeur cm m cm m
 la largeur d'une table cm m cm m	 la hauteur de ta colle cm m cm m
 la longueur de la classe cm m cm m	 la longueur du bureau cm m cm m