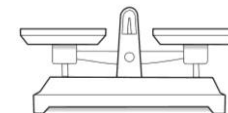
















Prénom : .....

# Rallye mesure Masses



Trouve les objets représentés dans la classe, écris ton estimation de leur masse puis mesure-les avec les cubes.

L'objet	Mon estimation 	Ma mesure 	L'objet	Mon estimation 	Ma mesure 
 Une trousse	..... cubes	..... cubes	 Le dévidoir de scotch	..... cubes	..... cubes
 Une paire de ciseaux	..... cubes	..... cubes	 Un taille- crayon	..... cubes	..... cubes
 Un petit cahier	..... cubes	..... cubes	 Un grand classeur	..... cubes	..... cubes
 Une gomme	..... cubes	..... cubes	 Une colle	..... cubes	..... cubes
 Un crayon de papier	..... cubes	..... cubes	 Une règle	..... cubes	..... cubes