
















Prénom :

Rallye mesure de longueurs



Trouve les objets représentés dans la classe, écris ton estimation de leur longueur puis mesure-les avec des cubes ou des bâtonnets.

L'objet	Mon estimation 	Ma mesure 	L'objet	Mon estimation 	Ma mesure 
 la longueur du bureau de la maitresse cubes cubes	 la longueur du bureau de la maitresse bâtonnets bâtonnets
 la longueur de ton pied cubes cubes	 la longueur de ton pied bâtonnets bâtonnets
 la largeur d'un petit cahier cubes cubes	 la largeur d'un petit cahier bâtonnets bâtonnets
 la hauteur de ta colle cubes cubes	 la hauteur de ta colle bâtonnets bâtonnets
 la largeur de la porte cubes cubes	 la largeur de la porte bâtonnets bâtonnets