
















Prénom : .....

# Rallye mesure avec la règle graduée



Trouve les objets représentés dans la classe, écris ton estimation de leur longueur puis mesure-les avec ta règle graduée.

L'objet	Mon estimation 	Ma mesure 	L'objet	Mon estimation 	Ma mesure 
 la longueur de ta trousse	..... cm	..... cm	 la longueur du dévidoir de scotch	..... cm	..... cm
 la longueur de ton pied	..... cm	..... cm	 la hauteur d'un taille-crayon	..... cm	..... cm
 la largeur d'un petit cahier	..... cm	..... cm	 la largeur d'un grand classeur	..... cm	..... cm
 la longueur d'une gomme	..... cm	..... cm	 la hauteur de ta colle	..... cm	..... cm
 la longueur d'un crayon de papier	..... cm	..... cm	 la largeur de la porte	..... cm	..... cm